



**ОБЩЕСТВОЗНАНИЕ  
ВСЕРОССИЙСКАЯ  
ОЛИМПИАДА  
ШКОЛЬНИКОВ**

**ШИФР**

--	--	--	--	--	--

**2021-2022 уч.год**

**Муниципальный этап ВсОШ 2021  
по предмету «Обществознание»**

**Фамилия, имя, отчество полностью:**

**Число, месяц, год рождения (ДД.ММ.ГГГГ):**

**Класс учащегося:**

**За какой класс учащийся пишет работу:**

**Полное название образовательной организации:**

**Название района или города:**

**ФИО педагогического работника, подготовившего к олимпиаде**

**Муниципальный этап Всероссийской олимпиады школьников 2021-2022г. Обществознание. 7-8 классы**

**Время выполнения заданий олимпиады – 1 час. 30 мин.**

**Максимальное количество баллов - 90**

**1. «Да» или «нет»? Если вы согласны с тем, что данное утверждение верно, напишите «да», если считаете, что утверждение ошибочно, напишите «нет». Внесите свои ответы в таблицу. За правильный ответ – 2 балла. Всего 16 баллов.**

- 1.1. Гуманным или негуманным может быть не только человек, но и общество.
- 1.2. Лидер должен уметь заинтересовать и организовать людей.
- 1.3. Обществом можно считать весь материальный мир.
- 1.4. Гражданин — это лицо, наделенное правами и обязанностями, поступающее в соответствии с этими правами и обязанностями.
- 1.5. В процессе общения очень важно уметь слушать собеседника.
- 1.6. В Российской Федерации государственной религией является православие.
- 1.7. Духовная сфера включает в себя различные отношения между субъектами по проблеме обеспечения максимального удовлетворения безграничных человеческих потребностей в условиях ограниченных возможностей и ресурсов.
- 1.8. Государство, в котором имеется разделение властей, соблюдаются права человека и все равны перед законом называется правовым.

1	2	3	4	5	6	7	8

**2. Выберите правильные ответы. Запишите их в таблицу. За правильный ответ – 2 балла. Всего 12 баллов.**

**2.1 Способ организации хозяйственной деятельности, при котором всё необходимое производится самостоятельно и только для собственного потребления, называется**

- 1) товарное хозяйство;
- 2) натуральное хозяйство;

- 3) рыночное хозяйство;
- 4) сельское хозяйство.

**2.2 Что из перечисленного является конституционной обязанностью в РФ?**

- 1) сохранять тайну переписки;
- 2) определять и указывать свою национальную принадлежность;
- 3) свободно выезжать за пределы РФ;
- 4) сохранять природу и бережно относиться к природным богатствам.

**2.3 Примерами связи общества и природы является:**

- 1) установление тоталитарного режима;
- 2) активное развитие массовой культуры;
- 3) освоение человечеством космоса;
- 4) разделение общества по политическим взглядам.

**2.4 Человеческие отношения на основе добра и зла регулирует:**

- 1) право;
- 2) наука;
- 3) искусство;
- 4) мораль.

**2.5 Бюджет – это:**

- 1) денежные средства, рассматриваемые в процессе их создания и движения;
- 2) смета расходов и доходов;
- 3) установленный законом порядок движения денежных средств в государстве;
- 4) обязательные платежи, взимаемые государством с физических и юридических лиц.

**2.6 Нормы права регулируют:**

- 1) мысли человека;
- 2) совесть человека;
- 3) действия человека;
- 4) все варианты верны.

2.1	2.2	2.3	2.4	2.5	2.6

**3. Установите соответствие между примерами социальных групп и их видами и запишите ответы в таблицу после задания.**

**За правильный ответ 2 балла, всего 12 баллов.**

ПРИМЕРЫ СОЦИАЛЬНЫХ ГРУПП	ВИДЫ СОЦИАЛЬНЫХ ГРУПП
А) парижане Б) мужчины В) иудеи Г) военнослужащие Д) англичане Е) пенсионеры	1) демографические 2) территориальные 3) профессиональные 4) конфессиональные 5) этнические

А	Б	В	Г	Д	Е

**4. Кто или что является лишним в следующих рядах? Выпишите это слово и обоснуйте свой выбор. По 2 балла за каждый правильный ответ, 1 б. – за понятие, 1 б. – за обоснование, всего 6 баллов.**

1. Верность, честь, протекционизм, ответственность

---

2. Деловые, мировоззренческие, формальные, личные

---

3. Санкция, социальная ценность, суверенитет, правовая норма,


---

**5. Перед вами иллюстрации, на которых изображены различные персонажи. Разделите этих персонажей на две равные группы по признаку их происхождения, заполните таблицу. За каждую верную позицию 1 балл, всего 6 баллов.**

А.




Б.



В.




Г.



Д.



Е.



Группа 1	
Группа 2	

**6.Решите социологическую задачу.**

После неудачного матча с «К.» возле стадиона нападающего Артема дожидалась группа болельщиков, один из которых насе́л на него с вопросами о том, почему у команды нет характера, используя нецензурную лексику. Артём сначала предложил выйти и самому сыграть, а потом просто оскорбил фаната. Объединение болельщиков «Ф.» выступило с заявлением, в котором потребовало от нападающего публичных извинений за оскорбление поклонника команды. «Допустив в адрес болельщика нецензурную лексику, Артём в его лице оскорбил и всю «Ф.» в целом. Недовольство игрой команды выразил на пресс-конференции и главный тренер команды. «Нам непонятна реакция Артёма на совершенно справедливые вопросы к нему и команде в целом», — говорилось в нём. Официального примирения пока не состоялось, часть болельщиков продолжают освистывать Артема.

**О каком социальном явлении идет речь в тексте? Назовите стадии его развития и проиллюстрируйте их фрагментами текста. Укажите стратегию поведения, которая используется в этой ситуации.**

**За каждую верную позицию 5 баллов, всего — 15 баллов.**

**7.Решите правовую задачу:**

17-летний К. решил устроиться на работу в библиотеку. Он предоставил, как думал, необходимый комплект документов для трудоустройства. Однако работодатель сообщил К., что не может заключить с ним трудовой договор, так как К. не прошел медицинское обследование. Прав ли работодатель?

**За верный ответ без обоснования 2 балла, За обоснование 3 балла, всего – 5 баллов**

**8.Решите логическую задачу:**

На заседании школьного кружка «Политдебаты» обсуждались выборы председателя. Секретарь Варвара Любопытная представила рейтинг трех кандидатов исходя из внутришкольного опроса:

- на первом месте Андрей Смирнов или Павел Иванов;
- на втором месте — Павел Кузнецов;

- на третьем месте — Андрей Смирнов.

Как выяснилось, ни одно из высказываний не оказалось истинным.

Исходя из того, что кандидатов было ровно три, определите место каждого кандидата, ответобоснуйте. Объясните смысл фразы «ни одно из высказываний не оказалось истинным».

**За верный ответ без обоснования 1 балл, за верный ответ с обоснованием 8 баллов**

#### **9. Прочитайте текст и выполните задание.**

В одной из своих работ американский социолог Д. Белл писал: «Современными «пособиями по этикету» являются кино, телевидение, реклама. Однако в то время как реклама только стимулирует запросы, другие средства связи выполняют более деликатную роль в развитии новых общественных навыков.

Они «развивают» народные вкусы, предоставляя затем целому ряду специальных организаций удовлетворение утончившихся вкусов... Хотя сначала эти перемены касаются лишь внешних сторон жизни - манер, мод, вкусов, питания, развлечений, - однако рано или поздно их влияние начинает сказываться и на таких основных факторах, как вопросы семейного авторитета и общественные ценности...»

Какое влияние на нашу жизнь оказывают средства массовой информации (СМИ), по мнению автора? Опираясь на текст и свой опыт приведите по два примера положительного и отрицательного влияния СМИ на подростков.

**Ответ на вопрос – 2 балла и по 2 балла за каждый правильный пример. Всего 10 баллов.**



