

**Муниципальный этап всероссийской олимпиады школьников  
по обществознанию  
2021-2022 учебный год  
7 класс  
Максимальный балл – 59 баллов**

**Задание 1. Выберите все правильные ответы. Запишите их в таблицу (4 балла)**

**1. Выбор одного из нескольких вариантов:**

Высшим нормативным правовым актом Российской Федерации является:

- А) Уголовный кодекс Российской Федерации
- Б) Гражданский кодекс Российской Федерации
- В) Конституция Российской Федерации
- Г) Федеральный закон «О гражданстве Российской Федерации»

**2. Множественный выбор:**

Найдите примеры биологических потребностей человека:

- А) сон
- Б) общение
- В) пища
- Г) творчество
- Д) карьера

**3. Что является лишним в ряду:**

церемония, обычай, эстетика, обряд, ритуал

**4. Найдите понятие, которое является обобщающим для всех остальных понятий представленного ниже ряда:**

архитектура, искусство, графика, живопись, скульптура

Таблица для ответа:

1	2	3	4

**Задание 2. Определите верность/ошибочность суждений (10 баллов)**

		Да/нет
1.	Заработная плата является одним из источников доходов домохозяйств.	
2.	За нарушение норм этикета законодательством РФ предусмотрено административное наказание.	
3.	Каждый гражданин РФ обязан сохранять природу и окружающую среду.	
4.	Сотрудничество, избегание, компромисс являются вариантами поведения в конфликтных ситуациях.	
5.	Отказ от религиозных верований называется атеизмом.	
6.	Трудоспособные совершеннолетние дети обязаны содержать своих нетрудоспособных нуждающихся в помощи родителей.	
7.	Доход является одним из критериев социальной стратификации.	
8.	Задатки являются основой для дальнейшего развития способностей.	

9.	Ситуация, при которой Михаил М. получил штраф за курение в общественном месте, является примером положительной формальной санкции.	
10.	Лица, достигшие ко времени совершения преступления четырнадцатилетнего возраста, подлежат уголовной ответственности за убийство.	

### **Задание 3. Логическая задача (5 баллов)**

На столе в ряд лежат четыре книги разного цвета: синяя, зеленая, красная и оранжевая. Третьей в ряду лежит та книга, название цвета которой содержит больше всего букв. А зеленая лежит между оранжевой и красной.

Какая книга лежит последней?


*Место для ответа:*

### **Задание 4. Решите задачу по праву (8 баллов)**

Ученики 7 класса Мирный Василий (14 лет) и Солдатов Антон (13 лет) обсуждали службу в Вооруженных Силах РФ. Солдатов Антон заявил, что когда ему исполнится 17 лет, он встанет на воинский учет и пойдет служить в Вооруженные Силы РФ, так как защита отечества – это право гражданина, предусмотренное Конституцией РФ. А в условиях нестабильной политической ситуации важно помочь стране! Мирный Василий не хотел служить в армии и утверждал, что он пацифист, потому может быть освобожден от военной службы. Тем более что граждане РФ проходят военную службу в добровольном порядке (по контракту).


**Какие четыре ошибки и неточности допустили мальчики в своих рассуждениях?**

*Место для ответа:*



**Задание 5. Прочитайте высказывание мыслителя, рассмотрите изображения и выполните задание. (10 баллов)**

« \_\_\_\_\_ » начинается с детей. /А.И. Герцен/



О каком понятии писал А.И. Герцен?

Дайте определение понятию.



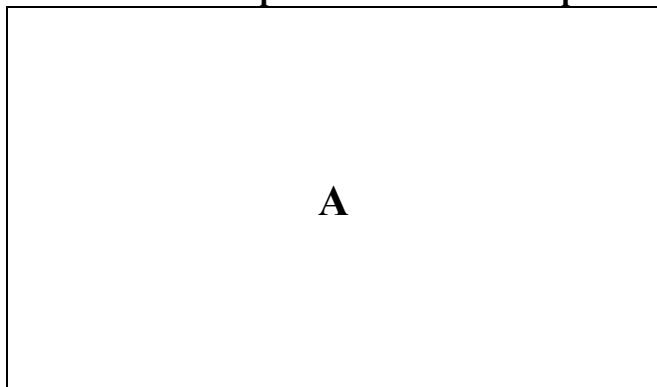
Назовите не менее трёх типологий данного понятия, дайте характеристику одного любого названного вами типа.


*Место для ответа:*





**Задание 6. Изучите представленные ниже изображения и выполните задания. Определите по какому принципу образован ряд изображений. Укажите буквенные обозначения изображений. Какое изображение является лишним? (7 баллов)**





*Место для ответа:*

<i>Принцип, по которому образован ряд</i>	
<i>Буквенный ряд</i>	
<i>Лишнее</i>	

**Задание 7. Решите задачу по финансовой грамотности (5 баллов)**

Накануне праздника частному кондитеру Екатерине поступил заказ приготовить вкусный подарок. Но у заказчика были свои требования: 1) набор должен состоять из нескольких позиций, 2) сумма подарка составляет от 1100 рублей до 1300 руб.

Для приготовления заказа Екатерины рассматривает следующие десерты:


Название	Количество (шт.)	Стоимость (руб.)	Количество штук в наборе	Себестоимость (руб.)
Пирожное	1	120	4, 6, 9, 12	80
Печенье с начинкой	1	50	7, 14	30
Торт	1	400		280

**Задание.** Подберите все возможные варианты подарочного набора. Какой из наборов выгоднее кондитеру?

*Место для ответа:*



**Задание 7. Решите кроссворд (10 баллов)**



**По горизонтали:** **1.** Человеколюбие, уважение к человеку. **2.** Лицо, располагающее сведениями об обстоятельствах, имеющих значение для данного уголовного или гражданского дела, вызванное в органы следствия или суда для дачи показаний. **5.** Деятельность, осуществляемая специальными государственными органами – судами. **7.** Обмен одного товара на другой без помощи денег. **9.** Систематизированный свод законов. **10.** Столкновение противоположных интересов, взглядов, стремлений.

**По вертикали:** **3.** Внешние формы поведения человека, получающие положительную или отрицательную оценку окружающих. **4.** Особое положение внутри социальной группы, которое предполагает оказание влияния на других индивидов для последующего достижения целей. **6.** Вред, наносимый действиями одного субъекта другим субъектам, природе, людям. **8.** Отрасль хозяйства, в которой происходит реализация товаров путём купли-продажи.