

**Задания для муниципального этапа всероссийской олимпиады
школьников по основам безопасности жизнедеятельности
2017-2018 учебный год
9 класс**

Продолжительность олимпиады - 90 мин.

Первая часть – письменные задания – 5 вопросов- 64 баллов;

Вторая часть – тестовые задания– 20 вопросов- 36 баллов.

Максимально возможное количество баллов: 100 баллов.

Код участника _____

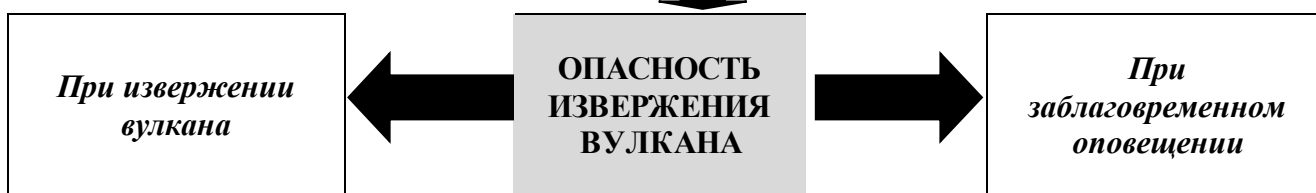

**Письменные задания теоретического тура муниципального этапа Всероссийской олимпиады
школьников 2017-2018 учебный год**

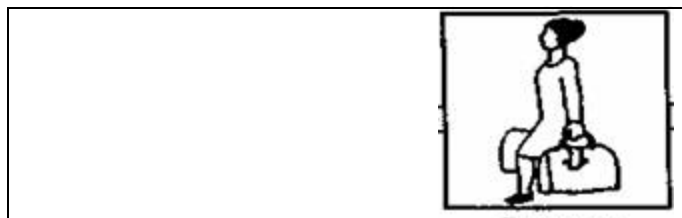
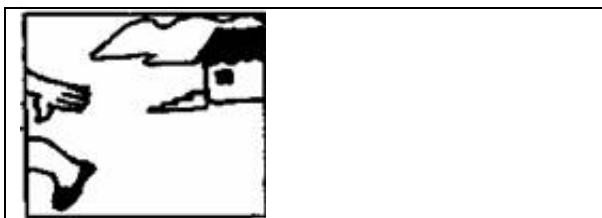
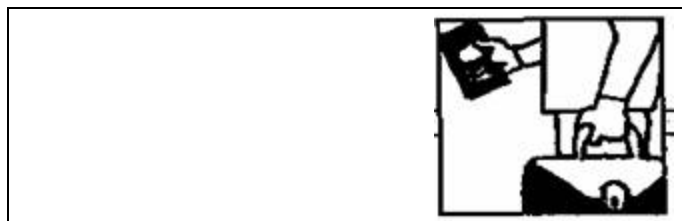
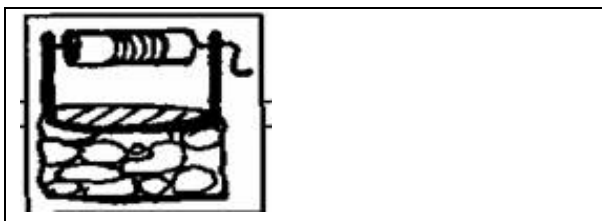
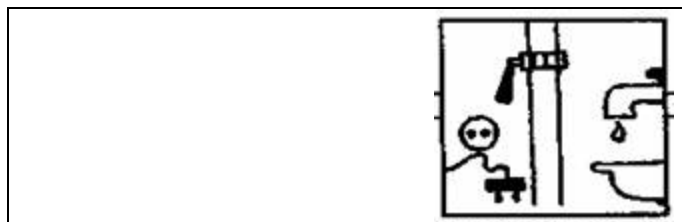
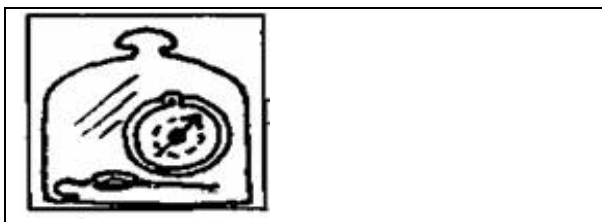
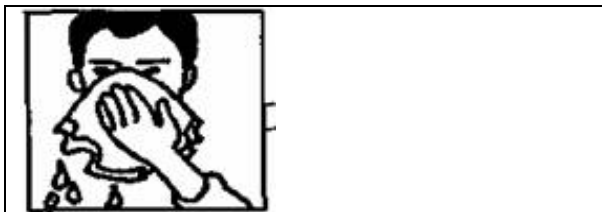
**Задание 1. Определите где и в каком направлении могут двигаться следующие пешеходы.
Поставьте знаки «+» в соответствующие клетки.**

Пешеход	Тротуар	Край проезжей части по ходу движения транспортных средств	Край проезжей части навстречу движению транспортных средств
Пешеходы, перевозящие или переносящие громоздкие предметы и создающие помехи для других пешеходов.			
Лица, передвигающиеся в инвалидных колясках без двигателя и создающие помехи для других пешеходов.			
Лица, ведущие мотоцикл, мопед, велосипед			
Группы детей			

Оценка задания. Максимальная оценка за правильно выполненное задание – 8 баллов

Задание 2. Заполните схему действий при получении сигнала «Внимание всем!»





Оценка задания. Максимальная оценка за правильно выполненное задание - 18 баллов

Задание 3. Одним из наиболее опасных состояний, угрожающих жизни человека является кровотечение. Заполните таблицу, вписав названия видов кровотечений в зависимости от характера поврежденных сосудов по приведённым характеристикам

Вид кровотечения	Характеристика
	возникает, как правило, при поверхностном ранении. Кровь имеет тёмный цвет, не пульсирует, вытекает из раны спокойно и непрерывно
	возникает при глубоком ранении. Кровь алого цвета вытекает из раны пульсирующей струёй. За короткое время человек может потерять большое количество крови, и это очень опасно для его жизни
	чаще всего возникают при несчастных случаях, авариях, стихийных бедствиях или катастрофах любого происхождения, когда человек получает множественные повреждения, и поверхностные, и глубокие
	кровь сочится по всей поверхности раны, и её трудно остановить

Перечислите способы временной остановки кровотечения:

1. _____
2. _____
3. _____
4. _____
5. _____

Оценка задания. Максимальная оценка за правильно выполненное задание – **18 баллов**


Задание 4. Установите соответствие между понятием и его содержанием. Впишите предложенные термины в соответствующую графу таблицы.

1. Преступление.
2. Карантин.
3. Обсервация.
4. Гражданская оборона.

Понятия	Содержание понятий
	Специально организуемое медицинское наблюдение за населением в очаге бактериологического поражения, включающее ряд мероприятий, направленных на своевременное выявление и изоляцию заболевших в целях предупреждения распространения эпидемических заболеваний.
	Система мероприятий по подготовке к защите и по защите населения, материальных и культурных ценностей на территории РФ от опасностей, возникающих при ведении военных действий или вследствие этих действий.
	Комплекс мероприятий, проводимых для предупреждения распространения инфекционных заболеваний из очага поражения и для ликвидации самого очага.
	Виновно совершенное общественно опасное деяние, запрещенное Уголовным кодексом под угрозой наказания.

Оценка задания. Максимальная оценка за правильно выполненное задание – **8 баллов**

Задание 5. Посмотрите внимательно на рисунки и укажите под каждым из них тип костра



1. _____
2. _____
3. _____
4. _____

Оценка задания. Максимальная оценка за правильно выполненное задание – **12 баллов**

Тестовые задания теоретического тура муниципального этапа Всероссийской олимпиады школьников 2017-2018 учебный год

№	Тестовые задания	Макс. балл	Количество набранных баллов
Определите один правильный ответ			
1	Можно ли ребенку, которому не исполнилось 14 лет, учиться ездить на велосипеде во дворе? а) нет; б) да; в) да, но только в присутствии взрослых.	1	
2.	Как называется длительный, очень сильный ветер со скоростью от 40 до 100 км/ч? а) ураган; б) смерч; в) циклон; г) буря.	1	
3.	Для безопасной работы на компьютере необходимо: а) своевременно удалять пыль с монитора, источник света должен быть за монитором, работать не больше 25 минут непрерывно; б) верхний свет должен быть ярким, кресло, диван должны размещаться не ближе 1-1,5 м, работать не более 4 часов в день; в) своевременно удалять пыль с монитора, источник света должен располагаться справа от монитора, работать не более 35 минут непрерывно.	1	
4	Кто изобрел первый огнетушитель в России? а) 1734 г.- М.Фукс; б) начало XIX века – Н.В. Шефгаль; в) 1904 г.- А.Г. Лоран	1	
5	Употребление алкоголя приводит к заболеваниям сердечно-сосудистой системы. Что в первую очередь способствует развитию данных заболеваний: а) разрушение эритроцитов; б) нарушение функций головного мозга; в) перепады давления.	1	
6	Могут ли дети находиться на улице в ночное или вечернее время? а) да, если на улице светло б) да, при наличии паспорта, который они обязаны предъявить органам правопорядка по требованию; в) да, если дети находятся на улице в сопровождении родителей или опекунов; г) нет, ни при каких обстоятельствах.	1	
7.	Френсис Бофорт в 1806 г. разработал шкалу, по которой определяют: а) силу ветра; б) скорость ветра; в) название ветрового режима.	1	

Определите все правильные ответы			
8	<p>Если во время приготовления пищи на сковороде на плите вспыхнуло масло, то нужно поступить следующим образом:</p> <p>а) выключить плиту и залить водой;</p> <p>б) выключить плиту и засыпать сковороду негорючим (например – чистящим) порошком;</p> <p>в) выключить плиту и накрыть сковороду крышкой или плотной тканью.</p>	2	
9	<p>К чрезвычайным ситуациям геофизического характера относятся:</p> <p>а) землетрясения;</p> <p>б) эрозия почв;</p> <p>в) извержения вулканов;</p> <p>г) оползни.</p>	2	
10	<p>За совершение каких преступлений уголовная ответственность наступает с 14 лет?</p> <p>а) разбой;</p> <p>б) ношение травматического оружия без разрешения;</p> <p>в) умышленное причинение тяжкого телесного повреждения;</p> <p>г) уклонение от уплаты налогов.</p>	2	
11	<p>Какой из сигналов светофора имеет запрещающее значение:</p> <p>а) желтый;</p> <p>б) желтый мигающий;</p> <p>в) зеленый;</p> <p>г) красный.</p>	2	
12	<p>Попадая в атмосферу и взаимодействуя с влагой выбросы следующих химических соединений могут образовать кислотные осадки:</p> <p>а) свинец и его соединения;</p> <p>б) ртуть;</p> <p>в) бензин;</p> <p>г) диоксид серы;</p> <p>д) оксид азота.</p>	2	
13	<p>Из ниже перечисленных объектов выберите те, которые могут являться линейными ориентирами:</p> <p>а) линии электропередач и дороги;</p> <p>б) летящий самолет;</p> <p>в) движущейся автотранспорт и сельскохозяйственная техника;</p> <p>г) граница леса, просека.</p>	2	
14	<p>Как размещены полосы на Государственном флаге Российской Федерации сверху вниз и каково соотношение ширины флага к его длине?</p> <p>а) красная, синяя, белая;</p> <p>б) белая, синяя, красная;</p> <p>в) 3:2;</p> <p>г) 2:3.</p>	2	
15	<p>Что регулирует Семейный кодекс Российской Федерации?</p> <p>а) имущественные отношения в семье;</p> <p>б) возникновение гражданских прав;</p> <p>в) порядок открытия наследства;</p>	2	

	г) условия вступления в брак.		
16	Какие из перечисленных ЧС относятся к гидрологическим? а) половодье; б) буран; в) ураган; г) зажор;	2	
17	Для предупреждения отравлений необходимо отличать ядовитые растения. Какие из перечисленных растений нельзя употреблять в пищу? а) паслён сладко-горький; б) снежнаягодник белый; в) кипрей; г) рогоз.	2	
18	Основными факторами риска для здоровья человека являются: а) избыточная масса тела; б) достаточная двигательная активность; в) гиподинамия; г) нерациональное питание.	3	
19	Среди представленных ниже факторов выделите те, которые характерны для пожара в закрытом помещении: а) повышенная температура окружающей среды; б) повышенная концентрация угарного газа; в) образование ударной волны; г) задымленность.	3	
20	Противогаз может находиться в следующих положениях: а) походное; б) повседневное; в) боевое; г) наготове.	3	
ИТОГО		36	