

ВСЕРОССИЙСКАЯ ОЛИМПИАДА ШКОЛЬНИКОВ ПО
ОБЖ. 2018–2019 уч. г.
МУНИЦИПАЛЬНЫЙ ЭТАП. 9 КЛАСС

Уважаемый участник!

При выполнении заданий Вам предстоит выполнить определённую работу, которую лучше организовать следующим образом:

- внимательно прочитайте задание;
- если Вы отвечаете на теоретический вопрос или решаете ситуационную задачу, обдумайте и сформулируйте конкретный ответ (ответ должен быть кратким, и его содержание следует вписать в отведённое поле; пишите чётко и разборчиво);
- при ответе на тестовые задания определите верный ответ и обведите кружком букву (буквы), соответствующую(-ие) выбранному Вами ответу.

За каждый правильный ответ Вы можете получить определённое членами жюри количество баллов, не выше указанной максимальной оценки.

Максимальное количество баллов – 100.

Желаем успеха!

Всероссийская олимпиада школьников по ОБЖ. 2018–2019 уч. г.
Муниципальный этап. 9 класс.

- а) тяжёлую степень лучевой болезни
- б) незначительное недомогание
- в) лёгкую степень лучевой болезни
- г) крайне тяжёлую степень лучевой болезни

9. Какую повязку можно наложить при ранении головы?

- а) спиральную
- б) циркулярную
- в) чепец
- г) окклюзионную (герметизирующую)

10. Что лежит в основе формирования биологических ритмов?

- а) приспособляемость организма к негативным факторам внешней среды
- б) функциональная согласованность организма и режима труда и отдыха
- в) ответная реакция организма на внешнее воздействие
- г) адаптация организма к окружающей среде в процессе эволюционного развития

Определите все правильные ответы.

За каждый правильный ответ начисляется 2 балла.

11. Какие места в помещении являются наиболее безопасными при землетрясении.

- а) проём двери
- б) под столом
- в) в углу комнаты
- г) справа или слева от окна
- д) под кроватью (диваном)

12. От каких химических веществ НЕ ЗАЩИЩАЕТ дополнительный патрон ДПП-3?

- а) аммиак б) фенол в) фосген г) сероуглерод д) синильная кислота

13. Что из перечисленного ниже относится к основным формам мошенничества в интернете?

- а) просьба перейти по ссылке
- б) просьба дать оценку чему-либо
- в) распространение бесплатного софта
- г) блокировка операционных систем и требование оплаты услуг по их разблокированию
- д) добавление «в друзья» в социальной сети

14. Что следует предпринять, если на Ваших глазах пассажир упал на эскалаторе или его вещи попали в гребёнку эскалатора?

- а) остановить движение эскалатора ручкой «Стоп»
- б) обратиться к сотруднику полиции

Всероссийская олимпиада школьников по ОБЖ. 2018–2019 уч. г.
Муниципальный этап. 9 класс.

- в) помочь вытащить застрявшие вещи
- г) обратиться к дежурному у эскалатора
- д) стоять на месте

- 15.** Какие из перечисленных ниже факторов оказывают влияние на формирование социального благополучия человека?
- а) предвидение опасных ситуаций
 - б) формирование психологической уравновешенности
 - в) умение жить в согласии с окружающими людьми
 - г) развитие чувства самоуважения
 - д) умение отстаивать своё мнение
- 16.** Каковы основные поражающие факторы при авариях с выбросом АХОВ?
- а) ионизирующие загрязнение
 - б) проникающие излучение
 - в) ингаляционное воздействие паров
 - г) загрязнение местности
 - д) психологическое воздействие
- 17.** В летний период нередки случаи лесных пожаров. Какие бывают виды пожаров?
- а) покровные б) боковые в) низовые г) верховые д) луговые
- 18.** Какие из перечисленных утверждений верны?
- а) переутомление – естественное следствие любой работы
 - б) переутомление исчезает после сна
 - в) переутомление не исчезает после сна и кратковременного отдыха
 - г) переутомление приводит к снижению сопротивляемости организма к различным неблагоприятным факторам
 - д) переутомление исчезает после кратковременного отдыха
- 19.** Какие виды повязок накладываются при повреждении груди
- а) спиралевидная б) клиновидная в) колосовидная г) крестообразная д) чепец
- 20.** Какие из перечисленных правил являются основными для иммобилизации при открытом переломе?
- а) фиксируют как минимум два сустава, выше и ниже места перелома
 - б) фиксируют один сустав, выше перелома
 - в) конечность фиксируют в таком положении, в котором она оказалась в результате травмы
 - г) периферический отдел повреждённой конечности переводят в «правильное» положение
 - д) из раны удаляют костные отломки, мелкие инородные тела


Теоретические задания

1. По статистике МЧС внутренние пожары являются наиболее распространёнными. В динамике развития таких пожаров выделяют несколько фаз.
- А. Дайте определение понятию «пожар».
- Б. Заполните таблицу и дайте характеристику фазам развития внутреннего пожара.

Фаза развития пожара	Наименование фазы развития пожара	Краткая характеристика фазы
I фаза		
II фаза		
III фаза		

Максимальная оценка за правильно выполненное задание – **20** баллов.






2. Ручные механические часы (см. рис) показывают 16.05 и для определения сторон горизонта сориентированы по Солнцу.



1. Разъясните сущность способа определения сторон горизонта по Солнцу и часам.
2. Определите направление на север.

Максимальная оценка за правильно выполненное задание – **10** баллов

3. Соедините стрелками изображение с названием вида ядерного взрыва и ответ запишите в таблицу.

А	
Б	
В	
Г	
Д	

Воздушный ядерный взрыв	1
Надводный ядерный взрыв	2
Подземный ядерный взрыв	3
Наземный ядерный взрыв	4
Высотный ядерный взрыв	5

А	Б	В	Г	Д

Максимальная оценка за правильно выполненное задание – **10** баллов.

Максимум за работу **100** баллов.