

**Критерии и методика оценки выполненных  
олимпиадных заданий теоретического тура  
старшей возрастной группы (10-11 классы)  
муниципального этапа Всероссийской олимпиады  
школьников Республики Крым  
по «Основам безопасности жизнедеятельности»  
в 2019 – 2020 учебном году**

По теоретическому туру максимальная оценка результатов участника старшей возрастной группы (10-11 классы) определяется арифметической суммой всех баллов, полученных за выполнение заданий и тестов и не должна превышать **150 баллов (99+51)**.

### **ЗАДАНИЕ 1.**

**Заполните таблицу, вписав переносчиков инфекционных заболеваний человека.**

**Ответ:**

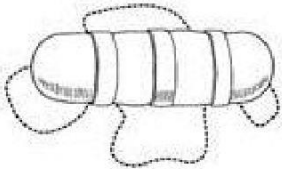
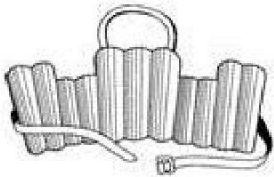
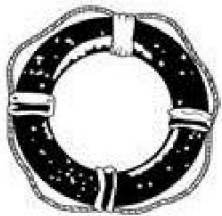
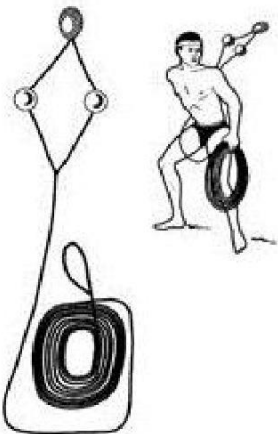
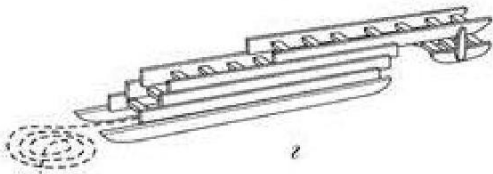
<b>Насекомые-переносчики инфекционных заболеваний</b>	
<b>Инфекционные заболевания</b>	<b>Насекомое переносчик</b>
Энцефалит, туляремия	Клещи
Малярия	Комары
Чума	Блохи
Дизентерия, конъюнктивит, холера	Комнатная муха
Сыпной тиф, возвратный тиф	Вши

**Оценка задания.** Максимальная оценка за правильно выполненное задание – **10 баллов**

– при отсутствии правильных ответов, баллы не начисляются.

## ЗАДАНИЕ 2.

Заполните таблицу, вписав наименования табельных спасательных средств на воде и на льду.

Графическое изображение	Наименование средства
	спасательный валик
	спасательный нагрудник
	спасательный круг
	линь спасательный («конец Александра»)
	выдвижная лестница

**Оценка задания.** Максимальная оценка за правильно выполненное задание – *10 баллов*, при этом:

- за каждый правильный ответ по каждой из позиций начисляется по *1 баллу*;
- при отсутствии правильных ответов, баллы не начисляются.

### ЗАДАНИЕ 3.

Определите по описанию внешних признаков из приведённых примеров вид пожара и впишите в таблицу соответствующую букву.

Виды пожара:

- а) внутренний открытый;
- б) открытый;
- в) скрытый;
- г) внутренний скрытый;
- д) наружный;
- е) внутренний.

Ответ:

Внешние признаки пожара	Вид пожара (буква)
Из окон здания идёт дым, огня не видно	е
Из окон здания идёт дым, видно пламя	д
Горит штабель лесоматериалов на открытой площадке	б
Из окон здания идёт небольшой дым; внутри здания огня не видно, но концентрация дыма очень высока	г
Из окон здания идёт дым, внутри здания горит мебель, виден огонь	а

**Оценка задания.** Максимальная оценка за правильно выполненное задание – *10 баллов*, при этом:

- за каждый правильный ответ по каждой из позиций начисляется по *2 баллу*;
- при отсутствии правильных ответов баллы не начисляются.

**ЗАДАНИЕ 4.** Степень опасности химических веществ связана с путями их попадания в организм человека. Их подразделяют на 6 групп по принципу проникновения.

Перечислите их.

Ответ:

- через органы дыхания (ингаляционный путь);
- через желудочно-кишечный тракт (пероральный путь);
- через кожные покровы и слизистые оболочки (кожный путь);
- через открытые раны;
- при проникающих ранениях;
- при внутримышечных, подкожных, внутривенных инъекциях.

**Оценка задания.** Максимальная оценка за правильно выполненное задание – *12 баллов*, при этом:

- за каждый правильный ответ по каждой из позиций начисляется по *2 баллу*;
- достаточной считается часть ответа, выделенная подчёркиванием;
- при отсутствии правильных ответов, баллы не начисляются.

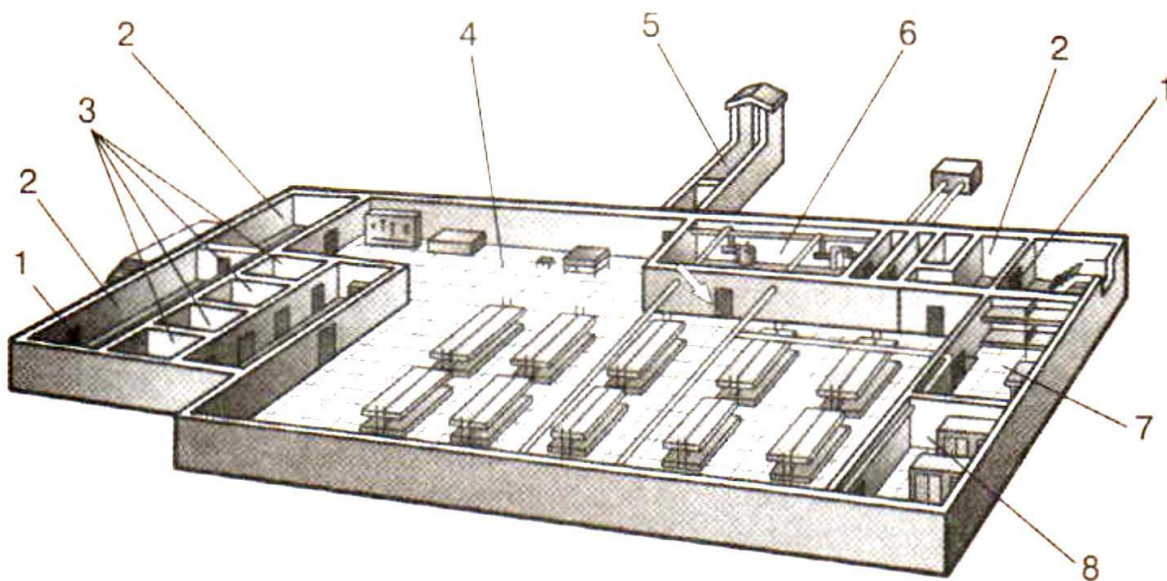
**ЗАДАНИЕ 5. Международное гуманитарное право – это совокупность норм, основанных на принципах гуманности и направленных на ограничение средств, и методов ведения войны и на защиту жертв вооруженных конфликтов. Перечислите лица, находящиеся под защитой международного гуманитарного права. Ответ:**

- раненые;
- больные;
- потерпевшие кораблекрушение;
- военнопленные;
- гражданское население;
- медицинский персонал;
- духовный персонал.

**Оценка задания.** Максимальная оценка за правильно выполненное задание – *7 баллов*, при этом:

- за каждый правильный ответ начисляется по *1 баллу*;
- при отсутствии правильных ответов баллы не начисляются.

**ЗАДАНИЕ 6.** На рисунке изображен эскиз защитного сооружения ГО. Назовите тип защитного сооружения и перечислите его элементы, отмеченные цифрами. Ответ:



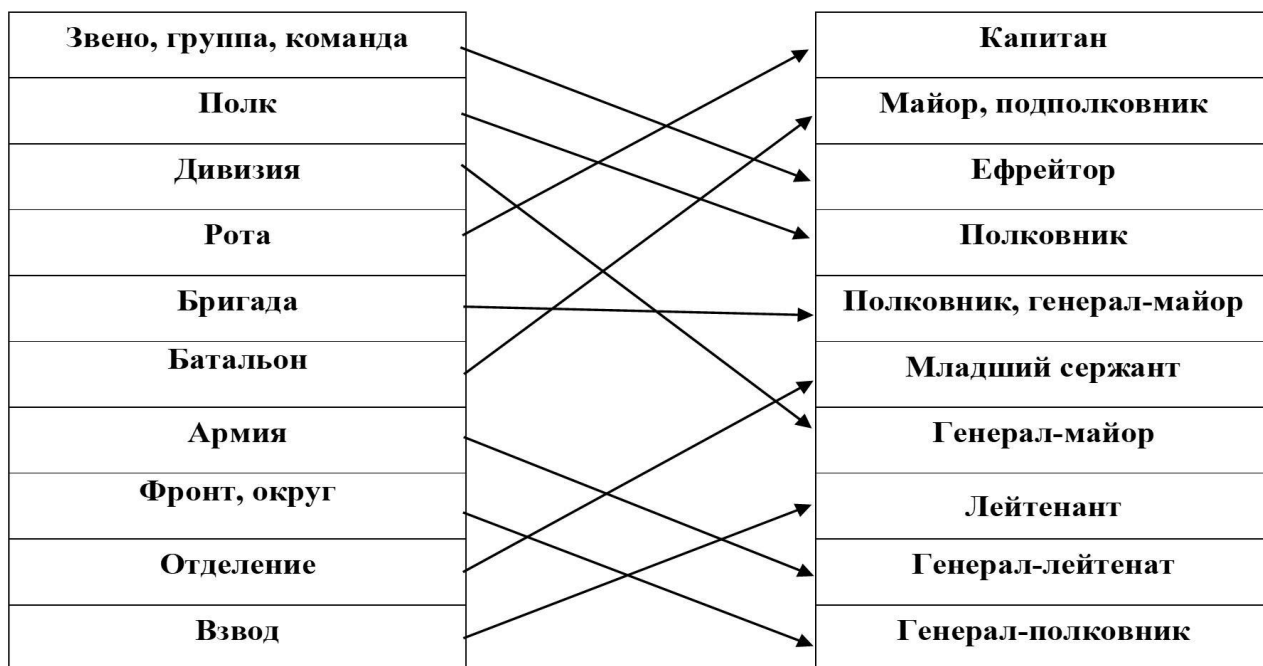
**Тип защитного сооружения -** Убежище

1	защитно-герметические двери
2	шлюзовые камеры
3	санитарный узел
4	основное помещение для размещения (отдыха) людей
5	галерея и оголовок аварийного выхода
6	фильтровентиляционная камера
7	медицинская комната (медпункт)
8	кладовая для продуктов

**Оценка задания.** Максимальная оценка за правильно выполненное задание – **24 баллов**, при этом:

- за каждый правильный ответ начисляется по **2 баллу**;
- при отсутствии правильных и не указанных ответов, баллы не начисляются.

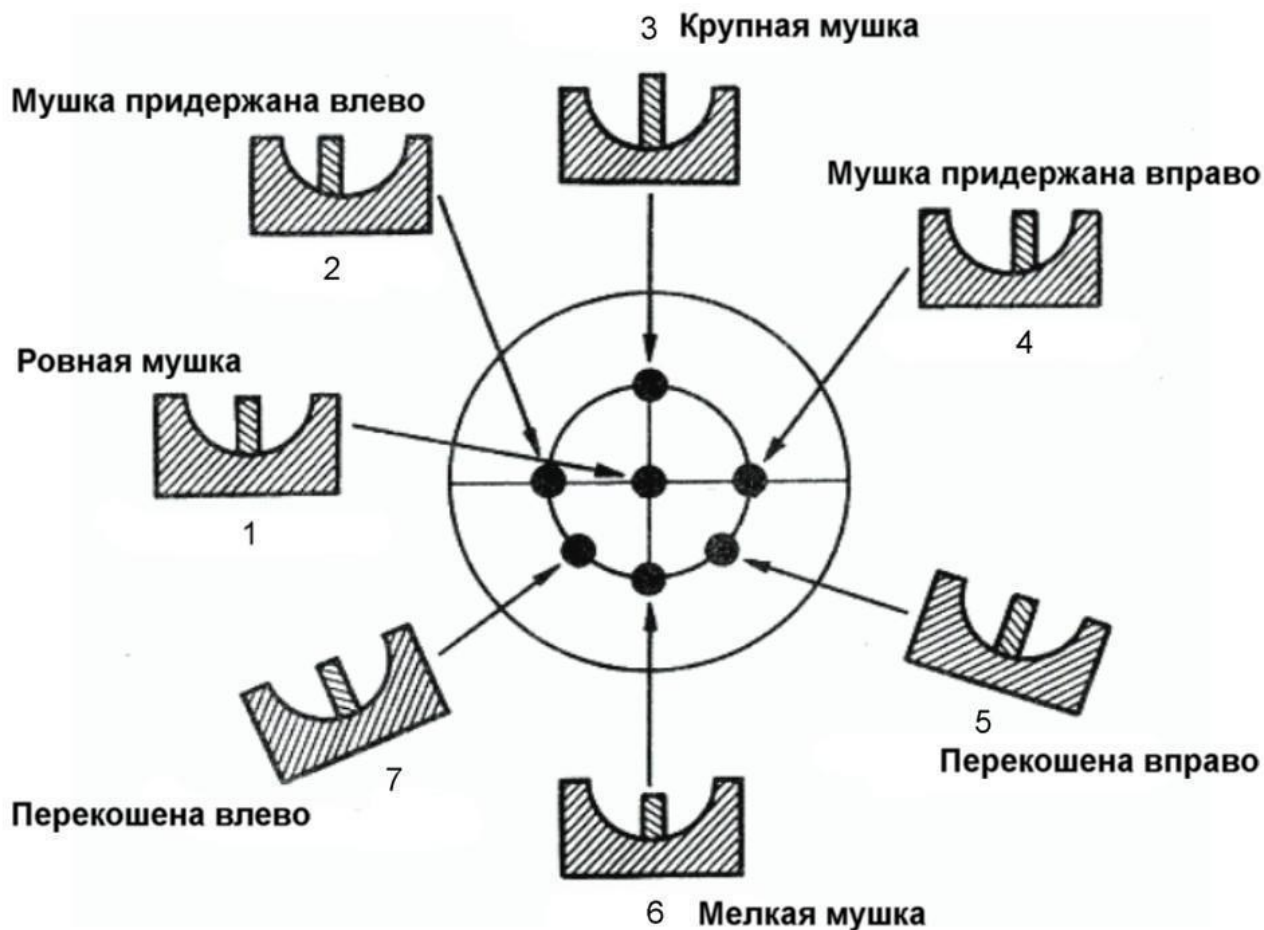
**ЗАДАНИЕ 7. Укажите стрелками соответствие между названиями воинских формирований (левый столбец) и уровнем командования (правый столбец). Ответ:**



**Оценка задания.** Максимальная оценка за правильно выполненное задание – *10 баллов*, при этом:

- за каждый правильный ответ по каждой из позиций начисляется по *1 баллу*;
- при отсутствии правильных ответов баллы не начисляются.

**ЗАДАНИЕ 8.** Рассмотрите рисунок и напишите, что он иллюстрирует. Подпишите названия отдельных элементов рисунка 1-7. Укажите стрелками соответствие между этими элементами 1-7 и точками, изображенными на рисунке в центре круга. Вариант ответа:



1. Рисунок иллюстрирует **ошибки в прицеливании** относительно «ровной мушки» и какой при этом будет результат стрельбы, т.е. где будут находиться отверстия от пуль на мишени.
2. Вместо слов «*придержана*» 2, 4 в ответе допускается применение следующих слов: «*смещена, правая (левая) мушка*».
3. Вместо слова «*перекошена*» 5, 7 в ответе допускается применение слов: «*наклонена, свалена, завалена*».

**Оценка задания.** Максимальная оценка за правильно выполненное задание – **16 баллов**, при этом:

- за правильный ответ, на вопрос «Что иллюстрирует рисунок?» начисляется **2 балла**;
- за правильную подпись каждого элемента рисунка начисляется по **1 баллу**;
- за каждое правильно указанное соответствие начисляется по **1 баллу**;
- при отсутствии правильных ответов баллы не начисляются.



### ЗАДАНИЕ 9. Тестовые задания

№ п/п	Тестовые задания	Макс. балл	Кол-во набранных баллов
<i>Определите один правильный ответ</i>			
1.	<p><b>При организации однодневного турпохода рекомендуется выбирать до конечной точки маршрута расстояние не более:</b></p> <p>а) 10 км в одну сторону;  б) 15 км в одну сторону;  в) 20 км в одну сторону;  г) 25 км в одну сторону.</p>	1	
2.	<p><b>Основным источником энергии для человека являются:</b></p> <p>а) жиры;  б) белки;  в) витамины;  г) углеводы.</p>	1	
3.	<p><b>Лунные сутки длятся:</b></p> <p>а) 15 земных суток;  б) 20 земных суток;  в) 25 земных суток;  г) 29 земных суток.</p>	1	
4.	<p><b>Элемент дороги, предназначенный для движения безрельсовых транспортных средств, называется:</b></p> <p>а) дорога;  б) проезжая часть;  в) магистраль;  г) трасса.</p>	1	
5.	<p><b>К кишечным инфекциям относят:</b></p> <p>а) чуму;  б) столбняк;  в) дизентерию;  г) дифтерию.</p>	2	

6.	<p><b>В случае аварийного приводнения самолета спасательные жилеты приводятся в рабочее состояние:</b></p> <p>а) после покидания салона самолета;</p> <p>б) после соприкосновения самолета с поверхностью воды;</p> <p>в) до соприкосновения самолета с поверхностью воды;</p> <p>г) перед выходом из салона самолета.</p>	3	
7.	<p><b>Завладение чужим имуществом путем обмана или подлога называется:</b></p> <p>а) кража;</p> <p>б) мошенничество;</p> <p>в) грабеж;</p> <p>г) вымогательство.</p>	3	
8.	<p><b>Умышленные деяния, за совершение которых максимальное наказание, предусмотренное УК РФ не превышает 10 лет лишения свободы относится к:</b></p> <p>а) преступлениям небольшой тяжести;</p> <p>б) преступлениям средней тяжести;</p> <p>в) тяжким преступлениям;</p> <p>г) особо тяжким преступлениям.</p>	3	
9.	<p><b>Химически опасные объекты строятся:</b></p> <p>а) на большом расстоянии друг от друга;</p> <p>б) с учетом розы ветров данной местности;</p> <p>в) на безопасном расстоянии от рек, водоемов, морского побережья и подземных водоносных слоев;</p> <p>г) с наветренной стороны жилых зон.</p>	3	
10.	<p><b>Самым многочисленным по боевому составу видом Вооруженных Сил Российской Федерации являются:</b></p> <p>а) Сухопутные войска;</p> <p>б) Военно-морской флот;</p> <p>в) Воздушно-космические силы;</p> <p>г) Мотострелковые войска.</p>	3	
11.	<p><b>Обязанности военнослужащих подразделяются на:</b></p> <p>а) общие, должностные, боевые и специальные;</p> <p>б) общие, должностные и специальные;</p> <p>в) общие, боевые и специальные;</p> <p>г) общие и специальные.</p>	3	

<i>Определите все правильные ответы</i>		
12.	<p><b>Кроме никотина табачный дым содержит:</b></p> <p>а) синильную кислоту;</p> <p>б) соляную кислоту;</p> <p>в) аммиак;</p> <p>г) соединения хлора;</p> <p>д) водород.</p>	3
13.	<p><b>Управлять квадроциклом, согласно ПДД, можно:</b></p> <p>а) с 16 лет;</p> <p>б) имея права категории А, так как квадроцикл приравнен к мотоциклу;</p> <p>в) с 18 лет;</p> <p>г) имея удостоверение тракториста-машиниста, так как квадроцикл приравнен к самоходной машине;</p> <p>д) имея водительское удостоверение любой категории.</p>	3
14.	<p><b>К запрещающим дорожным знакам относятся:</b></p> <p>а) таможня;</p> <p>б) опасность;</p> <p>в) железнодорожный переезд без шлагбаума;</p> <p>г) уступите дорогу.</p>	3
15.	<p><b>К заболеваниям, сопровождающимся инфекцией дыхательных путей относятся:</b></p> <p>а) грипп;</p> <p>б) чума;</p> <p>в) туляремия;</p> <p>г) дифтерия;</p> <p>д) корь;</p> <p>е) малярия.</p>	3
16.	<p><b>К индивидуальному снаряжению туриста в коллективном походе относятся:</b></p> <p>а) топор;</p> <p>б) туристский коврик;</p> <p>в) спальный мешок;</p> <p>г) палатка.</p>	3

17.	<b>В состав танкового экипажа танка Т-80 входят:</b> а) водитель; б) заряжающий; в) наводчик; г) стрелок-радист; д) механик-водитель.	3	
18.	<b>По длительности проведения эвакуация может быть:</b> а) временной; б) постоянной; в) среднесрочной; г) долгосрочной; д) короткой; е) продолжительной.	3	
19.	<b>Проблесковый маячок желтого или оранжевого цвета означает:</b> а) перевозку крупногабаритных грузов, взрывчатых, легковоспламеняющихся, радиоактивных веществ; б) перевозку групп детей; в) выполнение работ по строительству, ремонту или содержанию дорог; г) не является специальным сигналом	3	
20.	<b>К корабельной (палубной) авиации ВМФ относятся следующие типы самолетов и вертолетов:</b> а) Су-33; б) Ту-22 МЗ; в) Ил-38; г) МиГ-29 К; д) Ка-27.	3	
	<b>Количество баллов</b>	<i>max 51</i>	

### Матрица ответов на тестовые задания

Номер теста	1	2	3	4	5	6	7	8	9	10
Верный ответ	а	г	г	б	в	а	б	в	в	а
Номер теста	11	12	13	14	15	16	17	18	19	20
Верный ответ	б	а, в	а, б	а, б	а, г, д	б, в	в, д	а, в, е	а, в	а, г, д

**Примечание:**

а) при оценке заданий, 0 баллов выставляется за неправильные ответы, а также, если участником отмечено большее количество ответов, чем предусмотрено (в том числе правильные) или все ответы;

б) при отсутствии правильных ответов, а также, если ответы не отмечены, баллы не начисляются.