

**ВСЕРОССИЙСКАЯ ОЛИМПИАДА ШКОЛЬНИКОВ ПО ОБЖ
(МУНИЦИПАЛЬНЫЙ ЭТАП)**

код/шифр участника

Фамилия Имя Отчество

Класс

Полное наименование образовательной организации

ВСЕРОССИЙСКАЯ ОЛИМПИАДА ШКОЛЬНИКОВ ПО ОБЖ
(МУНИЦИПАЛЬНЫЙ ЭТАП)

2019 г.

ТЕОРЕТИЧЕСКИЙ ТУР
10-11 классы

код/шифр участника

Уважаемый участник Олимпиады!

Вам предстоит выполнить теоретические и тестовые задания.

Выполнение теоретических заданий целесообразно организовать следующим образом:

- не спеша, внимательно прочитайте задание и определите, наиболее верный и полный ответ;
- отвечая на теоретический вопрос, обдумайте и сформулируйте конкретный ответ только на поставленный вопрос;
- если Вы отвечаете на задание, связанное с заполнением таблицы или схемы, не старайтесь детализировать информацию, вписывайте только те сведения или данные, которые указаны в вопросе;
- после выполнения всех предложенных заданий еще раз удостоверьтесь в правильности выбранных Вами ответов и решений.

Выполнение тестовых заданий целесообразно организовать следующим образом:

- не спеша, внимательно прочитайте тестовое задание;
- определите, какой из предложенных вариантов ответа наиболее верный и полный;
- обведите кружком букву, соответствующую выбранному Вами ответу;
- продолжайте таким образом работу до завершения выполнения тестовых заданий;
- после выполнения всех предложенных заданий еще раз удостоверьтесь в правильности выбранных Вами ответов;
- если потребуется корректировка выбранного Вами варианта ответа, то неправильный вариант ответа зачеркните крестиком, а новый выбранный ответ обведите кружком.

Предупреждаем Вас, что:


- при оценке тестовых заданий, 0 баллов выставляется за неправильные ответы, а также, если участником отмечено большее количество ответов, чем предусмотрено (в том числе правильные) или все ответы.

Желаем Вам успеха!

Общая оценка результата участника ____ баллов (максимальный **100 баллов**)

Председатель жюри теоретического тура _____

ЗАДАНИЕ 1. Заполните до конца схему по механизмам передачи инфекционных заболеваний. Запишите в пустые ячейки механизмы передачи инфекций в зависимости от заболевания.



Оценочные баллы: максимальный – 8 баллов; фактический - ____ баллов.

ЗАДАНИЕ 2. В правом столбце таблицы нарисуйте геометрическую форму и запишите сигнальный цвет знака безопасности, указанного в левом столбце таблицы.

Значение знака безопасности	Форма и цвет знака
Опасно! Ядовитые вещества	ФОРМА: СИГНАЛЬНЫЙ ЦВЕТ:
Запрещается принимать пищу	ФОРМА: СИГНАЛЬНЫЙ ЦВЕТ:
Работать в перчатках	ФОРМА: СИГНАЛЬНЫЙ ЦВЕТ:

Оценочные баллы: максимальный – 6 баллов; фактический - ____ баллов.

Баллы начисляются только в том случае, если правильно указаны и форма и цвет, в других случаях – баллы не начисляются.

ЗАДАНИЕ 3. Пожары классифицируются по виду горючего вещества и подразделяются на классы от А до F. Установите соответствие класса пожара - горючему веществу, вписав в нижнюю строку таблицы цифры из приведённого ниже перечня. Обращаем Ваше внимание, что вещества могут быть представлены не по всем классам пожаров.

1. Бензин
2. Алюминий
3. Растительное масло
4. Спиртосодержащая жидкость
5. Бытовой газ
6. Древесина
7. Электроприбор под напряжением
8. Ацетон
9. Пластик

Класс пожара	А	В	С	Д	Е	Ф
Горючее вещество						

Оценочные баллы: максимальный – 18 баллов; фактический - _____ баллов.
 За каждый неправильный ответ баллы вычитаются.

ЗАДАНИЕ 4. Укажите знаком «+» в крайнем левом и крайнем правом столбце, какие из перечисленных характеристик боевых отравляющих веществ относятся к синильной кислоте, а какие к адамситу.

Ответ	Характеристика	Ответ
Синильная кислота	Общеядовитого действия	Адамсит
	Бесцветная жидкость	
	Смертельного действия	
	Почти без запаха	
	Раздражающего действия	
	Кожно-нарывного действия	

Оценочные баллы: максимальный – 10 баллов; фактический - _____ баллов.
 Баллы не начисляются, если отмечены все ячейки. За каждый неправильно отмеченный пример баллы вычитаются.

ЗАДАНИЕ 5. Прочитайте текст. Определите по перечисленным признакам о каком неотложном состоянии идёт речь в тексте.



- Человек не может:
- улыбнуться, один уголок рта опущен;
 - поднять обе руки, одна рука висит;
 - разборчиво произнести свое имя.

Ответ:

Оценочные баллы: максимальный – 2 балла; фактический - _____ баллов.

Ответьте на вопросы, обведя кружочком правильные ответы.

Тестовые задания

№	Тестовые задания	Макс балл	Кол-во набранных баллов
1	2	3	4
Определите все правильные ответы			
1.	В годы Великой Отечественной войны в период с 12 января 1945 г. по 3 февраля 1945 г. проходила: а) Висло-Одерская операция; б) Операция по форсированию Днепра; в) Контрнаступательная операция под Москвой; г) Битва за Кавказ.	2,0	
2.	Двери мусульманских мечетей обращены к: а) югу; б) северу; в) западу; г) востоку.	2,0	
3.	 Изображенный сигнал бедствия означает: а) нужны пища и вода; б) нужен врач; в) все в порядке; г) мы нашли всех людей.	2,0	
4.	Званию капитана в Российской Армии соответствует должность командира: а) бригады; б) роты; в) дивизии; г) взвода.	2,0	
5.	Вши являются переносчиками: а) туляремии; б) малярии; в) дизентерии; г) сыпного тифа.	2,0	
6.	Возле топографического знака, обозначающего брод стоит следующая информация: бр.0,9–50 В–3,4 Что означает число 0,9? а) глубина; б) длина; в) скорость течения; г) грузоподъемность.	2,0	
7.	 Изображенный топографический знак обозначает: а) ямы масштабные; б) обрывы масштабные; в) карниз скальный; г) курган.	2,0	
8.	Прицельная дальность стрельбы у РПК-74 составляет (в	2,0	

	метрах): а) 800; б) 500; в) 1000; г) 2000.			
9.	Знак дорожного движения «Движение без остановки запрещено» относится к группе: а) предупреждающие знаки; б) знаки приоритета; в) запрещающие знаки; г) предписывающие знаки.	2,0		
10.	Каменные стены домов ослабляют дозу _____ излучения в 10 раз. а) альфа; б) бета; в) гамма; г) внутреннего.	2,0		
11.	Перестроение отделения из колонны в развёрнутый строй производится по команде: а) отделение, в колонну – становись; б) отделение, в колонну по одному (по два) – становись; в) отделение, напра-ВО; г) отделение, нале-ВО.	2,0		
12.	Корабельное воинское звание «контр-адмирал» соответствует войсковому воинскому званию: а) генерал-майор; б) генерал-лейтенант; в) генерал-полковник; г) генерал армии.	2,0		
13.	Крымская (Ялтинская) конференция в годы Великой Отечественной войны проходила: а) с 28 ноября по 1 декабря 1943 г.; б) с 4 февраля по 11 февраля 1945 г.; в) с 17 июля по 2 августа 1945 г.; г) с 14 февраля по 20 февраля 1944 г.	2,0		
14.	Неспецифические факторы защиты организма не связаны с: а) наличием бактерицидных веществ в биологических жидкостях организма; б) функционированием нормальной микрофлоры слизистых; в) чистой неповрежденной кожей; г) введением иммунных сывороток.	2,0		
15.	Возбудителем скарлатины являются: а) стрептококки; б) грибы; в) вирусы; г) менингококки.	2,0		

16.	Противогаз ГП-9 в отличие от ГП-7 в обычной комплектации защитит от: а) хлора; б) аммиака; в) сероводорода; г) паров ртути; д) угарного газа.	4,0		
17.	К веществам нейротропного действия относятся: а) сероуглерод; б) хлор; в) синильная кислота; г) угарный газ; д) мышьяк; е) диоксин.	4,0		
18.	Укажите даты – Дни воинской славы – установленные в честь побед Российской армии и флота над турками: а) 01 декабря; б) 24 декабря; в) 10 июля; г) 09 августа; д) 23 августа; е) 11 сентября.	6,0		
19.	К неотложным работам в зоне ЧС относятся: а) санитарная очистка территории; б) поиск и извлечение пораженных из поврежденных и горящих зданий; в) восстановление линий связи; г) первоочередное жизнеобеспечение пострадавшего населения; д) санитарная обработка людей; е) оказание первой помощи пострадавшим.	6,0		
20.	К принудительным мерам воспитательного воздействия на несовершеннолетних относятся: а) лишение права заниматься определенной деятельностью; б) возложение обязанности загладить причиненный вред; в) штраф; г) ограничение досуга и установление особых требований к поведению; д) исправительные работы; е) предупреждение.	6,0		
ИТОГО:		56		