

**Муниципальный этап всероссийской олимпиады школьников
по «ОБЖ»
2019-2020 учебный год**

**Задания
теоретического тура муниципального этапа всероссийской олимпиады
по ОБЖ
старшая возрастная группа (10 - 11 классы)**

Задание 1. Вы находитесь на экзамене. Внезапно ваша одноклассница потеряла сознание, у нее бледное лицо.

Выберите из предложенных действий необходимые для оказания первой помощи в данном случае, поставьте их в правильной последовательности и впишите их в схему.

1. Уточнить обстоятельства, предшествующие потере сознания.
2. Убедиться в наличии пульса на сонной артерии и реакции зрачка на свет.
3. Поднести к носу ватку с нашатырным спиртом.
4. Приступить к сердечно-легочной реанимации.
5. Расстегнуть воротник одежды.
6. Открыть окна.
7. Уложить на спину и подложить под голову сверток из одежды.
8. Согнуть ноги в коленях.
9. Повернуть пострадавшую на бок.
10. Проверить наличие пульса на запястье.

```
graph TD; A[ ] --> B[ ]; B --> C[ ]; C --> D[ ]; D --> E[ ]
```

Задание 2. Сегодня в фокусе внимания экстремистских и террористических организаций оказалась молодёжь. При вовлечении самым активным образом используются деструктивные психотехники.

Перечислите признаки, позволяющие предположить, что в отношении человека ведется деструктивное психологическое воздействие.

Задание 3. Два туриста зимой по-разному преодолели реку, покрытую льдом толщиной 6 см. Первый, спустился на лыжах с крутого берега, подъехал к тому месту, где река делает поворот (там удобнее передвигаться по льду и много снега) и, отталкиваясь палками, переправился на противоположный берег. Второй турист, приблизился к замерзшей реке, снял рюкзак с одного плеча, расстегнул лыжные крепления, взял палки в одну руку и тоже переправился на другой берег.

Обоснуйте, кто из туристов поступил правильно при преодолении опасного участка реки на лыжах и почему?

Задание 4. Дни воинской славы России (Дни славы русского оружия) установлены и отмечаются в ознаменование побед российских войск, которые сыграли решающую роль в истории России. Победы в битвах и сражениях неразрывно связаны с именами величайших полководцев нашей Родины. **Укажите все правильные соответствия между именами полководцев и названиями битв и сражений соединив их стрелками.**

Полководцы	Битвы и сражения
А.Г. Орлов	Взятие крепости Измаил
М.И. Кутузов	Чесменское сражение
А.В. Суворов	Сражение у мыса Синоп




П.С. Нахимов

Сражение у мыса Тендра

Ф.Ф. Ушаков

Бородинское сражение

Задание 5. Петличные знаки на военной одежде – знаки различия по функциональному предназначению. Установите соответствие между знаками различия родов войск и их названиями. Впишите в таблицу ответ в виде цифры и буквы. Например 1А..

	Знаки различия		Название родов войск
1		А	Инженерные войска ВС РФ
2		Б	Автомобильные войска ВС РФ
3		В	Войска РХБЗ ВС РФ

4		Г	Войска связи ВС РФ
5		Д	Ракетные войска стратегического назначения

Ответ:

--	--	--	--	--

Максимальное количество баллов за теоретические задания – **70 баллов.**

Тестовые задания

№ п/п	Тестовые задания	Максимальный балл	Кол-во набранных баллов
Отметьте один правильный ответ			
1.	<p>Основным источником энергии для человека являются:</p> <p>А) жиры</p> <p>Б) белки</p> <p>В) витамины</p> <p>Г) углеводы</p>	1	
2.	<p>В соседней квартире происходит драка, слышны крики человека, зовущего на помощь. Как Вы поступите?</p> <p>А) позвоню (постучу) соседям в дверь и попрошу прекратить шуметь, пригрозив вызвать полицию</p> <p>Б) позвоню знакомым или родителям и расскажу о случившемся</p> <p>В) позвоню в полицию и расскажу о случившемся</p> <p>Г) ничего не буду делать</p>	1	
3.	<p>Элемент дороги, предназначенный для движения безрельсовых транспортных средств, называется:</p> <p>А) дорога</p> <p>Б) проезжая часть</p> <p>В) магистраль</p> <p>Г) трасса</p>	1	

4	<p>В случае, если велосипедисту необходимо объехать стоящий у тротуара автомобиль, он должен:</p> <p>А) объехать автомобиль слева, убедившись в безопасности маневра</p> <p>Б) подать рукой сигнал перестроения налево, убедиться в безопасности объезда и только после этого совершить маневр</p> <p>В) подать сигнал и совершить объезд препятствия (сигнал дает велосипедисту преимущество</p> <p>Г) дождаться, когда автомобиль начнет движение</p>	1	
5.	<p>Что образуется при прорыве плотины?</p> <p>А) речной бассейн</p> <p>Б) брешь</p> <p>В) проран</p>	1	
6.	<p>У какого средства защиты органов дыхания лицевая часть выполнена в виде маски:</p> <p>А) ГП-7</p> <p>Б) ПДФ-2</p> <p>В) ГП-5</p> <p>Г) Р-2</p>	1	
7.	<p>Химически опасные объекты строятся:</p> <p>А) на большом расстоянии друг от друга</p> <p>Б) с учетом розы ветров данной местности</p> <p>В) на безопасном расстоянии от рек, водоемов, морского побережья и подземных водоносных слоев</p>	1	

	Г) с наветренной стороны жилых зон		
8.	<p>Как нужно покидать сильно задымленную квартиру?</p> <p>А) перемещаться ползком или низко пригнувшись к полу</p> <p>Б) быстрым шагом или бегом</p> <p>В) двигаться в полный рост, накинув на голову влажную ткань</p> <p>Г) двигаться в полный рост</p>	1	
9.	<p>Чрезвычайное положение на всей территории Российской Федерации или в её отдельных местностях вводится:</p> <p>А) Постановлением Правительства РФ</p> <p>Б) Указом Президента РФ</p> <p>В) Постановлением Верховного Суда РФ</p> <p>Г) Постановлением Государственной Думы РФ</p> <p>Д) Постановлением Совета Федерации РФ</p>	1	
10.	<p>Завладение чужим имуществом путем обмана это:</p> <p>А) кража</p> <p>Б) мошенничество</p> <p>В) грабеж</p>	1	
11.	<p>Создателем Военно-Морского Флота России является:</p> <p>А) Петр I</p> <p>Б) адмирал Ушаков</p> <p>В) адмирал Нахимов</p>	1	

12.	<p>В каком возрасте призываются мужчины на военную службу в Вооруженные Силы РФ?</p> <p>А) от 16 до 18 лет</p> <p>Б) от 18 до 27 лет</p> <p>В) от 18 до 30 лет</p> <p>Г) от 18 до 35 лет</p>	1	
13.	<p>Самым многочисленным видом Вооружённых Сил Российской Федерации является:</p> <p>А) ракетные войска стратегического назначения</p> <p>Б) морская пехота</p> <p>В) воздушно-космические силы</p> <p>Г) сухопутные войска</p>	1	
Отметьте все правильные ответы			
14.	<p>Офицер в звании капитан-лейтенант является начальником для всех:</p> <p>А) мичманов</p> <p>Б) сержантов</p> <p>В) лейтенантов</p> <p>Г) прапорщиков</p> <p>Д) старших матросов</p>	2	
15.	<p>Укажите признаки коматозного состояния:</p> <p>А) наличие реакции зрачка</p> <p>Б) отсутствие реакций на происходящее</p> <p>В) отсутствие реакции зрачка</p> <p>Г) бледный цвет кожных покровов</p> <p>Д) отсутствие пульса на сонной</p>	2	

	артерии		
16.	<p>Первичные средства пожаротушения подразделяются на следующие типы:</p> <p>А) средства пожарной сигнализации</p> <p>Б) пожарный инвентарь</p> <p>В) пожарные машины</p> <p>Г) огнетушители</p>	2	
17.	<p>Пассажирам запрещается:</p> <p>А) отвлекать водителя от управления транспортным средством во время его движения</p> <p>Б) сажать детей на колени</p> <p>В) передвигаться по салону во время движения</p> <p>Г) открывать двери транспортного средства во время его движения</p>	2	
18.	<p>По длительности проведения эвакуация может быть:</p> <p>А) временной</p> <p>Б) постоянной</p> <p>В) среднесрочной</p> <p>Г) долгосрочной</p> <p>Д) короткой</p> <p>Е) продолжительной</p>	3	
19.	<p>Какие действия необходимо выполнить при радиационной аварии?</p> <p>А) включить радиоприемник, телевизор и прослушать сообщение</p> <p>Б) отойти от окон, закрыть окна и двери</p>	3	

	<p>В) не проводить герметизацию помещения</p> <p>Г) приготовить средства защиты органов дыхания</p> <p>Д) провести экстренную йодную профилактику</p> <p>Е) сообщить родственникам о том, что вы находитесь дома</p>		
20.	<p>К личному оружию военнослужащих относятся:</p> <p>А) граната ручная</p> <p>Б) гранатомёт станковый</p> <p>В) карабин</p> <p>Г) лопата малая сапёрная</p> <p>Д) пистолет</p> <p>Е) автомат</p>	3	
ИТОГО:		30	

Максимальная общая оценка результата участника за теоретический тур не должна превышать 100 баллов:

- общий максимальный балл за теоретические задания – **70 баллов**

-общий максимальный балл за тестовые задания – **30 баллов**