

ТЕОРЕТИЧЕСКИЙ ТУР

старшая возрастная группа (10-11 классы)

Код участника				
С	Т	ОБЖ		

Уважаемый участник Олимпиады!

При выполнении заданий теоретического тура Вам предстоит выполнить определенную работу, которую лучше организовать следующим образом:

Выполнение теоретических (письменных) заданий целесообразно организовать следующим образом:

- не спеша, внимательно прочитайте задание и определите, наиболее верный и полный ответ;
- отвечая на теоретический вопрос, обдумайте и сформулируйте конкретный ответ только на поставленный вопрос;
- если Вы отвечаете на задание, связанное с заполнением таблицы или схемы, не старайтесь детализировать информацию, вписывайте только те сведения или данные, которые указаны в вопросе;
- особое внимание обратите на задания, в выполнении которых требуется выразить Ваше мнение с учетом анализа ситуации или поставленной проблемы. Внимательно и вдумчиво определите смысл вопроса и логику ответа (последовательность и точность изложения). Отвечая на вопрос, предлагайте свой вариант решения проблемы, при этом ответ должен быть кратким, но содержать необходимую информацию;
- после выполнения всех предложенных заданий еще раз удостоверьтесь в правильности выбранных Вами ответов и решений.

Выполнение тестовых заданий целесообразно организовать следующим образом:

- не спеша, внимательно прочитайте тестовое задание;
- определите, какой из предложенных вариантов ответа наиболее верный и полный;
- обведите кружком букву, соответствующую выбранному Вами ответу;
- продолжайте, таким образом, работу до завершения выполнения тестовых заданий;
- после выполнения всех предложенных заданий еще раз удостоверьтесь в правильности выбранных Вами ответов;
- если потребуется корректировка выбранного Вами варианта ответа, то неправильный вариант ответа зачеркните крестиком, а новый выбранный ответ обведите кружком.

Предупреждаем Вас, что за отмеченные в тесте несколько ответов или все ответы (в том числе правильный), оценка не производится и результат выполнения задания приравнивается к «0 баллов».

Тестовое задание считается выполненным, если Вы вовремя сдаете его членам жюри. **Максимальная оценка - 150 баллов.**

Желаем вам успеха!

Задание 1.

А) Перечислите, каким образом можно подать сигнал бедствия в безоблачную погоду для привлечения внимания лётчика-спасателя.


- 1) _____;
- 2) _____;
- 3) _____;
- 4) _____;
- 5) _____;
- 6) _____.

Б) Заполните таблицу, вписав переносчиков инфекционных заболеваний человека.

Насекомые-переносчики инфекционных заболеваний	
Инфекционные заболевания	Насекомое переносчик
Энцефалит, туляремия	
Малярия	
Чума	
Дизентерия, конъюнктивит, холера	
Сыпной тиф, возвратный тиф	

В) Заполните таблицу, вписав наименования табельных спасательных средств на воде и на льду

Графическое изображение	Наименование средства
	
	
	



Оценка задания. Максимальная оценка за правильно выполненное задание **27 баллов**.

- за правильный ответ части А начисляется - 12 баллов (по 2 балла за правильный ответ по каждой из шести позиций);

- за правильный ответ части Б начисляется - 10 баллов (по 2 балла за правильный ответ по каждой из пяти позиций);

- за правильный ответ части В начисляется – 5 баллов (по 1 баллу за правильный ответ по каждой из пяти позиций).

Задание 2.

А) Укажите стрелками соответствие между названиями воинских формирований (левый столбец) и уровнем командования (правый столбец).

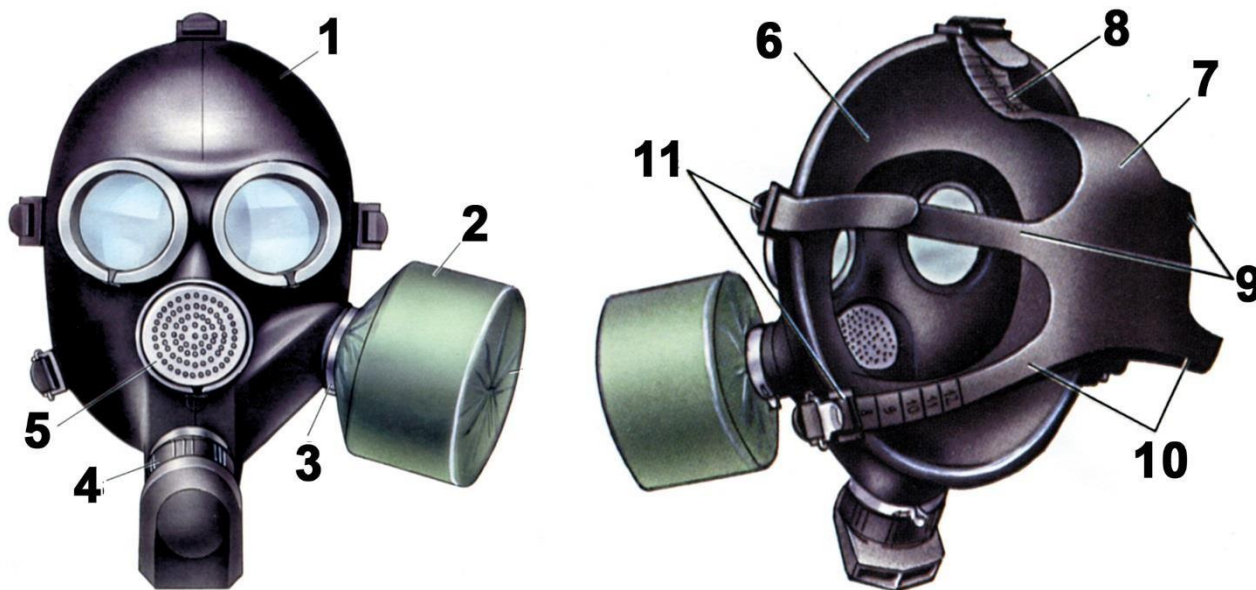
Звено, группа, команда
Полк
Дивизия
Рота
Бригада
Батальон
Армия
Фронт, округ
Отделение
Взвод

Капитан
Майор, подполковник
Ефрейтор
Полковник
Полковник, генерал-майор
Младший сержант
Генерал-майор
Лейтенант
Генерал-лейтенант
Генерал-полковник

Б) Установите соответствие поражающих факторов с природными явлениями:

Скопление рыхлого ледового материала во время ледостава в сужениях и излучинах реки, вызывающее подъём воды на некоторых участках выше её русла.		Паводок
Подъём уровня воды, вызванный воздействием ветра на водную поверхность, происходящий обычно в устьях крупных рек, а также на наветренном берегу больших озёр, водохранилищ и морей.		Затор
Нагромождение льдин во время весеннего ледостава в сужениях и излучинах русла реки, стесняющее течение и вызывающее на некоторых участках выше него подъём уровня воды.		Зажор
Интенсивный периодический и достаточно кратковременный подъём воды в реке, вызываемый сильными дождевыми осадками, а нередко и быстрым таянием снега при зимних оттепелях.		Ветровой нагон

В) Определите тип и марку изображенного на рисунке противогаза. Укажите названия составных частей противогаза, отмеченных цифрами.



Тип противогаза –

Марка противогаза –

1	
2	
3	
4	
5	
6	

Муниципальный этап всероссийской олимпиады школьников по основам безопасности жизнедеятельности
Ханты-Мансийский автономный округ – Югра
2019-2020 учебный год
10-11 классы

7	
8	
9	
10	
11	

Г) Установите соответствие сильно действующих ядовитых веществ со смертельной концентрацией для человека:

Вид СДЯВ	Смертельная концентрация, МГ/Л.
Сероводород	3,5 мг/л в течение 30 мин.
Хлор	7,8 мг/л -5 мин., 1,4 мг/л - 30 мин.
Аммиак	0,83 мг/л -30 мин., 1,1 мг/л -5 мин.
Фосген	6,4 мг/л -30 мин.
Соляная кислота	0,4 мг/л -5 мин., 0,3 мг/л - 30 мин., 0,1 мг/л -60 мин.
Сернистый ангидрид	2,5 мг/л -5 мин., 1,4 мг/л - 30 мин., 0,1 мг/л -60 мин.

Д) Соотнесите категории пригодности к военной службе.

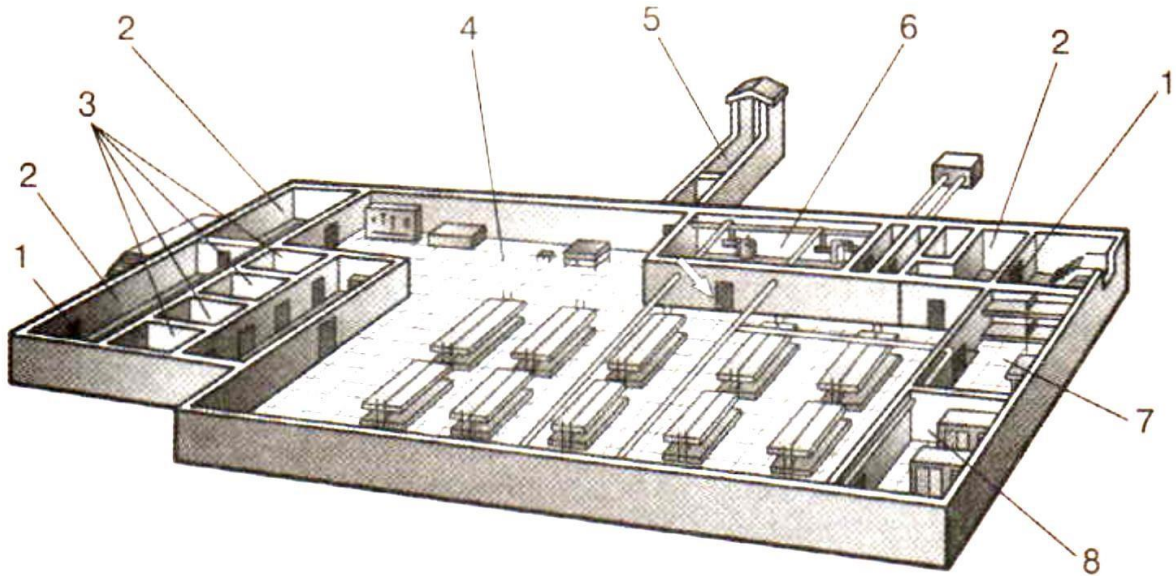
А	Годен к военной службе с незначительными ограничениями.
Б	Не годен к военной службе.
В	Ограниченно годен к военной службе.
Г	Годен к военной службе.
Д	Временно не годен к военной службе.

Оценка задания. Максимальная оценка за правильно выполненное задание **61 балл.**

- за правильный ответ части А начисляется - 20 баллов (по 2 балла за правильный ответ по каждой из десяти позиций);
- за правильный ответ части Б начисляется - 8 баллов (по 2 балла за правильный ответ по каждой из четырех позиций);
- за правильный ответ части В начисляется - 11 баллов (по 1 баллу за правильный ответ по каждой из одиннадцати позиций);
- за правильный ответ части Г начисляется - 12 баллов (по 2 балла за правильный ответ по каждой из шести позиций);
- за правильный ответ части Д начисляется - 10 баллов (по 2 балла за правильный ответ по каждой из пяти позиций).

Задание 3.

А) На рисунке изображен эскиз защитного сооружения ГО. Назовите тип защитного сооружения и перечислите его элементы, отмеченные цифрами.



Тип защитного сооружения -

1	
2	
3	
4	
5	
6	
7	
8	

Б) Опишите основные источники пищи в условиях выживания.

1. _____;
2. _____;
3. _____.

В) Опишите обязанности граждан по обеспечению воинского учета.

1. _____;
2. _____;
3. _____;
4. _____;
5. _____;
6. _____;
7. _____.

Г) Опишите первую медицинскую помощь при острой сердечной недостаточности.

1. _____;
2. _____;
3. _____;
4. _____;
5. _____;

Оценка задания. Максимальная оценка за правильно выполненное задание **30 баллов**.

- за правильный ответ части А начисляется – 8 баллов (по 1 баллу за правильный ответ по каждой из восьми позиций);

- за правильный ответ части Б начисляется - 3 балла (по 1 баллу за правильный ответ по каждой из трех позиций);

- за правильный ответ части В начисляется - 14 баллов (по 2 балла за правильный ответ по каждой из семи позиций);

- за правильный ответ части Г начисляется – 5 баллов (по 1 баллу за правильный ответ по каждой из пяти позиций).

Задание 4

№ п/п	Тестовые задания	Макс. балл	Кол-во баллов
	2	3	4
Определите один правильный ответ			
1	При организации однодневного турпохода рекомендуется выбирать до конечной точки маршрута расстояние не более: А) 10 км в одну сторону; Б) 15 км в одну сторону; В) 20 км в одну сторону; Г) 25 км в одну сторону.	1	
2	В каком году была официально признана эмблема «Красный крест на белом фоне»: А) 1812; Б) 1863; В) 1876; Г) 1914.	1	
3	Завладение чужим имуществом путем обмана или подлога называется: А) кража; Б) мошенничество; В) грабеж; Г) вымогательство.	1	
4	Определите химическое вещество, имеющее следующую характеристику: Бесцветный газ, в двое легче воздуха, с резким удушающим запахом; при выбросе в атмосферу дымит; конденсируется в жидкость при температуре -34°С; растворим в воде, спирте и эфире.	1	

Муниципальный этап всероссийской олимпиады школьников по основам безопасности жизнедеятельности
Ханты-Мансийский автономный округ – Югра
2019-2020 учебный год
10-11 классы

	<p>А) аммиак; Б) хлор; В) фосген; Г) сероводород.</p>		
Определите все правильные ответы			
5	<p>Право на отсрочку от призыва на военную службу имеют граждане: А) обучающиеся по очной форме обучения; Б) граждане, получающие второе высшее образование; В) обучающиеся в магистратуре; Г) обучающиеся в аспирантуре; Д) граждане, достигшие 27 летнего возраста Е) граждане, достигшие 25 летнего возраста</p>	3	
6	<p>Определите совокупность гигиенических правил, выполнение которых способствует сохранению и укреплению здоровья человека: А) разумное сочетание умственного и физического труда; Б) занятие профессиональным спортом; В) рациональное питание; Г) полноценный сон; Д) чередование труда и активного отдыха; Е) занятия физической культурой и закаливание.</p>	5	
7	<p>Уважительные причины неявки гражданина по вызову военного комиссариата: А) заболевания или увечья гражданина, связанные с потерей трудоспособности; Б) тяжелое состояние здоровья или смерть близкого родственника (отца, матери, родного брата, родной сестры) или лица, на воспитании которого находится гражданин; В) получение заочного образования в университете; Г) препятствие стихийного характера или иные, не зависящие от воли гражданина, лишившие его возможности явиться в указанное место и срок; Д) любое обстоятельство, признанное судом уважительной причиной.</p>	4	
8	<p>Укажите признаки и симптомы сотрясения головного мозга. А) частичная или полная потеря сознания; Б) нечеткость зрения; В) частое мочеиспускание; Г) отсутствие координации движений; Д) неодинаковые зрачки;</p>	4	
9	<p>Управлять квадроциклом, согласно ПДД, можно: А) с 16 лет; Б) имея права категории А, так как квадроцикл приравнен к мотоциклу; В) с 18 лет; Г) имея удостоверение тракториста-машиниста, так как квадроцикл приравнен к самоходной машине; Д) имея водительское удостоверение любой категории.</p>	2	

Муниципальный этап всероссийской олимпиады школьников по основам безопасности жизнедеятельности
Ханты-Мансийский автономный округ – Югра
2019-2020 учебный год
10-11 классы

10	К запрещающим дорожным знакам относятся: А) таможня; Б) опасность; В) железнодорожный переезд без шлагбаума; Г) уступите дорогу.	2	
11	В состав танкового экипажа танка Т-80 входят: А) водитель; Б) заряжающий; В) наводчик; Г) стрелок-радист; Д) механик-водитель.	2	
12	По длительности проведения эвакуация может быть: А) временной; Б) постоянной; В) среднесрочной; Г) долгосрочной; Д) короткой; Е) продолжительной.	3	
13	К корабельной (палубной) авиации ВМФ относятся следующие типы самолетов и вертолетов: А) Су-33; Б) Ту-22 МЗ; В) Ил-38; Г) МиГ-29 К; Д) Ка-27.	3	
Итого:		32	