

Задания
муниципального этапа
Всероссийской олимпиады школьников Республики Крым
по «Основам безопасности жизнедеятельности»
2019—2020 учебный год
Теоретический тур
9 класс
Время выполнения — 90 минут
Максимальная оценка – 150 баллов

ВСЕРОССИЙСКАЯ ОЛИМПИАДА ШКОЛЬНИКОВ ПО ОБЖ
МУНИЦИПАЛЬНЫЙ ЭТАП
2019-2020 УЧЕБНЫЙ ГОД
9 КЛАСС

Уважаемый участник Олимпиады!

Вам предстоит выполнить теоретические (письменные) и тестовые задания.

Выполнение теоретических (письменных) заданий целесообразно организовать следующим образом:

- не спеша, внимательно прочитайте задание и определите, наиболее верный и полный ответ;
- отвечая на теоретический вопрос, обдумайте и сформулируйте конкретный ответ только на поставленный вопрос;
- если Вы отвечаете на задание, связанное с заполнением таблицы или схемы, не старайтесь детализировать информацию, вписывайте только те сведения или данные, которые указаны в вопросе;
- особое внимание обратите на задания, в выполнении которых требуется выразить Ваше мнение с учетом анализа ситуации или поставленной проблемы. Внимательно и вдумчиво определите смысл вопроса и логику ответа (последовательность и точность изложения). Отвечая на вопрос, предлагайте свой вариант решения проблемы, при этом ответ должен быть кратким, но содержать необходимую информацию;

– после выполнения всех предложенных заданий еще раз удостоверьтесь в правильности выбранных Вами ответов и решений.

Выполнение тестовых заданий целесообразно организовать следующим образом:

- не спеша, внимательно прочитайте тестовое задание;
- определите, какой из предложенных вариантов ответа наиболее верный и полный;
- обведите кружком букву, соответствующую выбранному Вами ответу;
- продолжайте таким образом работу до завершения выполнения тестовых заданий;
- после выполнения всех предложенных заданий еще раз удостоверьтесь в правильности выбранных Вами ответов;
- если потребуется корректировка выбранного Вами варианта ответа, то неправильный вариант ответа зачеркните крестиком, а новый выбранный ответ обведите кружком.

Предупреждаем Вас, что:

- при оценке тестовых заданий, где необходимо определить один *правильный ответ*, 0 баллов выставляется как за неверный ответ, а также, если участником отмечены несколько ответов (в том числе правильный), или все ответы;
- при оценке тестовых заданий, где необходимо определить все *правильные ответы*, 0 баллов выставляется, если участником отмечено большее количество ответов, чем предусмотрено в задании (в том числе правильные ответы) или все ответы.

Задание теоретического тура считается выполненным, если Вы вовремя сдаете его членам жюри. **Максимальная оценка - 150 баллов.**

ЗАДАНИЕ 1. Из перечня имущества для лыжного похода выпишите отдельно личное, групповое и специальное снаряжение: анорак (штормовой костюм), веревки в бухтах, компас, лыжи, лыжные ботинки, «манюня» (запасная лыжа), «обвязка» (страховочная система), палатка, печка-буржуйка, рюкзак, спальник, топор (мачете).

Личное	Групповое	Специальное

Оценочные баллы: максимальный – 12 баллов; фактический – _____ баллов









Подписи членов жюри _____

ЗАДАНИЕ 2. Справедливо ли утверждение, что человек, являющийся спортсменом (профессионалом или любителем), имеет более высокий уровень здоровья, чем человек, систематически занимающийся физической культурой? Ответ обоснуйте.

Оценочные баллы: максимальный – 20 баллов; фактический – _____ баллов

Подписи членов жюри _____

ЗАДАНИЕ 3. Установите соответствие дорожного знака и группы, к которой он принадлежит, вписав ответ в таблицу.

	Дорожный знак
1.	
2.	
3.	
4.	
5.	
6.	
7.	
8.	

	Группа знаков
А	Знаки приоритета
Б	Знаки особых предписаний
В	Информационные знаки
Г	Знаки сервиса
Д	Предупреждающие знаки
Е	Знаки дополнительной информации
Ж	Запрещающие знаки
З	Предписывающие знаки

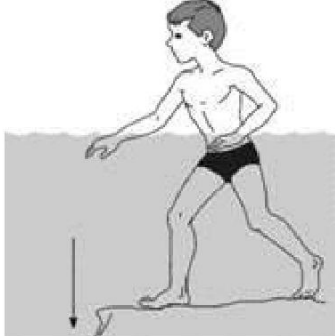
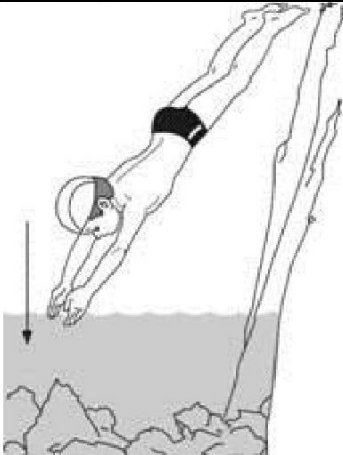
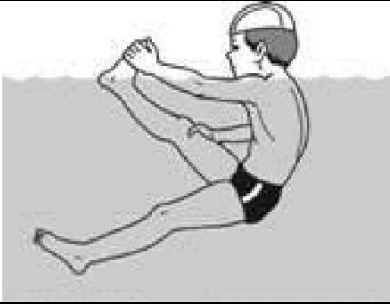

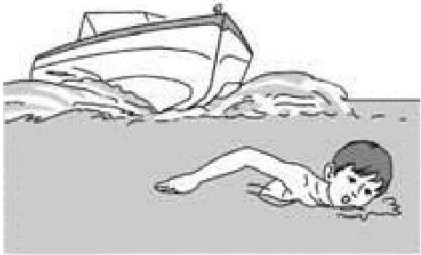
Ответ:


1 -	2 -	3 -	4 -	5 -	6 -	7 -	8 -
-----	-----	-----	-----	-----	-----	-----	-----

Оценочные баллы: максимальный – 40 баллов; фактический – _____ баллов

Подписи членов жюри _____

ЗАДАНИЕ 4. Заполните таблицу, перечислив основные причины несчастных случаев на воде во время купания в открытых водоемах.

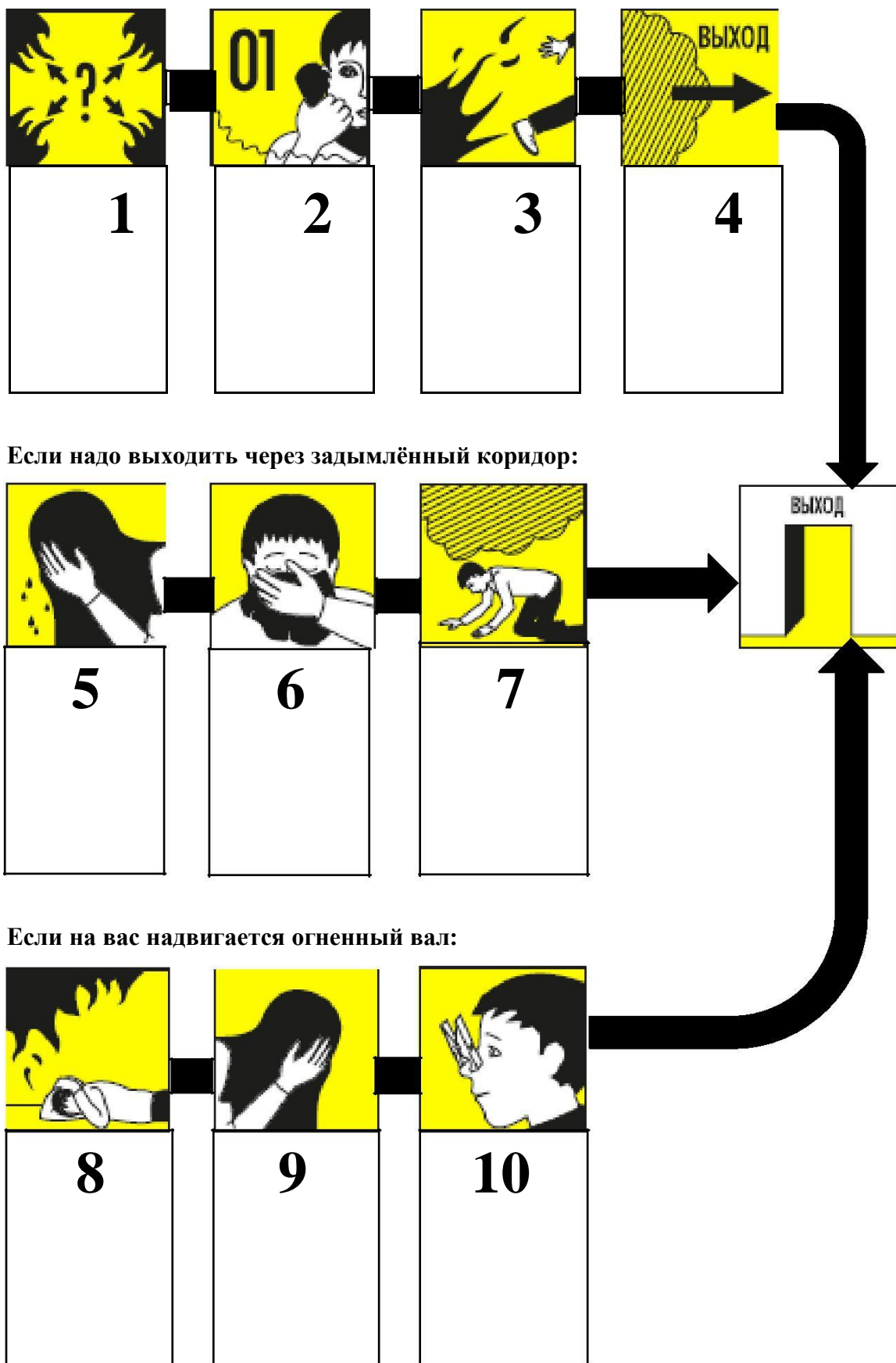
Графическое изображение	Причина несчастного случая
	
	
	
	
	



Оценочные баллы: максимальный – **40 баллов**; фактический – _____ баллов

Подписи членов жюри _____

ЗАДАНИЕ 5. Заполните схему действий при пожаре в здании.



1 _____

2 _____

3 _____

4 _____

5 _____

6 _____

7 _____

8 _____

9 _____

10 _____

Оценочные баллы: максимальный – 10 баллов; фактический – _____ баллов

Подписи членов жюри _____

Задание 6. Выполните тестовые задания

№ п/п	Тестовые задания	Макс. балл	Кол-во набранных баллов
<i>Определите один правильный ответ</i>			
1.	<p>Лучше всего для приготовления пищи и освещения лагеря подходит следующий вид костра:</p> <p>а) сигнальный; б) пламенный; в) жаровой; г) простейший очаг.</p>	1	
2.	<p>Максимальная скорость ветра до 200 м/с (720 км/ч) достигается во время:</p> <p>а) бури; б) смерча; в) урагана; г) шторма; д) тропического циклона.</p>	1	
3.	<p>Пешеход, при отсутствии пешеходного перехода или перекрестка на участке без разделительной полосы и ограждений должен переходить дорогу:</p> <p>а) по диагонали в правую сторону от края проезжей части; б) по наиболее удобному маршруту от края проезжей части; в) по диагонали в левую сторону от края проезжей части; г) под прямым углом к краю проезжей части.</p>	1	
4.	<p>Если тонущий захватил руки спасателя за запястья, то освободиться можно:</p> <p>а) захватив локти тонущего, послать их вверх и быстро опуститься под воду; б) захватив верхнюю руку тонущего одной рукой за запястье, а другой за локоть, поднять руку потерпевшего и пронести ее через свою (спасателя) голову, одновременно опускаясь на глубину; в) за счет рывка внутрь – в сторону больших пальцев потерпевшего или, упершись согнутыми ногами в грудь, оттолкнуться от него; г) резко разводя свои руки в стороны, погрузиться в воду (уйти в глубину).</p>	1	

5.	<p>В случае аварийного приводнения самолета спасательные жилеты приводятся в рабочее состояние:</p> <p>а) после покидания салона самолета;</p> <p>б) после соприкосновения самолета с поверхностью воды;</p> <p>в) до соприкосновения самолета с поверхностью воды.</p>	1	
6.	<p>Переносчиком желтой лихорадки являются:</p> <p>а) клещи;</p> <p>б) блохи;</p> <p>в) комары;</p> <p>г) мухи.</p>	1	
7.	<p>К инфекции дыхательных путей относится:</p> <p>а) чума;</p> <p>б) столбняк;</p> <p>в) дизентерия;</p> <p>г) дифтерия.</p>	1	
8.	<p>Является ли велосипедист водителем транспортного средства?</p> <p>а) да;</p> <p>б) нет;</p> <p>в) только при преследовании по краю проезжей части;</p> <p>г) только при следовании по автомагистрали.</p>	1	
9.	<p>Кровоточивость десен, выпадение зубов, могут служить проявлением дефицита витамина:</p> <p>а) А;</p> <p>б) В;</p> <p>в) С;</p> <p>г) D.</p>	1	
10.	<p>Массовое поражение картофеля заболеванием «фитофтора» в личных и общественных хозяйствах определённого региона страны будет называться термином:</p> <p>а) эпидемия;</p> <p>б) эпизоотия;</p> <p>в) панфитотия (панфития);</p> <p>г) эпифитотия.</p>	1	

11.	С помощью органов чувств нельзя обнаружить вещества: а) химические; б) радиоактивные; в) бактериальные; г) физические.	1	
<i>Определите все правильные ответы</i>			
12.	Порядок движения по маршруту рассчитывают по: а) количеству светлого времени суток; б) средней скорости движения; в) расстоянию до конечной точки; г) длине пары шагов; д) площади конечной точки.	1	
13.	Пострадавшего следует транспортировать своими силами в том случае, если: а) нет надежды на быстрое прибытие медицинской помощи; б) нужно немедленно удалить из опасных для жизни условий; в) имеются обширные травмы; г) отсутствует сознание; д) имеется опасное кровотечение.	1	
14.	В водном туристском походе спасательные круги должны быть надуты и уложены: а) в лодке в носовой части поверх багажа; б) в лодке вдоль бортов изнутри; в) в байдарке на корме в ящиках; г) в байдарке на носовой палубе или за спинами гребцов.	1	
15.	К механическим транспортным средствам относятся: а) автомобили; б) прицепы; в) мопеды; г) велосипеды; д) автобусы; е) троллейбусы.	1	

16.	<p>К кишечным инфекциям относят:</p> <p>а) чуму;</p> <p>б) дифтерию;</p> <p>в) дизентерию;</p> <p>г) полиомиелит;</p> <p>д) корь;</p> <p>е) холеру.</p>	2	
17.	<p>Вторичными факторами поражения при пожарах являются:</p> <p>а) взрывы;</p> <p>б) потеря видимости вследствие задымления;</p> <p>в) обрушение элементов строительных конструкций;</p> <p>г) повышение концентрации углекислого газа;</p> <p>д) недостаток кислорода.</p>	2	
18.	<p>Согласно новой редакции правил дорожного движения российской федерации, к пешеходам приравниваются лица:</p> <p>а) передвигающиеся в инвалидных колясках без двигателя;</p> <p>б) передвигающиеся в инвалидных колясках с двигателем;</p> <p>в) ведущие велосипед, мопед;</p> <p>г) использующие для передвижения самокат;</p> <p>д) использующие для передвижения квадрацикл.</p>	3	
19.	<p>При пользовании пассажирским лифтом с автоматическим приводом дверей запрещается:</p> <p>а) пользоваться лифтом детям дошкольного возраста без сопровождения взрослых;</p> <p>б) при перевозке ребенка в коляске: брать его на руки;</p> <p>в) курить в кабине лифта, перевозить взрывоопасные, легковоспламеняющиеся и ядовитые грузы;</p> <p>г) при поездке взрослых с детьми: первыми в кабину лифта входить взрослым;</p> <p>д) перегружать лифт.</p>	3	

20.	Основными поражающими факторами цунами являются: а) наводнение; б) разряды статистического электричества; в) ударное воздействие волны; г) вихревые вращающиеся водяные потоки; д) размывание.	3	
	Количество баллов	<i>Макс.28</i>	