

**Олимпиадные задания для муниципального этапа
Всероссийской олимпиады школьников по ОБЖ
в 2019/2020 учебном году**

**Теоретический тур
Письменные задания для 9 классов**

Задание 1. Вставьте в текст пропущенные слова из предложенного списка, а затем запишите получившуюся последовательность цифр выбранных ответов в приведённую ниже таблицу. Вписать в текст задуманное определение.

_____ – преступление или административное правонарушение, представляющие собой _____ (А) деяние (действие, _____ (Б)), влекущее _____ (В) или административную _____ (Г)).

Перечень терминов:

- 1) безответственность;
- 2) деятельность;
- 3) бездействие;
- 4) противоправный;
- 5) ответственность;
- 6) правовой;
- 7) уголовная;
- 8) правильный.

Ответ:

А	Б	В	Г

Задание 2. Вставьте в текст пропущенные слова.

В санитарно-эпидемиологических требованиях к питьевой воде существует следующая формулировка: «Питьевая вода должна быть _____ в эпидемиологическом и радиационном отношении, _____ по химическому составу и должна иметь благоприятные _____ свойства».

Задание 3. Укажите соответствие стрелочками.

зона чрезвычайной ситуации

это обстановка на определенной территории, сложившаяся в результате аварии, опасного природного явления, катастрофы, стихийного или иного бедствия, которые могут повлечь или повлекли за собой человеческие жертвы, ущерб здоровью людей или окружающей среде, значительные материальные потери и нарушение условий жизнедеятельности людей

потенциально опасный объект

это территория, на которой сложилась чрезвычайная ситуация

чрезвычайная ситуация

это объект, на котором расположены здания и сооружения повышенного уровня ответственности, либо объект, на котором возможно одновременное пребывание более пяти тысяч человек

Задание 4. Заполните таблицу.

Основные составляющие здорового образа жизни	Чем важна эта составляющая	Характеристика данной составляющей
Рациональное питание		
Воспитание у себя отрицательного отношения к вредным привычкам		
Личная гигиена		






Задание 5. Егерь, спускаясь с таежной сопки, споткнулся о корень сосны. Падая, он сильно ударился и потерял сознание. Очнувшись и лежа на склоне сопки вниз головой, егерь отчетливо увидел на небе, прямо над собой созвездия Большой и Малой

Медведиц и Полярную звезду. А напротив Полярной звезды, над вершиной сопки ярким пятном светила почти полная растущая Луна, $\frac{3}{4}$ диска которой освещены. До подножия сопки, куда вертолет должен прилететь в полночь, было еще около 1 километра пути по тайге. Часы егеря при падении разбились. Оставалась возможность определить время с помощью Луны. Сможет ли егерь воспользоваться Луной и есть ли шанс у него успеть к месту посадки, если егерь способен преодолеть 1 километр пути по тайге за 1,5 часа?

Ответ:



Задание 6. По представленным рисункам определить способы перемещения пострадавшего (дать пояснения в каких ситуациях возможно применение данного способа).

Изображение	Способы перемещения пострадавшего (пояснения)
-------------	--

**Теоретический тур
Тестовые задания для 9 классов**

№ п.п.	Тестовые задания	Ответы в баллах
Определите один правильный ответ		

1.	 <p>Изображенный дорожный знак имеет следующее смысловое значение:</p> <p>а) место отдыха, где можно послушать любимую радиостанцию; б) означает место, где находится радиостанция; в) участок дороги, на котором осуществляется прием передач радиостанции на частоте, указанной на знаке; г) знак радиосвязи с аварийными службами.</p>	
2.	<p>Место для надавливаний при проведении сердечно-легочной реанимации:</p> <p>а) верхняя половина грудины; б) середина грудной клетки; в) область сердца; г) нижняя часть грудины.</p>	
3.	<p>Состав аптечки первой помощи (автомобильной) включает в себя:</p> <p>а) синтомициновая эмульсия; б) инсулиновый шприц; в) салфетки марлевые медицинские стерильные; г) таблетки от головной боли.</p>	
4.	<p>Какое лекарственное растение можно использовать в качестве дезинфицирующего средства при капиллярном кровотечении?</p> <p>а) корень валерианы, цветы ландыша; б) подорожник, березовый лист; в) листья мать-и-мачехи; г) ягоды бизины.</p>	
5.	 <p>Изображенный знак пожарной безопасности имеет следующее смысловое значение:</p> <p>а) пожарный водоисточник; б) запрещается тушить водой; в) пожарный гидрант; г) запрещается разводить костер.</p>	
6.	<p>Определите по тексту, о каком стихийном бедствии идет речь?</p> <p>Каракумы: «...Вокруг нас свистало, бушевало. Крепко зажмурив глаза и зажав уши, я уткнулся в спину верблюда. Инстинктивно открыл рот, но тут же сжал губы, так как гортань забило песком. Через несколько минут все стихло... Ветер утих. Засияло солнце. Не верилось, что всего несколько минут назад прошел...»</p> <p>а) сель; б) пыльная буря; в) обвал; г) смерч; д) ураган.</p>	
7.	<p>Что такое ноосфера?</p> <p>а) сфера отношений человека и окружающей среды; б) сфера интеллектуальной деятельности человека;</p>	

	<p>в) высшая стадия развития биосферы («сфера ума»), в которой умная человеческая деятельность становится главным фактором развития;</p> <p>г) стадия перехода к окончательному покорению природы человеком.</p>	
8.	<p>На объектах с массовым пребыванием людей (50 и более человек) в дополнение к схематическому плану эвакуации людей при пожаре должны быть разработаны...</p> <p>а) список с указанием очередности эвакуации из учебных классов и кабинетов;</p> <p>б) памятка учащимся по действиям при возникновении пожара;</p> <p>в) инструкция, определяющая действия персонала по обеспечению безопасной и быстрой эвакуации людей;</p> <p>г) таблички с указанием времени на эвакуацию.</p>	
9.	<p>Какое требование к выбору места лагеря при ожидании спасателей не считается первоочередным?</p> <p>а) рядом должна быть поляна для посадки вертолета;</p> <p>б) в лесу не располагаться среди сухостоя;</p> <p>в) рядом должен быть источник воды;</p> <p>г) в горах не располагаться под угрожающим склоном.</p>	
10.	<p>Что называется виктимным поведением?</p> <p>а) поведение, граничащее с хулиганскими действиями;</p> <p>б) неверие в свои силы, избегание конфликтов, сильное их переживание;</p> <p>в) поведение потенциальной жертвы, провоцирующее преступника;</p> <p>г) поведение человека, который совершает против вас противоправные действия.</p>	
11.	<p>При отравлении каким химически опасным веществом через 8-24 часа появляются головная боль, слабость, болезненность десен и глотания, высокая температура, боль в животе, в тяжелых случаях дрожание рук, языка и век, характерный признак – сине-черная кайма на деснах?</p> <p>а) ртуть;</p> <p>б) хлор;</p> <p>в) сероводород;</p> <p>г) аммиак.</p>	
12.	<p>Статья 1 Федерального закона «О воинской обязанности и военной службе» предусматривает (найдите ошибку):</p> <p>а) воинский отчет;</p> <p>б) обязательную подготовку к военной службе;</p> <p>в) призыв на военную службу;</p> <p>г) прохождение военной службы по призыву;</p> <p>д) пребывание в запасе;</p> <p>е) призыв на военные сборы и прохождение военных сборов в период пребывания в запасе.</p>	
Определите все правильные ответы		
13.	<p>Определите основные признаки истероидной реакции (истерики):</p> <p>а) чрезмерное возбуждение;</p> <p>б) множество движений, театральные позы;</p> <p>в) наблюдается ощущение подавленности;</p> <p>г) эмоционально насыщенная, быстрая речь;</p> <p>д) крики, рыдания.</p>	
14.	<p>Существуют требования к туристическому снаряжению. По каким критериям отбраковывают каски?</p> <p>а) поломка внутренней подвески/амортизирующего вкладыша;</p> <p>б) разрыв/повреждение подбородочного ремешка;</p> <p>в) трещины, деформация каски;</p>	

	<p>г) поломка либо некорректное функционирование системы регулировки размера;</p> <p>д) деформация либо поломка застёжки.</p>	
15.	<p>Среди перечисленных ниже задач выберите те, которые возложены на гражданскую оборону:</p> <p>а) предоставление населению убежищ и средств индивидуальной защиты;</p> <p>б) проведение мероприятий по световой маскировке и другим видам маскировки;</p> <p>в) защита населения от вооружённого нападения;</p> <p>г) проведение аварийно-спасательных работ в случае возникновения опасности для населения;</p> <p>д) первоочередное обеспечение населения, пострадавшего при ведении военных действий или вследствие этих действий, в том числе медицинским обслуживанием, включая оказание первой помощи, срочное предоставление жилья и принятие других необходимых мер;</p> <p>е) защита важных административно-промышленных центров и районов страны от ядерного нападения;</p> <p>ж) проведение мероприятий химзащиты в воинских частях;</p> <p>з) разработка и осуществление мер, направленных на сохранение объектов, существенно необходимых для устойчивого функционирования экономики и выживания населения в военное время.</p>	
16.	<p>Какие из стихийных бедствий относятся к ЧС геологического характера:</p> <p>а) оползни;</p> <p>б) заторы;</p> <p>в) бури;</p> <p>г) извержения вулканов;</p> <p>д) снежные лавины.</p>	
17.	<p>Назовите группы СИЗ организма человека по характеру их воздействия:</p> <p>а) средства защиты кожи;</p> <p>б) средства защиты слизистых оболочек;</p> <p>в) средства защиты органов дыхания;</p> <p>г) химические средства защиты;</p> <p>д) медицинские средства защиты.</p>	
18.	<p>Какие вы можете выделить виды иммунитета:</p> <p>а) повседневный;</p> <p>б) приобретенный;</p> <p>в) иммунитет крови;</p> <p>г) врожденный.</p>	
19.	<p>Вещества, обладающие удушающим действием, способны вызывать токсический отек легких и нарушить энергетический обмен. Из нижеприведенных веществ выберите те, которые относятся к АХОВ удушающего и общедовитого действия:</p> <p>а) азотная кислота;</p> <p>б) мышьяк;</p> <p>в) сероводород;</p> <p>г) сероуглерод.</p>	
20.	<p>Определите пути проникновения радиоактивных веществ в организм человека при внутреннем облучении?</p> <p>а) через одежду и кожные покровы;</p> <p>б) в результате прохождения радиоактивного облака;</p> <p>в) в результате потребления загрязненных продуктов питания;</p> <p>г) в результате вдыхания радиоактивной пыли и аэрозолей;</p> <p>д) в результате радиоактивного загрязнения поверхности земли, зданий и сооружений;</p>	

	е) в результате потребления загрязненной воды.	
--	--	--