

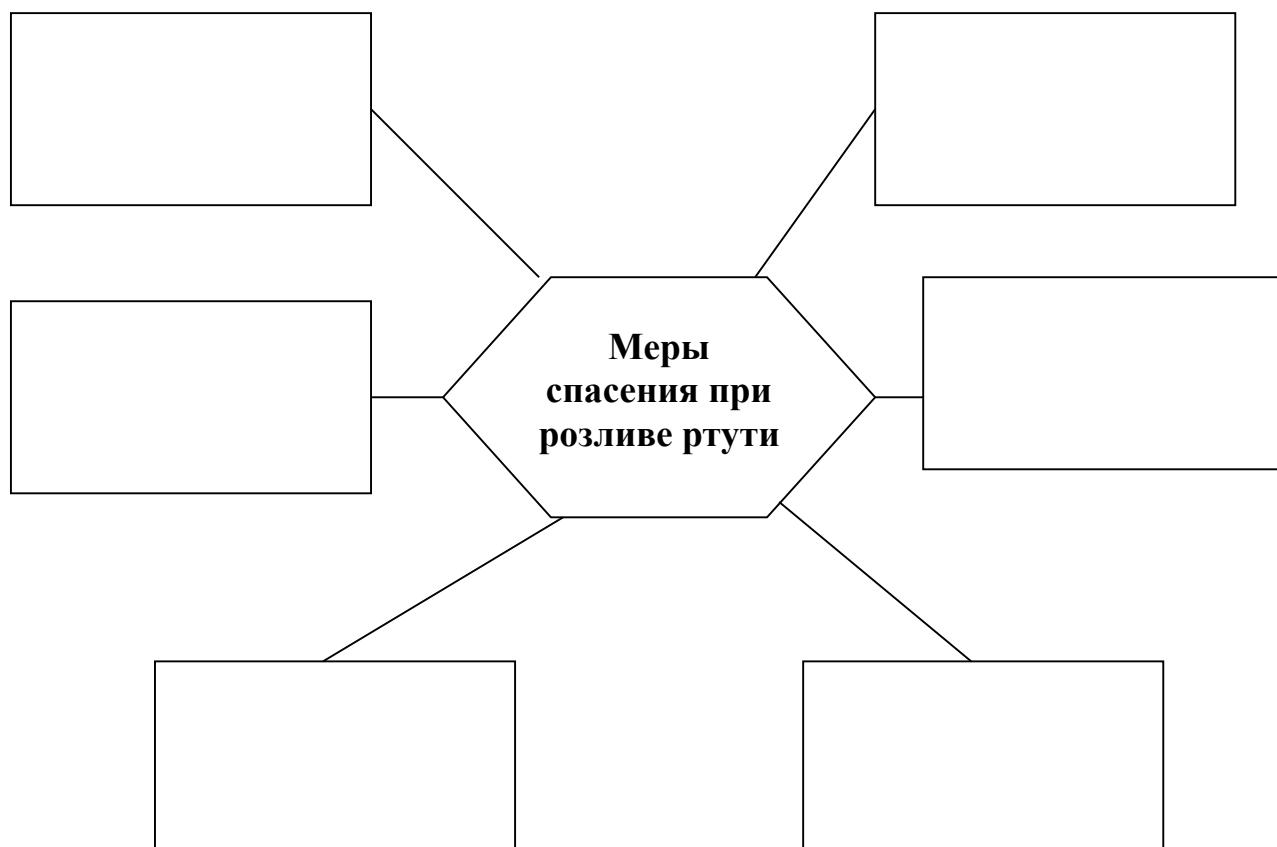
**Муниципальный этап всероссийской олимпиады школьников  
по Основам безопасности жизнедеятельности (ОБЖ)  
2020 г.**

**9 класс**

**Задание 1. Заполните таблицу, описав кодировку огнетушителя.**

<b>Огнетушитель</b>	<b>Описание</b>
<i>ОХП</i>	
ОВ(к)-2	
ОВП(н)-3	
ОП(з)-5	
ОУ-3	
ОХ-2	
ОВЭ-5	


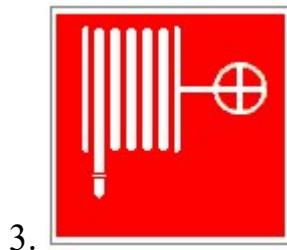

**Задание 2. Запишите, какие меры стоит предпринять человеку, если он пролил ртуть или разбил ртутьсодержащий прибор?**



**Задание 3. Составьте фразу из приведенных фрагментов, поясните, что она означает, и запишите её полностью.**

- а) ...требованиям представителей властей, а равно к насилию над гражданами ...;
- б) ... органов власти, сопровождаемые насилием, погромами, поджогами, ...;
- в) ... действия, направленные на нарушение общественного порядка и ...;
- г) ... уничтожением имущества, оказанием вооружённого сопротивления ...;
- д) ... применением холодного и огнестрельного оружия, взрывчатых веществ, ...;
- е) ...представителям властей, призывами к активному неподчинению законным ...;
- ж) ... общественной безопасности, затрудняющие нормальное функционирование ...

**Задание 4. Дайте правильное название предложенным эвакуационным знакам или объясните, что они означают.**



**Задание 5. По определениям опасных природных явлений, данных в правой колонке таблицы, в левой колонке, впишите вид опасного природного явления.**

<b>Вид опасного явления</b>	<b>Описание опасного явления</b>
	Наводнения, вызванные большим сопротивлением водному потоку, возникающим при скоплении ледового материала в сужениях или излучинах реки во время ледостава
	Горный поток, состоящий из смеси воды и рыхлообломочной горной породы (грязи, снега, камней).
	Отрыв и катастрофическое падение больших масс горных пород, их опрокидывание, дробление и скатывание на крутых и обрывистых склонах.
	Сильный маломасштабный атмосферный вихрь, в котором воздух вращается со скоростью до 100 м/с, обладающий большой разрушительной силой.
	Прибрежные тектонические и вулканические землетрясения, сопровождающиеся сдвигом вверх и вниз протяженных участков морского дна.

**ЗАДАНИЕ 6. В январе месяце, две заблудившихся в лесу девушки Анастасия и Евдокия были обнаружены вблизи п.г.т. Большеречье. Проанализируйте признаки и определите, какие виды поражений получены каждой пострадавшей.**

<b>Анастасия</b>		<b>Поражение</b>	<b>Евдокия</b>		<b>Поражение</b>
Бред, галлюцинации		<b>Переохлаждение</b>	Бледная и твёрдая кожа		<b>Обморожение</b>
Низкая температура тела			Глухой звук при постукивании пальцами		
Озноб, мышечная дрожь			Отсутствует пульс на лодыжках		
Посинение губ			Потеря чувствительности ног		
<b>Правила оказания первой помощи Анастасии</b>			<b>Правила оказания первой помощи Евдокии</b>		
<b>1</b>	Доставить в тёплое помещение		<b>1</b>	Доставить пострадавшую в прохладное помещение	
<b>2</b>	Снять одежду		<b>2</b>	Снять с её обмороженных конечностей обувь и одежду	
<b>3</b>	Поместить пострадавшую в ванну с температурой воды 35 – 40 <sup>0</sup> С или обложить большим количеством грелок		<b>3</b>	Немедленно укрыть обмороженные места толстым слоем одеял или одежды, чтобы воздух помещения не грел кожу	
<b>4</b>	Надеть тёплую сухую одежду и накрыть одеялом		<b>4</b>	Предложить тёплое питьё	
<b>5</b>	Укрыть пострадавшую		<b>5</b>	Дать обезболивающее	
<b>6</b>	Предложить тёплое питьё с большим содержанием сахара		<b>6</b>	Вызвать врача	
<b>7</b>	Вызвать врача		<b>7</b>		

**Задание 7. Впишите термин соответствующий нижеприведённому определению.**

1. \_\_\_\_\_ – механическое повреждение мягких тканей без видимого нарушения целостности кожи.
  
2. \_\_\_\_\_ – индивидуальная система поведения человека, обеспечивающая ему физическое, духовное и социальное благополучие в реальной окружающей среде, а также снижение отрицательного влияния на жизнь и здоровье последствий различных опасных и чрезвычайных ситуаций.
  
3. \_\_\_\_\_ – заболевание со стойким повышением артериального давления.
  
4. \_\_\_\_\_ – повреждение, под которым понимают нарушение анатомической целостности или физиологических функций органов и тканей человека, возникшее в результате внешнего воздействия.
  
5. \_\_\_\_\_ – заболевание, которое возникает в результате употребления психотропных веществ, вызывающих в малых дозах эйфорию, а в больших дозах одурманивание.
  
6. \_\_\_\_\_ – максимальное содержание загрязняющего вещества в компонентах окружающей среды, при постоянном контакте с которым в течение длительного времени не возникает негативных последствий в организме человека или другого рецептора.

## 8. Тестовые задания

В вопросах с 1 по 20 включительно, только один правильный ответ, за который начисляется 1 балл. В вопросах с 21 по 25 необходимо выбрать несколько правильных ответов. В бланке заданий обведите кружком букву выбранного варианта ответа, если в дальнейшем потребуются корректировка выбранного варианта ответа, то неправильный вариант ответа зачеркивается, а новый выбранный ответ обводится кружком.

№	Тестовые задания	Кол-во набранных баллов
<b>Определите один правильный ответ</b>		
1	<b>Что является основным естественным источником радиации:</b> а) уран-238; б) радон; в) космическое излучение; г) Солнце.	
2	<b>Состояние временного снижения работоспособности человека, это:</b> а) физическая культура; б) сон; в) усталость; г) гиподинамия.	
3	<b>При какой температуре воздуха обычно образуется гололёд?</b> а) от +2 до 0°C; б) от 0 до -3°C; в) от -4 до -6°C; г) свыше 7°C.	
4	<b>Когда в России отмечается «День Государственного флага»?</b> а) 4 ноября; б) 12 июня; в) 12 декабря; г) 22 августа.	
5	<b>От какой из предложенных видов опасности человек рискует погибнуть с большей вероятностью:</b> а) автокатастрофа; б) падение; в) пожар; г) умышленное убийство; д) утопление.	
6	<b>Працевидная повязка накладывается при переломах и ушибах:</b>	



№	Тестовые задания	Кол-во набранных баллов
	<p>а) голени;  б) колена;  в) носа;  г) груди.</p>	
7	<p><b>Какой символ должен насторожить, что человек, возможно, склонен к суициду?</b>  а) сойка;  б) русалка;  в) змея;  г) песочные часы;  д) кит.</p>	
8	<p><b>Что является причиной более 85% дорожно-транспортных происшествий?</b>  а) нарушение правил дорожного движения;  б) неисправность технических средств;  в) состояние проезжей части;  г) невнимательность участников дорожного движения;  д) погодные условия.</p>	
9	<p><b>Самое разрушительное землетрясение в современной России произошло:</b>  а) на Сахалине в 1995 году;  б) на Камчатке в 2001 году;  в) на северном Кавказе в 2006 году;  г) на Алтае в 2013 году.</p>	
10	<p><b>В какой период времени года наступает пожароопасный сезон в лесу?</b>  а) с мая по август;  б) с момента таяния снега до образования снегового покрова;  в) в период отсутствия пожарных частей на территории леса;  г) весной и летом.</p>	
11	<p><b>Время отдыха сердца у курильщика сокращается:</b>  а) в 1,5 раза;  б) в 2-2,5 раза;  в) в 3-3,5 раза;  г) в 4 раза.</p>	
12	<p><b>Когда гражданин России обязан встать на первоначальный воинский учёт?</b>  а) при достижении гражданином 16 летнего возраста;  б) в год достижения гражданином 17 летнего возраста;</p>	

№	Тестовые задания	Кол-во набранных баллов
	<p>в) в 18 лет; г) с 18 до 27 лет.</p>	
13	<p><b>Более 50% химически-опасных объектов используют это вещество:</b> а) аммиак; б) хлор; в) соляная кислота; г) фосген.</p>	
14	<p><b>На каком расстоянии от глаз должна располагаться книга при чтении?</b> а) 15-20 см; б) 20-25 см; в) 30-35 см; г) 40-45 см.</p>	
15	<p><b>В каком году зарегистрировано первое дорожно-транспортное происшествие, связанное с гибелью людей?</b> а) 1899 году; б) 1901 году; в) 1903 году; г) 1905 году; д) 1907 году.</p>	
16	<p><b>Человек может пострадать от «напряжения шага» если:</b> а) идёт по тонкому льду на озере; б) зашёл в зону растекания тока; в) идёт по канату или тросу, натянутому над землёй; г) зашёл на ветхий мост.</p>	
17	<p><b>Признаком, какой степени ожога является образование волдырей на коже:</b> а) I степени; б) II степени; в) III степени; г) IV степени.</p>	
18	<p><b>Какой смертельно-опасный газ образуется при преждевременно закрытой заслонки печи?</b> а) углекислый; б) веселящий; в) угарный; г) азотистый.</p>	

№	Тестовые задания	Кол-во набранных баллов
19	<p><b>Ученик тайно, без спроса взял телефон своего товарища по парте, как можно охарактеризовать данное действие?</b></p> <p>а) розыгрыш;  б) кража;  в) доверие;  г) хулиганство;  д) одолжение.</p>	
20	<p><b>Запах горького миндаля на химически-опасном объекте служит признаком утечки:</b></p> <p>а) сероводорода;  б) ртути;  в) радиации;  г) люизита;  д) синильной кислоты.</p>	
<b>Определите все правильные ответы</b>		
21	<p><b>Какое действие запрещено при нахождении рядом с подозрительным предметом:</b></p> <p>а) сообщение по мобильному телефону в полицию;  б) быстрое перемещение в пространстве;  в) выяснение внутреннего содержания подозрительного предмета;  г) ограждение места расположения подозрительного предмета;  д) ограничение допуска в опасную зону.</p>	
22	<p><b>Кому, правилами дорожного движения, разрешается отстёгивать ремень безопасности, при его наличии, во время движения:</b></p> <p>а) обучающему вождению, когда за рулём ученик;  б) водителю на ледовой переправе;  в) пассажирам на заднем сиденье автомобилей;  г) водителям автомобилей оперативных служб.  д) родителям, держащих на коленях грудного ребёнка.</p>	
23	<p><b>К ядовитым грибам не относятся:</b></p> <p>а) бледная поганка;  б) зеленушка;  в) перечный гриб;  г) рядовка фиолетовая;  д) плютей.</p>	
24	<p><b>Какие препараты нельзя использовать для антисептики:</b></p> <p>а) раствор йода;</p>	

№	Тестовые задания	Кол-во набранных баллов
	<b>б)</b> разбавленный барсучий жир; <b>в)</b> раствор бриллиантового зелёного; <b>г)</b> слюну; <b>д)</b> раствор хлоргексидина.	
25	<b>Какой группы дорожных знаков не существует?</b> <b>а)</b> запрещающего приоритета <b>б)</b> особых предписаний <b>в)</b> сервиса <b>г)</b> информационных <b>д)</b> дополнительной информации <b>е)</b> информационно-предписывающих	
<b>Сумма набранных баллов:</b>		