





**КРИТЕРИИ И МЕТОДИКА ОЦЕНИВАНИЯ**  
**ВЫПОЛНЕННЫХ ОЛИМПИАДНЫХ ЗАДАНИЙ ТЕОРЕТИЧЕСКОГО ТУРА**  
**возрастной группы (10-11 класс) муниципального этапа всероссийской**  
**олимпиады школьников по основам безопасности жизнедеятельности**  
**2021/2022 учебный год**



По теоретическому туру максимальная оценка результатов участника младшей возрастной группы (10-11 классы) определяется арифметической суммой всех баллов, полученных за выполнение заданий и тестов и не должна превышать **148 баллов** (107 + 41).

**Первая часть – теоретические задания (модуль 1) - (107 баллов)**

**Задание 1:** Для опознавания лиц и объектов, имеющих право на защиту, предоставляемую международным гуманитарным правом, используются отличительные знаки и эмблемы. Укажите, что обозначают изображенные ниже знаки и эмблемы.

**Вариант ответа:**

	Знак обозначения демилитаризованных, необороняемых, санитарных и безопасных зон (местностей)
	Знак гражданской обороны предназначен для опознавания персонала и объектов гражданской обороны.
	Эмблема (без религиозного, культурного или политического значения) предназначена для опознавания медицинского персонала, медицинских формирований и санитарно-транс-портных средств, а также международных гуманитарных организаций.
	Знак культурных ценностей предназначен для опознавания культурных ценностей, не находящихся под специальной защитой, а также для опознавания персонала, предназначенного для охраны культурных ценностей

	<p>Эмблема предназначена для опознавания медицинского и духовного персонала, медицинских формирований и санитарно-транспортных средств, а также для опознавания международных организаций Красного Полумесяца</p>
	<p>Знак особо опасных объектов предназначен для опознавания объектов, разрушение которых может вызвать высвобождение опасных разрушительных факторов и тяжелые последующие потери среди гражданского населения</p>

При оценке данного задания определяется максимальная оценка – 18 баллов (по 3 балла за каждую из позиций). При отсутствии правильных ответов баллы не начисляются.

**Задание 2: Рассмотрите предложенную ситуацию и найдите правильное решение.**

**Ситуация 1:** Вам предстоит отправиться в недельный турпоход. При подготовке к нему необходимо подобрать одежду и обувь. Каких требований Вы будете придерживаться?

**Вариант ответа:**

Требования к походной обуви	к Обувь должна быть удобной, плотно сидеть на ноге, но не сжимать стопу
Требования к походной одежде	к Одежда должна быть легкой и иметь небольшой объем. Верхняя одежда должна быть яркой и влагонепроницаемой, а нижнее белье хорошо поглощать выделяющийся при ходьбе пот.

**Ситуация 2:** группа туристов из 7 человек двигается по маршруту. Неожиданно резко ухудшились погодные условия, начался сильный дождь, поднялся ветер, местность труднопроходимая. Руководителю группы удалось сообщить по мобильному телефону о приблизительном местонахождении группы. Определите, какое решение должен принять руководитель и каков алгоритм действий группы в этой ситуации?

**Вариант ответа:** Руководитель группы должен принять решение оставаться на месте.

Алгоритм действия группы:

1. Определить наличие в группе пострадавших, больных, ослабленных. При наличии таковых оказать им помощь.
2. Организовать работы по сооружению временного укрытия.
3. Организовать поиск топлива и разведение костра.
4. Взять на учет имеющиеся запасы воды и продуктов питания, установить их нормы расхода.

5. Организовать приготовление пищи.

6. Оборудовать сигнальные знаки и подготовить сигнальные костры

*При оценке данного задания определяется максимальная оценка – 22 балла (по 2 балла за каждую из позиций). При отсутствии правильных ответов баллы не начисляются.*

**Задание 3:** Международное гуманитарное право – это совокупность норм, основанных на принципах гуманности и направленных на ограничение средств, и методов ведения войны и на защиту жертв вооруженных конфликтов. Перечислите лица, находящиеся под защитой международного гуманитарного права.

**Вариант ответа:**

- раненые;
- больные;
- потерпевшие кораблекрушение;
- военнопленные;
- гражданское население;
- медицинский персонал.
- духовный персонал.

*При оценке данного задания определяется максимальная оценка – 21 балл (по 3 балла за каждую из позиций). При отсутствии правильных ответов баллы не начисляются*

**Задание 4:** Укажите стрелками соответствие между названиями воинских формирований (левый столбец) и уровнем командования (правый столбец).

Звено, группа, команда		Капитан
Полк		Майор, подполковник
Дивизия		Ефрейтор
Рота		Полковник
Бригада		Полковник, генерал-майор
Батальон		Младший сержант
Армия		Генерал-майор
Фронт, округ		Лейтенант
Отделение		Генерал-лейтенант
Взвод		Генерал-полковник

При оценке данного задания определяется максимальная оценка – 30 баллов (по 3 балла за каждую из позиций). При отсутствии правильных ответов баллы не начисляются.

**Задание 5:** По описанию совершённого деяния определите вид преступной деятельности и впишите его в таблицу.

**Вариант ответа:**

Деяние	Наименование преступления
Открытое, явное похищение чужого имущества	Грабёж
Грубое нарушение общественного порядка, выражающее явное неуважение к обществу	Хулиганство
Проявление крайней нетерпимости и насилия, устрашение населения насильственными и иными противоправными действиями с целью воздействия на принятие решений органами власти	Террористический акт
Массовое выступление, сопровождающееся насилием, погромами, поджогами, уничтожением имущества, применением оружия, возможно с оказанием вооружённого сопротивления власти	Массовые беспорядки

При оценке данного задания определяется максимальная оценка – 16 баллов (по 4 балла за каждую из позиций). При отсутствии правильных ответов баллы не начисляются.

**Вторая часть – тестовые задания (модуль 2) - (41 балл)**

Номер вопроса	Вариант ответа	Номер вопроса	Вариант ответа
1	б	11	а, в, д, е, ж
2	а	12	б, в, д, е
3	б	13	а, в, д, е
4	г	14	б, д
5	а	15	а, д, е
6	г	16	б, в, г, д
7	а	17	а, б
8	в	18	а, б
9	б	19	в, д
10	в	20	а, в, д