

Тест
муниципального этапа олимпиады по технологии
номинация «Культура дома и декоративно-прикладное творчество»
10-11 класс

Фамилия	
Имя	
Отчество	
Образовательное учреждение	
Класс	

Уважаемые участники олимпиады!

Вам предлагается ряд тестов, творческое задание, моделирование и практическая работа.

Внимательно читайте задания и инструкции к ним! Удачи!

1. Теоретическая часть

Обведите кружком букву, соответствующую варианту правильного (нужного) ответа.

1. Санитария – это ...

- а) наука, изучающая строение, свойства и жизнедеятельность микроорганизмов;
- б) наука о здоровье человека, изучающая влияние внешней среды на его организм;
- в) практическое осуществление гигиенических норм и правил

2. Ознакомьтесь с изображением сервировки стола. Для какого приема пищи выполнена сервировка?



- а) завтрак;
- б) праздничный ужин;
- в) обед;
- г) ланч;
- д) праздничный обед.

3. Эти высокомолекулярные органические вещества в организме человека составляют основную массу плотных веществ мышц, опорных тканей, защитных образований (ногтей, волос и т. д.):









- а) белки;
- б) жиры;
- в) углеводы;
- г) минеральные соли;
- д) витамины.

Обведите кружком буквы, соответствующие вариантам правильных (нужных) ответов

4. К порционным полуфабрикатам из говядины относят:

- а) гуляш;
- б) антрекот;
- в) бифштекс;
- г) чебуреки.

5. Установите соответствие между современным устройством и старинным аналогом, удовлетворяющими одну и ту же потребность человека.

Современные устройства			
			
А.	Б.	В.	Г.
Старинные устройства			
			
1.	2.	3.	4.

Ответ: А. _____; Б. _____; В. _____; Г. _____

Вставьте пропущенное слово

6. Разность между внутренними размерами одежды и соответствующими размерами фигуры называется _____ на свободное облегание.

Составьте буквы в правильном порядке, расшифруйте слово

7. Свойство ткани – способность поглощать водяные пары из воздуха не становясь влажной наощупь:

к ч с ь т г г и о о р п н о и с

Ответ: _____

Обведите кружком букву, соответствующую варианту правильного (нужного) ответа

8. Раскрой ткани – это:


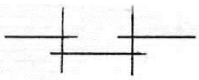
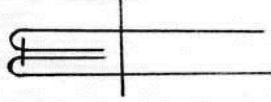
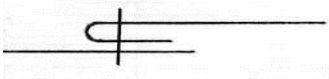
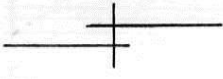
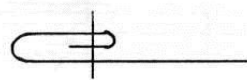
- а) раскладка деталей выкройки на ткани с учетом направления долевой нити;
- б) вырезание бумажных деталей швейного изделия, полученных в соответствии с чертежом;
- в) процесс получения тканевых деталей путем вырезания из куска ткани;
- г) процесс получения тканевых деталей путем их вырезания из куска ткани в соответствии с деталями выкройки с учетом припуска на швы.

9. Поставьте в правильной последовательности пункты, обозначающие действия при заправке нижней нити в швейной машине:

- провести нить через косую прорезь шпульного колпачка;
- вставить шпульку в шпульный колпачок;
- вытянуть нижнюю нить вверх через отверстия в игольной пластине;
- вставить шпульный колпачок в челночное устройство;
- заправить нить под прижимную пружину шпульного колпачка;
- намотать нить на шпульку.

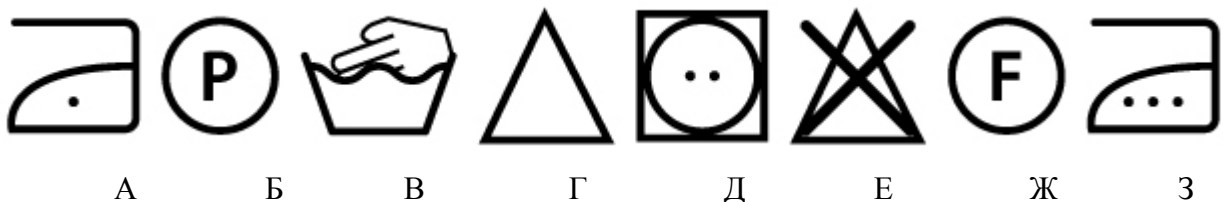
Ответ: 1 ____; 2 ____; 3 ____; 4 ____; 5 ____; 6 ____.

10. Установите соответствие между названиями и условными обозначениями швов

Название шва		Условное обозначение
А. Шов вподгибку с закрытым срезом	1.	
Б. Шов встык	2.	
В. Двойной шов	3.	
Г. Запошивочный шов	4.	
Д. Накладной шов с закрытым срезом	5.	
Е. Накладной шов с открытым срезом	6.	

Ответ: А. ____; Б. ____; В. ____; Г. ____; Д. ____; Е. ____

11. Из предложенных символов правильного ухода за одеждой выберите те, которые обозначают:

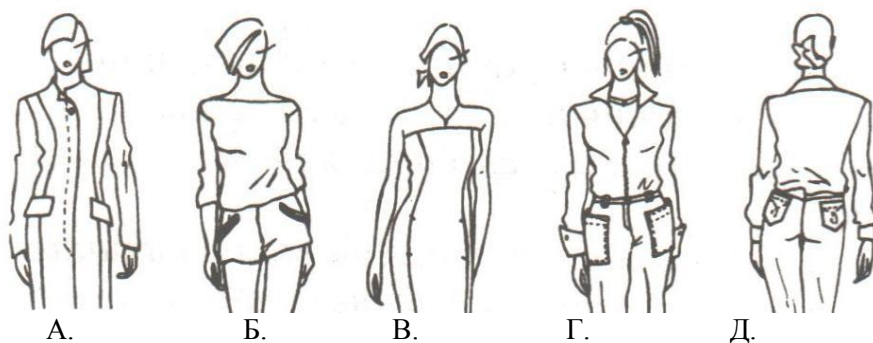


Ответ:

- стирка ручная _____;
- сушка при средней температуре _____;
- отбеливание запрещено _____;
- глажение при максимальной температуре утюга до 200°C _____.

12. Перечислите не менее четырех способов обработки срезов швейного изделия, предохраняющих их от осыпания нитей.

13. Установите соответствие между рисунком и видом карманов по конструкции



Ответ:
 накладной _____;
 прорезной в рамку _____;
 прорезной с клапаном _____;
 непрорезной в рельефах _____.

14. Как называется стиль одежды, представленный на рисунке? Кто автор этого стиля?




Ответ: _____

15. Установите соответствие между описаниями элементов костюма и названиями этих элементов.

Описание элементов костюма	Название
1. Остроносые домашние туфли без каблука	А. Боа
2. Женский шарф из меха или перьев, например страусовых	Б. Казакин
3. Распашная женская кофточка с баской	В. Мантилья
4. Красивая женская кружевная шаль	Г. Стерлядки

Ответ: А. _____; Б. _____; В. _____; Г. _____.

16. Впишите рядом с цифрой буквенное обозначение рисунка, где показан данный вид рукоделия:



1. мережка;
2. макраме;
3. вязание крючком;
4. вязание на спицах.

Ответ: А. _____; Б. _____; В. _____; Г. _____

17. В какой последовательности нужно планировать и совершать покупки?

- а) сбор информации о возможных вариантах, качестве товаров, сроке их службы;
- б) составление списков необходимых товаров;
- в) оценка приобретенного товара;
- г) выбор магазина, в котором нужно сделать покупки;
- д) момент совершения покупки.

Ответ: 1. _____; 2. _____; 3. _____; 4. _____; 5. _____.

Обведите кружком букву, соответствующую варианту правильного (нужного) ответа.

18. Определите, какой из вариантов оформления интерьера растениями относится к фитодизайну?

- а) оформление интерьера живыми горшечными растениями;
- б) оформление интерьера искусственными растениями;
- в) оформление интерьера срезанными растениями;
- г) оформление интерьера засушенными растениями.

19. В обществе с рыночной экономикой государство воздействует на экономическую жизнь через...

- а) систему налогообложения;
- б) централизованное установление цен;
- в) директивное планирование производства;
- г) снабжение населения товарами.

Обведите кружком букву, соответствующую варианту правильного (нужного) ответа.

20. Прибыль это:

1. сумма денег, полученная от продажи товаров;
2. разница между суммой денег от продажи товаров и затратами на их производство;
3. удовлетворение духовных и материальных потребностей человека.

21. Установите соответствие между понятиями и следующими определениями:

Понятие	Определение
А. Индустриальное производство	1. Технологии, преобразующие живой, творческий процесс в продукт, в произведение.
Б. Машиностроение	2. Производство предметов потребления.
В. Тяжёлая индустрия	3. Производство средств производства.
Г. Лёгкая индустрия	4. Выпуск продукции с применением машин и механизмов.
Д. Арттехнологии	5. Ведущая отрасль индустриального производства, в которой создаются основные орудия труда.

Ответ: А. - _____; Б. - _____; В. - _____; Г. - _____; Д. - _____.

22. Представьте себя владельцем салона-парикмахерской. Какой документ будет регламентировать порядок деятельности вашего предприятия?

Ответ: _____

Обведите кружком буквы, соответствующие варианты правильных (нужных) ответов.

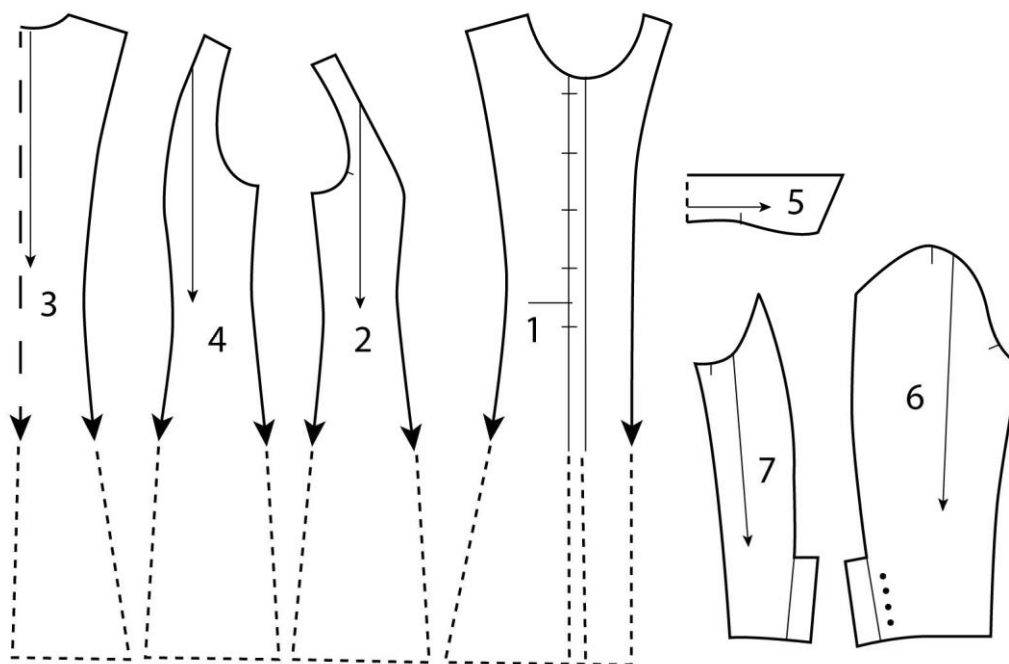
23. К показателям достигаемого статуса личности относится:

- а) карьера;
- б) возраст;
- в) квалификация;
- г) образование.

24. Современная промышленность предлагает потребителю разнообразные светильники, в том числе следующие их группы, классифицируемые по способу установки на месте эксплуатации:

- а) напольные;
- б) настенные;
- в) прикроватные;
- г) кухонные;
- д) потолочные;
- е) настольные;
- ж) арочные;
- з) точечные.

20. Творческое задание.

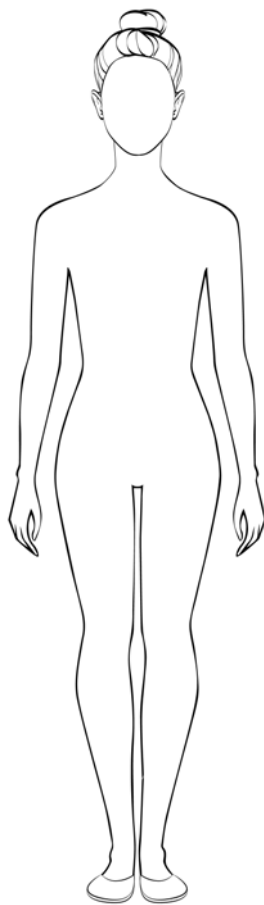


А. Напишите названия деталей кроя. Укажите их количество.

Б. Дайте описание модели

Наименование изделия	
Силуэт	
Покрой рукава	
Вид застёжки	
Конструктивные особенности	

В. Выполните эскиз данной модели.



Г) Перечислите свойства ткани, которые важны для данной модели.

Д) Предложите, из какой ткани (по волокнистому составу) можно сшить эту модель.

Е) Перечислите инструменты и оборудование, необходимые для изготовления данного изделия.
