

ТЕСТОВЫЕ ЗАДАНИЯ

Муниципальный этап Всероссийской олимпиады по технологии
в номинации «Культура дома и декоративно-прикладное творчество»

7 класс

2017 год

Время выполнения теста 90мин.

1. Отметьте знаком «+» все возможные правильные ответы:

ТЕХНОЛОГИЯ – ЭТО НАУКА

- а) изучающая природные явления;
- б) изучающая исторические события;
- в) изучающая основы экономики;
- г) изучающая преобразования материалов, энергии и информации.

2. Вставьте недостающие слова.

Воздействие техники на общество идет, прежде всего, через повышение _____, которое обуславливается развитием технических средств.

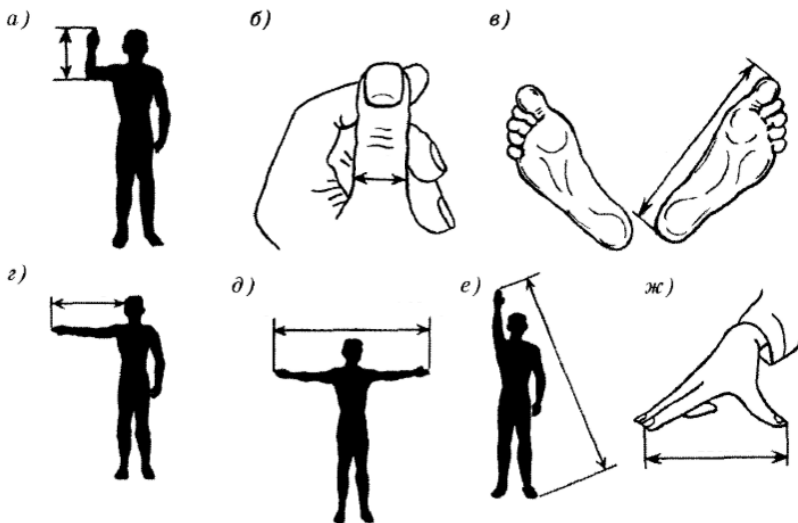
3. Выявите соответствие профессии данным ниже определениям. Заполните таблицу.

- А) Приём сырья и его переработка, приготовление различных блюд и их оформление.
- Б) Обмер заказчика, раскрой изделия, примерка.
- В) Создание художественного образа с целью воздействовать на зрителя, вызвать у него ответную реакцию.
- Г) Продвижение и реализация продукции на рынке.

Закройщик, повар, менеджер, актёр

А	
Б	
В	
Г	


4. Напротив каждой буквы впишите соответственную меру длины.




Косая сажень,
пядь,
дюйм,
фут,
ярд,
локоть,
сажень

5. Напишите вспомогательные способы подготовки продуктов для сокращения продолжительности их тепловой обработки: бобовые, отдельные крупы, сушеные грибы _____, мясо _____.

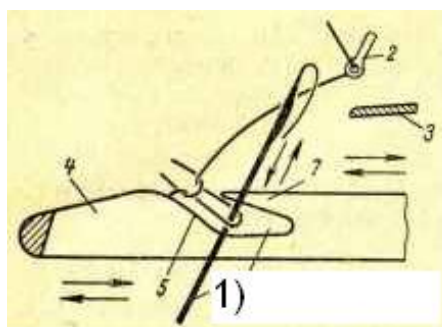
6. Назовите прибор, изображенный на рисунке:



7. Назовите вид нитового переплетения указанного на рисунке:



8. Напишите название элемента 1 прямо на рисунке.



9. Впишите название представленного на рисунке воротника.



« _____ » - берет свое начало в испанской моде XVI века. Это широкий белый воротник, плотно облегающий шею. Воротник « _____ » шили, как правило, из тонкого полотна, делали складки и крахмалили. Иногда сажали на проволочный каркас.

10. Дайте название виду работ сделанной лазером, на текстильном материале, представленном на рисунке.



11. Опишите в нескольких словах, в чем состоит отличие терминов «Экстерьер» и «Интерьер».

12. Определите:

1) из какого материала могут быть выполнены изделия, представленные на рисунке;




2) какой вид шва использовался при их изготовлении.

1) _____

2) _____

13. Опишите преимущества представленной формы кроя одежды («колокольчик») для девочек 2-4 лет.



14. Соотнесите, к какой культуре относятся украшения и элементы одежды

а	Индийцы	1	Меховая куртка с капюшоном
б	Индейцы Северной Америки	2	Татуировка, ожерелье из клыков и бус, набедренная повязка
в	Народы Севера России	3	Мокасины, головной убор из перьев, вампум
г	Славянские народы (Русь)	4	Сарафан, кокошник, гайтан
д	Племена Африки	5	Сари, множество браслетов, украшение на лбу

а	
б	
в	
г	
д	

15. Назовите основные недостатки такого альтернативного источника энергии как «Ветровая энергоустановка».

16. Назовите минимум три вида работ в пищевой промышленности, которые можно доверить роботам.

17. Отметьте знаком «+» все правильные ответы.

Каковы основные задачи семейной экономики?

1. Наиболее полное удовлетворение потребностей и желаний всех членов семьи.
2. Рациональное использование всех семейных ресурсов.
3. Планирование и экономия средств и времени.
4. Ничего из вышеперечисленного

18. Раскройте смысл пословицы «Уговор дороже денег» с точки зрения предпринимательства.

19. Дайте название одному из волевых качеств личности согласно приведенному ниже определению.

Степень осознанности и четкости представления цели, а также упорства, с которым преодолеваются препятствия при ее достижении - _____

20. Вы решили сшить фартук, остановив свой выбор на цельнокроеном фартуке с одним карманом. Какую потребность будет удовлетворять этот фартук?

1. Нарисуйте модель, которую собираетесь сшить.

2. Какие материалы необходимы для изготовления фартука?

3. Какие инструменты и оборудование потребуются?

4. Опиши технологическую последовательность изготовления изделия.
