

**ВСЕРОССИЙСКАЯ ОЛИМПИАДА ШКОЛЬНИКОВ ПО  
ТЕХНОЛОГИИ  
ТЕОРЕТИЧЕСКИЙ ТУР  
2018/2019 УЧЕБНЫЙ ГОД  
МУНИЦИПАЛЬНЫЙ ЭТАП  
8 КЛАСС**

Максимальный балл 25

Время проведения: 90 минут

**1. Выберите правильный ответ.**

Технология – это наука

- а) изучающая природные явления
- б) изучающая исторические события
- в) изучающая основы экономики
- г) изучающая преобразования материалов, энергии и информации.

**2. Что такое меню?**

- а) сервировка стола
- б) перечень блюд предлагаемых гостю
- в) способ заготовки продуктов

**3. При сервировке стола к обеду вилку кладут:**

- а) справа от тарелки зубцами вверх
- б) слева от тарелки зубцами вверх
- в) справа от тарелки зубцами вниз
- г) слева от тарелки зубцами вниз

**4. Укажите цифрами последовательность**

**Распределите правильно последовательность первичной обработки овощей:**

- а) нарезка
- в) очищение
- г) мытье
- д) сортировка

1 - \_\_\_\_\_, 2 - \_\_\_\_\_, 3 - \_\_\_\_\_, 4 - \_\_\_\_\_

**5. Какие бывают супы по способу приготовления?**

- а) прозрачные
- б) заправочные
- в) пюреобразные
- г) густые
- д) постные

**6. Подружки собрались испечь пирог. В доме имелись только яйца, мука и сахар. Какое тесто они могли приготовить из этих продуктов?**

- а) бисквитное
- б) песочное
- в) слоеное

**7. Вставьте пропущенные слова, используя слова для справок.**

- а) Сибирские \_\_\_\_\_
- б) Итальянские \_\_\_\_\_
- в) Украинские \_\_\_\_\_
- г) Узбекские \_\_\_\_\_
- д) Белорусские \_\_\_\_\_

**Слова для справок: Колдуны, вареники, пельмени, манты, ravioli, драники, цепеллины.**

**8. Какой этап приготовления из дрожжевого теста пропущен:**

Замес → \_\_\_\_\_ → Разделка → Расстойка → Выпечка

\_\_\_\_\_

**9. Вставьте слово:**

\_\_\_\_\_ - внешний слой кожуры плодов citrusовых растений (лимона, апельсина, мандарина)

**10. Вставьте пропущенное слово:**

\_\_\_\_\_ получают из уваренного с сахаром плодово-ягодного пюре.


**11. К гигиеническим свойствам тканей относятся:**

- а) прочность;
- б) намокаемость;
- в) драпируемость;
- г) воздухопроницаемость;
- д) пылеемкость.

**12. Ткань, окрашенная в один цвет, называется:**

- а) окрашенная;
- б) однотонная;
- в) гладкокрашенная;
- г) отбеленная;
- д) цветная.

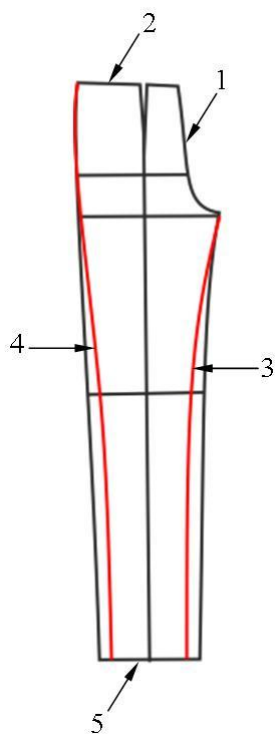
**13. Назовите переплетение:**



**14. Назовите элемент блузы, пришитый по линии талии**



**15. Назовите срезы**

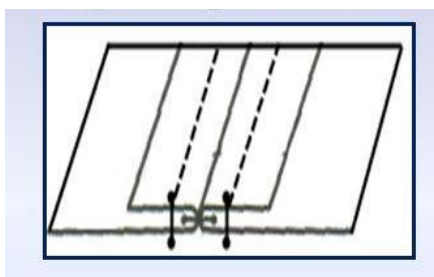


- 1 \_\_\_\_\_
- 2 \_\_\_\_\_
- 3 \_\_\_\_\_
- 4 \_\_\_\_\_
- 5 \_\_\_\_\_

**16. Чтобы нитка в машинном шве не петляла сверху, необходимо:**

- а) уменьшить натяжение верхней нити
- б) уменьшить натяжение нижней нити
- в) увеличить натяжение верхней нити
- г) увеличить натяжение нижней нити

**17. Назовите шов**



18. Выберите правильный ответ.

**Соединение мелких деталей с более крупными, второстепенных с основными - это:**

- а) застрачивание
- б) притачивание
- в) стачивание
- г) втачивание

19. Выберите правильный ответ.

**Сумма растворов вытачек прямой юбки рассчитывается по формуле:**

- а)  $C_6 - C_T$
- б)  $(C_6 + П_6) - (C_T + П_T)$
- в)  $C_6 - (C_T + П_T)$
- г)  $(C_6 + П_6) - C_T$
- д)  $(C_T + П_T) - (C_6 + П_6)$

20. Выберите правильный ответ.

\_\_\_\_\_ - измеряется горизонтально вокруг туловища; сзади через наиболее выступающие точки ягодиц; спереди с учётом выступа живота.

- а) Ст
- б) Сб
- в) Дст

г) Сг

**21. Установите соответствие между термином и его определением**

1. Приутюжить	А - отогнуть припуски на шов в одну сторону и закрепить их в таком положении
2. Разутюжить	Б – уменьшить толщину шва
3. Заутюжить	В – разложить припуски шва или складки в разные стороны и закрепить их в таком положении
4. Отутюжить	Г - Влажно-тепловая обработка материала для предотвращения последующей усадки
5. Декатировать	Д – Удалить замины на тканях, деталях и изделии

1.\_\_\_\_; 2.\_\_\_\_; 3.\_\_\_\_; 4.\_\_\_\_; 5.\_\_\_\_

**22. Назовите элемент русского костюма.**



**23. Генеральную уборку всех помещений квартиры проводят:**

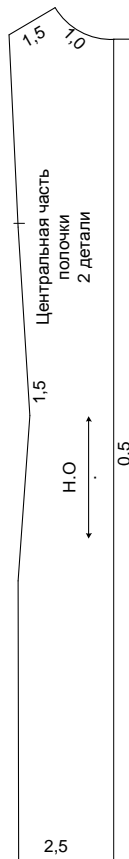
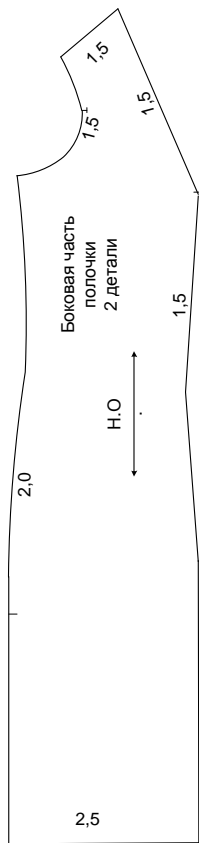
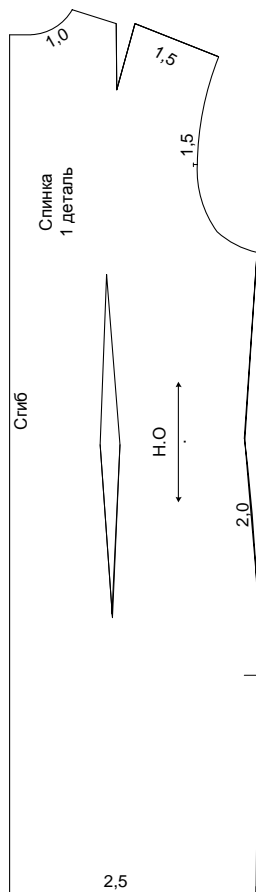
- а) ежедневно
- б) 2 раза в неделю
- в) 2 раза в месяц
- г) 3-4 раза в год

**24. Внутренний вид помещения это:**

- а) экстерьер
- б) интерьер
- в) фасад
- г) торец

## 25. Творческое задание.

Даны результаты моделирования. Необходимо нарисовать эскиз модели, сделать описание и предложить ткань, подходящую для пошива данной модели.



№ 1,5  
Кокетка  
1,5 2 дет  
1,0

## Результат творческого задания