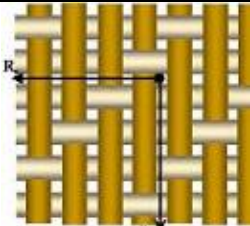




XXI Всероссийская олимпиада по технологии
2019-2020 учебный год
Муниципальный этап
10-11 КЛАСС
Номинация «Культура дома и декоративно-прикладное творчество»

Ключ к теоретическому заданию


№ вопроса	ответ
1	3D-печать.
2	1
3	3,4,6
4	1,4
5	При росте доходов населения на +4%, спрос увеличится на: $2 \cdot 4 = 8\%$. При снижении цен на марку «Форд Фокус» на -5%, спрос на автомобили «Тойота-Королла» уменьшится на: $3 \cdot (-5) = -15\%$ В общем, изменение объема спроса составит: $8 - 15 = -7\%$
6	3
7	3,5
8	4
9	в это время лучше отключить телефон или перевести в беззвучный режим, для разговора по телефону выйти из купе
10	M13X1,5
11	1- г, 2- е, 3- б. 4- в, 5- а, 6- д
12	Это разность масс готовой каши и использованной для её приготовления крупы.
13	в 2 раза больше $2X \cdot X = 600$ граммов $X + 2X = 600$ $3X = 600$ $X = 600:3$ $X = 200$ (г) – изюма, чернослива, кураги, орехов и мёда необходимо для приготовления 600 граммов десерта. $200 \cdot 2 = 400$ (г) – яблок. $200: 5 = 40$ (г) – по 40 граммов изюма, чернослива, кураги, орехов и мёда.
14	Признак чрезвычайного удивления
15	1 (Тартифлет - это французское блюдо с картофелем, беконом, сыром и луком)
16	4
17	1 – Г, 2. – В, 3. – А, 4 - Б
18	
19	1) шпулька; 2) пластинчатая пружина; 3) корпус; 4) установочный палец; 5) защелка; 6) регулировочный винт; 7) прорезь
20	Стиль бохо
21	2 – В. Обтачивание, 5 – А. Втачивание, 8 – Б. Выстегивание
22	Жилет <i>прилегающего</i> (можно полуприлегающего) силуэта, <i>однобортный</i> . Воротник " <i>апаш</i> " (название фасона воротника). Карманы <i>прорезные "в рамку"</i> (вид технологической обработки). Застёжка <i>центральная на три пуговицы</i> (вид застёжки).
23	Явление иррадиации
24	1-В-Д, 2 – А-Е, 3 – Б – Г

Творческое задание.

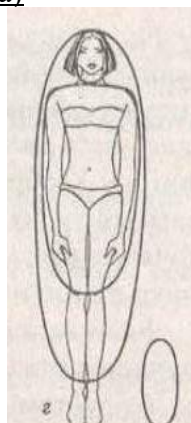
Вам предложены фигуры со схематичным изображением силуэтов одежды

1. Назовите вид силуэта (2 балла)
2. Изобразите (нарисуйте) на фигуре человека вид одежды в соответствии со схематическим изображением силуэта одежды (3 балла)
3. Опишите внешний вид моделей по предложенной форме (3 балла)
4. Рекомендуйте ткани (волокнистый состав) для каждой модели (3 балла)

Назовите вид силуэта (2 балла)



#3



#1



#2

Силуэт
полуприлегающий

Овальный

Трапециевидный



А

модель А - #3



Б

модель Б - #1



В

модель В - #2

2. Опишите внешний вид моделей по предложенной форме. Рекомендуйте ткани (волокнистый состав) для каждой модели

	модель А-3	модель Б-1	модель В-2
<i>Наименование изделия:</i>	Платье	платье	Костюм
<i>Силуэт</i>	Полуприлегающий	Овальный	Трапециевидный
<i>Вид застежки</i>	Потайной замок в среднем шве	Декоративная застежка	Потайной замок в среднем шве спинки

	спинки (в боковом шве)		блузы, юбка - на резинке без застежки
<i>Покрой рукава</i>	Втачной	Цельнокроенный	Без рукава
<i>Декоративная отделка</i>	Кант контрастного цвета	По плечевому поясу и по низу изделия	Окантовочная полоска на блузке и юбке, декоративная сумка-кошелек, фактура ткани
<i>Ткани</i>	Ткани-стрейч, трикотаж	Атлас, сетка, кружевное полотно, гипюр с пайетками	Атлас, сетка, кружевное полотно
<i>Назначение</i>	повседневная	торжественная (нарядная)	торжественная (нарядная)

Оценка задания:

1. Назовите вид силуэта (2 балла)
2. Изобразите (нарисуйте) на фигуре человека вид одежды в соответствии со схематическим изображением силуэта одежды (3 балла)
3. Опишите внешний вид моделей по предложенной форме (3 балла)
4. Рекомендуйте ткани (волокнистый состав) для каждой модели (3 балла)

Итого 11 баллов