

КОД УЧАСТНИКА	
----------------------	--

**Муниципальный этап XIX Всероссийской олимпиады школьников
по технологии в 2019/20**

10 - 11 класс

**Практическая работа по технологии обработки швейных изделий
«Изготовление салфетки»**

Время выполнения 1 час (60 мин)

Внимательно прочитайте и выполните задание:

1. Изучите технический рисунок столового текстиля и технологическую карту по изготовлению образца данного изделия.
2. Организуйте рабочее место в соответствии с требованиями по технике безопасности.
3. Проверьте наличие деталей кроя в соответствии с эскизом столового текстиля (салфетка 1 штуки).
4. Выполните готовый образец салфеток в соответствии с технологической картой.
5. Вырезать шаблон для угла салфетки (Приложение 1), используя его в дальнейшей работе.

Необходимые материалы:

Ткань х/б – 39 см*39см. (40 см)

Нитки - п/э, армированные; ручные иглы, наперсток и булавки, мел портновский карандаш, ножницы, линейка закройщика,

**Муниципальный этап XIX Всероссийской олимпиады школьников
по технологии в 2019/20**

10 - 11 класс

**Практическая работа по технологии обработки швейных изделий
«Изготовление салфетки»**

Инструкционная карта

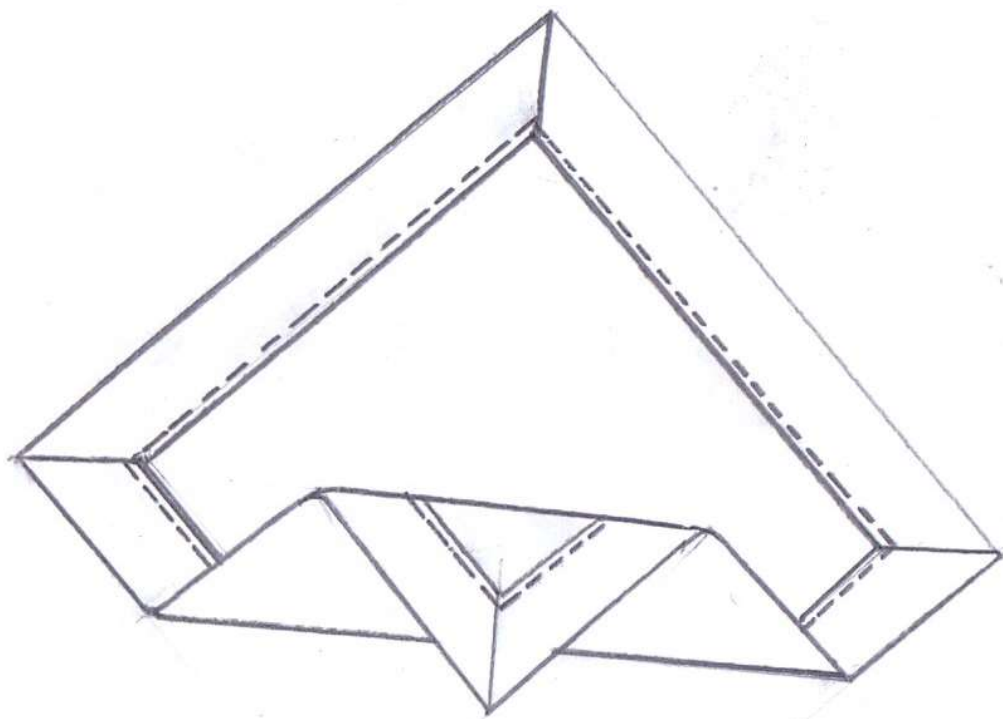
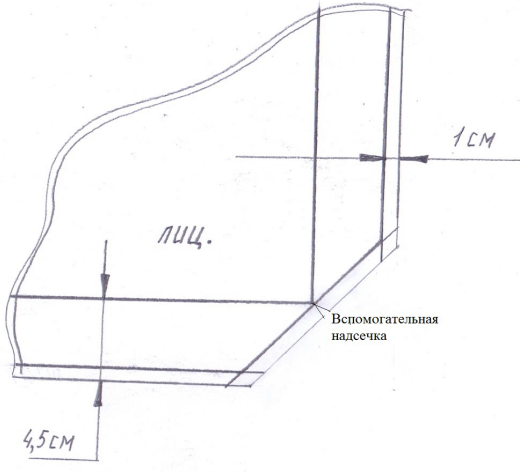
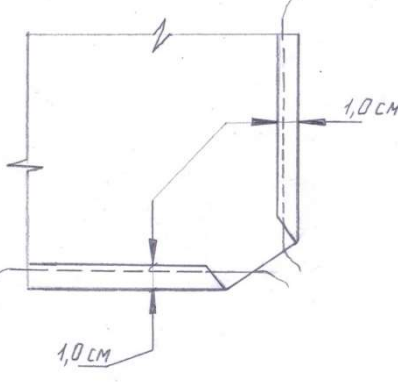
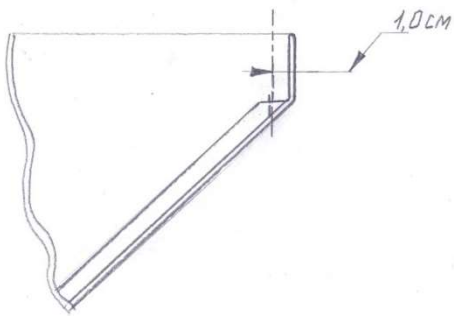
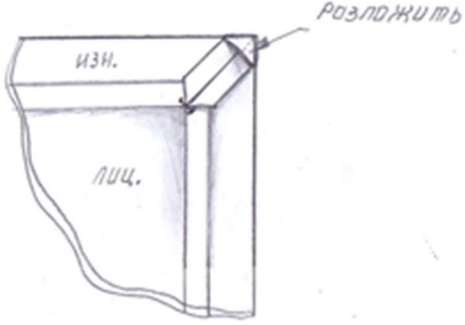
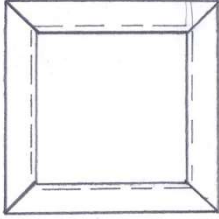
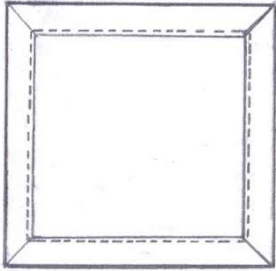


Рис. 1 – Эскиз столового текстиля

Технологическая карта на изготовление образца столового текстиля (салфетка)

Технологический процесс изготовления юбки	ТУ на выполнение работ	Схема шва, узла
1.Разобрать и проверить детали кроя: количество, надсечки и качество кроя	Салфетка 1 шт.	

<p>Разметить вспомогательные линии</p>	<p>На лицевой стороне наметить две линии:</p> <p>1.Первая линия- Ширина подгибки 1,0 см. от среза</p> <p>2.Вторая линия- Ширина подгибки 4,5 см. от среза</p> <p>Межоперационный контроль:</p> <p>1.величина салфетки в готовом виде (30*30)</p> <p>2.поставить вспомогательную надсечку</p>	 <p>The drawing shows a rectangular napkin with a curved top edge. Two vertical lines are drawn parallel to the right edge. The distance from the right edge to the first line is labeled '1 см'. The distance from the right edge to the second line is labeled '4,5 см'. The word 'лиц.' is written in the center. A small notch is cut into the bottom edge, labeled 'Вспомогательная надсечка'.</p>
<p>Заутюжить срезы по периметру салфетки</p>	<p>Ширина подгибки 1,0 см.</p>	 <p>The drawing shows the napkin with its edges folded inward by 1.0 cm. The width of the fold is labeled '1,0 см' at two different points.</p>
<p>Обработать углы салфетки</p>	<p>Сложить боковые стороны салфетки лицевой стороной внутрь по надсечке, уравнивая заутюженные сгибы. Стачать швом в разутюжку : Ширина шва 1,0 см.</p>	 <p>The drawing shows the napkin with its side edges folded inward and then stitched together. The width of the seam is labeled '1,0 см'.</p>

	<p>Надсечь угол разложить, выправить, разутюжить</p>	
<p>Заметать салфетку по периметру</p>	<p>Шов в подгибку с закрытым срезом в готовом виде-3,5см.</p>	
<p>Проложить отделочную строчку по периметру</p>	<p>Ширина шва 0,1 см. Длина стежка 0,4 см.</p>	
<p>Выполнить окончательную влажно-тепловую обработку готового образца</p>		
<p>Осуществить самоконтроль качества выполненной работы</p>		

