


Всероссийская олимпиада школьников по технологии, муниципальный этап
Задания теоретического конкурса по номинации
«Культура дома и декоративно-прикладное творчество»
10-11 класс
Технология



1. Мясо какого животного имеет светло-розовый цвет?

- a. свинина
- b. говядина
- c. баранина

2. Мясные котлеты с начинкой – называются

3. Перечислите компоненты десерта САМБУК

4. Перечень предлагаемых блюд называется

5. Что обозначает данный условный обознач?






- a. Изделие можно стирать. Быстрая стирка
- b. Щадящая стирка белья
- c. Бережная стирка
- d. Значок деликатной стирки изделия
- e. Стирка с кипячением

6. Изобразите значок условного обозначения «Разрешается гладить утюгом при температуре до 140 °С.»



7. Какой условный знак обозначает «Отбеливать белье без хлора»?

- a. 
- b. 
- c. 

8. Как называется ткань, снятая с ткацкого станка?

9. В каких тонах лучше оформить темную кухню, выходящую на северную сторону:

- a. холодных
- b. теплых
- c. смешанных

10. В лоскутной пластике статичные композиции создаются следующими элементами:

- a. спиральями и параболоми
- b. вертикальными и горизонтальными осями симметрии
- c. наклонными линиями
- d. асимметричными элементами

11. Выберите условное обозначение, соответствующее «Шелку»

- a. SE
- b. SI
- c. SN

12. С какого животного снята шерсть под названием «Руно»?

13. Где и когда была изобретена первая швейная машина?

- a. Австрия – 1814
- b. Англия – 1755
- c. США – 1845

14. Дай характеристику лицевой стороны ткани.

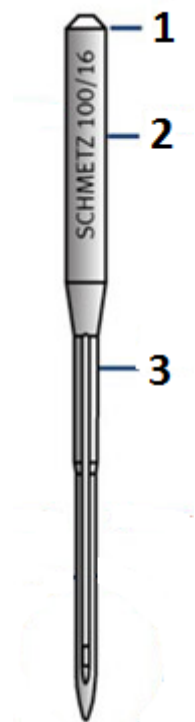
15. **Односторонние складки у юбки закрепляют машинным швом:**

- a. накладным
- b. запошивочным
- c. настрочным
- d. стачным
- e. в подгибку с закрытым срезом

16. **Полоска ткани для обработки среза, вырезанная по форме горловины — это:**

- a. воротник
- b. подкройная обтачка
- c. тесьма
- d. кружево

17. **Напишите названия основных компонентов машинной швейной иглы**

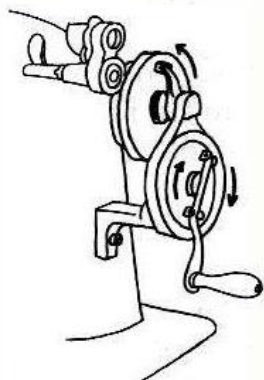


1	
2	
3	

18. **К какому типу челночного устройства принадлежит данный челнок**



19. Какой вид швейной машины изображен на рисунке



- a. с ручным приводом
- b. с ножным приводом
- c. в электроприводе

20. Какой из предметов мужского костюма, изображенных на фотографии, не изменили свое изначальное предназначение?



- a. 1
- b. 2
- c. 3

21. Этот старинный дамский аксессуар начинал свое существование как предмет исключительно хозяйственный, однако позже с ним стали появляться и дамы высшего света. О чем идет речь?



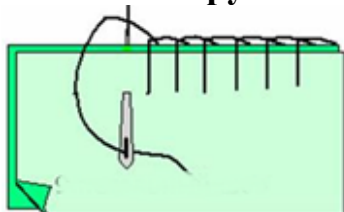
- a. О шатлене — 1
- b. О распялке для перчаток — 2
- c. О карне-де-баль — 3

22. Снятие какой мерки изображено на рисунке?



- a. ширина груди первая
- b. ширина груди вторая
- c. центр груди

23. Какой ручной шов изображен на рисунке



- a. обметочный шов
- b. петельный шов
- c. отделочный обметочный шов

24. Начертите условное обозначение Настрочного шва с закрытым срезом



25. Начертите схему крепового переплетения. Изготовьте макет переплетения, используя полоски бумаги двух цветов

