

Уважаемый участник!

Вам на теоретическом туре предложено 20 заданий, из которых 19 включают вопросы, задачи, тесты. Задание 20 - творческое. Задача участника - внимательно ознакомиться с предложенными заданиями и выполнить их в строгом соответствии с формулировкой.

Каждый правильный ответ в заданиях с 1 по 19 оценивается в 1 балл.

Задание 20 оценивается в 6 баллов.

Всего за теоретический тур максимальное количество баллов, которое может набрать участник, составляет 25 баллов.

Длительность 1-го тура (теоретического) составляет 1,5 часа (90 минут).

### Общие принципы технологии

1. Отметьте знаком + правильный ответ:

**К какому виду технологий относится процесс создания электронных документов?**

1 -  - материальным;

2 -  - информационным;

3 -  - социальным.

2. О чем идет речь? Выберите из скобок подходящее слово.

Оно может быть техническим, научным, художественным (хобби, творчество, ремесло, искусство).

Ответ: \_\_\_\_\_.

### Кулинария

3. На рисунке представлена схема строения куриного яйца. Напишите названия частей в соответствии с указанной цифрой.

Ответ:

1 \_\_\_\_\_

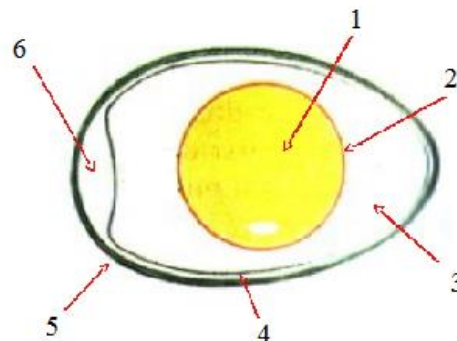
2 \_\_\_\_\_

3 \_\_\_\_\_

4 \_\_\_\_\_

5 \_\_\_\_\_

6 \_\_\_\_\_



4. Назовите отрицательные стороны тепловой обработки продуктов?

Ответ: \_\_\_\_\_

\_\_\_\_\_

\_\_\_\_\_

\_\_\_\_\_

**5. Перечислите способы варки**

Ответ

1 - \_\_\_\_\_

2 - \_\_\_\_\_

3 - \_\_\_\_\_

4 - \_\_\_\_\_

**6. Для чего при приготовлении соуса муку пассеруют?**

Ответ \_\_\_\_\_

\_\_\_\_\_

\_\_\_\_\_

\_\_\_\_\_

7. Ответьте на вопрос:

**В каких случаях говорят: «Это тебе не фунт изюму»?**

Ответ: \_\_\_\_\_

\_\_\_\_\_

**Материаловедение**

8. Вещи из льна — новый тренд экомоды. Из льняной ткани пошивают разные виды одежды — брюки, юбки, платья. **Какое отрицательное свойство льна не является недостатком, а стало «модным трендом» последних сезонов?**

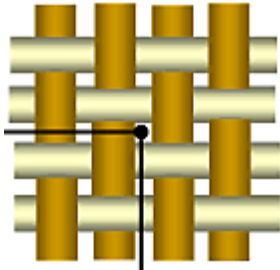

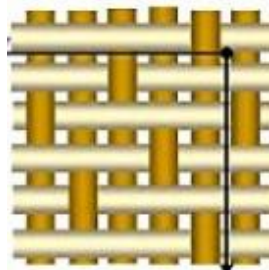


Ответ: \_\_\_\_\_

\_\_\_\_\_

9. Отметьте знаком + правильный ответ:

**Ткани какого переплетения обладают наибольшей осыпаемостью?**

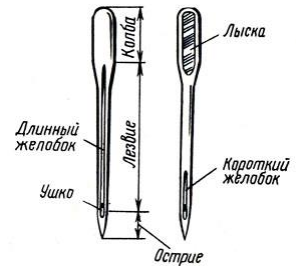
		
1 - <input type="checkbox"/> - полотняного	2 - <input type="checkbox"/> - саржевого	3 - <input type="checkbox"/> - сатинового

## Машиноведение

10. Ответьте на вопрос:

Для чего предназначен длинный желобок в конструкции швейной иглы?

Ответ \_\_\_\_\_  
\_\_\_\_\_



## Рукоделие

11. Отметьте знаком + правильный ответ:

Вид русского кружева, плетёного на коклюшках (деревянных палочках) носит название:

- 1 -  - суздальское;
- 2 -  - вологодское;
- 3 -  - костромское;
- 4 -  - павлопосадское.







12. Верны ли следующие утверждения?

Утверждение	Да	Нет
1. Хохломская роспись (Хохлома) - это самобытный русский народный промысел		
2. В хохломской росписи используются синий и белый цвета.		
3. Более сложным типом фонового письма хохломской росписи является «кудрина», названная так за изобилие круглых завитков, которые создают сказочные формы растений, цветов и птиц.		

## Проектирование и изготовление изделий

13. Установите соответствие между рисунками и описанием деталей одежды

<p>1. Погон</p> 	<p>А. Деталь швейного изделия, служащая для регулирования степени его прилегания и (или) декоративного оформления</p>	<p>Ответ:</p> <p>1 - _____;</p> <p>2 - _____;</p> <p>3 - _____;</p> <p>4 - _____.</p>
<p>2. Хлястик</p> 	<p>Б. Деталь швейного изделия для продевания и удерживания пояса, ремня, погона или хлястика в определенном положении</p>	
<p>3. Пата</p> 	<p>В. Деталь или узел швейного изделия в виде полосы, прикрепленной к изделию в области плеча для его декоративного оформления</p>	
<p>4. Шлевка</p> 	<p>Г. Деталь швейного изделия для его декоративного оформления, настроенная или втачанная одним концом в шов</p>	

**14. Соотнесите названия конструкций юбок с иллюстрациями**

1. 	2. 	3. 
А. прямая	Б. клиньевая	В. коническая

Ответ: 1 - \_\_\_\_\_; 2 - \_\_\_\_\_; 3 - \_\_\_\_\_.

**15. Ответьте на вопрос:**


**Как называется представленный крой юбки?**

Юбка, силуэт которой напоминает перевернутую чашечку цветка. Крой такой юбки характеризуется объемной частью в области бедер и суженной - внизу.



Ответ: \_\_\_\_\_

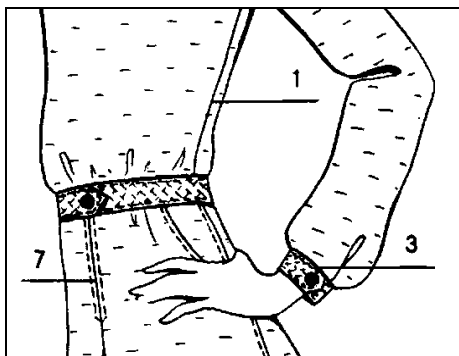
**16. Выберите рисунок, на котором изображена правильная рабочая поза при работе за швейной машиной.**



Ответ: \_\_\_\_\_

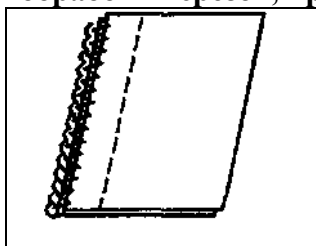
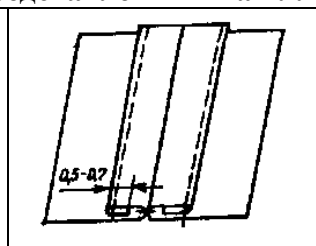
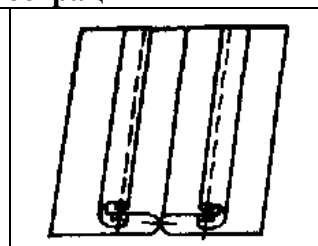
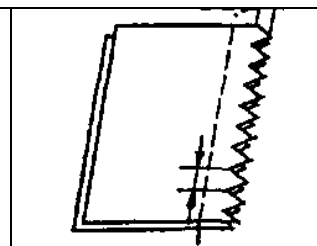
## Технология изготовления швейных изделий

17. Установите соответствие номера машинной операции на рисунке содержанию машинной операции и дайте наименование термину этой операции.

	1	А. — закрепление припусков на швы (или складки) строчкой. Например, расстрачивание встречных складок, швов и рельефов.
	3	Б. — соединение двух и более деталей на стачивающей машине. Например, стачивание боковых и плечевых срезов, срезов рукавов и т. д.
	7	В. — соединение мелких деталей с крупными. Например, притачивание надставок к подбортам, манжет к рукавам и т. д.

Ответ: 1 - \_\_\_\_\_;  
 3 - \_\_\_\_\_;  
 7 - \_\_\_\_\_.




18. В зависимости от вида ткани и имеющегося оборудования срезы в деталях одежды могут быть обработаны по-разному. Напишите названия терминов для обработки срезов, представленных на иллюстрации

			
А	Б	В	Г

Ответ: А- \_\_\_\_\_;  
 Б - \_\_\_\_\_;  
 В - \_\_\_\_\_;  
 Г- \_\_\_\_\_.

### История костюма

19. Соотнесите понятие деталей исторического костюма представленным фото

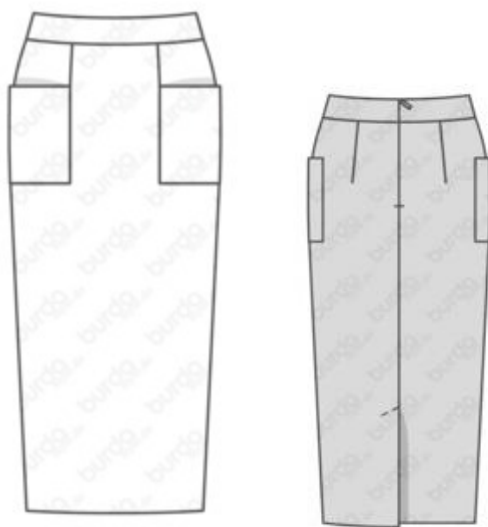
1.Фреза	2.Жиго	3.Бюск
		
А	Б	В

Ответ: 1 - \_\_\_\_\_; 2 - \_\_\_\_\_; 3 - \_\_\_\_\_.

### Творческое задание.

#### 20 Вам предложена модель юбки.

1. Заполните до конца таблицу, записав в нее наименование деталей кроя юбки и указав их количество.
2. Сделайте описание модели юбки по эскизу.



Детали кроя	Количество деталей
1.	
2.	
3.	
4.	

#### Описание внешнего вида модели.

Наименование изделия \_\_\_\_\_

Силуэт \_\_\_\_\_

Вид застежки \_\_\_\_\_

Описание переднего полотнища \_\_\_\_\_

\_\_\_\_\_

Описание заднего полотнища \_\_\_\_\_

\_\_\_\_\_

Обработка верхнего среза \_\_\_\_\_

Оценка задания:

1. Указание наименования деталей – 2 балла
2. Указание количества деталей – 1 балл
3. Описание внешнего вида – 3 балла.

Итого: 6 баллов