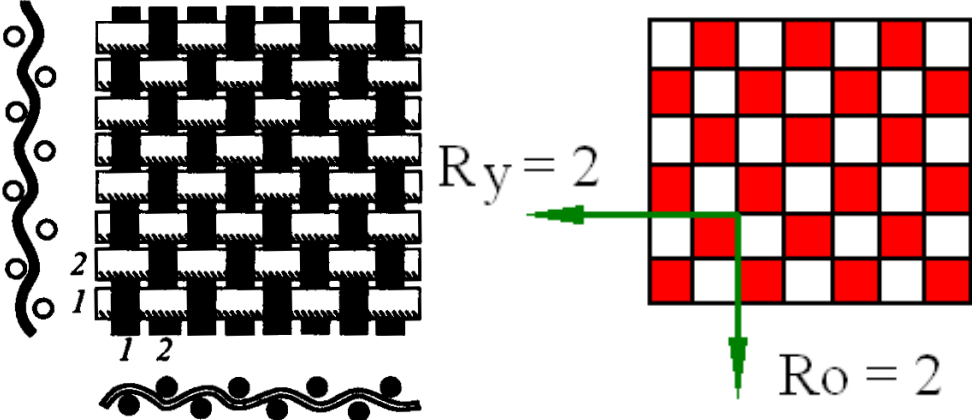
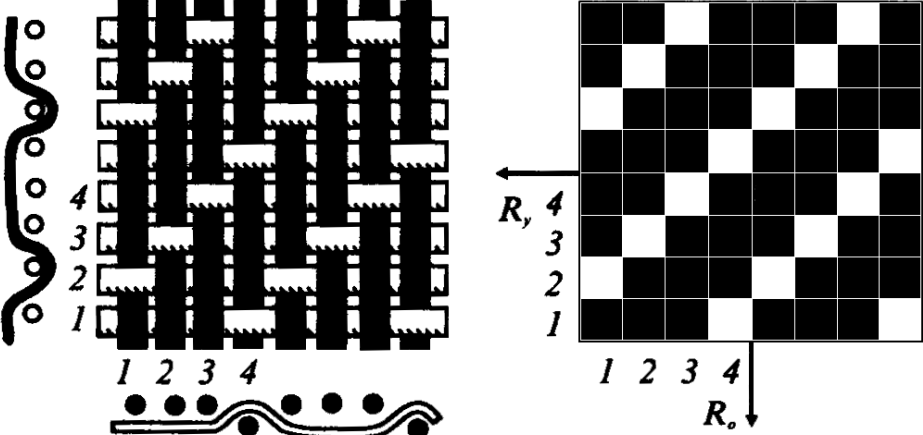



Муниципальный этап XX Всероссийской олимпиады школьников  
по технологии 2019/20

7 класс

## Задания теоретического конкурса

Выполнение работы 1 час (60 мин)

1	<p>Напишите названия ткацких переплетений, представленных на рисунках</p>  <p>Ответ :</p>
	 <p>Ответ:</p>
2	<p>.Выберите 2 правильных ответа.</p> <p>К натуральным волокнам растительного происхождения относятся:</p> <p>А)Лен Б) Астбест В)Хлопок Г)Шелк Д)Капрон</p> <p>Ответ:</p>

3	<p>Выберите правильный ответ</p> <p>Декатирование ткани выполняют для:</p> <p>А) устранения ткацких дефектов  Б) достижения максимальной усадки ткани  В) удаления пилинга  Г) придания объемной формы.</p> <p><b>Ответ:</b></p>
4	<p>Выберите правильный ответ</p> <p>При горении шерсти остается запах ...</p> <p>А) Жженой бумаги  Б) Жженого пера  В) сургуча  Г) дуста</p> <p><b>Ответ:</b></p>
5.	<p>Выберите правильный ответ</p> <p>Для предотвращения швов от растяжения в трикотажных изделиях <b>Не</b>используется:</p> <p>А) шелковая тесьма  Б) долевая полоска трикотажного полотна  В) полоска латекса  Г) х/б тесьма  Д) кружево</p> <p><b>Ответ:</b></p>
6.	<p>Напишите название направления крутки нити</p> <p>1</p>  <p>2</p>



Ответ :

1

2

7

*Выберите правильный ответ*

*Хлопок состоит из ...*

- А. Целлюлозы.
- Б. Глюкозы.
- В. Поливинилхлорида.
- Г. Смолы.

**Ответ:**

8.

*Ответьте на вопрос.*

*Какой вид рукоделия представлен фото?*



**Ответ:**

---

9.

Машиноведение.

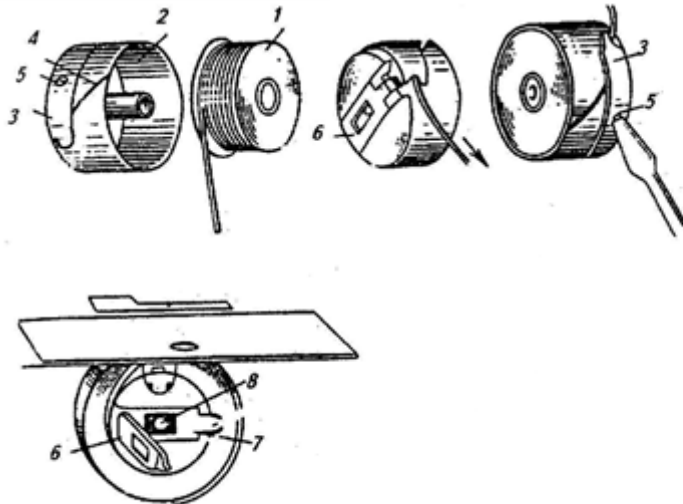
Установите последовательность установки машинной иглы на швейное оборудование

а	Заправить верхнюю и нижнюю нитки. Проверить качество строчки.	
б	Ослабить винт иглодержателя	
в	Закрепить винт иглодержателя	
г	Ввести иглу через иглодержатель в игловодитель до упора. Длинный желобок иглы должен наводиться со стороны нитенаправителя	
д	Проверить, свободно ли проходит игла в отверстие игольной пластинки и не задевает ли челночное устройство. Для этого нужно опустить и поднять иглу.	
е	Поднять игловодитель в верхнее положение	

**Ответ:**

10

Определите по рисунку конструктивные элементы шпульного колпачка и напишите их названия:



**Ответ:**

11 *Напишите название представленного на рисунке стиля в costume*



Греки создавали совершенные творения из двух прямоугольных кусков материи. Платья подчеркивали естественность линий тела.

**Ответ:**

12

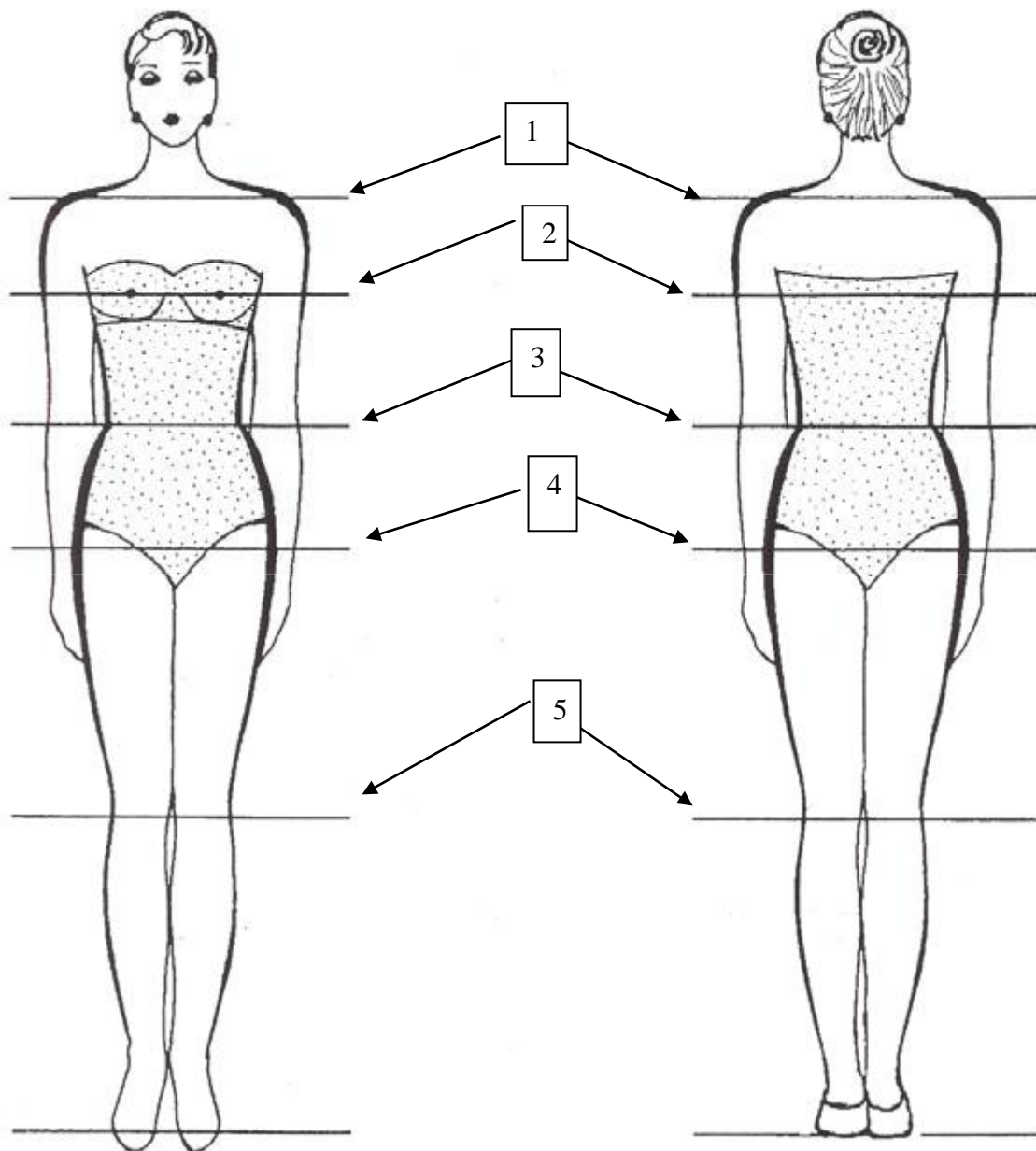
Установите соответствие между колонками «Инструменты и приспособления» и «Наименование»

<b>Инструменты и приспособления</b>	<b>Наименование</b>	
1. Инструменты	а) ручные иглы	ж) булавки
2. Приспособления	б) стол	з) ножницы
3. Оснащение рабочего места	в) манекен	и) винтовой стул
	г) колышек	к) наперсток
	д) сантиметровая лента	л) лекала
	е) подставка для ног	м) мел

**Ответ:**

13

Напишите названия конструктивных линий отмеченных на рисунке



Ответ: 1

2

3

4

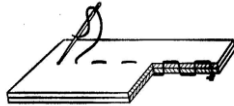
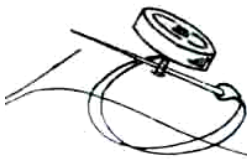
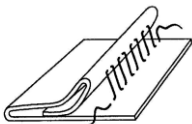
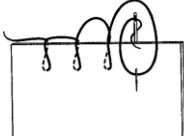
5

14 Установите соответствие между колонками «Термины ручных и машинных работ» и «Определение»

Термины ручных и машинных работ	Определение
1. Застрачивание	а) закрепление обтачного и вывернутого края детали стежками временного назначения с образованием канта
2. Втачивание	б) закрепление подогнутых срезов детали машинной строчкой
3. Окантовывание	в) обработка срезов полоской ткани или тесьмой для предохранения от осыпания или для отделки
4. Выметывание	г) постоянное соединение двух деталей по овалному контуру машинной строчкой

Ответ :

15 Установите соответствие между рисунком ручных работ и их термином

Стежки	Термин
1 	А Подшить
2 	Б Обметать
3 	В Сметать
4 	Г Пришить

Ответ :

16	<p>По описанию модели выполните технический рисунок платья -сарафана</p> <p>Платье-сарафан на широких бретелях. Бретели притачные. Платье-сарафан приталенного силуэта, отрезное по линии талии, с прямой юбкой на сборке. На юбке переда накладные карманы ниже линии талии на 7 см. На лифе переда вертикальные рельефы, верхний край переда оформлен фигурной линией. Лиф спинки с вертикальными рельефами и средним швом. Верхний край спинки оформлен прямолинейно. Застежка центральная на 7 обметанных петель и пуговиц (на лифе 3 пуговицы, на юбке 4 пуговицы).</p> <p>Ответ:</p> <p>:</p>
----	---



### Творческое задание

17

На рисунке 1 представлено изделие. Представлены детали кроя изделия.

1. Выполните эскиз данной модели (вид спереди и вид сзади)

2. Опишите внешний вид модели по предложенной схеме

- 1) Наименование изделия \_\_\_\_\_;
- 2) Сезонность \_\_\_\_\_;
- 3) Назначение \_\_\_\_\_;
- 4) Предполагаемый возраст \_\_\_\_\_;
- 5) Силуэт \_\_\_\_\_;
- 6) Стиль \_\_\_\_\_;
7. Покрой: \_\_\_\_\_;
- а. Переднее полотнище юбки \_\_\_\_\_;
- б. Заднее полотнище юбки. \_\_\_\_\_;
8. Застежка \_\_\_\_\_;
9. Длина \_\_\_\_\_;
10. Обработка верхнего среза юбки \_\_\_\_\_;

3. Предложите свойства ткани для проектируемой модели

Характеристика ткани (механические свойства, волокнистый состав, колористические свойства)

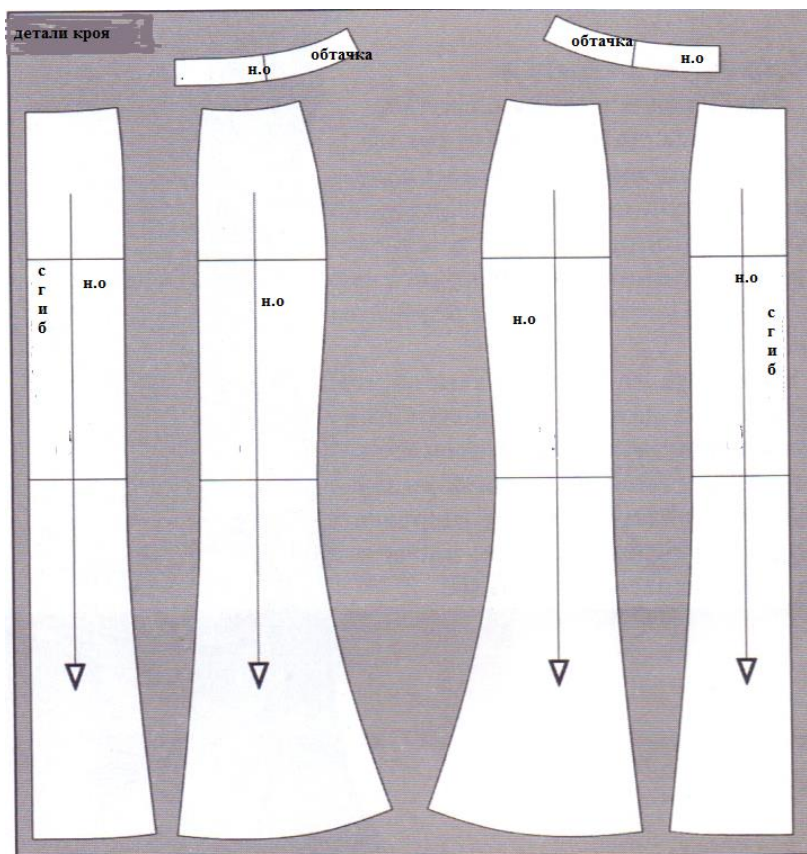


Рис. 1 Детали кроя изделия.

**Ответ:**

--	--	--

Дата проверки работы \_\_\_\_\_

Председатель предметного жюри \_\_\_\_\_ / \_\_\_\_\_ /

Члены жюри \_\_\_\_\_ / \_\_\_\_\_ /

\_\_\_\_\_ / \_\_\_\_\_ /