

**ВСЕРОССИЙСКАЯ ОЛИМПИАДА ШКОЛЬНИКОВ ПО ТЕХНОЛОГИИ
ТЕОРЕТИЧЕСКИЙ ТУР 2019/2020 УЧЕБНЫЙ ГОД
МУНИЦИПАЛЬНЫЙ ЭТАП
8 КЛАСС**

Время проведения: 60 минут

1. Подберите слова, чтобы получить известную поговорку:

Обжѣгшись на _____, дует на _____».

2. Выберите правильный ответ.

Первые две цифры штрихового кода потребительского товара обозначают:

- а) предприятие - изготовителя;
- б) страну изготовления товара;
- в) наименование товара;
- г) контрольные цифры.

3. Выберите правильный ответ. Из чего изготавливается крупа:

- а) из бобовых;
- б) из зерновых культур;
- в) из питательных веществ;
- г) из муки.


4. Выберите правильный ответ.

Плохое продвижение ткани при шитье на швейной машине может происходить по следующим причинам:

- а) между зубьями рейки скопилась грязь
- б) затупились зубья рейки
- в) слабый нажим лапки
- г) слишком тонкая ткань
- д) регулятор длины стежка установлен в нулевое положение

5. Выберите правильные ответы.

В данном источнике питания содержатся микроэлементы:



- а. магний Mg
- б. фосфор P
- в. железо Fe
- г. натрий Na
- д. селен Se
- е. хром Cr
- ж. калий K
- з. йод I

6. Из приведѣнного набора пищевых продуктов (рыба, масло растительное, мука пшеничная, лимон, зелень, рис, масло сливочное) можно приготовить:

- а) рыбу, жаренную во фритюре;
- б) рыбу отварную с гарниром;
- в) рыбу жареную с гарниром;
- г) салат рыбный




Ответ _____

7. Установите правильную последовательность при подготовке ткани к раскрою:

- а) выровнять срезы ткани;
- б) определить лицевую сторону;
- в) декатировать ткань;
- г) отметить мелом пороки ткани;
- д) свернуть ткань лицевой стороной внутрь по долевой нити;
- е) определить направление долевой нити

1- _____; 2- _____, 3- _____, 4.- _____, 5- _____, 6- _____

8. Какое из условных обозначений является операцией полустолбик при вязании крючком:

| | | |
|---|---|---|
|  |  |  |
| а | б | в |

Ответ _____

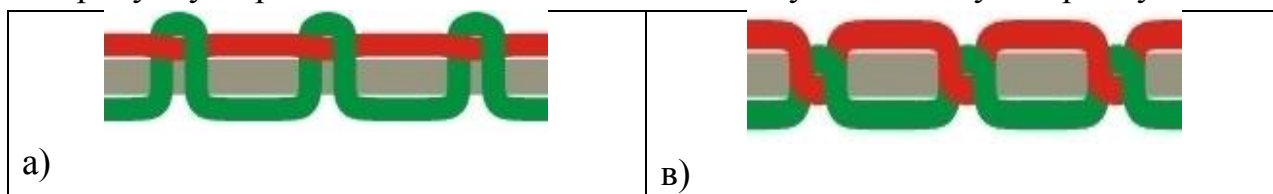
9. Выберите правильный ответ.

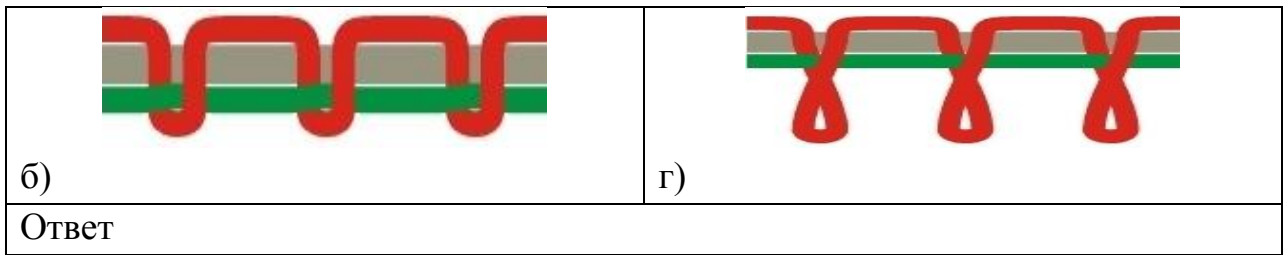
При раскрое плечевого изделия припуски на швы и обработку горловины равны:

- а) 0,1-0,7
- б) 0,7 – 1,0
- в) 1,0 – 1,7
- г) 1,7 – 2,0

10. Выберите правильный ответ.

По рисунку определить качественно выполненную машинную строчку





11. Выберите правильный ответ

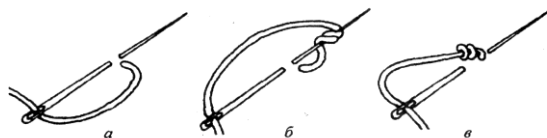
Укажите на каком рисунке изображены кюлоты



Ответ _____

12. Выберите правильный ответ.

Назовите вышивальный шов, технология выполнения которого представлена на рисунке



Ответ _____ -

13. Назовите виды электрических ламп, представленных на рисунках



Ответ: а) _____

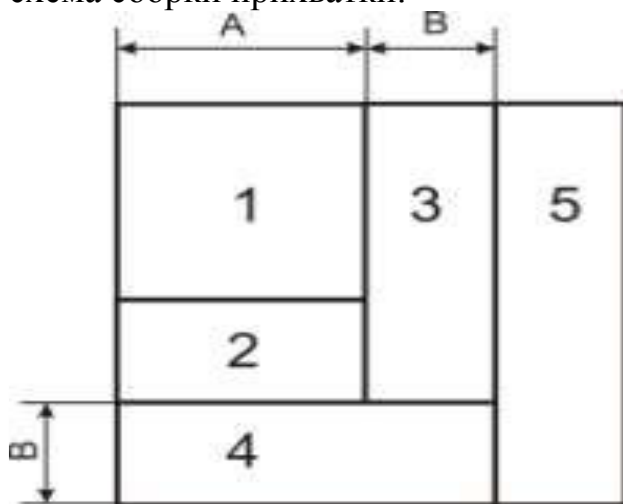
б) _____

14. Выберите правильный ответ.

Масштаб 1:10 на чертеже означает:

- а) уменьшение действительных размеров в 10 раз
- б) отношение длины детали к высоте как 1:10
- в) увеличение действительных размеров в 10 раз
- г) отношение длины детали к ширине как 1:10

15. Выберите правильный ответ. В какой технике на рисунке изображена схема сборки прихватки:



- а) пэчворк;
- б) квиллинг;
- в) декупаж;
- г) канзаши.

16. Назовите вид отделки:



17. Выберите правильный ответ. Определите типы управления швейных машин на представленных ниже рисунках и подпишите их:



А



Б



В

С



С

- а) электронный
- б) механический
- в) компьютерный
- г) электромеханический

18. Какой из рисунков по конструкции края относится к прямой юбке:

| | | | |
|-----------------|--|-----------------|-----------------|
| | | | |
| <p>а</p> | | <p>б</p> | <p>в</p> |

Ответ _____

19. Как рассчитать ширину юбки:

- а) Дст;
- б) Диз;
- в) Ст + Пт;
- г) Сб + Пб.

Ответ: _____

20. Выберите правильный ответ. Какой воротник изображён на рисунке?

| | |
|----------------------------|--------------------------------|
| а) воротник отложной | в) воротник апаш |
| б) воротник цельнокроенный | г) воротник с отрезной стойкой |



Ответ _____

21. Выберите правильный ответ.

Эскиз – это _____ - _:

- а) графическое изображение изделия, выполненное от руки
- б) объёмное изображение детали
- в) объёмное изображение изделия
- г) чертёж, содержащий размеры детали или изделия

22. Выберите правильный ответ. Какой тип профессии относится к следующим профессиям: учитель, менеджер, официант, юрист:

- а) Человек — техника;
- б) Человек — человек;
- в) Человек — художественный образ

23. Выберите правильный ответ. Какое из перечисленных требований не относится к правилам электробезопасности:

- а) включать и выключать электроприборы сухими руками;
- б) не оставлять включёнными электроприборы без присмотра;
- в) соединительные провода не должны касаться нагревательной поверхности;
- г) снимать показания со счётчика;
- д) нельзя пользоваться технически неисправными электроприборами

Ответ _____

24. Выберите правильный ответ.

При покупке нового технологического оборудования наиболее значимым фактором является:

- а) фирма-изготовитель
- б) дизайн
- в) цена

- г) повышение производительности труда
- д) срок окупаемости

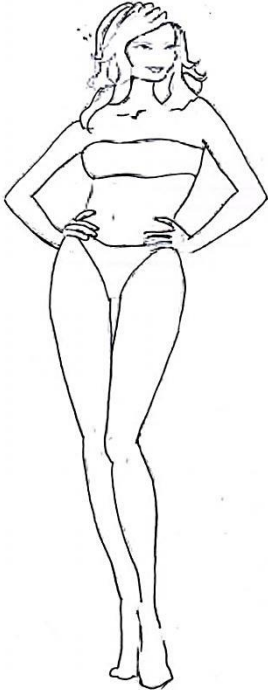
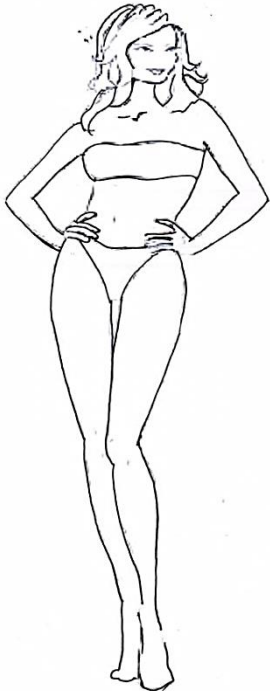
Ответ: _____

25. Творческое задание

Предложите по одной модели в разных стилях: деловой, сафари

Выполните эскизы этих моделей.

Предложите аксессуары, подчёркивающие стиль модели одежды.

| | |
|--|---|
|  |  |
| <i>1 модель: изделие</i> | <i>1 модель: изделие</i> |
| <i>стиль</i> | <i>стиль</i> |
| <i>силуэт</i> | <i>силуэт</i> |
| <i>покрой</i> | <i>покрой</i> |
| <i>детали</i> | <i>детали</i> |
| <i>отделка</i> | <i>отделка</i> |
| <i>цвет</i> | <i>цвет</i> |
| <i>ткань</i> | <i>ткань</i> |
| <i>аксессуары</i> | <i>аксессуары</i> |