

Шифр _____

Номер задания	Кол-во выставленных баллов	ФИО эксперта	Подпись
1			
2			
3			
4			
5			
6			
7			
Итоговая сумма			

**Муниципальный этап всероссийской олимпиады школьников
по искусству (мировой художественной культуре)
2020-2021 учебный год**

9 класс – 215 баллов

Задание 1. Перед Вами 6 слов, в которых буквы переставлены местами. Каждому слову соответствует одно из 6 изображений (30 баллов).

1. Расшифруйте написанные слова. Впишите их в таблицу вместе с номером соответствующего изображения.

2. Кратко поясните в таблице смысл понятия, выраженного расшифрованным словом.

3. Напишите, к какой культурно-исторической эпохе относятся расшифрованные понятия.

4. Приведите **ОДИН** яркий пример культурного наследия определенной Вами эпохи. Дайте его краткую характеристику. Поясните выбор.

**ЫНЕКИМ
НОАРФЕНП
ДАМИТЕАР
ИЙКСНОСК
ЛЕИПИРОП
ТОЕПЫМ**







1	2	3
		
4	5	6
		

Таблица для ответа:

Расшифрованное слово и номер соответствующего изображения.	Значение понятия

Название культурно-исторической эпохи	
Пример культурного наследия, краткая характеристика, пояснение выбора.	

Задание 2. Разгадайте кроссворд (26 баллов).

Если вы правильно разгадаете кроссворд, то по вертикали у вас получится имя известного на Руси средневекового архитектора. Заполните таблицу.

1. Запишите слова-символы в клетки кроссворда.
2. Исторический период, в котором работал архитектор. Напишите век и название периода.
3. Запишите один яркий пример культурного наследия, относящегося к данной эпохе и этому виду искусства. Поясните Ваш выбор.

По горизонтали:

1. Пространство между столпами в храме
2. Полукруглый алтарный выступ
3. Пространственное покрытие здания в виде полусферы
4. Архитектурно выполненный вход в сооружение
5. Цилиндрическая часть, служащая основанием купола
6. Криволинейное перекрытие
7. Полукруглое завершение участка стены на фасаде
8. Плоский кирпич, который использовался в храмовом зодчестве
9. Вертикальный выступ на фасаде
10. Тип сооружения прямоугольной формы

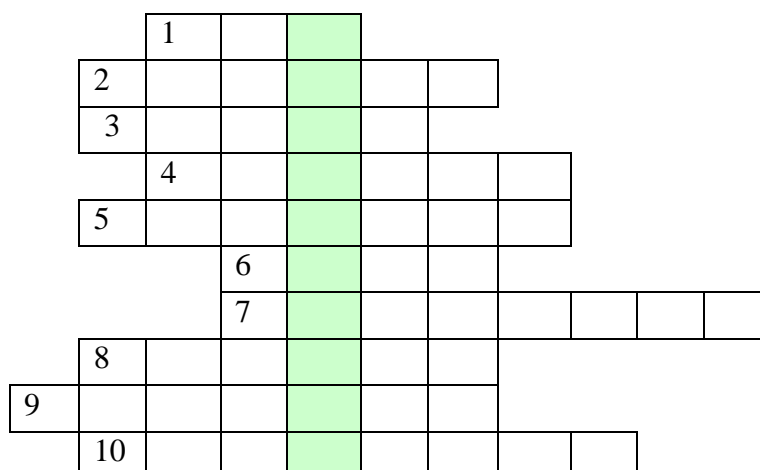


Таблица для ответа:

Название периода	
------------------	--

Пример культурного наследия	
Пояснение, аргумент выбора	

Задание 3. Рассмотрите изображения и выполните задания (30 баллов).

Перед Вами произведения известных мастеров, рассмотрите их.

1. Какая библейская притча лежит в основе данных произведений. Опишите притчу в 3-4 предложениях.
2. Какой момент притчи изобразил каждый автор?
3. Один из скульпторов раннего Возрождения создал тип самостоятельно стоящей статуи, не связанной с архитектурой. Его скульптура из данного видеоряда является первым изображением нагого человеческого тела в статуарной пластике Возрождения. Напишите имя автора, название и номер произведения.
4. Если бы Вам предложили провести выставку одного произведения, какую скульптуру выбрали? Поясните.
5. Подберите музыкальное сопровождение для выбранного произведения, сделайте пояснение в одном предложении.
6. Составьте анонс выставки в 3-5 предложениях.






Таблица для ответа:

1.
2. 2.1. 2.2. 2.3. 2.4.
3.
4.
5.
6.

Задание 4. Рассмотрите изображения и выполните задания (16 баллов).

1. Определите автора произведений.
2. Что объединяет изображения? Какое произведение выпадает из видеоряда? Дайте пояснение.
3. Напишите, в чем заключалась специфика творчества данного автора.




<p style="text-align: center;">1</p> 	<p style="text-align: center;">2</p> 
<p style="text-align: center;">3</p> 	<p style="text-align: center;">4</p> 

Таблица для ответа:

1.
2. 2.1. 2.2. 2.3.

3.

Задание 5. Определите художественное произведение (50 баллов).

1. Напишите название работы и ее автора. Укажите время, когда он жил и творил.
2. Опишите общую композицию работы.
3. Назовите значимые запоминающиеся детали, их место в композиции и функции.
4. Назовите стиль/ направление, в котором выполнено данное живописное произведение
5. Укажите известные работы этого же художника.
6. Укажите известные работы других художников, выполненные в таком же жанре.



Таблица для ответа:

1.

2.
3.
4.
5.
6.

Задание 6. Рассмотрите изображения и выполните задания (19 баллов).

Из представленных изображений найдите относящиеся к творчеству К.И. Росси. Выбранные изображения подпишите, указав название сооружения и его местонахождение. Напишите стиль, в котором работал К.И. Росси, укажите несколько архитектурных признаков этого стиля.



1	2
	



Таблица для ответа:

Номер иллюстрации	Название сооружения	Название стиля	Признаки стиля

Задание 7. Рассмотрите изображения и выполните задания (44 балла).

7.1. Перед вами фото известного российского актера, режиссера, педагога, напишите его имя.



ФИО мастера:

7.2. Творчество данного мастера многогранно, каким образом представленные кадры связаны с ним?

Подпишите названия фильмов.

1.	2.	3.

7.3. Сгруппируйте кадры по фильмам. Укажите название фильма, роль, которую играл вышеназванный актер.

1	2



3



4



5



6



7



8



9



10

	
11	12

Таблица для ответа:

Название фильма	№№ иллюстраций	Роль