

## Востоковедение

9 класс

Время выполнения заданий – 120 минут

Максимальное количество баллов - 100

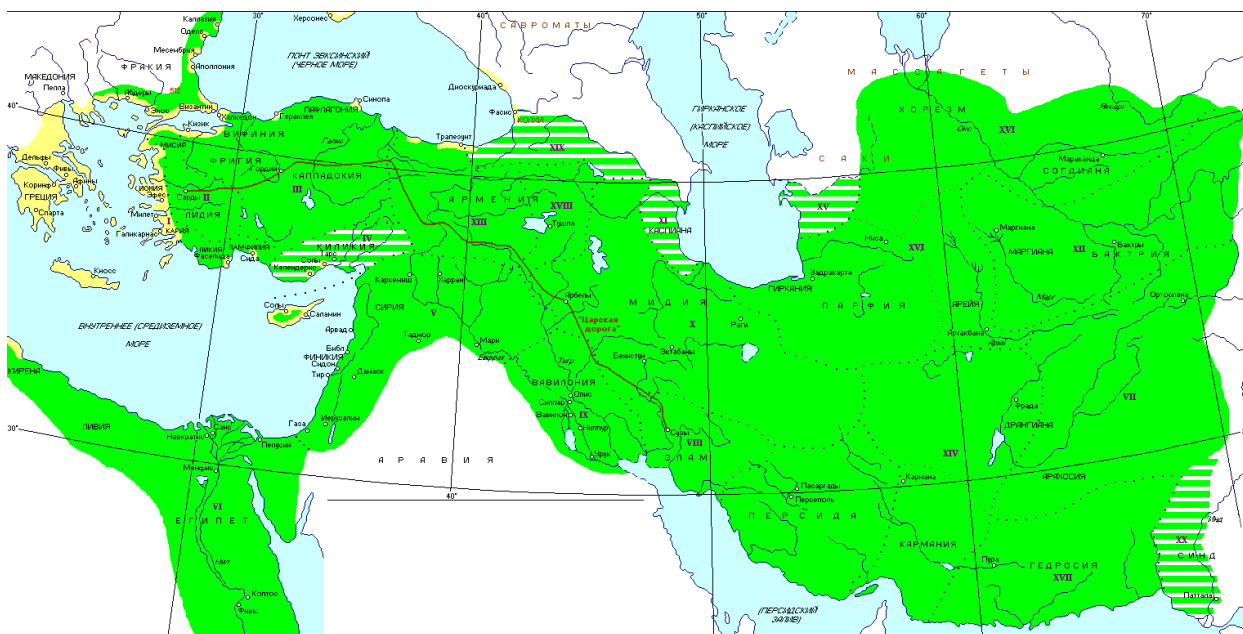
Часть I (30 баллов). Работа с географической картой.

Перед вами карта одной из крупных держав Востока. Внимательно изучите карту и ответьте на вопросы:

Задание 1.1 Что это за держава и когда она существовала? (10 баллов)

Задание 1.2 Что, по вашему мнению обозначают римские цифры на карте? (10 баллов)

Задание 1.3 Каких известных правителей этой державы вы знаете? (Не более двоих)  
Расскажите о них. (10 баллов)



### Правильные ответы:

1.1. Держава Ахеменидов (VI — IV вв. до н.э.)

1.2. Сатрапии (области, зависимые территории или народы) — являлись как единицами взимания дани, так и единицами управления.


1.3. Допустим любой не противоречащий фактам ответ. Например, Кир Великий, Дарий I, Ксеркс и др.

**Часть II. Работа с изобразительными источниками. (30 баллов).**

Рассмотрите предложенные изображения или пары изображений и ответьте на вопросы:

**Задание 2.1.** Объясните, кто или что изображено на картинках и по какому принципу они объединены в пару? (10 баллов)


**Хасан ибн-Саббах**



**Правильный ответ**

**2.1 - 1 пара**

Слева изображение основателя секты низаритов- исаилитов, известных также под названием «ассасины», и государства низаритов в XI–XIII веках. Справа на персидской миниатюре изображено взятие монголами крепости Аламут – главной крепости низаритского государства.



**Правильный ответ:**

**2.1 - 2 пара:**

Изображение слева: Ли Сонге (Тхэчжо) – корейской военачальник, основатель династии Ли, государства Чосон. Изображение справа: принц Минамото (Токугава Иэясу) – японский военачальник, основатель династии сёгунов Токугава. Оба деятеля были основателями новых политических образований – государств, правительств в средневековой Корее и Японии соответственно.

**Задание 2.2.** Напишите, какое сооружение (название памятника архитектуры) представлено на фотографиях. Как они называются и где находятся? Что между ними общего и их различия? **(10 баллов)**



**Правильный ответ**

2.2 На изображениях представлены образцы архитектурного искусства Индии:

На первой фотографии - знаменитый Золотой храм в городе Армитсар, Индия.

Этот памятник архитектуры считается главным и самым известным сикхским храмом. Строительство Золотого храма было окончено в 1604 г., восстановлен в 1764.

Сикхизм — это религия, возникшая в Индии на основе индуизма и ислама.

## Востоковедение

На второй фотографии вы видите знаменитый памятник мировой архитектуры, внесённой в список ЮНЕСКО, мавзолеев- мечеть Тадж Махал, расположенный в городе Агра, Индия. Признан жемчужиной мусульманского искусства в Индии и одним из шедевров всемирного наследия. Считается лучшим примером архитектуры стиля эпохи Великих Моголов, который сочетает в себе элементы индийского, персидского и арабского архитектурных стилей

Возможные варианты правильного ответа основываются на сопоставлении: места нахождения памятника; их культового назначения; религиозных и культурных различий, периода создания - строительства и тд., изложенных с приведением исторических фактов и аргументации.

### Часть III (40 баллов). Работа с письменным источником

**Внимательно прочитайте фрагмент из литературного источника Древнего Мира, ответьте на вопросы по тесту.**

**Задание 3.1.** Прочитайте предложенный текст и определите литературный жанр, к которому он относится. Кому посвящается этот отрывок? Вставьте пропущенные имена богов. **(20 баллов)**

**Задание 3.2** Коротко, но емко напишите, что вы знаете о мифах Древнего Египта. **(20 баллов)**

Вам предложен в качестве задания отрывок из «Славословие Атому Фараона Эхнатона и правительницы Нефер-Неферу-Атон (XIV в. до н.э.)». Ее полное имя Нефер-Неферу-Атон *Нефертити* переводится как "Прекрасен красотой Атон, Прекрасная пришла".

«Посвятил его ты в свою науку,

Наделил его ты своею властью,

Над людьми свою простираешь руку,

Даровав ему мир, добро и счастье.

Весь народ земли жив одним тобою,

Всякий труд оставят они на закате,

Ты владеешь их жизнью и их судьбою,

И всю ночь они молят тебя о возврате.

Оживишь ты снова их на восходе,

И воздвигнешь вновь для своего сына,

Ибо жив правитель в своём народе,

Ибо власть твоя и его – едина.

## Востоковедение

И взойдёт на небо **Атон** великий,

И осветит землю Египта снова

Для живущего по правде владыки,

Да будет исполнено его слово

Сына Ра, владыки венцов – **Эхнатона**,

Наделённого властью над миром сущей,

Во имя божественного закона,

И супруги его, во веки цветущей.

### Правильный ответ:

Древнеегипетский гимн богам Гимн Атону (XIV в. до н.э.)

Предложенный тест – отрывок из Посвящения – гимна Атону фараона Эхнатона и его супруге. Ее полное имя Нефер-Неферу-Атон *Нефертити* переводится как "Прекрасен красотой Атон, Прекрасная пришла".

Фараон XVIII династии Эхнатон в своё правление провозгласил культ Атона. Атон «в образе солнечного диска» был одним из воплощений бога солнца Ра.

Пропущенные имена богов в тексте:

1. И взойдёт на небо **Атон** великий
2. Сына Ра, владыки венцов – **Эхнатона**

**Задание 3.2** Коротко, но емко напишите, что вы знаете о мифах Древнего Египта. **(20 баллов)**

Допускается любой логически обоснованный и опирающийся на знание истории, мифологии, литературы и культуры Древнего Египта ответ.