



Федеральное государственное бюджетное образовательное
учреждение высшего образования
«Российский государственный гидрометеорологический университет»

Задания отборочного этапа олимпиады РГГМУ по географии
«Земля – наш общий дом!» 2023/24 учебный год

7-8 класс

Утверждаю
Председатель методической комиссии

О.В Хаймина

« 20 » октября 2023 год

Уважаемые участники олимпиады! Перед вами задания отборочного этапа олимпиады РГГМУ по географии «Земля – наш общий дом!».

Задания адресованы участникам 7-8 классов.

Продолжительность отборочного этапа – 1,5 астрономических часа (90 минут).

Желаем удачи!

№	Задание	Правильный ответ	Оценка в баллах	Критерии оценивания
Вопросы с выбором одного ответа				
1	Выберите правильный ответ В каком месте земного шара Рождественская звезда поднимается в небо раньше остальных? 1. Новая Зеландия 2. О. Самуа 3. Камчатка 4. О-ва Кирибати	4	1 балл	Выбран верный ответ
2	Выберите правильное выражение 1. Тёплый воздух тяжелее холодного 2. Холодный воздух тяжелее тёплого 3. Вес тёплого и холодного воздуха не отличается	2	1 балл	Выбран верный ответ
3	Выберите правильный ответ На акватории какого моря образуются тропические циклоны 1. Море Росса 2. Море Карибское 3. Море Красное 4. Море Лаптевых	2	1 балл	Выбран верный ответ


Разработал	Член методической комиссии	Анискина Ольга Георгиевна Волощук Екатерина Васильевна Королькова Светлана Витальевна Соколова Александра Александровна Урусова Елена Сергеевна Шевчук Олег Игоревич	7-8 класс
Олимпиада РГГМУ по географии «Земля – наш общий дом!» 2023/24 учебный год			Стр. 1 из 1



Федеральное государственное бюджетное образовательное
учреждение высшего образования
«Российский государственный гидрометеорологический университет»

Задания отборочного этапа олимпиады РГГМУ по географии
«Земля – наш общий дом!» 2023/24 учебный год

7-8 класс

				
	1 Обь 2 Нева 3 Амазонка 4 Сена			
5	Выберите правильный ответ Выберите название реки, с которой связано одно из древнейших государств Западной Азии: 1. Ослик 2. Тигр 3. Росомаха 4. Медведица	2	1 балл	Выбран верный ответ
6	Выберите правильный ответ Процесс повышения роли городов в развитии общества называется: 1. Урбанизация 2. Рурализация 3. Агломерация	1	1 балл	Выбран верный ответ
7	Выберите правильный ответ Расположение каких изолиний на синоптической карте анализируют, чтобы определить циклон или антициклон господствует над рассматриваемой территорией? 1. Изобаты 2. Изотермы 3. Изотахи 4. Изобары	4	1 балл	Выбран верный ответ
Вопросы с множественным выбором ответа				
8	Выберите правильные ответы Из перечисленных рек России выберите те, которые являются притоками 2-го порядка своих главных рек 1. Алдан 2. Белая 3. Медведица 4. Москва 5. Томь 6. Тобол 7. Припять	2,4,6	До 1,5 баллов включительно	По 0,5 балла за каждый правильный ответ


Разработал	Член методической комиссии	Анискина Ольга Георгиевна Волощук Екатерина Васильевна Королькова Светлана Витальевна Соколова Александра Александровна Урусова Елена Сергеевна Шевчук Олег Игоревич	7-8 класс
Олимпиада РГГМУ по географии «Земля – наш общий дом!» 2023/24 учебный год			Стр. 2 из 14



Федеральное государственное бюджетное образовательное
учреждение высшего образования
«Российский государственный гидрометеорологический университет»

Задания отборочного этапа олимпиады РГГМУ по географии
«Земля – наш общий дом!» 2023/24 учебный год

7-8 класс

	8. Северский Донец 9. Нижняя Тунгуска			
9	Выберите правильные ответы Выберите государства с монархической формой правления 1. Турция 2. Оман 3. Ливан 4. Сирия 5. Иордания 6. Катар 7. Кувейт 8. Ирак 9. Иран 10. Бахрейн 11. Пакистан 12. Индия	2,5,6,7,10	До 2,5 баллов включительно	0,5 балла за правильный ответ
10	Выберите правильные ответы Какие из перечисленных полезных ископаемых относятся к категории «нерудные» 1. Нефть 2. Мел 3. Железная руда 4. Каменный уголь 5. Песок 6. Известняк 7. Гранит	2, 5, 6, 7	До 2,0 баллов включительно	По 0,5 балла за правильный ответ
11	Выберите правильные ответы Из представленных на фотографиях драгоценных и полудрагоценных камней выберите те, которые имеют органическое происхождение и назовите их 	4 – перламутр, 5 коралл, 7 - янтарь	До 6 баллов включительно	По 2 балла за каждый полный правильный ответ По одному баллу, если верно выбраны изображения, но ошибочно названы или отсутствуют названия

Разработал	Член методической комиссии	<i>Анискина Ольга Георгиевна Волощук Екатерина Васильевна Королькова Светлана Витальевна Соколова Александра Александровна Урусова Елена Сергеевна Шевчук Олег Игоревич</i>	7-8 класс
Олимпиада РГГМУ по географии «Земля – наш общий дом!» 2023/24 учебный год			Стр. 3 из 14



2.



3.



4.



<i>Разработал</i>	<i>Член методической комиссии</i>	<i>Анискина Ольга Георгиевна Волощук Екатерина Васильевна Королькова Светлана Витальевна Соколова Александра Александровна Урусова Елена Сергеевна Шевчук Олег Игоревич</i>	<i>7-8 класс</i>
Олимпиада РГГМУ по географии «Земля – наш общий дом!» 2023/24 учебный год			<i>Стр. 4 из 14</i>



Федеральное государственное бюджетное образовательное
учреждение высшего образования
«Российский государственный гидрометеорологический университет»

Задания отборочного этапа олимпиады РГГМУ по географии
«Земля – наш общий дом!» 2023/24 учебный год

7-8 класс

5.




6.



7.



<i>Разработал</i>	<i>Член методической комиссии</i>	<i>Анискина Ольга Георгиевна Волощук Екатерина Васильевна Королькова Светлана Витальевна Соколова Александра Александровна Урусова Елена Сергеевна Шевчук Олег Игоревич</i>	<i>7-8 класс</i>
Олимпиада РГГМУ по географии «Земля – наш общий дом!» 2023/24 учебный год			<i>Стр. 5 из 14</i>

	Федеральное государственное бюджетное образовательное учреждение высшего образования «Российский государственный гидрометеорологический университет»	
	Задания отборочного этапа олимпиады РГГМУ по географии «Земля – наш общий дом!» 2023/24 учебный год	7-8 класс

8.				
----	---	--	--	--

Задания на заполнение пропусков				
12	Заполните пропуски Расставьте следующие города России по порядку их расположения с запада на восток 1. Омск 2. Челябинск 3. Санкт-Петербург 4. Казань 5. Уфа 6. Новосибирск 7. Красноярск 8. Нижний Новгород 9. Москва	3-9-8-4-5-2-1-6-7	До 4,5 баллов включительно	По 0,5 балла за каждый правильный ответ в последовательности




<i>Разработал</i>	<i>Член методической комиссии</i>	<i>Анискина Ольга Георгиевна</i> <i>Волощук Екатерина Васильевна</i> <i>Королькова Светлана Витальевна</i> <i>Соколова Александра Александровна</i> <i>Урусова Елена Сергеевна</i> <i>Шевчук Олег Игоревич</i>	7-8 класс
Олимпиада РГГМУ по географии «Земля – наш общий дом!» 2023/24 учебный год			Стр. 6 из 14



Федеральное государственное бюджетное образовательное
учреждение высшего образования
«Российский государственный гидрометеорологический университет»

Задания отборочного этапа олимпиады РГГМУ по географии
«Земля – наш общий дом!» 2023/24 учебный год

7-8 класс

13	<p>Заполните пропуски По фотографиям достопримечательностей городов России узнайте эти города и вставьте в таблицу названия рек (Волхов, Северная Двина, Обь, Лена, Нева, Волга, Кама, Москва), на которых стоят эти города:</p> <p>1.  Река _____</p> <p>2.  Река _____</p> <p>3.  Река _____</p>	1 - Кама, 2 – Нева, 3 – Москва, 4 – Обь, 5 – Волхов, 6 – Волга, 7 – Северная Двина, 8 – Лена	До 8 баллов включительно	По 1 баллу за каждый правильный ответ
----	---	--	-----------------------------	--

Разработал	Член методической комиссии	<i>Анискина Ольга Георгиевна Волощук Екатерина Васильевна Королькова Светлана Витальевна Соколова Александра Александровна Урусова Елена Сергеевна Шевчук Олег Игоревич</i>	7-8 класс
Олимпиада РГГМУ по географии «Земля – наш общий дом!» 2023/24 учебный год			Стр. 7 из 14



4.



Река _____

5.



Река _____



6.



Река _____

<i>Разработал</i>	<i>Член методической комиссии</i>	<i>Анискина Ольга Георгиевна Волощук Екатерина Васильевна Королькова Светлана Витальевна Соколова Александра Александровна Урусова Елена Сергеевна Шевчук Олег Игоревич</i>	<i>7-8 класс</i>
Олимпиада РГГМУ по географии «Земля – наш общий дом!» 2023/24 учебный год			<i>Стр. 8 из 14</i>



	<p>7. </p> <p>Река _____</p> <p>8. </p> <p>Река _____</p>				
14	<p>Заполните пропуски Расположите моря по возрастанию глубин</p> <ol style="list-style-type: none">1. Карибское2. Норвежское3. Скоша4. Черное	1324	1 балл	Правильно заполнены все пропуски	
Задания на сопоставление					
15	<p>Найдите соответствие «Страна - Столица - Площадь, тыс.км²- Население, млн чел»</p> <p>Страна</p> <ol style="list-style-type: none">1. Румыния2. Испания3. Словакия4. Швеция5. Словения <p>Столица</p> <ol style="list-style-type: none">А. МадридБ. СтокгольмВ. БухарестГ. ЛюблянаД. Братислава <p>Площадь, тыс км²</p>	<ol style="list-style-type: none">1-В-І-з2-А-ІІ-к3-Д-ІV-ж4-Б-ІІІ-е5-Г-V-и	До 10 баллов включительно	По 2 балла за каждый полностью правильный ответ	

<i>Разработал</i>	<i>Член методической комиссии</i>	<i>Анискина Ольга Георгиевна Волощук Екатерина Васильевна Королькова Светлана Витальевна Соколова Александра Александровна Урусова Елена Сергеевна Шевчук Олег Игоревич</i>	<i>7-8 класс</i>
Олимпиада РГГМУ по географии «Земля – наш общий дом!» 2023/24 учебный год			Стр. 9 из 14



Федеральное государственное бюджетное образовательное
учреждение высшего образования
«Российский государственный гидрометеорологический университет»

Задания отборочного этапа олимпиады РГГМУ по географии
«Земля – наш общий дом!» 2023/24 учебный год

7-8 класс

	I - 237,500 II - 504,782 III - 449,964 IV - 48,845 V - 20,253 Население, млн чел е - 10,313 ж - 5,449 з - 19,054 и - 2,133 к - 50,034			
16	Сопоставьте Все мы хорошо знаем большие города России – города федерального значения, областные центры, столицы республик, краев, автономных округов. Но люди живут не только в них. И многие малые населенные пункты России хорошо известны. Составьте пары из небольших населенных пунктов и субъектов Российской Федерации, где они расположены Населенный пункт 1. Мичуринск 2. Торжок 3. Хулимсунт 4. Лабытнанги 5. Олёкминск 6. Златоуст 7. Камень-на-Оби 8. Новочеркасск 9. Великий Устюг 10. Сосногорск Субъекты Российской Федерации: А. Челябинская область, Б. Ростовская область, В. Тверская область, Г. Тамбовская область, Д. Ханты-Мансийский автономный округ, Е. Ямало-Ненецкий автономный округ, Ж. Республика Саха (Якутия), З. Республика Коми, И. Вологодская область, К. Алтайский край,	1 Г 2 В 3 Д 4 Е 5 Ж 6 А 7 К 8 Б 9 И 10 З	До 5 баллов включительно	По 0,5 балла за каждый правильный ответ
17	Составьте пары из государств и местных ветров, наблюдающихся на их территории Ветер 1. Мистраль 2. Хамсин 3. Афелий 4. Кизеловская бора Страна А. Франция В. Греция С. Египет	1-А, 2-С, 3-В, 4-Д	До 2 баллов включительно	По 0,5 балла за каждый правильный ответ

<i>Разработал</i>	<i>Член методической комиссии</i>	<i>Анискина Ольга Георгиевна Волощук Екатерина Васильевна Королькова Светлана Витальевна Соколова Александра Александровна Урусова Елена Сергеевна Шевчук Олег Игоревич</i>	<i>7-8 класс</i>
Олимпиада РГГМУ по географии «Земля – наш общий дом!» 2023/24 учебный год			<i>Стр. 10 из 14</i>



Федеральное государственное бюджетное образовательное
учреждение высшего образования
«Российский государственный гидрометеорологический университет»

Задания отборочного этапа олимпиады РГГМУ по географии
«Земля – наш общий дом!» 2023/24 учебный год

7-8 класс

	D. Россия			
18	Составьте пары из населённых пунктов и тепловых поясов, в которых они находятся Населенный пункт 1. Анадырь 2. Певек 3. Мельбурн 4. Станция Восток 5. Каракас Тепловой пояс А. Северный полярный пояс В. Южный полярный пояс С. Умеренный северный пояс D. Умеренный южный пояс E. Экваториальный пояс	1-С, 2-А, 3-Д, 4-В, 5-Е	До 5 баллов включительно	По 1 баллу за каждый правильный ответ
19	Составьте пары из ресурса и типа, к которому он относится: Ресурс 1. лес 2. каменный уголь 3. энергия течений Тип ресурса А - исчерпаемый Б - неисчерпаемый В – условно возобновляемый	1-В 2-А 3-Б	До 1,5 баллов включительно	По 0,5 балла за каждый правильный ответ
20	Найдите соответствие между атмосферными явлениями и слоями атмосферы Облака 1. Серебристые облака 2. Перламутровые облака 3. Перистые облака 4. Слоистые облака Слой атмосферы А. Нижняя стратосфера В. Верхняя мезосфера С. Нижняя тропосфера D. Верхняя тропосфера	1-В 2-А 3-Д 4-С	До 4 баллов включительно	По 1 баллу за каждый правильный ответ
21	Сопоставьте термины, используемые на картах Русского Севера, и типы гидрографических объектов: Название 1. Наволок 2. Луда 3. Салма 4. Кошки 5. Губа Тип объекта А - песчаные или из мелкого камня мели острова на взморье, обнажаются при отливе, низменные острова Б - пролив В - мыс Г - каменистая мель, отмель, обычно появляющаяся внезапно	4 А 3 Б 1 В 2 Г 5 Д	До 5 баллов включительно	По 1 баллу за каждый правильный ответ

Разработал	Член методической комиссии	<i>Анискина Ольга Георгиевна Волощук Екатерина Васильевна Королькова Светлана Витальевна Соколова Александра Александровна Урусова Елена Сергеевна Шевчук Олег Игоревич</i>	7-8 класс
Олимпиада РГГМУ по географии «Земля – наш общий дом!» 2023/24 учебный год			Стр. 11 из 14



Федеральное государственное бюджетное образовательное
учреждение высшего образования
«Российский государственный гидрометеорологический университет»

Задания отборочного этапа олимпиады РГГМУ по географии
«Земля – наш общий дом!» 2023/24 учебный год

7-8 класс

на глубоких местах, небольшой каменистый остров, лишенный
растительности
Д - залив

Вопросы открытого типа

22	Используя карты Белого, Баренцева и Карского морей приведите конкретные примеры использования терминов , указанных в вопросе 22. Формат ответа «Географический объект, в названии которого фигурируют перечисленные термины - Море » По одному примеру на каждый термин	Возможные варианты ответов: В Карском море Марресальские Кошки, острова Шарповы Кошки В Баренцевом море на северо-востоке Острова Камбальницкие, Острова Гуляевские кошки Майнаволок Баренцево море Белый Наволок Баренцево море Рай-наволок, Поднаволок, Избной Наволок – Белое море Кандалакший залив Великая Салма, Оборина Салма, Глубокая салма, Западная салма, Восточная салма (Белое	До 5 баллов включительно	По 1 баллу за каждый правильный ответ
----	---	--	--------------------------	---------------------------------------

<i>Разработал</i>	<i>Член методической комиссии</i>	<i>Анискина Ольга Георгиевна Волощук Екатерина Васильевна Королькова Светлана Витальевна Соколова Александра Александровна Урусова Елена Сергеевна Шевчук Олег Игоревич</i>	<i>7-8 класс</i>
Олимпиада РГГМУ по географии «Земля – наш общий дом!» 2023/24 учебный год			<i>Стр. 12 из 14</i>




Федеральное государственное бюджетное образовательное
учреждение высшего образования
«Российский государственный гидрометеорологический университет»

Задания отборочного этапа олимпиады РГГМУ по географии
«Земля – наш общий дом!» 2023/24 учебный год

7-8 класс

		море) Тонная луда, Зимничная Луда, Долгая луда - Белое море Кандалакшск ий залив Онежская губа, губа Палкина, Двинская губа, Мезенская губа, губа Чупа, губа Кереть, губа Канда - Белое море Губа Большая Волоковая, губа Кислая , губа Сайда, губа Тюва, губа Оленья, губа Лодейная – Кольский залив Баренцево море		
23	Вставьте географические названия в текст стихотворений: О озеро _____! Как чисты, глубоки твои воды! Ты Заполярья кумир И ценность северной природы.	Таймыр	1 балл	Вписано верное название географичес кого объекта
24	Вставьте географические названия в текст стихотворений: Зеркало-свет Уссурийского края, сеешь ты радость и тихую грусть. Как далеко ты бы ни было, знаю: я к твоей влаге еще возвращусь. _____! Озеро _____! Чаша хрустальная в дальнем краю. Будто на Ладогe, тут спозаранку Ивы пьют косами воду твою.	Ханка	1 балл	Вписано верное название географичес кого объекта

Разработал	Член методической комиссии	<i>Анискина Ольга Георгиевна Волощук Екатерина Васильевна Королькова Светлана Витальевна Соколова Александра Александровна Урусова Елена Сергеевна Шевчук Олег Игоревич</i>	7-8 класс
Олимпиада РГГМУ по географии «Земля – наш общий дом!» 2023/24 учебный год			Стр. 13 из 14

	Федеральное государственное бюджетное образовательное учреждение высшего образования «Российский государственный гидрометеорологический университет»	
	Задания отборочного этапа олимпиады РГГМУ по географии «Земля – наш общий дом!» 2023/24 учебный год	7-8 класс

25	Вставьте географические названия в текст стихотворений: Прохладный, чистый и прозрачный, Но без изысканных манер Встречает нас погодой мрачной Гостеприимный _____	Селигер	1 балл	Вписано верное название географичес кого объекта
26	Назовите страну по ее описанию. Описание: расположена на архипелаге в восточном полушарии, государственно-политическое устройство – конституционная монархия.	Япония	2 балла	Вписано верное название географичес кого объекта

Максимальное количество баллов за работу – 75 баллов

<i>Разработал</i>	<i>Член методической комиссии</i>	<i>Анискина Ольга Георгиевна Волощук Екатерина Васильевна Королькова Светлана Витальевна Соколова Александра Александровна Урусова Елена Сергеевна Шевчук Олег Игоревич</i>	7-8 класс
Олимпиада РГГМУ по географии «Земля – наш общий дом!» 2023/24 учебный год			Стр. 14 из 14