

## ЮНЫЕ ТАЛАНТЫ. ГЕОГРАФИЯ ВОПРОСЫ ПО 1 БАЛЛУ

1. Выберите вариант, в котором приведены примеры орографических географических объектов, образовавшихся в байкальскую складчатость.



А) Западный Саян и Салаирский кряж



Б) Крымские горы и Корякское нагорье



В) Патомское нагорье и хребет Хамар-Дабан



Г) Сихотэ-Алинь и хребет Черского



Д) Уральские горы и Донецкий кряж

2. Выберите реку, на которой стоит административный центр самого восточного субъекта Уральского экономического района.

- А) Тобол    Б) Иртыш    В) Урал    Г) Волга    Д) Енисей

3. Выберите субъект Российской Федерации, в котором в 2023 г. общий коэффициент рождаемости превышал общий коэффициент смертности.

- А) Республика Адыгея    Б) Республика Карелия    В) Курганская область  
Г) Республика Саха (Якутия)    Д) Ярославская область

4. Выберите города России с численностью населения 100 тыс. чел. и более, в которых наблюдается устойчивое положительное сальдо миграций на протяжении пяти лет (с 2018 по 2022 гг.).

- А) Омск    Б) Орёл    В) Таганрог    Г) Якутск    Д) Тольятти

5. Выберите города России, в которых осуществляется производство бытовых холодильников и морозильников.

- А) Красноярск    Б) Иркутск    В) Лысьва    Г) Зеленодольск    Д) Липецк

6. Выберите субъект Российской Федерации, лидирующий по производству мёда.



А) Республика Татарстан



Б) Московская область



В) Пермский край



Г) Приморский край



Д) Республика Башкортостан

7. Выберите реку, соответствующую описанию. Эта река течёт в субмеридиональном направлении. На её берегах стоит хотя бы один центр субъекта Российской Федерации. Название моря, в которое она впадает, образовано от фамилии.

- А) Енисей    Б) Лена    В) Амур    Г) Колыма    Д) Анадырь

8. Среди перечисленных морских портов выберите те, которые относятся к акватории Северного Ледовитого океана.

- А) Диксон    Б) Сабетга    В) Мезень    Г) Хатанга    Д) Ванино

9. Среди перечисленных государств выберите те, которые входили в десятку стран-лидеров по производству легковых автомобилей (на 2022 г.).

- А) Бразилия    Б) Ирак    В) Египет    Г) Мексика    Д) Австрия

8–11-е классы

10. Выберите металл, экспорт-импорт которого представлен на картосхеме.

- А) алюминий      Б) железо      В) золото  
Г) медь      Д) олово

11. Выберите географические названия, которые НЕ имеют отношения к Юго-Западной Азии.

- А) Левант      Б) Машрик      В) Магриб  
Г) Сахель      Д) Каппадокия

12. Выберите вторую по численности национальность административных территорий страны, обозначенных на картосхеме жёлтым цветом.

- А) казахи      Б) узбеки      В) украинцы  
Г) уйгуры      Д) башкиры

13. Американский разведчик и путешественник Фредерик Рассел Бёрнхем в 1895 г. обнаружил большие залежи металла в Африке, описав их как «возможно величайшее месторождение <...> на континенте», и сравнил с месторождениями в Аризоне и Монтане. Сегодня более 100 месторождений образуют целый пояс, а их общие запасы превышают 110 млн тонн. Выберите, по территории каких стран проходит этот пояс.

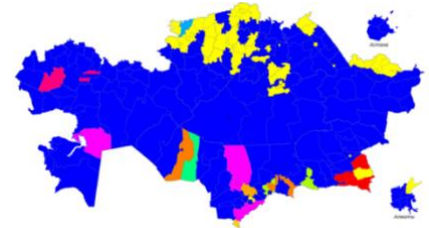
- А) Демократическая Республика Конго      Б) Мозамбик      В) Ботсвана  
Г) Зимбабве      Д) Замбия

14. Выберите основные страны-импортёры российского золота после введения западных санкций в 2022 г.

- А) Объединённые Арабские Эмираты      Б) Бразилия      В) Швейцария  
Г) Турция      Д) Гонконг **А; Г; Д**

15. Выберите государство, которое является наименее посещаемым туристами.

- А) Барбадос      Б) Кабо-Верде      В) Мадагаскар      Г) Тувалу      Д) Фиджи



**ВОПРОСЫ ПО 2 БАЛЛА**

16. Установите соответствия: научная географическая экспедиция – годы её проведения.

- А) путешествие в Тянь-Шань П.П. Семёнова  
Б) кругосветное антарктическое плавание Ф.Ф. Беллинсгаузена и М.П. Лазарева  
В) кругосветное плавание под руководством И.Ф. Крузенштерна и Ю.Ф. Лисянского  
Г) первое путешествие Н.М. Пржевальского по Центральной Азии  
Д) Великая Северная экспедиция  
1) 1856–1857 гг.      2) 1803–1806 гг.      3) 1871–1873 гг.      4) 1733–1743 гг.      5) 1819–1821 гг.

17. Установите соответствия: природная зона России – характерный для неё тип почв.

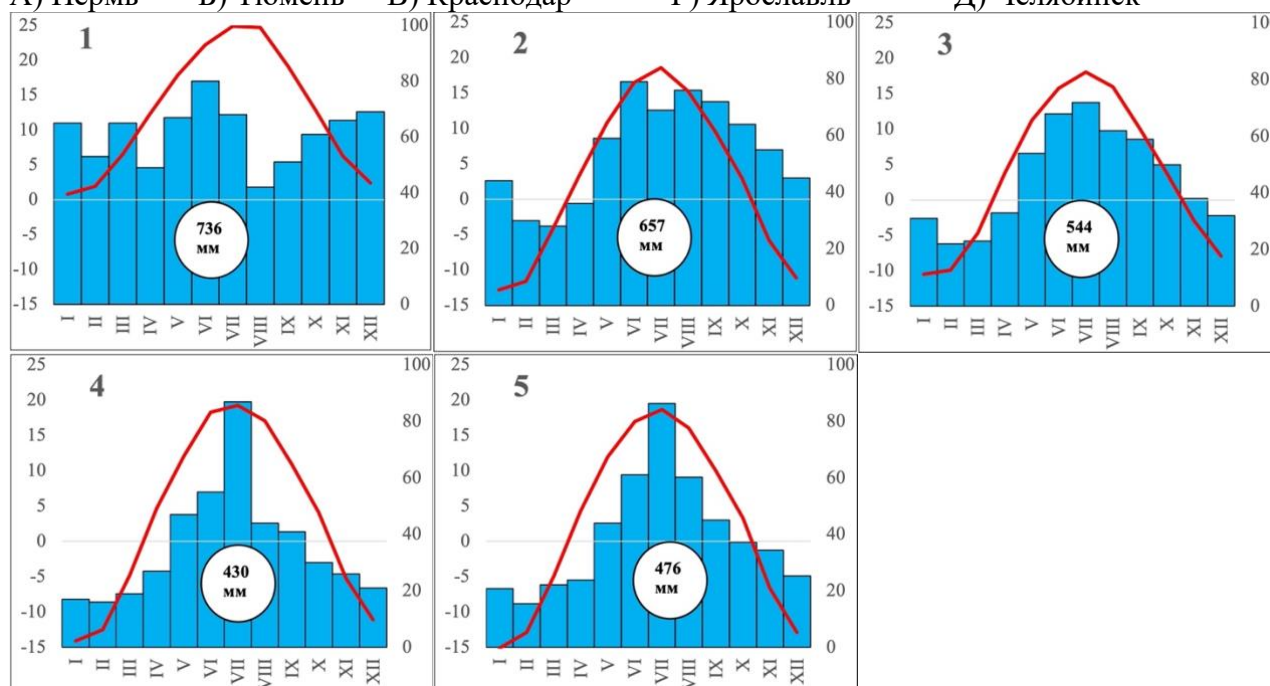
- А) тундра      Б) тайга      В) широколиственные леса      Г) степи      Д) полупустыни  
1) чернозём      2) серые лесные      3) подзолистые      4) глеевые      5) светло-каштановые

18. Расставьте перечисленные государства в порядке увеличения длины их сухопутной границы с Российской Федерацией.

- А) Азербайджан      Б) Казахстан      В) Монголия      Г) Норвегия      Д) Беларусь

19. Установите соответствия: город, являющийся региональной площадкой олимпиады «Юные таланты» по предмету «География», – соответствующая ему климатограмма.

А) Пермь    Б) Тюмень    В) Краснодар    Г) Ярославль    Д) Челябинск



20. Установите соответствия: продукт химической промышленности – сырьё, из которого его производят.

А) фосфорные удобрения    Б) азотные удобрения    В) калийные удобрения  
Г) сода    Д) вискоза

1) сильвинит    2) поваренная соль    3) апатит    4) аммиак    5) целлюлоза

21. Расставьте федеральные округа Российской Федерации в порядке увеличения суммарного интернет-трафика абонентов, т.е. объёма переданной через Интернет информации (на 2022 г.).

А) Центральный    Б) Северо-Западный    В) Приволжский  
Г) Северо-Кавказский    Д) Дальневосточный

22. Расставьте регионы азиатской части Российской Федерации в порядке возрастания показателя объёма валового регионального продукта на душу населения:



А) Красноярский край



Б) Иркутская область



В) Ханты-Мансийский автономный округ-Югра



Г) Республика Алтай



Д) Забайкальский край

23. Установите соответствия: государство Северной Европы – его политический лидер.

А) Норвегия    Б) Швеция    В) Финляндия    Г) Дания    Д) Исландия

1) Фредерик X    2) Карл XVI Густав    3) Харальд V    4) Катрин Якобсдоуттир    5) Петтери Орпо

24. Установите соответствия: марка автомобиля – город, в котором находится штаб-квартира компании, владеющей брендом в настоящее время.

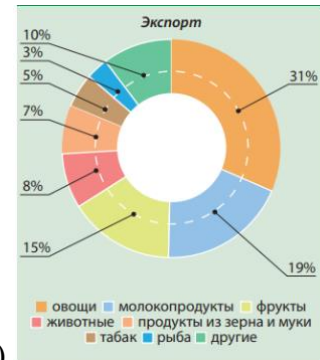
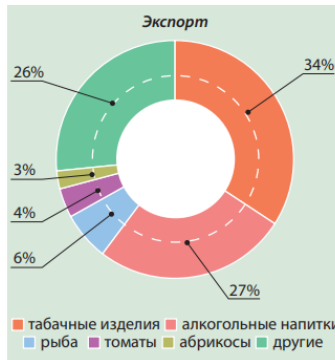
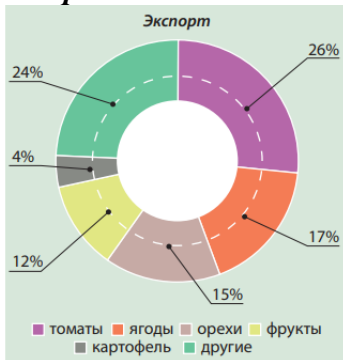


L I N C O L N

J A G U A R

- А) Rolls-Royce    Б) Lincoln    В) Nissan    Г) Jaguar    Д) Buick  
 1) Мюнхен    2) Мумбаи    3) Амстердам    4) Детройт    5) Дирборн

25. Установите соответствия: товарная структура внешней торговли сельскохозяйственными и продовольственными товарами – страна, для которой она характерна.



- А) 1) Азербайджан    2) Армения    3) Беларусь    4) Кыргызстан    5) Таджикистан
- Б) 1) Азербайджан    2) Армения    3) Беларусь    4) Кыргызстан    5) Таджикистан
- В) 1) Азербайджан    2) Армения    3) Беларусь    4) Кыргызстан    5) Таджикистан
- Г) 1) Азербайджан    2) Армения    3) Беларусь    4) Кыргызстан    5) Таджикистан

**ВОПРОСЫ ПО 3 БАЛЛА**

26. Заполните пропуски в следующем тексте.

Исландская депрессия – обширная область (А) атмосферного давления над северной частью Атлантического океана, между островом (Б) и Европой. Это один из основных центров действия атмосферы Северного полушария с преобладанием глубоких и устойчивых циклонов в этом районе над антициклонами. Проявляется главным образом в (В) период.

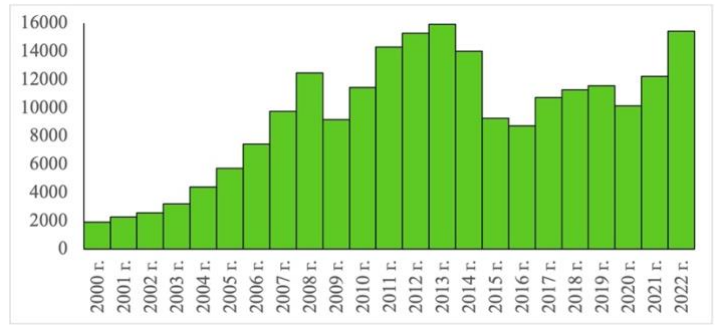
27. Заполните пропуски в следующем тексте.

(А) – это процесс, в ходе которого происходят миграции из сельских населённых пунктов в городские. Одна из разновидностей этого процесса – (Б) – сопровождается ростом трущоб, т.к. городские функции не растут соизмеримо повышению численности населения. Обратные миграции (из города в село) приводят к развитию процесса (В).

## 8–11-е классы

**28. Заполните пропуски в следующем тексте.**

Главным удельным макроэкономическим показателем развития страны является (А). На рисунке представлены его изменения в 2000–2022 гг., характерные для России. Данный показатель включает в себя (Б) развития экономики, особенности её структуры, эффективность функционирования отдельных отраслей, степень участия страны в мировых интеграционных процессах, объём инвестиций в экономику и качество жизни населения. К сожалению, Россия уступает по этому показателю многим странам мира, а первое место в мировом рейтинге в последние годы занимает (В).

**29. Заполните пропуски в следующем тексте.**

Несмотря на то, что славяне составляют менее 1% населения (А), название столицы этого финно-угорского государства – города (Б), вероятно, происходит от славянских корней. На долю столицы приходится 39% всего ВВП страны. Также в этом городе находится самая загруженная трамвайная сеть в мире, а метрополитен уступает по старшинству в Европе только сети города (В).

**30. Заполните пропуски в следующем тексте.**

Южная Америка лидирует среди материков по объёму речного стока и на 1 кв. км, и на одного жителя. Поэтому в энергетике многих стран континента ключевую роль играют гидроэлектростанции. Здесь находится ещё недавно бывшая крупнейшей в мире по мощности ГЭС (А) (14 млн кВт). Она построена на пограничном участке реки (Б) и принадлежит двум странам – Бразилии и (В).



Плотина электростанции образовала водохранилище длиной 170 км, шириной от 7 до 12 км, площадью 1350 кв. км и объёмом воды 29 куб. км. По завершении её строительства правительством было переселено около 10 тысяч семей.