



1. Перед вами древнерусская княжеская печать XI в., на оборотной стороне которой изображен святой Георгий. Назовите славянское имя владельца печати. 5 баллов.

Ярослав Мудрый



2. А) Как называется данный архитектурный памятник? (3 б.) *Золотые ворота*

Б) Датируйте завершение его строительства с точностью до десятилетия (3 б.)

1160-е гг. / 1164 г.

В) Кто был инициатором постройки? (2 б.)

Андрей Боголюбский

Максимально – 8 баллов.

3. Заполните пробелы в тексте (возможны повторы). Максимально – 14 баллов (по 2 б.).

«В первые годы царствования 1) ___ то и дело отыскивали заговоры; отсюда возникло, между прочим, мрачное дело Лопухиных. Дела, подобные лопухинскому, возникали из двух причин: из преувеличенного страха перед приверженцами Брауншвейгской династии, число которых было крайне ограничено, и из интриг лиц, стоявших близко к 1) ___, например из подкопов Лестока и других против 2) ___. Лесток был приверженцем союза с Францией, 2) ___ — союза с Австрией; поэтому в домашнюю интригу вмешались иностранные дипломаты. Наталья Фёдоровна Лопухина, жена генерал-поручика, славилась выдающейся красотой, образованием и любезностью. Говорили, что при 3) ___, на придворных балах, она затмевала 1) ___ и что это соперничество поселило в 1) ___ вражду к Лопухиной, у которой в то время был уже сын офицер. <...> Приговор был ужасен: Лопухину с мужем и сыном, вырезав языки, колесовать. 1) ___ отменила смертную казнь: Лопухину с мужем и сыном, по вырезании языков, велено было бить кнутом, прочих — только бить кнутом... В манифесте, в котором Россия извещалась о деле Лопухиных, снова говорилось о незаконности предыдущего царствования. Всё это вызвало резкие нарекания на 1) ___ и не принесло желанного интригою результата — низвержения 2) ___. Значение вице-канцлера не только не уменьшилось, но ещё возросло; через несколько времени он получил сан канцлера. Незадолго до начала дела Лопухиной 2) ___ стоял за увольнение 4) ___, с семейством, за границу; но дело Лопухиных и отказ 4) ___ отречься, за своих детей, от прав на русский престол были причиной печальной судьбы Брауншвейгской семьи. Чтобы успокоить умы, 1) ___ поспешила вызвать в Петербург племянника своего 5) ___, сына 6) ___ и герцога Голштинского. 7 ноября 7) ___ г., перед самым объявлением о деле Лопухиных, он провозглашён был наследником престола. Перед тем он принял православие, и в церковных возгласениях при его имени велено было добавлять: внука Петра Первого».

1) *Елизавета Петровна*, 2) *Бестужев[-Рюмин]*, 3) *Анна Иоанновна*, 4) *Анна Леопольдовна*, 5) *[Карл-]Петр[-Ульрих]*, 6) *Анна Петровна*, 7) *1742*.

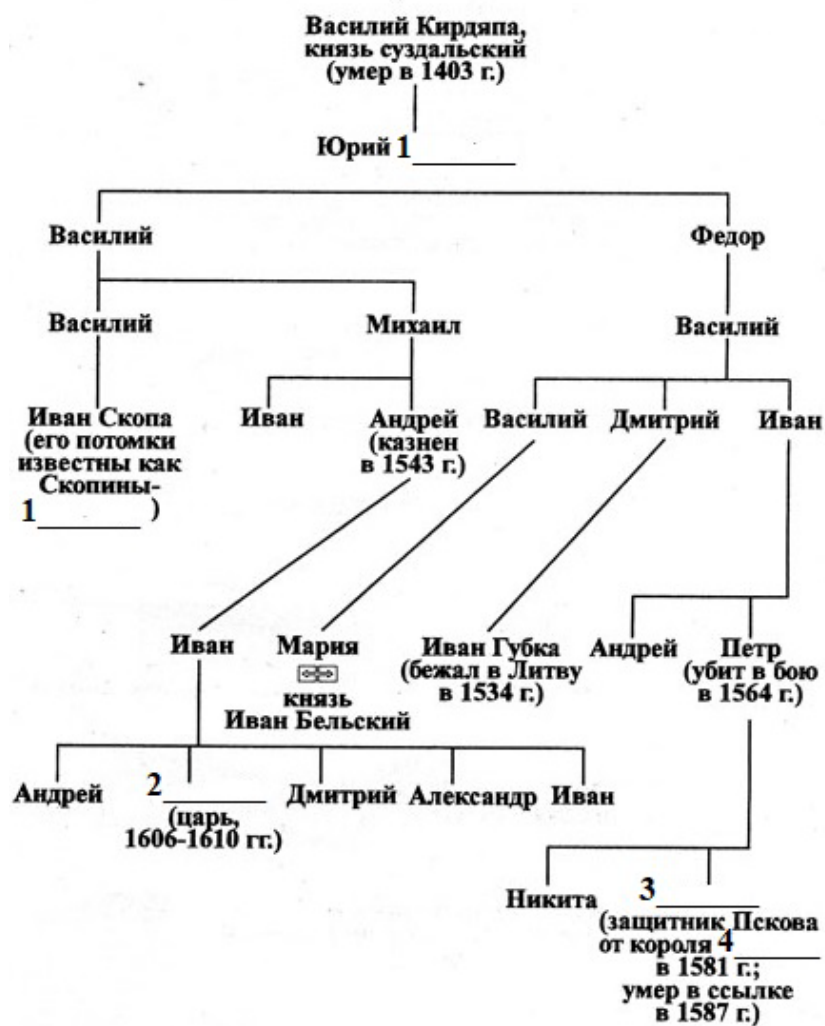
4. Вычеркните лишнее и определите принцип построения логического ряда. Максимально – 6 б.

А) Макарий, Иов, Гермоген, Филарет. *Лишнее – Макарий, остальные – патриархи. (2 б.)*

Б) Кистень, стилет, гусли, пика. *Лишнее – гусли, остальное – оружие [XVI в.]. (2 б.)*

В) Кадь, пуд, зобница, коробья. *Лишнее – пуд, остальное – средневековые меры сыпучих тел. (2 б.)*

5. Дополните генеалогическую схему, указав имена и фамилии, обозначенные цифрами 1–4. По 3 б., максимально — 12 б.



1. Шуйский, 2. Василий, 3. Иван. 4. [Стефан] Баторий

6. Ответьте на вопросы. Какие два изобретения представлены на данной картинке? Назовите имя и фамилию человека, которому они принадлежат. Какие еще изобретения этого человека вам известны? Максимально – 8 баллов.



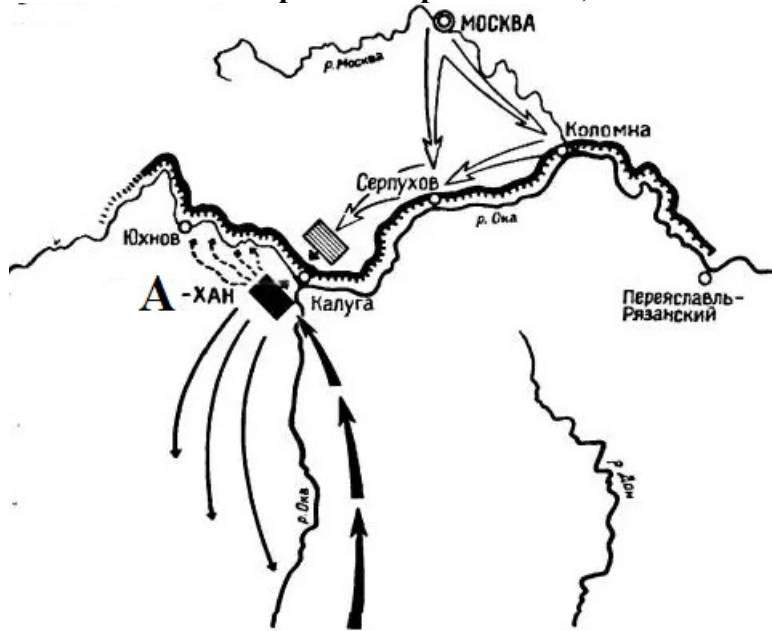
Изобретения на картинке: часы в форме яйца (вверху) (1 б.), механическая повозка-самокатка (внизу) (1 б.); **изобретатель:** И.П. Кулибин (3 б.); **прочие изобретения:** водоход – речное судно с водоотталкивающим мотором, позволяющим двигаться против течения; модель 298-метрового одноарочного моста; поднимающееся кресло или лифт для Екатерины II; усовершенствованная протезная система; "механическая нога" для поручика Сергея Непейцына, пострадавшего при штурме Очакова; фонарь-пржектор; оптический телеграф (по 1 б., максимально – 3 б.).

7. Соотнесите событие и современника. По 3 б., максимально — 15 б.

1	Создание первой частной мануфактуры в России	А	Алевиз Новый
2	Строительство Архангельского собора в Москве	Б	Андрей Виниус
3	Флорентийская уния	В	Батый
4	Битва при Молодях	Г	Василий II
5	Ледовое побоище	Д	Михаил Воротынский

1. Б, 2. А, 3. Г, 4. Д, 5. В.

8. Ответьте на вопросы к карте. По 3 б., максимально – 12 баллов.



А) Какое событие показано на карте? *Стояние на реке Угре*

Б) Датируйте данное событие с точностью до года? *1480*

В) Назовите имя хана, зашифрованное на схеме буквой «А». *Ахмат*

Г) Кто в то время занимал московский престол? *Иван III*

9. Прочитайте стихотворение современной поэтессы Валентины Поляниной и выполните задания. Максимально — 12 баллов (3 б. за каждый верный ответ).

*Между речкой Непрядвой, между Доном-речкой
Куликово есть поле, разгорелся там бой.
Поле, русское поле, поле русской земли,
Дай ты воинам силы, Дон, водой напои.*

А. Какому событию посвящено данное стихотворение? *Куликовская битва*

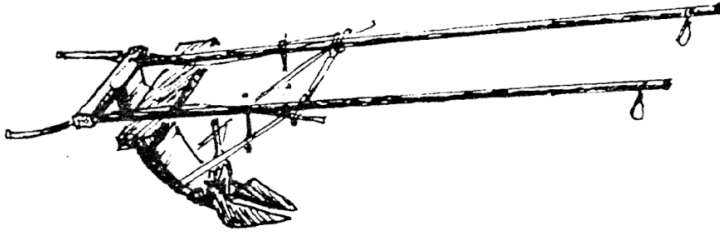
Б. Назовите основных участников этого события. *Сражение между объединённым русским войском во главе с Великим князем Владимирским и князем московским Дмитрием Ивановичем и войском правителя западной части Золотой Орды Мамаю.*

В. Когда оно произошло? *8 сентября 1380 г.*

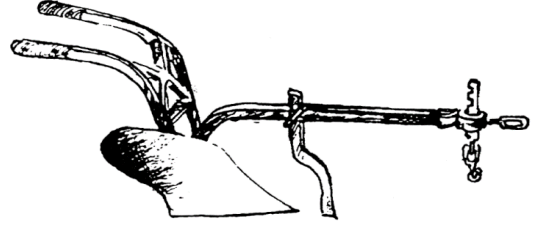
Г. В чем его историческое значение? *Переломный момент в истории противостояния монголо-татарам и предвестие окончания многолетнего ига; образование нового, сильного и суверенного государства, центром которого стала Москва; развенчание мифа о непобедимости и военном превосходстве Золотой Орды; консолидация русских княжеств, жители разных русских земель ощутили себя одним народом, связанным одной верой, одним языком, одной кровью и общим желанием сбросить иноподданное иго; пример сплочённости и единения русского народа перед лицом врага.*

10. Перед вами традиционные земледельческие орудия труда. Определите их названия, установив соответствие между буквами и цифрами. Максимально – 8 баллов (2 б. за каждый верный ответ)

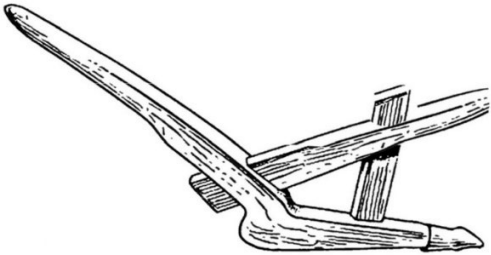
А.



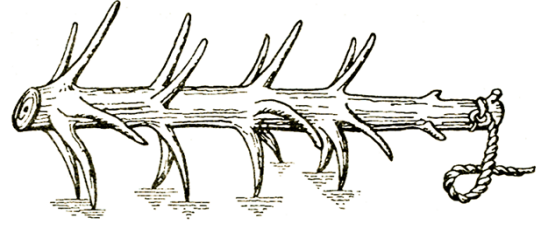
Б.



В.



Г.



1. Плуг. 2. Соха. 3. Борона. 4. Рало.

1. Б, 2. А, 3. В, 4. Г