

ЗАДАНИЕ 1

1. Назовите три понятия или термина, связанные с событиями Столетней войны (*правильный ответ — 6 баллов*).

- Созыв первого парламента в Англии
- Восстание Уота Тайлера
- Осада Орлеана
- Начало правления династии Тюдоров
- Подвиг шести граждан Кале
- Борьба гвельфов и гибеллинов

Ответ: подвиг шести граждан Кале; восстание Уота Тайлера; осада Орлеана

2. Назовите три понятия или термина, связанные с событиями Реконквисты (*правильный ответ — 6 баллов*).

- Гранадский эмират
- Битва у Лас Навас де Толоса
- Борьба арманьяков и бургундов
- Образование Кастилии и Арагона
- Правление императора Юстиниана
- Переселение Мухаммеда в Медину

Ответ: Гранадский эмират; битва у Лас Навас де Толоса; образование Кастилии и Арагона

ЗАДАНИЕ 2

1. В научных исторических текстах часто используются аббревиатуры, т. е. слова, образованные из первых букв единиц в словосочетании, из начальных частей двух и более слов или представляющее собою сложение начала одного слова с другим словом словосочетания. **Расшифруйте приведенную аббревиатуру (*правильный ответ — 4 балла*)**.

МГИАИ — так называлось высшее учебное заведение, созданное в 1930-х годах на основе двух археологических институтов с целью подготовки новых кадров для советских архивов.

Ответ: Московский государственный Историко-архивный институт

2. В научных исторических текстах часто используются аббревиатуры, т. е. слова, образованные из первых букв единиц в словосочетании, из начальных частей двух и более слов или представляющее собою сложение начала одного слова с другим словом словосочетания. **Расшифруйте приведенную аббревиатуру (*правильный ответ — 4 балла*)**.

МГОМЗ — учреждение культуры, в состав которого входят историко-архитектурные и природно-ландшафтные памятники двух бывших загородных резиденций русских царей.

Ответ: Московский государственный объединенный музей-заповедник

ЗАДАНИЕ 3

1. Замените выделенный *курсивом* фрагмент текста историческим термином (*правильный ответ — 4 балла*).

Настоящая грань перехода античной цивилизации в европейское Средневековье размыта и определяется чередой событий, происходивших на европейском континенте и в прилегающих регионах Азии в IV–VII вв. новой эры. Именно тогда *активное миграционное движение*, охватившее просторы Евразии, привело Европу к коренным изменениям в социально-экономическом, политическом, культурном и религиозном плане. В это время значительные массы не только кочевого степного, но и оседлого земледельческого населения начинают сниматься со своих привычных мест и искать, в том числе и весьма агрессивно и отчаянно, новые пространства и территории для жизни.

Ответ: Великое переселение народов


2. Замените выделенный *курсивом* фрагмент текста историческим термином (*правильный ответ — 4 балла*).

Традиционные религиозные верования славян (язычество) связаны с верой в разных богов, часто олицетворявших разные силы природы. Славяне верили в одушевленность окружающей природы, частью которого ощущал себя человек, в существование духов умерших предков, которых почитали. Храмов у славян не было, но существовали священные места (капища), где ставили *статуи божеств*, рядом с которыми проводились специальные обряды. Существовала также практика жертвоприношений.

Ответ: идолы / кумиры

ЗАДАНИЕ 4

1. Разгадайте исторический кроссворд (*правильный ответ — 10 баллов*)



По вертикали:

2. Наука, изучающая быт и культуру древних народов по сохранившимся вещественным памятникам.

Ответ: АРХЕОЛОГИЯ

По горизонтали:

1. Имя победителя в битве при Пуатье 732 г.

Ответ: КАРЛ

3. Имя философа, который знает, что ничего не знает.

Ответ: СОКРАТ

4. Духовный глава мусульман и светский правитель арабского исламского государства (халифата).

Ответ: ХАЛИФ

5. Наследственное земельное владение, пожалованное сеньором вассалу при условии несения за него службы (военной либо придворно-административной).

Ответ: ФЕОД

6. Сословно-представительные региональные собрания в государствах Пиренейского полуострова.

Ответ: КОРТЕСЫ

7. Член германского духовно-рыцарского ордена.

Ответ: ТЕВТОНЕЦ

8. Автор поэмы «Труды и дни».

Ответ: ГЕСИОД

9. Поэма Гомера, рассказывающая о долгом возвращении домой одного из участников Троянской войны.

Ответ: ОДИССЕЯ.

10. Королева (по польским законам — король) Польши с 1384 года, впоследствии вышедшая замуж за литовского князя Ягайло.

Ответ: ЯДВИГА.

ЗАДАНИЕ 5

1. Заполните пробелы в тексте (при вводе ответа учитывайте число и падеж в соответствии с правилами русского языка, имена собственные пишутся с заглавной буквы). Ответы занесите в таблицу в виде перечня слов, заменённых в тексте соответствующими номерами (*правильный ответ — 7 баллов*).

Пришедшие с предгорий Ближнего Востока земледельцы эпохи неолита начали хозяйственное освоение плодородных долин рек Тигр и Евфрат в VI–V тысячелетиях до н.э. В это время население древней [1], называемой также Междуречье, проживало в небольших поселках. Люди разводили домашний скот, сеяли ячмень, пшеницу и лён, приступили, как и древние египтяне, к созданию [2] системы. На рубеже V–IV тысячелетий до н.э. на этих землях, уже освоенных ранними земледельцами, появляется новый народ — [3]. Откуда именно они пришли в эти края, достоверно неизвестно, о месте их происхождения (прародине) до сих пор спорят ученые. С их появлением в Междуречье постепенно возникли первые протогосударственные образования в форме городов-государств. Они представляли собой небольшие области, формировавшиеся вокруг поселков с крупным [4]. Эти сооружения часто возводились на платформах,

обладали мощными стенами и, кроме основных функций, имели также и административно-хозяйственное назначение. Практически каждый город оказался отделенным от соседних либо болотами, либо притоками рек. Именно этим историки объясняют тот факт, что более-менее крупное и централизованное государство образовалось в этом регионе довольно поздно. Первый вид письменности, появившийся у народов, населявших эту страну, это пиктографические знаки или [5]. Расшифровка знаков самой ранней письменности всё еще окончательно не завершена учеными. Хотя у здешних обитателей, особенно поначалу, были еще сильны традиции общинной демократии, постепенно формировалось и классовое общество, усиливалась власть правителей. Крупные и сильные города-государства вели между собой активную борьбу за лидерство, и титул верховного правителя получал обычно правитель города, победившего в этой борьбе. Одним из наиболее могущественных городов был [6], легендарный правитель которого, по имени [7], стал героем эпоса о поисках бессмертия. Он воевал с царем города Киш, добился победы, создал сильное войско и активно занимался строительством.

Ответ:



Пропуск	Пропущенные слова
1	Месопотамии
2	ирригационной
3	шумеры
4	храмом
5	клинопись
6	Урук
7	Гильгамеш


ЗАДАНИЕ 6-8.

Вариант 1.

Установите соответствие между изображением памятника истории и архитектуры и городом, где он находится. Запишите цифры, которыми обозначены правильные ответы, в таблицу (*правильный ответ — 12 баллов*).

А		1	Ивангород
----------	---	----------	------------------

<p>Б</p>		<p>2</p>	<p>Москва</p>
<p>В</p>		<p>3</p>	<p>Псков</p>

Г		4	Владимир
---	---	---	----------

Ответ:

А	Б	В	Г
3	4	2	1

ЗАДАНИЕ 7.

Вопрос по изображению б«Б». **Объясните, в чем заключается художественное своеобразие этого памятника? (правильный ответ — 4 балла)**

Ответ: В художественном оформлении храма можно заметить черты, свидетельствующие о западноевропейском влиянии (аркатурно-колончатый пояс, выразительное скульптурное убранство, перспективные порталы). С другой стороны собор украшен уникальной каменной резьбой, где наряду с изображениями библейских героев и сюжетов присутствуют изображения языческих мифологических существ (кентавры, грифоны, русалки и т.д.), кроме того, он выстроен из белого-камня известняка, что характерно для зодчества Северо-Восточной Руси.

ЗАДАНИЕ 8. Вопрос по изображению б«В». **Укажите, при каком правителе был построен этот памятник? Назовите автора постройки. Объясните, в чем заключалось особое историческое значение этого памятника? (правильный ответ — 6 баллов)**

Ответ:


- 1) Иван III.
- 2) Аристотель Фиораванти / Фьораванти / Фьоравенти.
- 3) Усыпальница русских митрополитов и патриархов/кафедральный собор/место венчания на царство.

ЗАДАНИЕ 6-8.

Вариант 2.

Установите соответствие между изображением памятника истории и его названием. Запишите цифры, которыми обозначены правильные ответы, в таблицу (правильный ответ — 12 баллов).

<p>А</p>		<p>1</p>	<p>Храм Воскресения Христового</p>
<p>Б</p>			<p>Мавзолей Хумаюна</p>
<p>В</p>		<p>3</p>	<p>Храм Покрова Пресвятой Богородицы</p>

Г		4	Гур-Эмир
---	--	---	----------

Ответ:

А	Б	В	Г
2	3	4	1

ЗАДАНИЕ 7.

Вопрос по изображению б«В». **В каком современном государстве расположен этот памятник архитектуры? В чем заключается историческое значение этого памятника? (правильный ответ — 4 балла)**

Ответ:

- 1) Узбекистан,
- 2) здесь находится усыпальница среднеазиатского завоевателя Тамерлана.

ЗАДАНИЕ 8.

Вопросы по изображению б«Б». **1. Это не просто церковь, а храм-памятник. В честь какого исторического события он возведен? 2. При каком правителе был построен этот храм? 3. Укажите архитектурный стиль, в котором он построен (правильный ответ — 6 баллов).**

Ответ:

- 1) В честь присоединения Казанского ханства к Русскому государству.
- 2) При Иване IV.
- 3) Шатровый стиль.

ЗАДАНИЕ 9

1. Установите соответствие между знаменитыми высказываниями и именами их авторов (одна позиция в правом столбце лишняя). Ответ занесите в таблицу (правильный ответ — 5 баллов)

1	«Благородный живет в согласии со всеми, а низкий человек ищет себе подобных»	А	Нерон
2	«В здоровом теле — здоровый дух»	Б	Декарт

3	«Какой великий артист погибает!»	В	Гай Юлий Цезарь
4	«Больше, чем сделал, сделать не могу»	Г	Конфуций
5	«Я мыслю, следовательно, я существую»	Д	Ювенал
		Е	Цицерон

Ответ:

1	2	3	4	5
Г	Д	А	Е	Б

2. Установите соответствие между знаменитыми высказываниями и именами их авторов (одна позиция в правом столбце лишняя). Ответ занесите в таблицу (*правильный ответ — 5 баллов*)

1	«Благородный встречает гнев и милость высших с равным достоинством»	А	Гомер
2	«Эврика! (Я нашёл!)»	Б	Ювенал
3	«Несносно бездомное странствие»	В	Цицерон
4	«Слова следует не считать, а взвешивать»	Г	Конфуций
5	«Я предпочел бы быть первым здесь, чем вторым в Риме»	Д	Архимед
		Е	Гай Юлий Цезарь

Ответ:

1	2	3	4	5
Г	Д	А	В	Е

ЗАДАНИЕ 10

1. Используя свои знания и смекалку, ответьте на вопрос (*правильный ответ — 9 баллов*).

Одним из распространенных видов посуды на Руси были так называемые «двойнята» — два горшка с крышками, соединенные между собой глиняной перемычкой выгнутой формы. Для чего использовалась такая посуда, и в каких случаях она обычно применялась?

Ответ: Для того чтобы положить два разных блюда (например, щи и кашу), когда нужно было отнести еду работнику в поле.

2. Используя свои знания и смекалку, ответьте на вопрос (*правильный ответ — 9 баллов*).

Улица в Суздале, ведущая от моста через речку Каменку к выезду из города, в прежние времена носила название Щупачиха. Известно, что в прежние времена по этой улице часто везли на торговую площадь телеги с сеном. В начале улицы, на въезде в город, брались торговые пошлины. Объясните, почему улица получила такое название — Щупачиха?

Ответ: Если на телеге везли сено, его щупали, проверяя, не спрятан ли под ним другой товар, за который следовало заплатить большую пошлину.

ЗАДАНИЕ 11

1. Историческая память о том или ином событии или личности находит свое отражение в топонимике, которая изучает собственные имена географических объектов (топонимы). В классификации топонимов выделяют урбанонимы — названия различных внутригородских объектов. **Объясните исторический смысл названия одной из башен московского Кремля, построенной в 1490 году — Константино-Еленинская. Кем были те, чье имя носит башня? (Правильный ответ – 6 баллов)**

Ответ: Название башня получила в XVII веке, когда на территории Кремля была построена церковь Святых Константина и Елены (до настоящего времени она не сохранилась). Константин — первый римский император-христианин, св. Елена — его мать.

ЗАДАНИЕ 12

1. Перед Вами 5 слов и выражений или имен, относящихся к одному историческому событию, явлению или периоду. **Вам необходимо указать это событие (явление или период) и назвать правителя (указав годы его правления), при котором это событие или явление происходило (правильный ответ – 6 баллов).**

юрьевская дань, Стефан Баторий, осада Нарвы, Андрей Курбский, оборона Пскова

Ответ: Ливонская война. Иван IV Грозный (1533–1584)

2. Перед Вами 5 слов и выражений или имен, относящихся к одному историческому событию, явлению или периоду. **Вам необходимо указать это событие (явление или период) и назвать правителя (указав, где он в то время правил) — участника этого события (правильный ответ – 6 баллов).**

Ижора, старейшина, Гаврила Алексич, Биргер, малая дружина,

Ответ: Невская битва. Александр Невский (Новгород)

ЗАДАНИЕ 13.

1. Перед вами 5 греческих имен, одно из которых лишнее. Найдите его и укажите. **Объясните ваш выбор. Кем был обладатель пятого имени? (Правильный ответ – 6 баллов)**

Ахиллес, Перикл, Гектор, Приам, Патрокл

Ответ: Перикл — афинский реформатор и законодатель, тогда как остальные имена героев поэты Гомера «Илиада».

2. Перед вами 5 греческих имен, одно из которых лишнее. Найдите его и укажите. **Объясните ваш выбор. Кем был обладатель пятого имени? (Правильный ответ – 6 баллов)**

Мильтиад, Фемистокл, Леонид, Аристофан, Аристид

Ответ: Аристофан — греческий драматург, тогда как остальные имена полководцев периода греко-персидских войн

ЗАДАНИЕ 14

1. Перед вами отрывок из исторического источника — Салической правды (Lex Salica), которая представляет собой запись древних судебных обычаев салических франков. Прочитайте его внимательно и **укажите не менее четырех хозяйственных занятий** франкского населения, обосновавшегося на территории Римской Галлии и создавших в V–VI вв. н.э. самое крупное варварское королевство в Западной Европе, о которых мы можем узнать из некоторых статей из этого свода. **Подумайте и напишите, как в хозяйстве франков использовался лён? (правильный ответ – 6 баллов)**

«Статья VI. О краже собак.

§ 1. Если кто украдет гончую (борзую) собаку, присуждается к уплате 600 ден[ариев]., что составляет 15 сол[идов], не считая стоимости похищенного и возмещения убытков.

Статья VII. О краже птиц.

§ 1. Если кто украдет ястреба, сидящего на дереве, и будет уличен, присуждается к уплате 120 ден., что составляет 3 сол., не считая стоимости похищенного и возмещения убытков.

§ 2. Если кто украдет ястреба с шеста, присуждается к уплате 600 ден., что составляет 15 сол.

Статья VIII. О краже пчел.

§ 1. Если кто украдет один улей из-под замка, и будет уличен, присуждается к уплате 1800 ден., что составляет 45 сол.

Если яблоня будет в саду, и кто-либо ее испортит или украдет, присуждается к уплате 600 ден., что составляет 15 сол.

Тот же самый штраф мы повелеваем соблюдать и относительно виноградника.

Статья XXVII. О различных кражах

§ 1. Если кто украдет с вожака чужого свиного стада колокольчик, и будет уличен, присуждается к уплате 600 ден., что составляет 15 сол., не считая стоимости похищенного и возмещения убытков.

§ 2. Если же подобная кража совершена будет из стада мелкого скота, (виновный) присуждается к уплате 120 ден., что составляет 3 сол.

Если кто украдет бубенчик с коня, присуждается к уплате 600 ден., что составляет 15 сол.

§ 5. Если кто воровским образом пустит свой скот (с целью потравы) на чужую ниву, и будет застигнут (на месте преступления), присуждается к уплате 600 ден., что составляет 15 сол.

Если кто воровским образом соберет чужую жатву и будет застигнут (на месте преступления), присуждается к уплате 600 ден., что составляет 15 сол.

§ 6. Если кто проникнет в чужой сад с целью покражи, присуждается к уплате 600 ден., что составляет 15 сол., не считая стоимости похищенного и возмещения убытков.

§ 8. Если кто похитит с чужого поля лен и увезет его на лошади или на телеге, присуждается к уплате 600 ден., что составляет 15 сол., не считая стоимости похищенного и возмещения убытков».

Ответ: Могут быть указаны: земледелие, скотоводство, охота, садоводство, виноградарство, пчеловодство, ремесло. Лен — для ткачества, изготовления тканей.

2. Перед вами отрывок из исторического источника — Алеманнской правды (лат. Lex Alamannorum и лат. Pactus Alamannorum), которая представляет собой правовой кодекс и один из первых источников права германского племени алеманнов. Прочитайте его внимательно и **укажите не менее четырех** хозяйственных занятий алеманнов, обосновавшихся в период раннего средневековья на территории нынешней юго-западной Германии и северо-западной Австрии, о которых мы можем узнать из некоторых статей из этого свода. **Подумайте и напишите, как сейчас называют «золотых дел мастеров»?** (*правильный ответ – 6 баллов*)

«Если же кто-нибудь украдет из стада вьючных лошадей, то хозяину разрешается оценить их в 12 солидов; укравший же возвращает девять гельдов.

Если же само стадо скота причинит кому-либо ущерб или на лугу или на поле, надлежит его выгнать и сказать хозяину, чтобы пришел посмотреть, какой убыток причинил; и во сколько оценили судьи (оценщики), или ты сам сможешь доказать, то какой убыток причинили, в таком размере владелец скота должен уплатить.

Если кто-либо убьет пастуха этого скота, то должен уплатить 40 солидов.

Если кто-нибудь украдет или убьет быка из коровника, устроенного согласно предписанию, где имеются 12 коров или больше, то должен уплатить 3 солида, а если какой-нибудь рабочий скот из коровника похитит, то должен уплатить согласно стоимости.

Рабы церкви должны давать церкви законные подати: 15 сиклей пива, одну свинью стоимостью в третью часть солида, 2 меры хлеба, 5 кур, 20 яиц.

За убийство пастуха, имеющего в стаде 80 голов овец своего господина, надлежит платить 40 солидов.

За убийство кузнеца, золотых дел мастера и мастера мечей, которые публично (официально) одобрены (подверглись испытанию), надо уплатить 40 солидов.

Если же подожжет дом внутри двора, или сарай, или зернохранилище, или кладовую, то должен восстановить все равноценным и уплатить 12 солидов.

Если кто украдет охотничью собаку, которая бежит первой, должен уплатить 6 солидов; если вторую — 3 солида».

Ответ: земледелие, скотоводство, охота, ремесло. Ювелиры.

ЗАДАНИЕ 15

1. Перед вами три изображения памятников, свидетельствующие о сохранении исторической памяти о русском церковном деятеле, который в 1913 году был прославлен в лике святых. Два памятника расположены в Москве, а один — в республике Татарстан, поскольку именно на территории Казанского края этот подвижник начинал свое служение и был возведен в сан митрополита. **Ответьте на вопросы (правильный ответ — 9 баллов).**



1. Назовите этого церковного деятеля. 2. Объясните, чем он прославился. 3. Как называется тот период российской истории, с которым связана деятельность этого человека.

Ответ:

- 1) патриарх Гермоген.
- 2) был посажен в заточение занявшими Москву поляками во время польско-шведской интервенции, из заточения обращался с посланиями к русскому народу, благословляя освободительную войну против завоевателей / выступал против польского королевича Владислава на русском престоле; умер в заточении.
- 3) Смута, Смутное время.

2. Перед вами два изображения памятников, свидетельствующие о сохранении исторической памяти о крупнейшем государственном деятеле. Оба скульптуры установлены на территории Калужской области. Ответьте на вопросы (*правильный ответ — 9 баллов*).



1. Назовите этого государственного деятеля.
2. Напишите, чем он прославился.
3. Объясните, почему памятники были установлены именно на территории Калужской области?

Ответ:

1. Иван III.
2. Иван III был собирателем русских земель, создателем русского централизованного государства, он избавил Русь от монгольской зависимости, приказал создать Судебник и проч.
3. «Стояние на Угре», ознаменовавшее окончание периода зависимости Руси от Орды происходило на территории современной Калужской области.