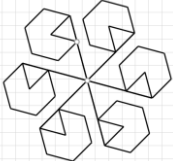
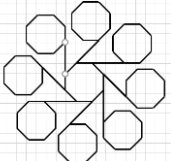
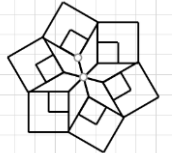
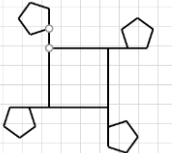
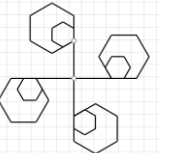
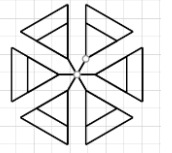
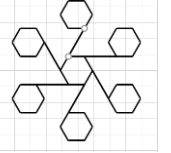
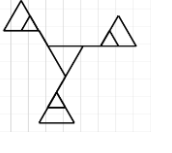


| Вариант/Задача | 1 | 2 | 3 | 4 | 5 | 6 | 7 | 8 |
|----------------|---|---|---|---|---|---|---|---|
| 1 | | | | | | | | |
| 2 | $x = 32,$ $y = 25.$ | $x = 14,$ $y = 15$ | $x = 30,$ $y = 17.$ | $x = 24,$ $y = 11$ | $x = 18,$ $y = 13$ | $x = 21,$ $y = 10.$ | $x = 36,$ $y = 11.$ | $x = 15,$ $y = 22.$ |
| 3 | | | | | | | | |
| 4 | Комбинация трех команд в любой последовательности: 0, 6, А. | Комбинация трех команд в любой последовательности: F, А, 6. | Комбинация трех команд в любой последовательности: D, 8, 9 | Комбинация трех команд в любой последовательности: E, 2, 5 | Комбинация трех команд в любой последовательности: 0, 3, С | Комбинация трех команд в любой последовательности: 0, 5, 8 | Комбинация трех команд в любой последовательности: E, 8, 9 | Комбинация трех команд в любой последовательности: D, 4, 3 |
| 5 | G, V, X | F, K, L | B, F, I | B, D, F | G, K, N | E, I, J, M | V, X | B, D, E, G |
| 6 |  |  |  |  |  |  |  |  |