

ФГОБУ ВО «Финансовый университет при Правительстве Российской Федерации»



**ВСЕРОССИЙСКАЯ ОЛИМПИАДА
ШКОЛЬНИКОВ «МИССИЯ ВЫПОЛНИМА.
ТВОЕ ПРИЗВАНИЕ – ФИНАНСИСТ!»
ПО ПРЕДМЕТУ ИСТОРИЯ
2023-2024 уч. года**

ВАРИАНТ I

Задание 1. Самостоятельно определив основание, разделите указанные события на 2 группы. В каждой группе расположите события в хронологической последовательности, используя для этого номера, под которыми они представлены. В ответ выпишите в соответствующем порядке номера, под которыми указаны события.

1. Полет Белки и Стрелки в космос.
2. Постройка Эйфелевой башни.
3. Начало разработки медных руд на реке Каме.
4. Открытие Иннополиса.
5. Возведение стен вокруг Константинополя при Феодосии.
6. Указ патриарха Никона о троеперстии, начало раскола православной церкви.
7. Варфоломеевская ночь.
8. Первое упоминание в летописях о Сибирской земле.
9. Открытие Аляски. Экспедиции В. Беринга.
10. Война за независимость под командованием Мустафы Кемаля Ататюрка.
11. Синьхайская революция.
12. Первая выставка импрессионистов.
13. Учреждение инквизиции.
14. Сооружение Римского водопровода.
15. Изобретение киноаппарата, в основе которого лежал скачковый механизм («улитка»).
16. Первая бомбардировка Лондона.
17. Создание первых банков крови.
18. Впервые в мире законодательно и официально провозглашено равенство прав мужчин и женщин.
19. Открытие первого в мире детского музыкального театра.
20. Сожжение Джордано Бруно.

Ответ:

Основание №1 (Название) – _____

Номера событий: _____

Основание №2 (Название) – _____

Номера событий: _____

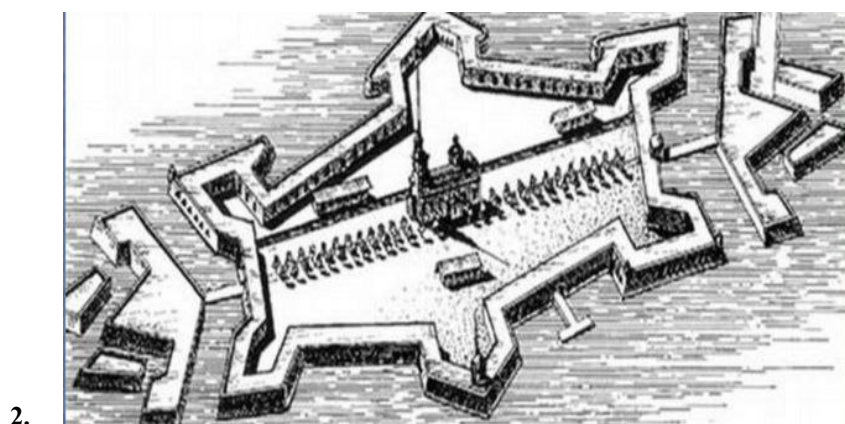
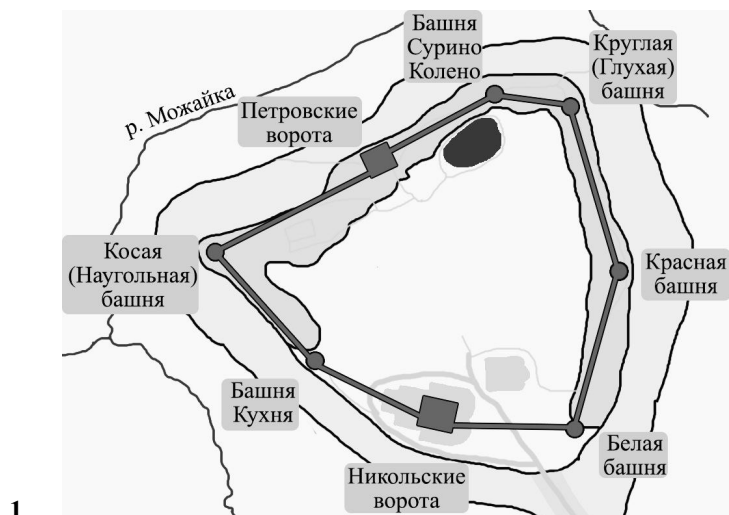
Задание 2. Выполните следующие действия:

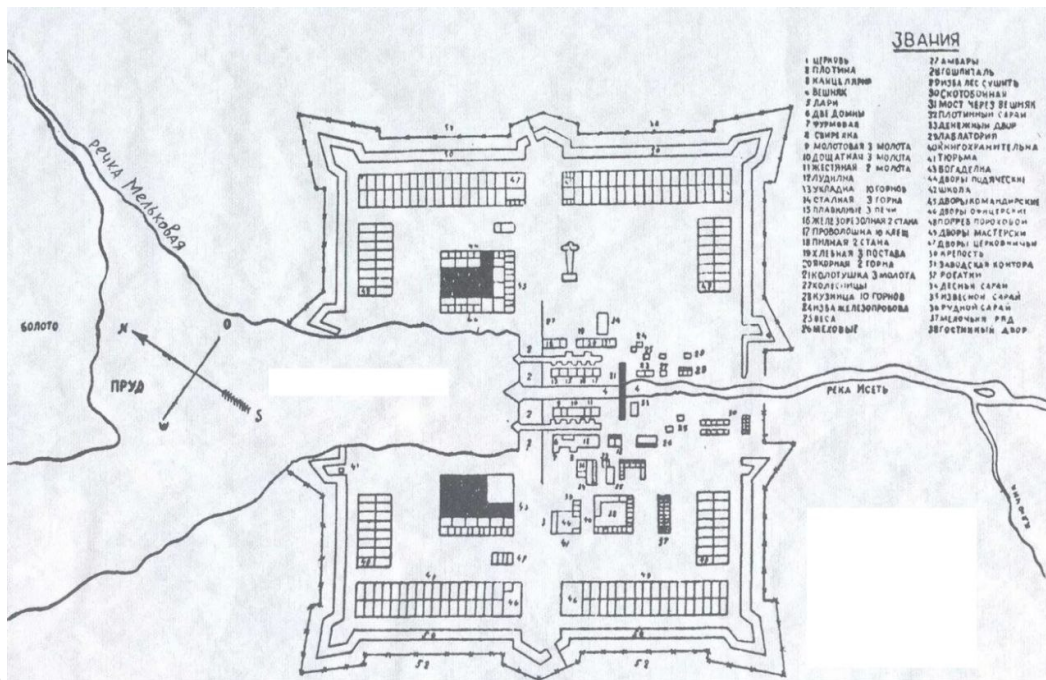
а) укажите в таблице название города, в котором расположена изображенная на плане крепость;

б) соотнесите их с гербами городов;




в) внесите информацию в таблицу в порядке дат основания этих городов;

г) занесите в таблицу соответствующее городу почетное звание («Город-Герой», «Город воинской славы», «Город трудовой доблести», «Город партизанской славы», «Город первого салюта»), если таковое имеется.





4.



Ответ:

План крепости			
Название города			
Герб			
Почетное звание			

Задание 3. Выберите по 1 верному ответу в каждом задании и занесите выбранные ответы в таблицу:

3.1 Прочтите отрывок из исторического источника и укажите пропущенное в нем название города.

«Убит же был Шевкал в 6835 г. И, услышав об этом, беззаконный царь зимой послал рать на Русскую землю – пять темников, а воевода у них Федорчук, и убили они множество людей, а иных взяли в плен; а (.....) и се окрестные города предали огню. Великий же князь Александр, чтобы не терпеть безбожных преследований, оставив русский великокняжеский престол и все свои наследственные владения, ушел во Псков с княгиней и детьми своими и остался в Пскове».

1) Киев 2) Владимир 3) Тверь 4) Москва

3.2 Прочтите отрывок из труда историка и укажите имя князя, в период правления которого происходили описываемые события.

«Каменная крепость сооружалась на владими́ро-суздальских землях впервые. До этого с каменными оборонительными сооружениями имели дело новгородцы и псковичи. Новой представлялась техника работ, непривычным был самый материал. Его находят в 30 км по течению Москвы-реки, близ впадения в нее Пахры, у села Мячкова. Мячковский камень и дал Москве имя «белокаменной». Весь необходимый для строительства Кремля запас москвичи сумели доставить по Москве-реке – по льду и воде».

1) Юрий Долгорукий 2) Иван Калита 3) Дмитрий Донской 4) Иван III

3.3 Прочтите отрывок из труда историка и укажите понятие, с которым связана ситуация, описанная в нем.

«Князь Ф.А. Ноготков, из рода Оболенских, получивший должность второго воеводы сторожевого пола, более низкую, чем у Ф.Н. Романова, бил на него челом. Он, как и многие в подобных случаях, не хотел да и не мог допустить «потерьки», «порухи» себе и своей фамилии и тогда, и на веки вечные. Ему, доказывал Ноготков, «меньши боярина Федора Никитича «Романова быть невместно»; более того, «мочно ему», Ноготкову, «быть больши боярина Федора Никитича, дяди Данилы да отца ево Никиты Романовичей Юрьевых».

1) лестница 2) кормление 3) местничество 4) нестяжательство

3.4 Прочтите отрывок из текста и вставьте одно из предложенных слов.

«Рядовой постовой полицейский в городах до 1862 года именовался (...). Этой мрачной и вместе с тем комической фигуре уделено немало места в исторической и художественной литературе. Вооруженный алебардой, то есть, длинным копьём с топориком, он пребывал на посту в будке, окрашенной полосами. Но чаще будка имела вид жилого дома, окруженного огородом, зимой деревянная или каменная будка отапливалась. И он не просто стоял на посту, но и жил в будке вместе с семьей».

1) постовой 2) околоточный 3) будочник 4) хожалый

3.5 Прочтите отрывок из текста и вставьте одно из предложенных слов.

Во все времена ювелиры на Руси удивляли своим мастерством. Одни гранили драгоценные камни, другие изготавливали украшения из драгоценных металлов, а третьи занимались (...) Этот вид ювелирной техники до сих пор не перестает удивлять современных обывателей своим изяществом и ажурностью.




Со старославянского слово «съкати» означает «свивать несколько нитей между собой». (...) известна на Руси еще с 9-10 веков, но настоящую популярность эта ювелирная техника приобрела в 18-19 вв. Ювелиры использовали тонкую скрученную проволоку из золота, серебра или меди, и превращали ее в ажурный или напаянный на металл узор.

1) майолика 2) зернь 3) финифть 4) фаянс

Ответы:

3.1	3.2	3.3	3.4	3.5

Задание 4. Вам необходимо определить какому выдающемуся полководцу посвящена большая часть информации, размещенной ниже (7 блоков связаны с жизнью и деятельностью этого полководца, а 1 является лишним):

<p>1</p> 	<p>2</p> <p><i>«Истинной славы не стоит домогаться, она – следствие той жертвы, которую приносишь для общественного блага».</i></p>	<p>3</p> <p>Дед его Иван служил генеральным писарем в Преображенском полку.</p> <p>Петр 1, бывая в Преображенской слободе, заходил в дом Ивана, рукой которого было написано немало важных указов. Особенно дед Иван гордился тем, что Петр 1 стал крестным отцом его сына.</p>
<p>Грудь твоя горит звездами: Ты геройски добыл их, В жарких схватках со врагами, В ратоборствах роковых; Воин смлада знаменитый, Ты ещё под шведом был, И на финские граниты Твой скакун звучнокопытый Блеск и топот возносил.</p> <p>Н.М. Языков</p>	<p>5</p> 	<p>Сей идол северных дружин, Маститый страж страны державной, Смиритель всех ее врагов, Сей остальной из стаи славной Екатерининских орлов. В твоём гробу восторг живет!</p> <p>А.С. Пушкин</p>
<p>4</p>  <p>7</p>	<p>Первым крупным сражением, в котором участвовал полководец, стало решающее в Семилетней войне.</p> <p>Командующий русской армией генерал-аншеф П.С. Салтыков писал в своей реляции Елизавете, что наши солдаты превзошли себя своей храбростью, потери велики, но король прусский не продает дешево побед. Фридрих II сам чудом остался в живых, под ним были убиты две лошади и прострелен мундир.</p> <p>8</p>	<p>6</p>

4.1 Определите и запишите в ответ Ф.И.О. полководца.

4.2 Выпишите цифры, под которыми размещена информация о нем.

4.3 Составьте связный рассказ о жизни и деятельности полководца. В обязательном порядке используя данную в этом задании информацию. Ответ принимается при объеме не менее 15 предложений.

Ответ:

4.1 _____

4.2 _____

4.3

Задание 5. Внимательно изучите иллюстрацию:

5.1 Укажите современное название здания.

5.2 Выпишите цифры, под которыми размещены верные высказывания.

1. На иллюстрации изображен старейший вокзал Москвы.
2. Здание было построено в 1864-1871 гг. по проекту Константина Тона.
3. Первый поезд прибыл на Петербургский вокзал Москвы 3 августа 1851 года, а 19 августа по железной дороге впервые приехал Николай I с супругой и наследниками.
4. В 1855 году в связи с кончиной императора Петербургско-Московскую железную дорогу переименовали в Николаевскую. Это же название получили и оба конечных вокзала.
5. В феврале 1923 года приказом народного комиссара Ф.Э. Дзержинского Николаевская дорога была переименована в Октябрьскую, Николаевский вокзал стал Октябрьским, а через год, в связи с переименованием северной столицы вокзал стал называться Ленинградским.



Ответ:

5.1 _____

5.2 _____

Задание 6. Изучите представленные материалы эпистолярного жанра и определите:

1) автора письма

2) адресата

3) повод, по которому написано это письмо

Данные занесите в таблицу.

А) Мой друг, то, что я так к Вам обращаюсь - не формальность. У меня нет врагов. В последние 33 года делом моей жизни было заручиться дружбой всего человечества, относясь по-дружески ко всем людям вне зависимости от расы, цвета кожи или вероисповедания. Мы не сомневаемся в Вашем мужестве и в том, что Вы преданы своему отечеству, также мы не верим в то, что Вы представляете из себя чудовище, каким рисуют Вас Ваши оппоненты.

Тем не менее как Ваши собственные сочинения и высказывания, так и слова Ваших друзей и почитателей не оставляют сомнений в том, что многие Ваши действия чудовищны и не соответствуют понятиям о человеческом достоинстве. Поэтому мы, вероятно, не можем пожелать успеха Вашему оружию. Мы выступаем против британского империализма не меньше, чем против нацизма. Наше сопротивление, однако, не направлено на то, чтобы нанести ущерб британскому народу. Мы стремимся убедить их, но не одержать победу на поле битвы.

Метод ненасилия способен нанести поражение союзу всех самых ожесточенных сил в этом мире. Если не британцы, то другая держава, вне сомнений, победит Вас Вашим же оружием. Вы не оставите своему народу наследия, которым он мог бы гордиться.

Б) Бесценное, любимое сокровище, 8°, легкий снежок, – пока сплю хорошо, но несказанно тоскую по тебе, любовь моя. Стачки и беспорядки в городе более чем вызывающие (посылаю тебе письмо Калинина ко мне. Оно, правда, немногого стоит, так как ты, наверное, получишь более подробный доклад от градоначальника). Это хулиганское движение, мальчишки и девчонки бегают и кричат, что у них нет хлеба, – просто для того, чтобы создать возбуждение, – и рабочие, которые мешают другим работать. Если бы погода была очень холодная, они все, вероятно, сидели бы по домам. Но это все пройдет и успокоится, если только Дума будет хорошо вести себя. Худших речей не печатают, но я думаю, что за антидинастические речи необходимо немедленно и очень строго наказывать, тем более, что теперь военное время.

В) Я думаю, что основным в вопросе устойчивости с этой точки зрения являются такие члены ЦК, как Сталин и Троцкий. Отношения между ними, по-моему, составляют большую половину опасности того раскола, который мог бы быть избегнут и избежанию которого, по моему мнению, должно служить, между прочим, увеличение числа членов ЦК до 50, до 100 человек.

Тов. Сталин, сделавшись генсеком, сосредоточил в своих руках необъятную власть, и я не уверен, сумеет ли он всегда достаточно осторожно пользоваться этой властью. С другой стороны, тов. Троцкий, как доказала уже его борьба против ЦК в связи с вопросом о НКПС22, отличается не только выдающимися способностями. Лично он, пожалуй, самый способный человек в настоящем ЦК, но и чрезмерно хвастающий самоуверенностью и чрезмерным увлечением чисто административной стороной дела.

Эти два качества двух выдающихся вождей современного ЦК способны ненароком привести к расколу, и если наша партия не примет мер к тому, чтобы этому помешать, то раскол может наступить неожиданно.

Ответ:

	1	2	3
А			
Б			
В			

Задание 7. Многие отечественные художники изображали на своих полотнах исторические события. Внимательно изучите репродукции и определите:

- А) автора
- Б) название произведения искусства
- В) событие, которому посвящена картина
- Г) дата события
- Д) где экспонируется картина (город и музей)



Ответ:

- А) _____
- Б) _____
- В) _____
- Г) _____
- Д) _____

Задание 8. На страницах журнала «Крокодил» отражались важнейшие события Великой Отечественной войны. Рассмотрите изображения и укажите в ответах даты отраженных на карикатурах событий.



А



Б

— Не оставь меня, кум милый!

Ответ:


А. – _____ ; Б. – _____

Задание 9. Цифрами на карте отмечены места, где были сделаны фотографии, расположенные под буквами.


9.1 Соотнесите их.

9.2 Укажите конкретное место и происходившие там события (4-6 предложений к каждой букве).





В



Г

Ответ:

9.1.

1. ____; 2. ____; 3. ____; 4. ____.

9.2

А _____

Б _____

В _____

Г _____

Задание 10. Прочитайте строки приведенного стихотворения.

10.1 Укажите, кому и где установлен памятник.

10.2 Укажите, кто и кому вручает высшую правительственную награду.

10.3 Укажите годы, когда могли быть написаны эти строки.

10.4 В 3-4 предложениях объясните, что связывает стихотворные строки и фотографии.

*Не затем я на свете жил,
Чтоб разбойничий чують смрад;
Не затем вам, братья, служил,
Чтоб забрался ползучий гад
В город сказочный, в город-сад;
Не затем к себе Ленинград
Взор Джамбула приворожил!
А затем я на свете жил,
Чтобы сброд фашистских громил,
Не успев отпрянуть назад,
Волчьи кости свои сложил
У священных ваших оград.
Вот зачем на север бегут
Казахстанских рельс колеи,
Вот зачем Неву берегут
Ваших набережных края,
Ленинградцы, дети мои,
Ленинградцы, гордость моя!*



Ответ:

10.1 – _____

10.2 – _____

10.3 – _____

10.4 _____

Задание 11. Московское метро задумывалось как восьмое чудо света. Поэтому к проектированию и оформлению станций привлекли лучших архитекторов и художников того времени (А.В. Щусев, Б.М. Иофан, А.А. Дейнека, П.Д. Корин, Е.Е. Лансере).

Архитекторы использовали в декоре флорентийскую мозаику, сусальное золочение, бронзовое литье, резьбу по камню, фресковую живопись и многое другое. Эти архитектурные решения были призваны доказать, что при социализме грезы становятся реальностью, что мир культуры и роскоши, прежде доступный только избранным, теперь принадлежит трудовому народу.

Внимательно изучите представленные изображения станций московского метрополитена. В ответ запишите название станции и перечислите те декоративные приемы, которые использованы для ее оформления.



1.



2.

Ответ:

1. Название станции – _____

Декоративные приемы – _____

2. Название станции – _____

Декоративные приемы – _____

Задание 12. Заполните таблицу, поставив знаки "+" ("да, утверждение верно") либо "-" ("нет, утверждение ложно").

1. В начале 1950-х годов Юрием Кнорозовым была завершена дешифровка письменности майя. В 1952 году вышла его первая публикация, посвященная результатам этой работы. Молодому исследователю сразу присвоили докторскую степень, а в научном мире его начали почитать как гения. Ни разу не побывав в Мексике, не выходя из кабинета, советский исследователь сделал то, чего не добились ученые, годами проводившие полевые исследования в Центральной Америке. Сам Кнорозов иронично замечал: "Я - кабинетный ученый. Чтобы работать с текстами, нет необходимости скакать по пирамидам".

2. Несмотря на зловещее название, древнеегипетская «Книга мертвых» не была призвана воскрешать мертвецов. Она представляла собой своеобразный сборник заклинаний и советов для тех, кто отправляется в последнее путешествие. Один из самых значимых и подробных «путеводителей» был обнаружен в начале 2023 года в гробнице неподалеку от пирамиды Хеопса.

3. В 1957 году, советским инженером Леонидом Куприяновичем был создан прототип первого мобильного телефона, названный ЛК-1. Он весил 3 килограмма и имел базовую станцию, связанную с автоматической телефонной станцией. Позже, в 1958 году, вес устройства был снижен до 0,5 килограмма, а в 1961 году появился опытный образец весом всего 70 граммов.

4. Город Помпеи был разрушен извержением вулкана в 79 году нашей эры и пролежал под пеплом более 1700 лет. В 1748 году Помпеи были найдены, и с тех пор археологи раскрывают тайны города. Несмотря на то, что открытие произошло так давно, Помпеи по-прежнему хранят много секретов, и примерно 7 десятков гектар еще предстоит исследовать.



ВСЕРОССИЙСКАЯ ОЛИМПИАДА
ШКОЛЬНИКОВ «МИССИЯ ВЫПОЛНИМА.
ТВОЕ ПРИЗВАНИЕ – ФИНАНСИСТ!»
ПО ПРЕДМЕТУ ИСТОРИЯ
2023-2024 уч. года

ВАРИАНТ II

Задание 1. Самостоятельно определив основание, разделите указанные события на 2 группы. В каждой группе расположите события в хронологической последовательности, используя для этого номера, под которыми они представлены. В ответ выпишите в соответствующем порядке номера, под которыми указаны события.

1. Первый в истории беспосадочный перелет из СССР в США.
2. Создание Лиги Наций.
3. Разгром Хазарского каганата.
4. Штурм Зееловских высот.
5. Рождение Сиддхартхи Гаутамы.
6. Съезд князей в Любече.
7. Начало Столетней войны.
8. Княгиня Ольга принимает крещение в Константинополе.
9. Битва при Молодах.
10. Жители Земли впервые в истории совершили посадку на поверхность Луны.
11. Изобретение пенициллина.
12. Открытие Суэцкого канала.
13. Сооружение триумфальной колонны Траяна.
14. Первые Олимпийские игры.
15. Написание Андреем Курбским мемуарного памфлета «История о Великом князе Московском».
16. Операция «Буря в пустыне».
17. Открытие Антарктиды.
18. Чесменский бой.
19. Снятие блокады Ленинграда.
20. Первая публикация романа «Хитроумный идадьго Дон-Кихот Ламанчский».

Ответ:

Основание №1 (Название) – _____

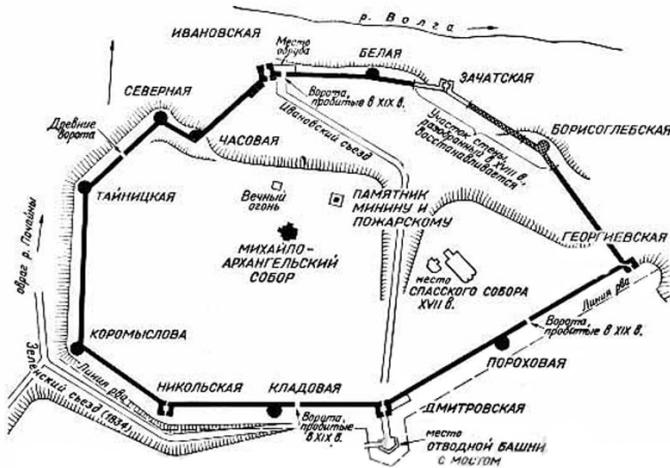
Номера событий: _____

Основание №2 (Название) – _____

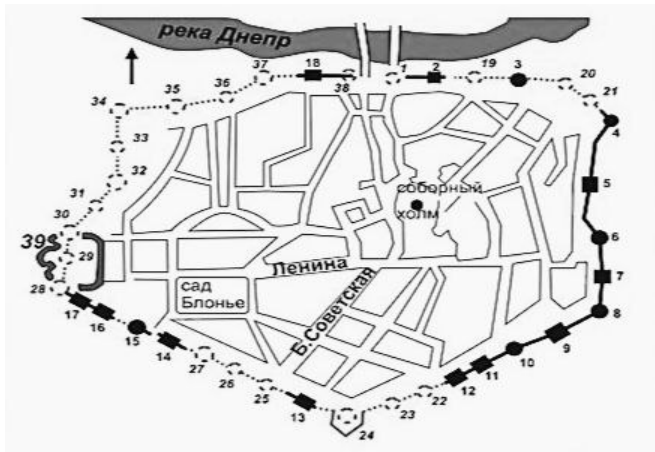
Номера событий: _____

Задание 2. Выполните следующие действия:

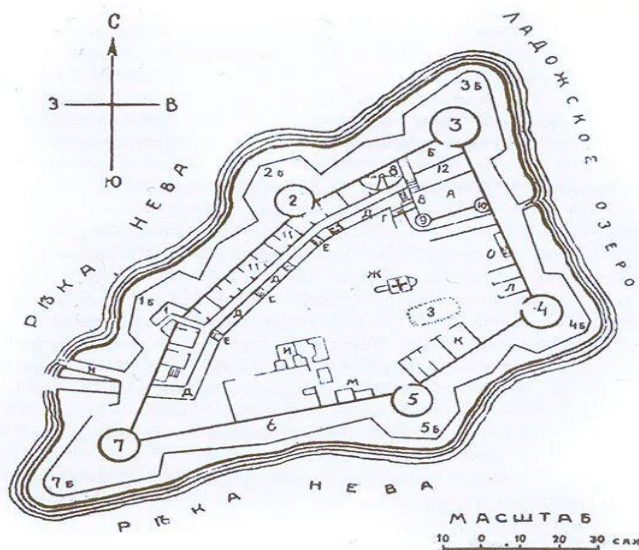
- а) укажите в таблице название города, в котором расположена изображенная на плане крепость;
- б) соотнесите их с гербами городов;
- в) внесите информацию в таблицу в порядке дат основания этих городов;
- г) занесите в таблицу соответствующее городу почетное звание («Город-Герой», «Город воинской славы», «Город трудовой доблести», «Город партизанской славы», «Город первого салюта»), если таковое имеется.



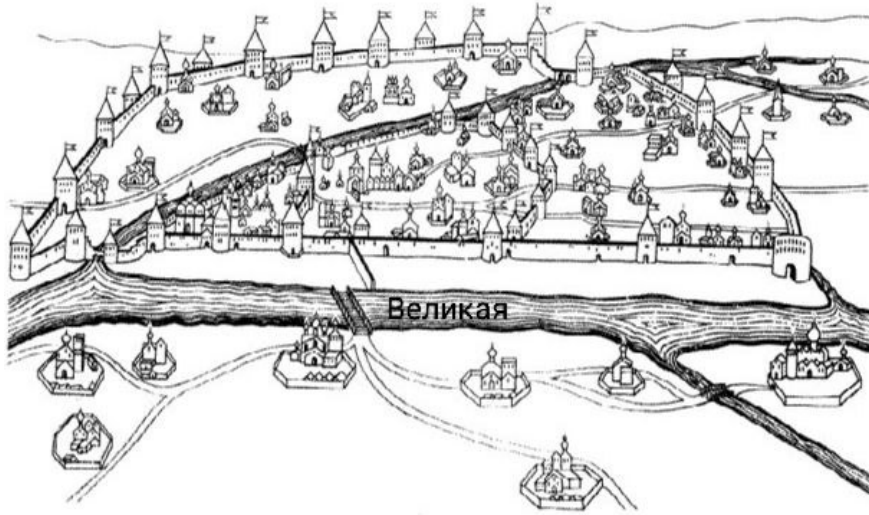
1.



2.

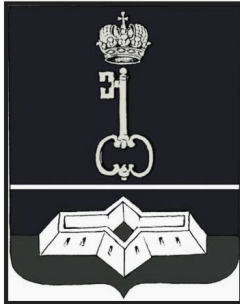


3.




4.


А




Б



В



Г



Ответ:

План крепости				
Название города				
Герб				
Почетное звание				

Задание 3. Выберите по 1 верному ответу в каждом задании и занесите выбранные ответы в таблицу:

3.1 Прочтите отрывок из исторического источника и укажите пропущенное в нем название города.

3.1 Прочтите отрывок из исторического источника и укажите пропущенное в нем название города.

«В лето 1240. Пришел Батый к (...) с великой силой, со множеством силы своей и окружил город, и обнес его частоколом, и был город в великом стеснении. И Батый был у города, и воины его окружали город, нельзя было слышать от скрипения множества телег его, от рева верблюдов его, от ржания стад коней его. И была вся Русская земля наполнена ратными людьми.

(...)

Поставил же Батый стенобитные орудия у города подле Ляшских ворот потому, что здесь находились овраги. Орудия били беспрестанно день и ночь и пробивали стены. И взошли горожане на стены, и тут было видно, как ломались копыя и щиты разбивались в щепки, и стрелы помрачали свет для побежденных. Когда же Дмитрий был ранен, татары взошли и занимали их в тот день и в ту ночь.

Горожане же построили новую стену около церкви Богородицы Десятинной. На другой же день татары пошли приступом на них, и был между ними сильный бой. Люди же взбежали на церковь и на церковные своды со своим имуществом, и церковные стены от тяжести рухнули. И взят был город воинами. Дмитрия же татары взяли в плен раненым и не убили ради его храбрости.»

1) Владимир 2) Киев 3) Суздаль 4) Тверь

3.2 Прочтите отрывок из труда историка и укажите имя князя, в период правления которого происходили описываемые события.

«Царь же со всеми татарами пошел по Литовской земле мимо Мценска, Любутска и Одоева и, придя, стал у Воротынского, ожидая, что король придет к нему на помощь. Король же не пришел к нему и сил своих не послал — были у него свои междоусобия, воевал тогда Менгли-Гирей, царь перекопский, королевскую Подольскую землю, помогая великому князю. Ахмат же пришел к Угре со всеми силами, желая перейти реку.»

1) Иван Иванович 2) Михаил Андреевич 3) Иван Васильевич 4) Дмитрий

3.3 Прочтите отрывок из труда историка и укажите понятие, с которым связана ситуация, описанная в нем.

Ввел этот порядок Ярослав Мудрый в начале XI века в своей Русской правде. От этого государство имело большую выгоду. Правительству не приходилось тратить казну на содержание своих служащих. Кроме того, значительно упрощался процесс передачи средств необходимых для проживания.

Княжеский наместник приезжал на службу, а местное население давало ему некоторые продукты пропитания, например, рыбу, хлеб, мясо. Не забывали и про лошадей, их кормили овсом. Иногда наместники вносили деньги в форме пошлин.

Они были ответственными за вершение правосудия и сбор налогов. Ещё были сборщики штрафов и строители. Они хорошо были защищены государством: за их убийства или увечья назначались огромные штрафы. Такая должность давалась и за военные заслуги или заслуги по службе. Умер боярин Никодим II. и остались боярские дети, но они получили право после смерти отца на получение продовольствия. И поскольку справлялись они со своими обязанностями исправно, то закрепили за ними право на пять лет, а потом и еще...

1) местничество 2) наследование 3) кормление 4) чересполосица

3.4 Прочтите отрывок из текста и выберите одно из предложенных слов.

«(...) назначался чиновник, ведавший хозяйством и наблюдавший за порядком в учреждениях. Иногда (...) осуществляли телесные наказания, как, например, Жеребятников в «Записках из Мертвого дома» Достоевского. Но были на этой должности и сугубо мирные люди: Яичница в «Женитьбе» Гоголя, Червяков в рассказе Чехова «Смерть чиновника».

1) надсмотрщик 2) экзекутор 3) попечитель 4) стряпчий

3.5 Прочтите отрывок из текста и выберите одно из предложенных слов.

« (...) - это один из приемов художественной обработки изделий из металлов. Его сущность заключается в том, что изделие украшается мельчайшими металлическими шариками, уложенными и припаянными на его поверхности в виде треугольников, ромбов, веточек, гроздьев и т. п. Искусство это с давних пор было известно в Египте, Микенах, Греции, Византии, Древней Руси. Примерами необычайно высокого мастерства, которого достигли древние ювелиры, могут служить серьги из Феодосии (IV в. до н. э., Государственный Эрмитаж), золотые подвески и серьги, работы византийских мастеров VII—VIII вв., найденные у с. Глодосы и в Ольвии, серебряные звездчатые колты рубежа VII—XIII вв. из Тереховского клада (Государственный Русский музей).


М. М. Постникова-Лосева, касаясь этой технологии, отмечает следующее: «На очень древних изделиях, украшенных сканью и (...), припой совсем не заметен, поражают необыкновенная чистота и четкость работы. Совершенно непонятным кажется, как могли быть укреплены тончайшие нити скани и едва видимые простым глазом зернышки на таких украшениях, как знаменитая золотая серьга с квадригой из Феодосии...»

- 1) зернь 2) скань 3) финифть 4) филигрань

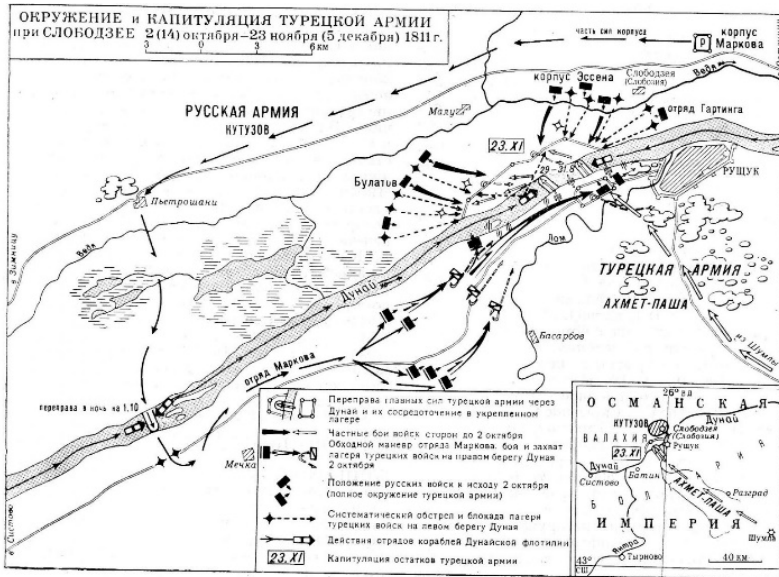
Ответы:

3.1	3.2	3.3	3.4	3.5


Задание 4. Вам необходимо определить какому выдающемуся полководцу посвящена большая часть информации, размещенной ниже (7 блоков связаны с жизнью и деятельностью этого полководца, а 1 является лишним):

<p>1 Отец полководца был крупным военным инженером. Начав военную службу при Петре I, он участвовал в войнах 18 века. Уйдя в отставку в чине генерал-поручика, продолжал службу по гражданскому ведомству. Генерал-поручик и сенатор, служивший 30 лет в инженерном корпусе и участвовавший в первой русско-турецкой войне под знаменами П.А. Румянцева-Задунайского, был человеком чрезвычайно умным, разносторонне образованным, за что и прозвали его «разумной книгой». Его имя стало особенно известно в связи с разработкой проекта канала, построенного в Петербурге при Екатерине 2 для избавления жителей столицы от губительных наводнений полноводной Невы.</p>	<p>2 «Дипломатическая карьера сколь ни плутовата, но, ей-богу, не так мудрена, как военная, ежели ее делать как надобно...»</p>	<p>3 <i>«Я получил и чины, и ленты, и раны; но лучшей наградою почитаю то, когда обо мне говорят: он настоящий русский солдат.»</i></p>
<p>4</p> 	<p>5</p> 	<p>6</p> 

7



8



4.1 Определите и запишите в ответ Ф.И.О. полководца.

4.2 Выпишите цифры, под которыми размещена информация о нем.

4.3 Составьте связный рассказ о жизни и деятельности полководца. В обязательном порядке используя данную в этом задании информацию. Ответ принимается при объеме не менее 15 предложений.

Ответ:

4.1 _____

4.2 _____

4.3 _____

Задание 5. Внимательно изучите иллюстрацию:

5.1 Укажите современное название здания.

5.2 Выпишите цифры, под которыми размещены верные высказывания.



1. В 18 веке на месте этого вокзала была граница Москвы - Камер-Коллежский вал.
2. В 1870 году вокзал назывался Смоленский, а в 1871 году переименовали в Брянский.
3. В 1912 году в честь 100-летия победы над Наполеоном вокзал переименовали в Александровский.
4. С 1922 года вокзал назывался Белорусско-Балтийским, а с 1936 года – просто Белорусским.
5. 26 июня 1941 года (на четвертый день войны) на перроне вокзала в исполнении Краснознаменного ансамбля им. А. Александрова впервые прозвучала песня «Священная война».

Ответ:

5.1 _____

5.2 _____

Задание 6. Изучите представленные материалы эпистолярного жанра и определите:

- 1) автора письма**
- 2) адресата**
- 3) повод, по которому написано это письмо**

Данные занесите в таблицу.

А) Все они должны научиться дрожать перед тобой. Когда же ты, наконец,хватишь рукой по столу и накричишь? Тебя должны бояться. Покажи им, что ты хозяин. Ты владыка, ты хозяин в России. Помни это.

Мы не конституционное государство, слава Богу, будь львом в борьбе против маленькой кучки негодяев и республиканцев, будь Петром Великим, Иваном Грозным и Павлом Первым, сокруши их всех. Будь решительным и более самодержавным, показывай свой кулак там, где это необходимо. Докажи, что ты один властелин и обладаешь сильной волей, будь строгим, это необходимо, они должны слышать твой голос и видеть недовольство в твоих глазах. Они должны, они должны дрожать перед тобой, иначе все будут на нас наседать, и надо теперь же положить этому конец. Довольно, мой дорогой, не заставляй меня попусту тратить слова.

Твоё старенькое Солнышко.

Б) Из молодых членов ЦК хочу сказать несколько слов о Бухарине и Пятакове. Это, по-моему, самые выдающиеся силы (из самых молодых сил), и относительно их надо бы иметь в виду следующее: Бухарин не только ценнейший и крупнейший теоретик партии, он также законно считается любимцем всей партии, но его теоретические воззрения очень с большим сомнением могут быть отнесены к вполне марксистским, ибо в нем есть нечто схоластическое (он никогда не учился и, думаю, никогда не понимал вполне диалектики).

В) Какое Ваше Императорское Величество поучение собственным примером изволили подать нашим французским вертопрахам, нашим умным учителям Сорбонским, нашим эскулапам в школах медицинских! Вы изволили привить себе оспу с меньшими приуготовлениями, нежели иная старица употребляет промывательное. Вашему примеру последовал и Его Императорское Величество, Граф Орлов, дав привить себе оспу, едет на охоту при сильном снеге; не иначе, думаю, поступил бы и Сципион, ежели сия из Аравии вышедшая болезнь в его времена существовала.

Ответ:

	1	2	3
А			
Б			
В			

Задание 7. Многие отечественные художники изображали на своих полотнах исторические события.

Внимательно изучите репродукции и определите:

- А) автора**
- Б) название произведения искусства**
- В) событие, которому посвящена картина**
- Г) дата события**
- Д) где экспонируется картина (город и музей)**



Ответ:

А) _____
Б) _____

В) _____

Г) _____

Д) _____

Задание 8. На страницах журнала «Крокодил» отражались важнейшие события Великой Отечественной войны. Рассмотрите изображения и укажите в ответах даты отраженных на карикатурах событий.



А




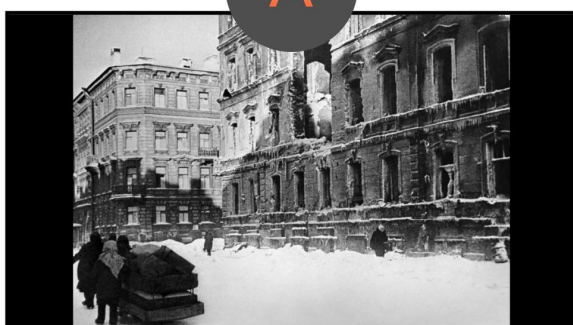

Б

Ответ: А. – _____; Б. – _____

Задание 9. Цифрами на карте отмечены места, где были сделаны фотографии, расположенные под буквами.

9.1 Соотнесите их.

9.2 Укажите конкретное место и происходившие там события (4-6 предложений к каждой букве).





В



Ответ:

9.1

1. ____; 2. ____; 3. ____; 4. ____

9.2

А _____

Б _____

В _____

Г _____

Задание 10. Прочитайте строки приведенного стихотворения.

10.1 Укажите, кому и где установлен памятник.


10.2 Укажите, кто и кому вручает высшую правительственную награду.

10.3 Укажите годы, когда могли быть написаны эти строки.

10.4 В 3-4 предложениях объясните, что связывает стихотворные строки и фотографии.

*Ваших дедов помнит Джамбул,
Ваших прадедов помнит он:
Их сослали в его аул,
И кандаальный он слышал звон.
Пережив четырех царей,
Испытал я свирепость их;
Я хотел, чтоб пала скорей
Петербургская крепость их;
Я под рокот моей струны
Воспевал, уже поседев,
Грозный ход балтийской волны,
Где бурлил всенародный гнев.
Это в ваших стройных домах
Проблеск ленинских слов-лучей
Заиграл впервые впотьмах!
Это ваш, и больше ничей,
Первый натиск его речей*

*И руки его первый взмах!
Ваших лучших станков дары
Киров к нам привез неспроста:
Мы родня вам с давней поры —
Ближе брата, ближе сестры
Ленинграду Алма-Ата.*



Ответ:

10.1 – _____

10.2 – _____

10.3 – _____

10.4 _____

Задание 11. Московское метро задумывалось как восьмое чудо света. Поэтому к проектированию и оформлению станций привлекли лучших архитекторов и художников того времени (А.В. Щусев, Б.М. Иофан, А.А. Дейнека, П.Д. Корин, Е.Е. Лансере).

Архитекторы использовали в декоре флорентийскую мозаику, сусальное золочение, бронзовое литье, резьбу по камню, фресковую живопись и многое другое. Эти архитектурные решения были призваны доказать, что при социализме грезы становятся реальностью, что мир культуры и роскоши, прежде доступный только избранным, теперь принадлежит трудовому народу.

Внимательно изучите представленные изображения станций московского метрополитена. В ответ запишите название станции и перечислите те декоративные приемы, которые использованы для ее оформления.



1.



2.

Ответ:

1. Название станции – _____

Декоративные приемы – _____

2. Название станции – _____

Декоративные приемы – _____

Задание 12. Заполните таблицу, проставив знаки "+" ("да, утверждение верно") либо "-" ("нет, утверждение ложно").

1. До настоящего времени бал 1903 года, посвященный 300-летию династии Романовых, остается самым известным и красочным праздником в Санкт-Петербурге времени царствования Николая II. Это был маскарад, на котором вся знать Российской империи присутствовала в костюмах «допетровского времени». Эти костюмы дошли до нашего времени запечатленными в фотографиях, которые являются ценным историческим источником.

2. В марте 2023 года стало известно, что международная группа ученых обнаружила загадочный тоннель в пирамиде Хеопса в Гизе. Его длина составляет 9 км, а ширина - более 2км. По словам специалистов, найденное пространство никто не посещал за последние 4500 лет - с момента создания пирамиды в 2560 году до н. э.

3. Среди всех отечественных властителей и членов их семейств по количеству самозванцев, пытавшихся заступить на место безвременно умершего царя, абсолютным рекордсменом является Петр III. По новейшим данным, в одной только России насчитывалось около сорока лже-Петров III.

4. Город Помпеи был разрушен извержением вулкана в 79 году нашей эры и пролежал под пеплом более 1700 лет. В 1748 году Помпеи были найдены, и с тех пор археологи раскрывают тайны города. Несмотря на то, что открытие произошло так давно, Помпеи по-прежнему хранят много секретов, и примерно 7 десятков гектар еще предстоит исследовать.

5. В июле 2023 года команда археологов обнаружила более 125 гробниц и два редких свинцовых саркофага в ходе раскопок на 2000-летнем римском кладбище в Газе. В большинстве захоронений скелеты сохранились практически в целости. По данным специалистов, эта территория была важным торговым маршрутом еще со времен Древнего Египта, когда там жили филистимляне, до эпохи Римской империи и крестовых походов.

6. Письменность майя расшифровал глава американской школы майанистики Эрик Томпсон.

7. Памятник Александру Сергеевичу Пушкину появился в центре Москвы 18 июня 1880 года. Сбор средств на возведение монумента начали в 1860 году по инициативе выпускников Царскосельского лицея, где учился поэт.

8. В июле 2023 года команда археологов обнаружила более 125 гробниц и два редких свинцовых саркофага в ходе раскопок на 2000-летнем римском кладбище в Газе. В большинстве захоронений скелеты сохранились практически в целости. По данным специалистов, эта территория была важным торговым маршрутом еще со времен Древнего Египта, когда там жили филистимляне, до эпохи Римской империи и крестовых походов.

9. С самого начала Великой Отечественной войны коллекцию музея Изобразительных искусств им. А. С.Пушкина решено было отправить в эвакуацию. Немецкие войска начали бомбить столицу уже в июле 1941 года. Всего за десять дней сотрудники Пушкинского музея подготовили к отправке больше 100 тысяч картин, статуй, монет, исторических документов. Каждый день упаковывали примерно по 11 тысяч экспонатов. Упаковывали очень тщательно, путь предстоял неблизкий: первая очередь на поезде должна была уехать в Новосибирск. Использовали все, что могли найти: рваную бумагу, вату, мешки, коробки, деревянные ящики – папирусы застекляли, каждую ценную монету клали в бумажный пакет, греческие вазы набивали бумагой. Подобного опыта у музейных сотрудников не было, решения надо было принимать быстро. Сотрудница музея Анна Замятина будет позже так вспоминать это время: «Складывалось ощущение, будто их укладывали в

