

Вариант заданий отборочного этапа Олимпиады школьников СПбГУ по международным отношениям 2023/2024 учебного года

БЛОК А

Ниже приведены пять фактов биографии исторического деятеля. Некоторые из них (от 1 до 5) истинные, остальные ложные. Выберите истинные факты. Правильные варианты отмечены желтым цветом.

1. Отто фон Бисмарк:

- занимал пост имперского канцлера дольше, чем кто-либо еще в истории Второго рейха
- сказал: «Язык дан дипломату для того, чтобы скрывать свои мысли»
- вызывал на дуэль российского канцлера А.М. Горчакова
- последовательно и категорически отвергал приобретение Германией колоний
- к моменту смерти был одним из крупнейших землевладельцев в Германии

2. Иван IV Грозный:

- сватался к английской королеве
- отменил опричнину
- вторгнулся в Крым
- не оставил потомков мужского пола
- отрекался от царского престола

3. Император Александр II:

- не вел ни одной войны
- состоял в близком родстве с прусским королем
- овдовев, вступил в морганатический брак
- покровительствовал молодому писателю А.П. Чехову
- заявил: «Пока русский царь удит рыбу, Европа может подождать»

4. Владимир Ильич Ленин:

- призвал большевиков в 1914 году встать на защиту Отечества
- заявил: «Одна смерть – трагедия, миллион смертей – статистика»
- считал, что революцию невозможно сделать без наличия объективных условий для этого
- лично встречался с писателем-фантастом Гербертом Уэллсом
- вел революционную деятельность на деньги, завещанные ему дядей – владельцем фабрики

5. Маргарет Тэтчер:

- была первой женщиной на посту премьер-министра Великобритании
- получила прозвище «Похитительница молока»
- являлась многодетной матерью
- проводила монетаристскую экономическую политику
- согласилась вернуть Китаю Гонконг

6. Король Франции Людовик XIV:

- правил дольше любого другого монарха в европейской истории
- вел войну против алжирских пиратов
- вынудил гугенотов массово эмигрировать
- пережил собственного сына и старшего внука
- покровительствовал шевалье д'Артаньяну

7. Фернан Магеллан:

- был по происхождению итальянцем
- участвовал в первой экспедиции Васко да Гамы в Индийский океан
- провел несколько лет на службе у османского султана
- побывал в Японии
- погиб во время своего кругосветного путешествия

8. Мартин Лютер:

- был женат на бывшей монашке
- произнес знаменитую фразу: «Сжечь – не значит ответить»
- перевел на немецкий язык «Молот ведьм»
- публично сжег направленную против него папскую буллу
- являлся близким другом императора Карла V

9. Максим Максимович Литвинов:

- примкнул к большевикам только после Октябрьской революции 1917 года
- организовал вступление СССР в Лигу Наций
- был женат на гражданке Великобритании
- являлся близким другом Мао Цзэдуна
- был расстрелян в ходе последней волны сталинских репрессий в начале 1950-х годов

10. Император Наполеон III:

- приходился внуком Наполеону I
- сватался к дочери Николая I
- подавил Парижскую коммуну
- не выиграл ни одной войны
- являлся героем произведений Карла Маркса и Виктора Гюго

11. Хо Ши Мин:

- являлся членом Французской коммунистической партии
- никогда не встречался с Лениным
- пытался заручиться поддержкой США в освобождении Вьетнама от колониальной зависимости
- не дожил до конца Вьетнамской войны
- похоронен в специально построенном мавзолее

12. Андрей Иванович Остерман:

- был приглашен в Россию царевной Софьей
- являлся воспитателем сына Петра I – царевича Алексея
- считал необходимым тесное стратегическое партнерство России с Францией
- отправлен в отставку Анной Иоанновной
- его сын сделал блестящую дипломатическую карьеру при Екатерине II

13. Императрица Мария Терезия:

- являлась первой женщиной, возглавившей Священную Римскую империю германской нации
- на протяжении длительного времени правила государством вместе со своим старшим сыном
- вела активную переписку с французскими философами эпохи Просвещения
- одна из ее дочерей была публично казнена
- участвовала в трех разделах Польши

14. Мустафа Кемаль Ататюрк:

- являлся близким родственником последнего османского султана
- в первые годы XX века находился в эмиграции в Лондоне
- активно участвовал во Младотурецкой революции
- в годы Первой мировой войны сражался с русской армией в Закавказье
- страдал от алкогольной зависимости

15. Токугава Иэясу:

- был сыном простого крестьянина
- никогда не мылся, чтобы враги не застали его врасплох
- командовал японскими войсками в Имджинской войне с Кореей
- задолго до смерти передал титул сёгуна своему сыну
- являлся одним из авторов кодекса «Хагакурэ»

16. Симон Боливар:

- являлся баском по национальности
- переписывался с Джорджем Вашингтоном
- женился на соратнице по борьбе за освобождение испанских колоний
- получил от конгресса Венесуэлы почетное звание Отца нации
- в его честь было названо государство

17. Андрей Андреевич Громыко:

- примкнул к большевикам еще до Октябрьской революции 1917 года
- никогда не был женат
- в годы Великой Отечественной войны являлся послом СССР в Лондоне
- неоднократно встречался с римскими папами
- был отправлен в отставку из-за конфликта с Андроповым

18. Махатма Ганди:

- происходил из богатой семьи, относившейся к касте «неприкасаемых»
- много лет провел в Африке
- переписывался с Львом Толстым
- выступал против раздела Британской Индии на индуистское и мусульманское государства
- умер от последствий длительной голодовки

19. Мадлен Олбрайт:

- являлась первой женщиной на должности государственного секретаря США
- свободно владела десятью языками, включая русский
- была в юности невестой Збигнева Бжезинского, однако брак не состоялся
- публично заявляла о необходимости передачи Сибири под международный контроль
- выступала категорически против применения военной силы в международных отношениях

20. Эрнесто Че Гевара:

- лично участвовал в Гражданской войне в Испании на стороне республиканцев
- получил медицинское образование
- купил яхту «Гранма» для кубинских революционеров во главе с Фиделем Кастро на деньги, полученные в качестве наследства
- выступал с публичной критикой внешней политики социалистических стран
- заявил: «История меня оправдает»

БЛОК В.

Расположите события в хронологической последовательности (поставьте напротив каждого его порядковый номер)

Оценка за выполнение задания – 4 балла в случае, если все номера расставлены верно

Правильные ответы помечены желтым цветом

1)

Война Камбрейской лиги	1
Война Коньякской лиги	2
Война Аугсбургской лиги	3
Война Священной лиги	4

2)

Аландский конгресс	1
Берлинский конгресс	4
Венский конгресс	3
Эрфуртский конгресс	2

3)

Берлинский кризис	3
Карибский кризис	4
Суэцкий кризис	2
Иранский кризис	1

4)

Великая Северная война	2
Великая Турецкая война	1
Великая война Парагвая	3
Великая война	4

5)

Начало гражданской войны в Испании	4
Вторая итало-эфиопская война	2
Заключение Франко-советского пакта о взаимопомощи	1
Ремилитаризация Рейнской области	3

6)

«Фултонская речь» Черчилля	2
«Длинная телеграмма» Кеннана	1
Резолюция Ванденберга	4
Публикация «Источников советского поведения»	3

7)

Тегеранская конференция	3
Атлантическая конференция	1
Сан-Францисская конференция	4
Каирская конференция	2

8)

Доктрина Рейгана	4
Доктрина Монро	1
Доктрина Трумэна	2
Доктрина Брежнева	3

9)

Провозглашение суверенитета России	2
Провозглашение независимости Эстонии	1
Провозглашение суверенитета Словакии	4
Провозглашение независимости Словении	3

10)

Объединение Болгарии	4
Объединение Италии	1
Объединение Румынии	2
Объединение Германии	3

11)

Ихэтуаньское восстание	2
Русско-японская война	3
Первая японо-китайская война	1
Гражданская война в Китае	4

12)

Сувальское соглашение	1
Пакт Бриана — Келлога	4
Рапальский договор	2
Рейнский гарантийный пакт	3

13)

Провозглашение КНР	4
Провозглашение Республики Индия	1
Провозглашение Исламской Республики Пакистан	2
Провозглашение Шри-Ланки	3

14)

Образование ООН	1
Образование НАТО	3
Образование ОВД	4
Образование СЭВ	2

15)

Вступление Германии в Лигу Наций	3
Вступление Японии в Лигу Наций	1
Вступление СССР в Лигу Наций	4
Вступление Ирландия в Лигу Наций	2

16)

Правление Наполеона III	2
Правление Петра III Всероссийского	1

Правление Фридриха III Германского	3
Правление Карла III Британского	4

17)

Кардисский мирный договор	4
Мюнстерский мирный договор	1
Пиренейский мирный договор	3
Оснабрюкский мирный договор	2

18)

Опиумные войны	3
Картофельная война	1
Апельсиновая война	2
Тресковые войны	4

19)

Пятидневная война	3
Шестидневная война	1
Восьмидневная война	4
Десятидневная война	2

20)

Пражская весна	3
Весна народов	1
Арабская весна	4
Зимняя война	2

21)

Ютландское сражение	4
Балканская война	3
Пиренейская война	1
Крымская война	2

22)

Беловежские соглашения	3
Дейтонские соглашения	4
Кэмп-Дэвидские соглашения	2
Хельсинкские соглашения	1

23)

Ренессанс	1
Реформация	2
Эпоха просвещения	3
Атлантическая революция	4

24)

Венская система международных отношений	2
Версальская система международных отношений	3

Вестфальская система международных отношений	1
Ялтинско-Потсдамская система международных отношений	4

25)

Провозглашение Индийской империи	3
Провозглашение Мексики империей	2
Провозглашение Италии империей	4
Провозглашение Австрии империей	1

БЛОК С.

Ответьте на вопрос по изображению

В случае полностью правильного ответа можно получить 3 балла.

1.



Данный продукт из семейства паслёновых сначала спас от голода, а затем спровоцировал голод и дальнейшую массовую иммиграцию из этой страны в Новый Свет. Назовите страну, продукт и то, как он оказался причастен к голоду.

Ответ: Ирландия (1), картофель (2), картофель поразила болезнь, в результате чего его урожай оказывался уничтожен и так несколько лет подряд, в то же самое время картофель был одним из основных продуктов питания ирландцев, что вызвало массовый голод (3)

2.



Какое историческое событие запечатлено в этой скульптурной группе?

Ответ: Рождественское перемирие 1914 г.

3.



О каком изгнаннике идет речь?

Ответ: В.И. Ленин

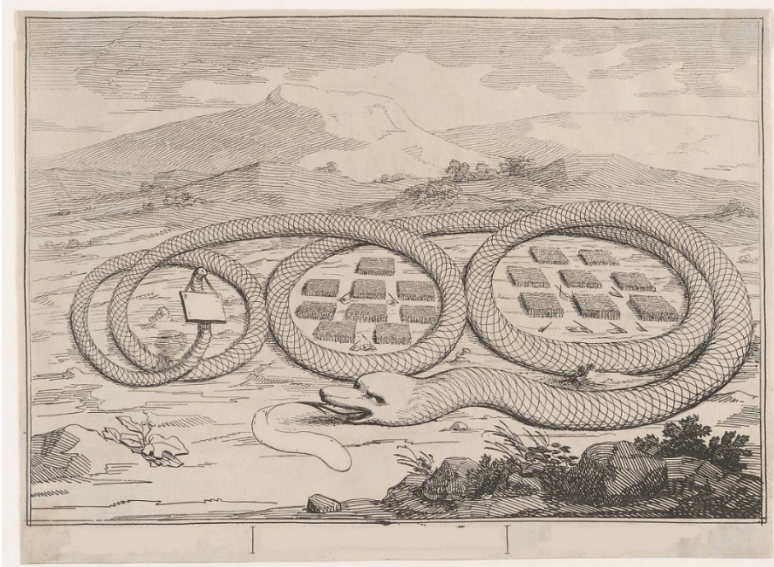
4.



Какое событие изображено на гравюре?

Ответ: Отмена таможенных границ между германскими государствами в 1834 г.
Формирование Германского таможенного союза.

5.



Что за событие изображено на гравюре?

Ответ: Американская гремучая змея окружает британские войска. Финал войны за независимость США.

6.



Что за историческое событие и его участники изображены на гравюре?

Ответ: США, борющиеся за независимость, а также поддержавшие их Франция, Нидерланды и Испания. Против «Британского льва».

7.



Как называлось и в какой стране действовало антифашистское движение, которому посвящен соответствующий памятник?

Ответ: Антифашистское движение «Белая роза», Третий Рейх


8.



Что за событие изображено на картинке?

Ответ: Колин Пауэлл демонстрирует на заседании Совета безопасности ООН пробирку с белым порошком, утверждая, что количество неучтенных иракских биологических агентов с сибирской язвой – это многие десятки тысяч подобных пробирок. Послужило аргументом в пользу вторжения США и Великобритании в Ирак в 2003 году.

9.



Чему посвящена карикатура, и кто изображен в ее скрытой верхней части?
Ответ: Европейский концерт держав, император России

10.



Что за международная ситуация изображена на карикатуре?
Ответ: Политика США, основывающаяся на Доктрине Монро (1823 год). Америка для американцев.

11.



Какое событие изображено на карикатуре?
Ответ: Строительство Панамского канала.

12.



Какому событию посвящена карикатура, и кто сидит с книгой в руках?
Ответ: Поражение Испании в Испано-американской войне 1898; с книгой сидит Клио.

13.



Какому событию посвящена карикатура? Сформулируйте как можно точнее.

Ответ: вывод советских ракет с Кубы, одно из событий, ознаменовавшее окончание
Карибского кризиса 1962 года


14.



Какому географическому и международно-политическому явлению посвящен барельеф?

Ответ: разделение Кореи на Северную и Южную по 38ой параллели

15.



*Diese Karikatur bringt der „Daily Herald“ mit der Unterschrift:
Zwei sind schon ein Verein — doch viele würden besser sein.*

Какое международное событие изображено на карикатуре?

Ответ: Объединение британской и американской оккупационных зон в Германии в т.н. Бизонию в 1946 г.

16.



Какое международное событие изображено на карикатуре?

Ответ: Портсмутский мир – договор, завершивший русско-японскую войну 1904—1905 годов, подписанный при посредничестве США.

17.



Каким событиям посвящена карикатура?

Ответ: Боксерское восстание в Китае и его подавление «великими» державами.

18.



Изображенное на фотографии событие произошло 7 мая, однако впоследствии пришлось провести эту процедуру еще раз, но с измененным составом участников. О чем идет речь?

Ответ: подписание акта о капитуляции Германии 7 мая 1945 года

19.



Укажите название книги и ее автора, изображенных на фотографии.

Ответ: Зеленая книга и М. Каддафи

20.



Как называется интеграционное объединение, создание которого было поступательно оформлено тремя договорами – 1996, 1997 и 1999 гг.? На фотографии запечатлено подписание одного из договоров.

Ответ: Союзное государство России и Беларуси (Белоруссии)

21.



Что объединяет народность, проживающую в предгорьях Гималаев и оказывающую туристам услуги по сопровождению при восхождении на горные вершины, и помощников глав государств на саммитах БРИКС?

Ответ: их название (достаточно такого ответа). Шерпы. Второе произошло от первого.

22.



Кто, где и в знак чего преклоняет колени на данной фотографии?

Ответ: При посещении памятника жертвам восстания в Варшавском гетто нацистской эпохи Брандт опустился на колени. Акт покаяния за преступления нацистской Германии.

23.



Какое событие последних нескольких лет обыгрывается этой карикатурой?
Ответ: Брекзит (выход Великобритании из состава ЕС)

24.



О каком союзе идет речь?
Ответ: Организация Варшавского договора.

25.



В 1993 году, находясь с визитом в этом государстве, президент России сделал заявление, которое потом пришлось дезавуировать российскому МИД. О чем было это заявление и в ходе визита в какую страну оно было сделано?

Ответ: заявление о том, что он с пониманием относится к стремлению Польши присоединиться к НАТО, и не видит угрозы в расширении Альянса; визит в Польшу.

Блок D. Тип «Задачи»

Необходимо решить задачу и вписать короткий ответ на вопрос. В случае правильного ответа на вопрос можно получить 3 балла.

1. После Революции в Москве на субботнике был разрушен памятник. А через несколько десятилетий на том же месте был поставлен памятник основателю Москвы. Кому был поставлен памятник до Революции? - (генерал М.Д. Скобелев)
2. Он покинул Россию в 1921 году, одержал 735 побед и умер в Португалии «королем». Кто это? (шахматист А.А. Алехин)
3. Первый марксистский президент, пришедший к власти путем демократических выборов. (Сальвадор Альенде)
4. Назовите двух президентов США, имевших звание генерал армии? (Дж. Вашингтон, Д.Д. Эйзенхауэр)
5. Кому, кроме Сталина, посвящались эти строки из песни: «Когда нас в бой пошлет товарищ Сталин и первый маршал в бой нас поведет» (К.Е. Ворошилов)
6. Выпускник Ташкентской гимназии и Юридического факультета, некоторое время возглавлял правительство России. (А.Ф. Керенский)
7. Социалистическое государство Европы, член ОВД, проводившее в 1970-80-х гг. независимую от Москвы внешнюю политику (Румыния)
8. Лауреат Нобелевской премии мира, 26 лет просидевший в тюрьме, президент страны (Нельсон Мандела)
9. Радикальный марксист, изучал радиоэлектронику в Сорбонне; по его приказам было убито и замучено более 1 млн людей в одной из азиатских стран. Назовите его имя. (Пол Пот, он иже Салот Сар)
10. Его сенсационный приход к власти после войны британские газеты назвали «британской революцией». Назовите его имя. (К. Эттли)
11. В годы его президентства в политической системе Франции впервые имело место т.н. «сожительство» (cohabitation). Назовите этого президента. (Ф. Миттеран)
12. В 1950-е гг. два лауреата Нобелевской премии опубликовали знаменитый «Манифест». Назовите этих ученых. (Б. Рассел и А. Эйнштейн)
13. Во второй половине XX века был только один глава правительства, ставший лауреатом Нобелевской премии. В какой номинации он ее получил? (По литературе)
14. Первое устройство назвали «Маленький мальчик», а второе было значительно больше, поэтому его называли... Назовите его. (Толстяк, Fat Man)
15. Именно этот населенный пункт в Африке попытался захватить французский майор, чем поставил Великобританию и Францию на грань войны. Назовите населенный пункт. (Фашода)
16. Именно в эту африканскую страну совершила прыжок «Пантера», чем едва не спровоцировала мировую войну. Назовите страну. (Марокко)
17. Этот небольшой городок в Бельгии навсегда вписал в историю международных отношений свое название благодаря запрещенным ныне способам ведения военных действий. Назовите город. (Ипр)
18. С именем этого американского президента обычно связывают идею невмешательства европейских стран в дела обеих Америк. Назовите американского президента. (Дж. Монро)
19. Президент сформулировал «пункты» (points), которые должны были лечь в основу всеобъемлющего мирного договора. Сколько было этих «пунктов»? (14, четырнадцать)
20. Именно эта страна до 1870-х годов была монополистом в производстве сырья, необходимого в резиновой промышленности. Назовите страну. (Бразилия)
21. Один из создателей «белой» Южной Африки, чьим именем было названо одно из африканских государств. (Сесил Родс)

22. Шляпу, названную в его честь, любил носить Евгений Онегин, но вообще-то он латиноамериканец. Назовите его. (Симон Боливар)

23. Слон, осел, шесть стрел, электрическая лампочка, медведь, яблоко... Чего только не придумают! Что объединяет все перечисленные понятия в политическом смысле?

(Символы политических партий)

БЛОК Е.

1) Установите соответствие между российским монархом и событием в мировой истории, которое пришлось на время его правления

1	Взятие Бастилии	А	Петр I
2	Создание Великобритании	Б	Екатерина II
3	Англо-бурская война	В	Николай I
4	Провозглашение Германской империи	Г	Александр II
5	Июльская революция во Франции	Д	Николай II

Ответ

1	Б
2	А
3	Д
4	Г
5	В

2) Установите соответствие между государством и династией, которая правила в нем после окончания Наполеоновских войн:

1	Австрия	А	Бернадоты
2	Великобритания	Б	Бурбоны
3	Бавария	В	Габсбурги
4	Франция	Г	Виттельсбахи
5	Швеция	Д	Ганноверская

Ответ

1	В
2	Д
3	Г
4	Б
5	А

3) Установите соответствие между войной и городом, где был подписан завершивший ее договор:

1	Семилетняя война	А	Гент
2	Англо-американская война	Б	Утрехт
3	Война за испанское наследство	В	Париж
4	Франко-германская война	Г	Портсмут
5	Русско-японская война	Д	Франкфурт

Ответ

1	В
2	А
3	Б
4	Д
5	Г

4) Установите соответствие между государством и территорией, которую оно приобрело по итогам Венского конгресса:

1	Австрия	А	Австрийские Нидерланды
2	Нидерланды	Б	Ломбардо-венецианская область
3	Пруссия	В	Норвегия
4	Россия	Г	Вестфалия и Познань
5	Швеция	Д	Царство Польское

Ответ

1	Б
2	А
3	Г
4	Д
5	В

5) Установите соответствие между страной и термином:

1	«Теория магнита»	А	Азербайджан
2	«Красный май»	Б	ФРГ
3	«Пражская весна»	В	Польша
4	Профсоюзное объединение «Солидарность»	Г	Франция
5	«Черный январь»	Д	Чехословакия

Ответ

1	Б
2	Г
3	Д
4	В
5	А

6) Установите соответствие между страной и термином:

1	Боливарианская революция	А	Венесуэла
2	Революция роз	Б	Индия
3	Великая культурная революция	В	Иран
4	Исламская революция	Г	КНР
5	Сатьяграха	Д	Грузия

Ответ

1	А
2	Д
3	Г
4	В
5	Б

7) Установите соответствие между странами и соглашением, которое завершило конфликт, связанный с этими странами

1	Великобритания и Ирландия	А	Дейтонские соглашения
2	Израиль и Египет	Б	Кэмп-Дэвидские соглашения
3	Индия и Пакистан	В	Парижское соглашение
4	Сербия, Хорватия, Босния и Герцеговина	Г	соглашение Страстной Пятницы
5	США, ДРВ, Южный Вьетнам	Д	Ташкентская декларация

Ответ

1	Г
2	Б
3	Д
4	А
5	В

8) Установите соответствие пары стран и объекта территориального спора / конфликта между ними

1	Боливия и Чили	А	Антофагаста
2	Великобритания и Аргентина	Б	Голанские высоты
3	Израиль и Сирия	В	Остров Даманский
4	Индия и Пакистан	Г	Кашмир
5	СССР и КНР	Д	Фолклендские / Мальвинские острова

Ответ

1	А
2	Д
3	Б
4	Г
5	В

9) Установите соответствие между кодовым названием операции и местом ее проведения

1	«Анадырь»	А	Афганистан
2	«Буря в пустыне»	Б	Венгрия
3	«Вихрь»	В	Ирак и Кувейт
4	«Несокрушимая свобода»	Г	Куба
5	«Союзная сила»	Д	Югославия

Ответ

1	Г
2	В
3	Б
4	А
5	Д

10) Установите соответствие между страной и ее бывшей метрополией, от которой эта страна провозгласила независимость

1	Бурунди	А	Бельгия
2	Гвинея-Бисау	Б	Великобритания
3	Нигер	В	Италия
4	Нигерия	Г	Португалия
5	Эфиопия	Д	Франция

Ответ

1	А
2	Г
3	Д
4	Б
5	В

11) Установите соответствие между странами и происходившей между ними войной

1	Война из-за уха Дженкинса	А	Боливия и Парагвай
2	Деволуционная война	Б	Великобритания и Китай (Империя Цин)
3	Первая опиумная война	В	Испания и Великобритания
4	Футбольная война	Г	Испания и Франция
5	Чакская война	Д	Сальвадор и Гондурас

Ответ

1	В
2	Г
3	Б
4	Д
5	А

12) Установите соответствие между лауреатом Нобелевской премии мира и теми его заслугами, которые были отмечены данной премией

1	Основание Лиги наций	А	В. Вильсон
2	Подписание Портсмутского мира между Россией и Японией	Б	Дж. Маршалл
3	Разработка плана послевоенного восстановления экономики Европы	В	Ф. Нансен
4	Создание паспорта для беженцев	Г	Л. Пирсон
5	Урегулирование Суэцкого кризиса	Д	Т. Рузвельт

Ответ

1	А
2	Д
3	Б
4	В
5	Г

13) Установите соответствие между политическим скандалом/инцидентом и страной, в которой он произошел

1	Дело на Ибице	А	СССР
2	Дело Гийома	Б	Австрия
3	Иран-Контрас	В	США
4	Панамский скандал	Г	Франция
5	Хлопковое дело	Д	ФРГ

Ответ

1	Б
2	Д
3	В
4	Г
5	А

14) Установите соответствие между конфликтом/инцидентом и его участниками

1	Арустукская война	А	Великобритания и США
2	Инцидент в Тонкинском заливе	Б	Великобритания и Испания
3	Инцидент Головнина	В	Великобритания и Франция
4	Кризис Нутка-Саунд	Г	Россия и Япония
5	Фашодский инцидент	Д	США и ДРВ

Ответ

1	А
---	---

2	Д
3	Г
4	Б
5	В

15) Установите соответствие между штатом США и тем государством, которому принадлежала его территория до ее включения в состав США

1	Аризона	А	Мексика
2	Аляска	Б	Испания
3	Коннектикут	В	Франция
4	Миссури	Г	Великобритания
5	Флорида	Д	Россия

Ответ

1	А
2	Д
3	Г
4	В
5	Б

16) Установите соответствие между международным договором и российским/советским представителем, который участвовал в его подписании

1	Айгунский договор	А	М.И. Кутузов
2	Бухарестский мир	Б	М.П. Лазарев
3	Кючук-Кайнарджийский мир	В	Н.Н. Муравьев
4	Рапальский договор	Г	П.А. Румянцев
5	Ункяр-Искелесийский договор	Д	Г.В. Чичерин

Ответ

1	В
2	А
3	Г
4	Д
5	Б

17) Установите соответствие между инцидентом, который послужил поводом для того или иного события и соответствующим событием

1	Взрыв крейсера «Мэн»	А	вступление США в Первую мировую войну
2	Глайвицкая провокация	Б	начало Вьетнамской войны
3	Инцидент в Тонкинском заливе	В	начало Испано-американской войны
4	Сараевское убийство	Г	начало Первой мировой войны

			(Австрийский ультиматум Сербии)
5	Шифрограмма Циммермана	Д	нападение Гитлеровской Германии на Польшу

Ответ

1	В
2	Д
3	Б
4	Г
5	А

18) Установите соответствие между

1	Вильнюсская речь	А	Мартин Лютер Кинг
2	Мюнхенская речь	Б	В.В. Путин
3	«Кровь, пот и слезы»	В	Ф. Кастро
4	«У меня есть мечта»	Г	Д. Чейни
5	«История меня оправдает»	Д	У. Черчилль

Ответ

1	Г
2	Б
3	Д
4	А
5	В

19) Установите соответствие между городом и правителем, при котором он был включен в состав Российского государства / Российской империи / СССР

1	Батуми	А	Александр I
2	Вильнюс (Вильна)	Б	И.В. Сталин
3	Львов	В	Екатерина II
4	Рига	Г	Александр II
5	Хельсинки (Гельсингфорс)	Д	Петр I

Ответ

1	Г
2	В
3	Б
4	Д
5	А

20) Установите соответствие между парой государственных/политических деятелей и городом/местом, где произошла их встреча

1	Александр I и Наполеон	А	Бьёркё
2	Л.И. Брежнев и Дж. Картер	Б	Вена
3	Николай II и Вильгельм II	В	Гуаякиль
4	Петр I и Людовик XV	Г	Париж
5	Симон Боливар и Хосе де Сан-Мартин	Д	Эрфурт

Ответ

1	Д
2	Б
3	А
4	Г
5	В