

Муниципальный этап всероссийской олимпиады школьников  
2019 – 2020 учебный год  
Математика  
8 класс

МЕТОДИКА ОЦЕНИВАНИЯ ЗАДАНИЙ

Баллы	Правильность (ошибочность) решения.
7	Полное верное решение.
6-7	Верное решение, но имеются небольшие недочеты, в целом не влияющие на решение.
5-6	Решение содержит незначительные ошибки, пробелы в обоснованиях, но в целом верно и может стать полностью правильным после небольших исправлений или дополнений.
4	Верно рассмотрен один из двух (более сложный) существенных случаев.
2-3	Доказаны вспомогательные утверждения, помогающие в решении задачи.
1	Рассмотрены отдельные важные случаи при отсутствии решения (или при ошибочном решении).
0	Решение неверное, продвижения отсутствуют.
0	Решение отсутствует.

ОТВЕТЫ И РЕШЕНИЯ

**8.1.** По кругу написано 2019 натуральных чисел. Докажите, что найдутся два соседних числа, сумма которых чётна.

**Решение.** Сумма 2 чисел будет чётной, если они оба чётные или оба нечётные. Сумма 2 чисел будет нечётной, если одно из них будет чётное, а другое – нечётное. Допустим, что сумма любых 2 соседних чисел нечётна, тогда чётные и нечётные числа должны чередоваться. Значит, общее число чисел будет чётным, а по условию чисел 2019, – нечётное количество. Значит, допущение сделано неверно, и на самом деле найдутся 2 числа, сумма которых будет чётна.

**8.2.** Маленькие детки кушали конфетки. Каждый съел на 7 конфет меньше, чем все остальные вместе, но всё же больше одной конфеты. Сколько всего конфет было съедено?

**Ответ:** 21 конфета.

**Решение:** Обозначим через  $S$  общее число конфет, которые съели дети. Если один из детей съел  $a$  конфет, то по условию все остальные съели  $a + 7$  конфет, и тем самым все вместе съели  $S = a + (a + 7) = 2a + 7$  конфет. Такое рассуждение справедливо для каждого ребенка, поэтому все дети съели одно и то же количество конфет: по  $a = (S - 7) / 2$  штук.

Обозначим теперь через  $N$  число детей. Тогда условие записывается как  $a = a \cdot (N - 1) - 7$ , откуда  $7 = a \cdot (N - 2)$ . Число 7 простое, поэтому один из сомножителей равен 1, а другой 7. Но по условию  $a > 1$ , поэтому  $a = 7$ ,  $N - 2 = 1$ . Тем самым  $N = 3$ , и была съедена  $S = a \cdot N = 21$  конфета.

**8.3.** Через точку  $B$  проведены четыре прямые так, что  $AB \perp BD$ ,  $BE \perp BC$ , и проведена прямая  $AC$ , пересекающая данные прямые так, что  $AB = BC$ . Прямая  $AC$  пересекает  $BD$  в точке  $D$ ,  $AC$  пересекает  $BE$  в точке  $E$ . Докажите, что  $\triangle ABE = \triangle BCD$ .

**Решение.** Так как  $AB = BC$ , то  $\angle BAC = \angle BCA$  (см. рис.1). Далее,  $\angle ABE = 90^\circ - \angle EBD$ ,  $\angle CBD = 90^\circ - \angle EBD$ . Отсюда  $\angle ABE = \angle CBD$ . Итак, имеем:  $AB = BC$ ,  $\angle BAC = \angle BCA$ ,  $\angle ABE = \angle CBD$ . Значит,  $\triangle ABE = \triangle BCD$ .

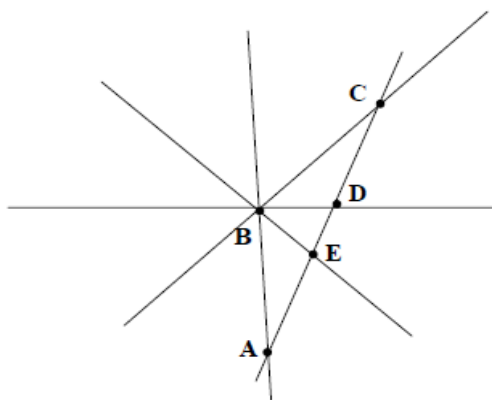


рис.1

**8.4. а)** Впишите в каждый кружочек (см. рис. 2.) по цифре, отличной от нуля, так, чтобы сумма цифр в двух верхних кружочках была в 7 раз меньше суммы остальных цифр, а сумма цифр в двух левых кружочках — в 5 раз меньше суммы остальных цифр.

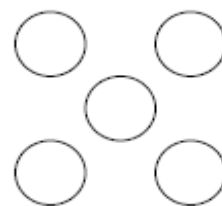


рис.2

**б)** Докажите, что задача имеет единственное решение.

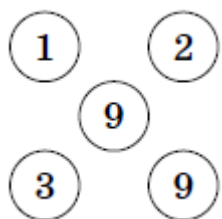


рис.3

**Ответ. а)** См. рис.3:

**Решение. б)** Если сумма цифр в двух верхних кружочках в 7 раз меньше суммы остальных цифр, то она в 8 раз меньше суммы всех пяти цифр. Рассуждая так же, получим, что сумма цифр в двух левых кружочках в 6 раз меньше суммы всех пяти цифр. Значит, сумма всех цифр делится без остатка и на 6, и на 8. Минимальное такое натуральное число — это 24. Следующее число равно 48, но сумма всех пяти цифр не может превышать  $5 \cdot 9 = 45$ .

Итак, сумма всех цифр 24, сумма двух верхних  $24 : 8 = 3$ , сумма двух левых  $24 : 6 = 4$ . Легко видеть, что цифры в трех кружках слева и сверху можно разместить только двумя способами (см. рис.4),

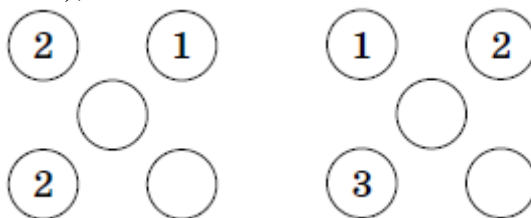


рис.4

причем в первом случае сумма двух остальных цифр равна 19, что невозможно, а во втором равна 18, что возможно, только если они обе девятки.

**8.5.** Расстановка шахматных королей на доске называется «правильной», если ни один из них не бьет другого, а каждое поле доски либо находится под боем, либо занято одним из

королей. Какое минимальное и какое максимальное число королей можно правильно расставить на шахматной доске размером  $8 \times 8$ ?

**Ответ.** Минимальное и максимальное число королей равно соответственно 9 и 16.

**Решение.** Разобьем доску на 16 квадратиков размером  $2 \times 2$ . В каждом из них может стоять не более одного короля, иначе они будут бить друг друга, поэтому их число при любой правильной расстановке не превосходит 16. Например, если в левом нижнем углу каждого квадрата разбиения стоит по одному королю.

Минимальное же число королей равно 9. Расширим шахматную доску до размеров  $9 \times 9$ , добавив мысленно вертикаль справа и горизонталь сверху. Разобьем полученную доску на 9 квадратов  $3 \times 3$ . Поставим в центр каждого из квадратов по королю. Тогда все клетки доски  $9 \times 9$ , а значит, и исходной доски оказались под боем. Видно, что эти 9 королей попали и на исходную доску, поэтому 9 королей хватит. Докажем, что 8 королей не хватит. Рассмотрим первые две горизонтали. На них должно располагаться не менее трех королей (иначе какие-то поля первой горизонтали не будут биты). Рассмотрим седьмую и восьмую горизонтали. Аналогично на них должно стоять не менее трех королей. Теперь рассмотрим 4 и 5 горизонтали. На них должно стоять тоже не менее трех королей, иначе не будут биты, например, все поля на 4-й горизонтали. Таким образом, королей должно быть не менее 9.