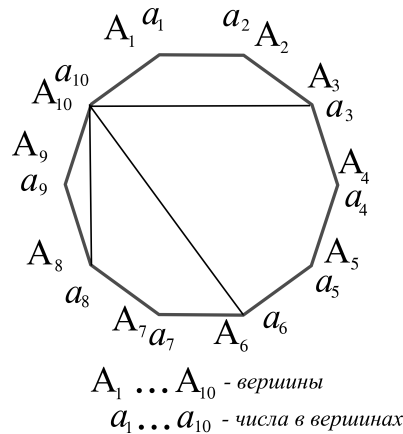


Ленинградская область  
**Всероссийская олимпиада школьников по математике**  
*Муниципальный этап*  
**2023-2024 уч.год**  
 10 класс

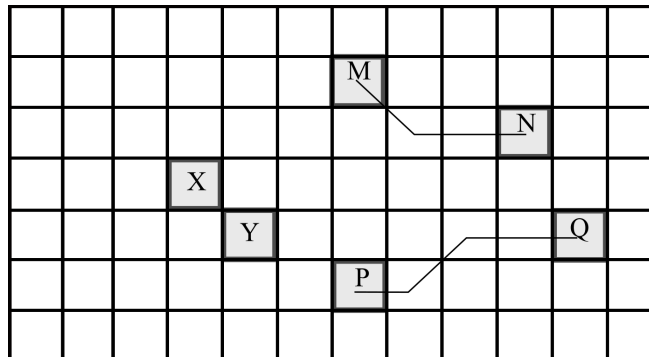
*Задание размещено на двух листах*

1. Можно ли так расставить натуральные числа в вершинах правильного десятиугольника, чтобы были выполнены два правила:
- любые два числа, стоящие в соседних вершинах, т.е. в вершинах, соединенных стороной, имели бы общий делитель;
  - любые два числа, стоящие в вершинах, соединенных какой-либо диагональю, не имели бы общих делителей, больших единицы?

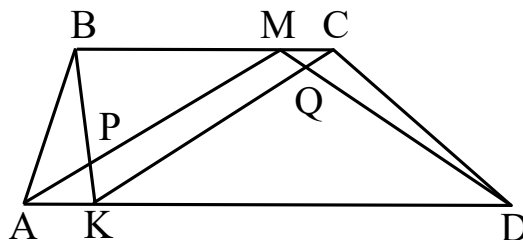


2. Клетки бесконечной клетчатой плоскости раскрашены в восемь цветов. Докажите, что найдутся две клетки какого-то одного цвета, расстояние между которыми по сетке не больше одной клетки.

*Расстоянием на сетке между клетками  $A$  и  $B$  назовем количество промежуточных клеток, которые нужно пройти, двигаясь по самому короткому пути из  $A$  в  $B$ . На рисунке показаны клетки  $X$  и  $Y$ , расстояние между которыми равно 0; клетки  $M$  и  $N$ , расстояние между которыми равно 2; клетки  $P$  и  $Q$ , расстояние между которыми равно 3. Соседними считаются клетки, имеющие общую сторону (соседние по вертикали или горизонтали) или общую вершину (соседние по диагонали).*



3. Дана трапеция  $ABCD$  с основаниями  $AD$  и  $BC$ . На основаниях отмечены произвольные точки  $K$  и  $M$ , см. рисунок. Отрезок  $AM$  пересекает отрезок  $BK$  в точке  $P$ , отрезок  $DM$  пересекает отрезок  $CK$  в точке  $Q$ . Докажите, что сумма площадей треугольников  $ABP$  и  $CDQ$  равна площади четырехугольника  $KPMQ$ .



4. Решите систему уравнений, считая  $x$  и  $y$  натуральными (целыми положительными) числами

$$\begin{cases} \text{НОД}(x, y) + 143x = 2009 \\ \text{НОД}(x, y) \cdot \text{НОК}(x, y) + 3y = 2023 \end{cases}$$

5. Пусть  $a > 0, b > 0, c > 0$  и  $a + b + c = 1$ . Докажите, что

$$\sqrt{3a+2} + \sqrt{3b+2} + \sqrt{3c+2} \leq 3\sqrt{3}$$

*Продолжительность выполнения заданий – 235 минут.*

*Максимальное количество баллов за каждую задачу – 7 баллов. Итого 35 баллов за все задание.*

*Не забудьте обосновать свои решения задач!*