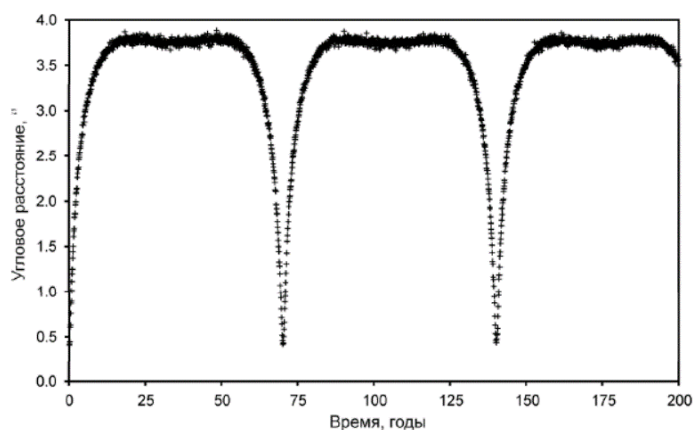


### Условия задач

1. В мае или в ноябре может наблюдаться транзит (прохождение) Меркурия по диску Солнца – редкое астрономическое явление, случающееся однако намного чаще, чем прохождения Венеры, поскольку Меркурий находится ближе к Солнцу и движется быстрее. Последнее прохождение произошло 11 ноября 2019 года, следующее случится только 13 ноября 2032 года. Изобразите чертёж взаимного расположения Солнца, Земли и Меркурия в момент транзита Меркурия. Вычислите, на каком расстоянии (в км) от Земли находился в это время Меркурий. Определите синодический период относительного движения Меркурия и Земли. Совпадает ли этот период с интервалами между указанными датами двух ближайших транзитов? Свой ответ поясните.
2. Этот снимок Луны сделал французский астрофотограф Лоран Лаведер. Оцените примерное расстояние, с которого мог быть сделан этот портрет на фоне лунного диска. Сделайте чертёж, поясняющий проведение оценки.
3. На какой максимальной высоте  $h$  может кульминировать Луна в Саратове? Наклонение эклиптики к плоскости небесного экватора составляет  $\varepsilon = 23,5^{\circ}$ . Наклонение плоскости орбиты Луны к плоскости эклиптики  $i = 5,1^{\circ}$ . Географические координаты Саратова:  $\varphi = 51,5^{\circ}$  с.ш., долгота  $\lambda = 46,0^{\circ}$  в.д.
4. Определите эксцентриситет орбиты в двойной системе одинаковых солнцеподобных звезды, если выраженное в угловых секундах видимое угловое расстояние между ними меняется так, как показано на графике.
5. Вычислите массу (в массах Солнца) каждой из звезд, входящих в состав такой двойной звезды, у которой параллакс  $0,5''$ , период обращения 80 лет, большая полуось орбиты видна с Земли под углом  $18''$ , а звезды отстоят от центра масс на расстояниях, относящихся как 3:1.
6. Во сколько раз изменится радиус цефеиды, если амплитуда изменения ее блеска равна  $1,5^m$ , а яркость единицы ее поверхности остается постоянной?



К задаче 2



К задаче 4

## Решения

1. Для определения расстояния между Землей и Меркурием из справочных данных возьмём средние расстояния планет от Солнца:

$$R_M = 0,387 \text{ а.е.}; R_3 = 1,000 \text{ а.е.}$$

Из построения очевидно, что искомое расстояние между Землей и Меркурием:

$$R_{МЗ} = R_3 - R_M = 0,613 \text{ а.е.} = 0,613 \cdot 1,496 \cdot 10^{11} \approx 0,917 \cdot 10^{11} \text{ м} = 9,17 \cdot 10^7 \text{ км. (1 балл)}$$

Для определения синодического периода относительного движения планет (S) воспользуемся формулой для внутренних планет:

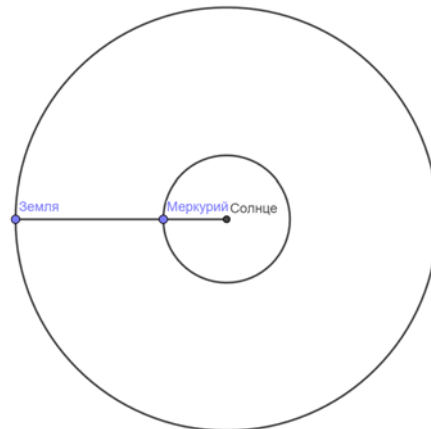
$$\frac{1}{S} = \frac{1}{T_M} - \frac{1}{T_3}, \text{ где } T_M \text{ и } T_3 \text{ – сидерические периоды обращения Меркурия и}$$

Земли соответственно. (2 балла)

Из справочных таблиц находим:  $T_M = 87,969$  сут и  $T_3 = 365,256$  сут

$$\text{Тогда } S = \frac{T_3 T_M}{T_3 - T_M} = \frac{32131,205}{277,287} = 115,9 \text{ сут (2 балла)}$$

Очевидно, что период повторения транзита существенно больше синодического периода, так как транзит наступает только в том случае, если в момент нижнего соединения (которые повторяются с периодом S) Меркурий, Солнце и Земля находятся на одной прямой. (2 балла)



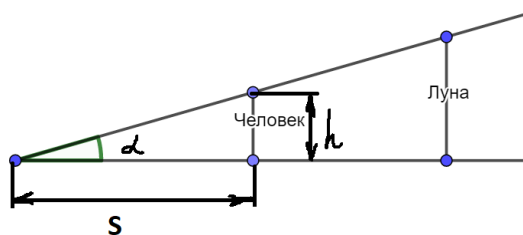
2. Видимый угловой размер Луны составляет примерно  $\alpha = 0,5^\circ$  (2 балла).

Верно выполненный чертёж (2 балла).

Проведение примерной оценки допускает принять рост человека с вытянутыми руками  $h \approx 2 - 2,5$  м.

Для малых углов можно считать, что  $\text{tg } \alpha \approx \alpha$  (рад). (2 балла)

Тогда  $S \approx h/\alpha \approx 229 - 287$  м. (попадание в диапазон оценки – 2 балла).



3. Максимальная высота в кульминации будет в тот момент, когда у Луны максимальное склонение (2 балла), равное  $\delta = \varepsilon + i = 28,6^\circ$  (2 балла).

Максимальная высота луны в верхней кульминации составит  $h = 90^\circ - \varphi + \delta$  (2 балла) =  $67,1^\circ$  (2 балла).

4. Зависимость углового расстояния между звездами характеризуется резкими минимумами, между которыми эта величина практически постоянна. Такая зависимость больше похожа на кривую блеска затменной переменной (2 балла). Если же говорить об угловом расстоянии, то начать следует с вывода о том, что

орбиты звезд в системе явно не круговые.

Будем считать одну из звезд неподвижной, рассматривая движение второй звезды относительно первой. Очевидно, это не меняет форму орбиты. Будь эта орбита круговой, пусть даже и наклоненной к лучу зрения, в проекции на небесную сферу она представлялась бы эллипсом с центром, совпадающим с положением звезды, которую мы считаем неподвижной. В этом случае угловая зависимость имела два одинаковых максимума и два одинаковых минимума по ходу орбитального периода, что не соответствует условию. (2 балла)

Рассмотрим теперь случай эллиптических орбит. На картине мы видим острый минимум, а вся зависимость симметрична относительно этого минимума. Такое может быть, если этот минимум соответствует перицентру орбиты звезды.

В момент перицентра угловое расстояние между звездами составляет  $\rho_P = 0.4''$ . В апоцентре звезда оказывается через половину периода, и тогда угловое расстояние равно  $\rho_A = 3.75''$ . (2 балла)

Неподвижная звезда, перицентр и апоцентр находятся в пространстве на одной прямой, поэтому вне зависимости от ориентации орбиты эти видимые расстояния относятся друг к другу так же, как и пространственные расстояния в перицентре и апоцентре. Отсюда мы получаем эксцентриситет орбиты:

$$e = \frac{\rho_A - \rho_P}{\rho_A + \rho_P} = 0.8 \text{ (2 балла).}$$

5. Пусть  $\pi = 0,5''$  – параллакс двойной звезды. Тогда расстояние до нее можно найти по формуле:  $r = 1/\pi = 2$  парсека (1 балл). Зная расстояние до звезды и видимый угловой размер большой полуоси можно найти реальный размер большой полуоси орбиты:  $a = r \alpha = 2$  парсека  $\cdot 18'' = 36$  а.е. (2 балла).

Воспользуемся обобщенным третьим законом Кеплера, чтобы найти сумму масс компонент двойной звезды. Двойную звезду будем рассматривать в сравнении с системой Земля-Солнце.

$$(T_3)^2 (M_c + m_3) / (T_2 \cdot (m_1 + m_2)) = (a_3)^3 / a^3. \text{ (1) (2 балла)}$$

Массой Земли по сравнению с массой Солнца можно пренебречь.

$T_3 = 1$  год,  $a_3 = 1$  а.е. Тогда:  $m_1 + m_2 = a^3 M_c / T_2 = 7,29 M_c$ . (1 балл) Для двойных звезд:

$m_1 r_1 = m_2 r_2$ , тогда  $m_2 = 3m_1$ . Отсюда:  $m_1 = 1,82$  массы Солнца,  $m_2 = 5,47$  массы Солнца (2 балла).

6. По условию задачи поверхностная яркость (и эффективная температура) цефеиды остается постоянной, и блеск изменяется только за счет изменений её пространственных и видимых размеров. В этом случае справедлива формула:  $\Delta m = 5 \lg R_2/R_1$  (3 балла), где  $R_1$  и  $R_2$  – радиусы цефеиды в минимуме и максимуме блеска (2 балла). Подставляя числовое значение величины  $\Delta m$ , получаем, что в максимуме цефеида имеет в 2 раза (3 балла) больший радиус, чем в минимуме.