

<i>Предмет</i>	<i>Класс</i>	<i>Дата</i>	<i>Время начала</i>	<i>Время окончания</i>
<i>Химия</i>	<i>7-8 класс</i>	<i>15 ноября 2023 г</i>	<i>10-00</i>	<i>13-55</i>

**Задание 1. «Буратино и углекислый газ». (40 баллов).**

Отчаявшись пробудить в Буратино интерес к учебе простыми наставлениями, Мальвина, Артемон и Пьеро решили провести для деревянного мальчика демонстрационный урок естествознания, включив в него элементы математики, физики и химии. Пробравшись в лабораторию известного любителя естествознания Дуремара, друзья обнаружили там баллон с углекислым газом, ведро с известковой водой, весы, посуду, шланги и прочее оборудование.

Умелец Артемон присоединил к баллону с углекислым газом резиновый шланг со стеклянной трубкой, опустил трубку в воду и так отрегулировал подачу газа, что каждую секунду из трубки в воду выходило три пузырька газа. «Видишь, Буратино, скорость подачи газа через нашу трубку составляет ровно 3 пузырька в секунду», – довольно сказал пес. «Не путай меня, скорость измеряется в километрах в час, я это знаю точно», – гордо заявил Буратино, легко обгоняющий любую из кукол на своих деревянных ногах. «Скорость бывает самая разная, – вмешался в их диалог зануда Пьеро. – Например, скорость подачи газа можно измерять как в пузырьках, так и в объемах газа, в числе его молекул или атомов, в граммах, и даже в молях газа, прошедших через трубку в единицу времени».

1. Помогите Пьеро вразумить Буратино, вычислите скорость прохождения углекислого газа через трубку в других единицах: а) миллилитрах в секунду; б) молекулах в секунду; в) атомах в минуту; г) граммах в час; д) молях газа в сутки.

**Примечание:** один моль любого вещества содержит  $6,02 \cdot 10^{23}$  молекул,  $1 \text{ г} = 6,02 \cdot 10^{23}$  а.е.м.,  $1 \text{ мл} = 1 \text{ см}^3$ . Один моль газа в условиях эксперимента ( $p = 1 \text{ атм}$ ,  $t = 20 \text{ }^\circ\text{C}$ ) занимает объем  $24,0 \text{ л}$ , диаметр пузырька примите равным  $0,5 \text{ см}$ , объем шара равен  $\frac{4}{3} \pi r^3$ . Среднее значение молярной массы воздуха  $29 \text{ г/моль}$ .

1. а) Объем трех пузырьков составляет  $3 \cdot \frac{4}{3} \pi \cdot 3,14 \cdot (0,5/2)^3 = 0,19625 \approx 0,2 \text{ см}^3 = 0,2 \text{ мл}$ . То есть, скорость подачи газа в этих единицах составляет  $0,2 \text{ мл/с}$ ;

б) За секунду через трубку проходит  $6,02 \cdot 10^{23} \cdot 0,2 \cdot 10^{-3} / 24 = 5,02 \cdot 10^{18}$  молекул;

в) В минуту через трубку пройдет  $60 \cdot 3 \cdot 5,02 \cdot 10^{18} = 9,04 \cdot 10^{20}$  атомов;

г) В час через трубку пройдет  $44 \cdot 60 \cdot 60 \cdot 5,02 \cdot 10^{18} / 6,02 \cdot 10^{23} = 1,32 \text{ г}$  газа ( $44 \cdot 60 \cdot 60 \cdot 0,2 \cdot 10^{-3} / 24 = 1,32 \text{ г}$ );

д) в сутки через трубку пройдет  $24 \cdot 1,32 / 44 = 0,72$  моль газа.

**1. Каждый верный расчет скорости в нужных единицах по 2 б. (2\*5 = 10 баллов).**

Пока друзья спорили, Мальвина взяла сухую коническую колбу с пробкой общим объемом  $0,36 \text{ л}$  и взвесила ее. Вынула стеклянную трубку из воды, тщательно высушила ее полотенцем и опустила на дно колбы, начав пропускать в нее газ из баллона. «А что, Буратино, – загадочно улыбнулась Мальвина, – сможешь посчитать, сколько времени я собралась пропускать газ в эту колбу»? Буратино обиженно засопел и засел за расчеты, потратив на них неоправданно много времени. Каково же было его удивление, когда он оторвал голову от записей и увидел, что газ по-прежнему пропускают в колбу, несмотря на то, что времени прошло даже больше, чем получилось в его расчетах. Мальвина проверила расчеты и похвалила Буратино, но нудный Пьеро отказался прекращать эксперимент. Он аккуратно вынул трубку, закрыл колбу пробкой и взвесил ее. Записав массу, он снова опустил трубку в колбу и продолжил пропускать газ, каждые 3-4 мин вынимая трубку, закрывая колбу пробкой и снова взвешивая ее. Буратино даже проснулся, когда Пьеро громко и радостно закричал: «Вот, теперь достаточно!»

2. Вычислите минимальное время, за которое колба может полностью заполниться углекислым газом. Почему на практике эксперимент проводят заметно дольше и сколько раз взвешивают колбу с газом? Почему не обходятся одним взвешиванием?

2. Минимальное время  $360/0,2 = 1800$  с или  $1800/60 = 30$  мин. Эксперимент проводят заметно дольше, поскольку часть углекислого газа уходит в окружающую среду и не получается количественно вытеснить воздух из колбы рассчитанным объемом углекислого газа. Взвешивания проводят до тех пор, пока почти не совпадут результаты двух-трех последних взвешиваний (если они отличаются всего на 1-2 цифры в последнем знаке). Среднее из этих значений массы обычно берут в качестве истинного.

Одним взвешиванием обойтись нельзя, поскольку в этом случае нет никакой уверенности в том, что в колбе уже нет воздуха, а есть только углекислый газ.

2. Расчет времени 2 б., потери газа (диффузия, конвекция, перемешивание и т.п.) 1 б., до совпадения 2-3 взвешиваний 1 б. (просто ответ 2-3 раза 0,5 б.), иначе нет контроля 1 б. ( $2+1*3 = 5$  баллов).

3. Рассчитайте массу колбы с пробкой, полностью заполненной углекислым газом, если известно, что пустая колба с воздухом, закрытая пробкой, весит 412,555 г.

3. В колбе объемом 0,36 л в условиях эксперимента содержится  $0,36/24 = 0,015$  моль любого газа. Это количество углекислого газа весит  $0,015*44 = 0,66$  г. Однако, прежде чем сложить это значение с массой колбы, приведенной в задаче, из последней надо вычесть массу находящегося в ней воздуха. Среднее значение молярной массы воздуха 29 г/моль (из условия), масса воздуха в колбе  $29*0,015 = 0,435$  г. Масса колбы с пробкой, полностью заполненной углекислым газом, составит  $412,555 - 0,435 + 0,66 = 412,78$  г.

3. Расчет массы колбы с  $CO_2$  4 б. (масса  $CO_2$  2 б., мысль об учете массы воздуха 1 б., расчет массы воздуха 1 б.) (4 балла).

После того, как Пьеро, наконец, оторвался от колбы, Мальвина зажгла свечу, поднесла к ней колбу, вынула пробку и перевернула колбу над свечой. «Ух, ты», – оживился Буратино.

4. Что наблюдали друзья в этом опыте и какова причина этого эффекта?

4. При переворачивании колбы углекислый газ «выливается» из нее, поскольку он тяжелее воздуха. Горящая свеча гаснет, поскольку углекислый газ вытесняет воздух (и, соответственно, кислород) из зоны горения, а сам он горение не поддерживает.

4. Погасла 1 б., не поддерживает горение (изолирует от  $O_2$ ) 1 б. ( $1*2 = 2$  балла).

Затем Артемон опустил трубку от баллона с газом в небольшую стеклянную колбочку, содержащую 100 мл известковой воды. «Стало совсем интересно», – удивился Буратино и подошел поближе к колбе, чтобы внимательно наблюдать за происходящим внутри нее чудом. Решив совсем заинтриговать его, лукавый Пьеро отвлек Буратино, предложив закончить уравнение реакции гидроксида кальция с углекислым газом. Несчастный Буратино лишь недоуменно таращился на набор непонятных символов, обозначающих реагенты. «А, может, ты и не видел ничего»? – расхохотался Артемон, возвращая внимание Буратино к реакционной колбе с известковой водой, в которой происходило что-то уж совсем непонятное. Дождавшись окончания превращений, восторженный Буратино сказал, что он тоже хочет ощущать себя волшебником, поэтому обязательно начнет изучать химию. В ответ его друзья добродушно улыбнулись и пообещали помочь ему с этим делом (а также с математикой, физикой и другими науками, без которых изучение химии определенно невозможно).

5. Какие эффекты Буратино наблюдал в колбе с известковой водой в процессе длительного пропускания через нее углекислого газа? Напишите уравнения происходивших реакций.

5. Буратино увидел, что при пропускании углекислого газа через прозрачную бесцветную известковую воду наблюдается ее помутнение (выпадает осадок, жидкость белеет и т. п.):

$Ca(OH)_2 + CO_2 = CaCO_3 \downarrow + H_2O$ . После того, как Буратино отвлекся и снова посмотрел на колбу, он увидел, что количество мути стало уменьшаться (осадок стал растворяться, жидкость снова стала светлеть и т. п.), поскольку при избытке  $CO_2$  карбонат кальция растворяется, вновь давая прозрачный бесцветный раствор:  $CaCO_{3\text{тв.}} + H_2O + CO_2 = Ca(HCO_3)_2\text{р-р}$ .

**5. Осадок (помутнение) и его последующее растворение по 1 б., уравнения реакций по 1 б. (1\*2+1\*2 = 4 балла).**

**6.** В 1 л известковой воды содержится 1,6 г гашеной извести. Сколько времени Артемону надо было пропускать углекислый газ в колбочку для максимального проявления первого эффекта? Какое минимальное время потребуется, чтобы увидеть окончание второго эффекта?

*6. В 1 л известковой воды содержится 1,6 г гашеной извести, то есть  $1,6/74 = 0,0216 = 2,16 \cdot 10^{-2}$  моль, в 0,1 л –  $2,16 \cdot 10^{-3}$  моль. Для максимального проявления первого эффекта (максимальное количество мути) углекислого газа также потребуется  $2,16 \cdot 10^{-3}$  моль. Такое количество газа проходит через трубку за  $2,16 \cdot 10^{-3} / 0,72 = 3 \cdot 10^{-3}$  суток или  $60 \cdot 24 \cdot 3 \cdot 10^{-3} = 4,32$  мин или 259,2 с. Чтобы увидеть окончание второго эффекта (растворился весь карбонат кальция), нужно как минимум еще столько же  $CO_2$ , т. е. еще столько же времени. Всего потребуется  $2 \cdot 4,32 = 8,64$  мин или 518,4 с.*

**6. Расчет времени первого эффекта 3 б., второго 1 б. (за ответ, что времени потребуется еще столько же, ставится 1 б.) (3+1 = 4 балла).**

Пора уже Вам продемонстрировать Буратино и Ваш высокий класс. Попробуйте самостоятельно выполнить пункты 7 и 8 задания, не дожидаясь подсказок от наших героев.

**7.** Из перечисленного списка веществ: оксид бария, уголь (при нагревании), соляная кислота, оксид азота(II), кислород (при нагревании), оксид натрия, оксид меди(II), металлический магний (при нагревании): а) Выберите и укажите вещества, с которыми углекислый газ не реагирует; б) Выберите и укажите вещества, с которыми углекислый газ реагирует, и напишите уравнения реакций.

*7. а) С углекислым газом не реагируют: соляная кислота, оксид азота(II), кислород, оксид меди(II). б) С углекислым газом реагируют: оксид бария, уголь (при нагревании), оксид натрия, металлический магний (при нагревании). Уравнения реакций:  $BaO + CO_2 = BaCO_3$ ;*

*$C + CO_2 \xrightarrow{t, ^\circ C} 2CO$ ;  $Na_2O + CO_2 = Na_2CO_3$ ;  $2Mg + CO_2 \xrightarrow{t, ^\circ C} 2MgO + C$  (или  $CO$ ).*

**7. Верное указание «реагирует/не реагирует» по 0,5 б. (неверное – штраф минус 0,5 б, но в целом за пункт 7 не меньше 0 б), верные уравнения реакций по 1 б., неверные не оцениваются (0,5\*8+1\*4 = 8 баллов).**

**8.** Приведите один лабораторный способ получения углекислого газа (уравнение реакции) и два примера его использования для народнохозяйственных нужд.

**8.** В лаборатории углекислый газ обычно получают действием соляной кислоты на мрамор:  $CaCO_3 + 2HCl = CaCl_2 + CO_2 \uparrow + H_2O$ . Можно использовать и другие кислоты с карбонатами, однако важно, чтобы образующаяся в ходе реакции соль была хорошо растворима (поэтому серную кислоту можно зачесть только в 7-8 классах), а кислота была достаточно сильной, если исходный карбонат растворим плохо.

Углекислый газ используется в пищевой промышленности (консервант, разрыхлитель, производство газированных напитков), химической промышленности (производство соды), для заполнения огнетушителей, для заполнения баллончиков в пневматическом оружии, в качестве хладагента («сухой лед») в лабораторных исследованиях и розничной торговле и т. п.

**8. Верное для способа получения уравнение реакции 1 б., два примера по 1 б. (1\*3 = 3 балла).**

**Всего** ..... **40 баллов.**

## **Задание 2. «Комбинаторика в химии». (30 баллов).**

В Вашем распоряжении имеются символы следующих химических элементов: К, Н, О, S.

**1.** Пользуясь только этими символами (в любом сочетании) и любыми цифрами, составьте десять химических формул реально существующих соединений (простые вещества не предлагать).

**2.** Дайте названия соединениям, формулы которых Вы составили.

3. Из составленного Вами списка выберите по одному двухэлементному (бинарному), трехэлементному и четырехэлементному соединению, содержащему калий, и вычислите для каждого из этих четырех соединений массовую долю элемента калия.

**1-3.** Не сильно увлекаясь соединениями, выходящими далеко за рамки базовой программы, можно выбрать 10 соединений из следующего списка (первые 12 выглядят наиболее очевидными, молекул  $H_2SO_3$  не существует, поэтому это вещество не засчитывается):

$H_2O$  - вода;  $H_2S$  - сероводород;  $H_2O_2$  – пероксид (перекись) водорода;  $SO_2$  – диоксид (диоксид) серы, сернистый газ;  $SO_3$  - триоксид (трехокись) серы, серный ангидрид;  $H_2SO_4$  – серная кислота;  $K_2O$  – оксид (окись) калия (83,0 % K);  $K_2S$  – сульфид калия, сернистый калий (70,9 % K);  $KOH$  – гидроксид (гидроокись) калия, калиевая щелочь (69,6 % K);  $K_2SO_3$  – сульфит калия, сернистоокислый калий (49,4 % K);  $K_2SO_4$  – сульфат калия, серноокислый калий (44,8 % K);  $KHSO_4$  – гидросульфат калия, кислый серноокислый калий (28,7 % K);  $KHSO_3$  – гидросульфит калия, кислый сернистоокислый калий (32,5 % K);

$K_2S_2O_3$  – тиосульфат калия;  $KH$  – гидрид калия;  $K_2O_2$  – пероксид калия;  $KO_2$  – надпероксид калия;  $KO_3$  – озонид калия;  $KHS$  – гидросульфид калия;  $K_2S_2$  – дисульфид калия;  $K_2S_n$  – полисульфид калия;  $K_2S_2O_5$  – дисульфит (пиросульфит) калия;  $K_2S_2O_7$  – дисульфат (пиросульфат) калия;  $K_2S_3O_{10}$  – трисульфат калия;  $K_2S_2O_8$  – пероксодисульфат (персульфат) калия;  $K_2S_2O_4$  – дитионит калия;  $K_2S_2O_6$  – дитионат калия;  $K_2S_4O_6$  – тетра тионат калия;  $K_2S_3O_6$  – тритионат калия.

**1. Формулы соединений по 1 б. (1\*10 = 10 баллов).**

**2. Названия соединений по 1 б. (1\*10 = 10 баллов).**

**3. Массовые доли калия в 4-х соединениях по 2 б. (2\*4 = 8 баллов).**

4. Если в составленном Вами списке отсутствует соединение, содержащее все 4 элемента, то для ответа на предыдущий вопрос используйте соединение состава  $K_2H_4SO_5$  (пусть Вас не пугает эта запись – это просто кристаллогидрат некой соли, формулу которой в безводном виде Вы вполне могли и сами привести в п. 1). Даже если в п.3 Вам удалось обойтись без этого соединения, все равно представьте формулу этого кристаллогидрата в общепринятом виде (КатионАнион\*n $H_2O$ ) и назовите это соединение.

4. Соединение состава  $K_2H_4SO_5$  содержит 40,2 % K. Его формула в общепринятом виде  $K_2SO_3 \cdot 2H_2O$  – это дигидрат сульфита калия или двухводный сернистоокислый калий.

**4. Формула в общепринятом виде 1 б., название 1 б. (1+1 = 2 балла).**

5. Предложите способы получения этих соединений из простых веществ (уравнения реакций с указанием условий, если они не идут при стандартных условиях). Можно использовать нагрев, охлаждение, электрический ток, нужные Вам растворители и катализаторы (желательно указывать конкретно). Также можно использовать уже полученные Вами вещества, а также воду и любые другие реагенты, не содержащие калий и серу.

5. Способы получения:  $2K + H_2 \xrightarrow{200-350\text{ }^\circ\text{C}} 2KH$ ;  $K + O_2 \xrightarrow{\text{горение}} KO_2$ ;

$2KO_2 \xrightarrow{290\text{ }^\circ\text{C, вакуум}} K_2O_2 + O_2 \uparrow$ ;  $2K_2O_2 \xrightarrow{>500\text{ }^\circ\text{C}} 2K_2O + O_2 \uparrow$ ;  $K_2O_2 + 2K \rightarrow 2K_2O$ ;

$KO_2 + O_3 \rightarrow KO_3 + O_2 \uparrow$ ;  $2K + S \xrightarrow{100-200\text{ }^\circ\text{C}} K_2S$ ;  $K_2S_{(p-p)} + S \xrightarrow{100\text{ }^\circ\text{C}} K_2S_2$ ;

$K_2S_{(p-p)} + (n-1)S \xrightarrow{100\text{ }^\circ\text{C}} K_2S_n$ ;  $2K + 2H_2O \rightarrow 2KOH + H_2 \uparrow$ ;

Реакции получения соединений серы, необходимых далее:  $K_2S + 2HCl \rightarrow 2KCl + H_2S \uparrow$ ;

$S + O_2 \xrightarrow{\text{горение}} SO_2$ ;  $2SO_2 + O_2 \xrightarrow{400-500\text{ }^\circ\text{C, } V_2O_5} 2SO_3$ ;  $SO_3 + H_2O \rightarrow H_2SO_4$ ;

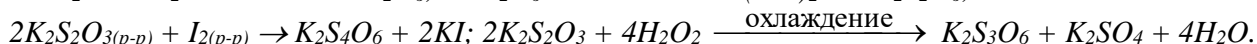
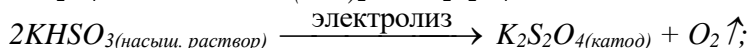
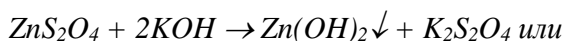
$K_2S_{(\text{насыщ. p-p})} + H_2S \rightarrow 2KHS$ ;  $2KOH + SO_2 \rightarrow K_2SO_3 + H_2O$ ;  $KOH_{(\text{спирт})} + SO_2 \rightarrow KHSO_3$ ;

$K_2SO_{3(\text{насыщ. p-p})} + SO_2 \rightarrow K_2S_2O_5$  или  $2KHSO_{3(\text{насыщ. p-p})} \xrightarrow{SO_2} K_2S_2O_5 + H_2O$ ;

$K_2SO_{3(p-p)} + S \xrightarrow{100\text{ }^\circ\text{C}} K_2S_2O_3$ ;  $2KOH + H_2SO_4 \rightarrow K_2SO_4 + 2H_2O$ ;  $K_2SO_4 + H_2SO_4 \rightarrow 2KHSO_4$ ;

$2KHSO_4 \xrightarrow{200\text{ }^\circ\text{C}} K_2S_2O_7 + H_2O$ ;  $2KHSO_{4(\text{насыщ. раствор})} \xrightarrow{\text{электролиз}} K_2S_2O_8_{(\text{анод})} + H_2 \uparrow$ ;

$K_2S_2O_7 + SO_3 \xrightarrow{50\text{ }^\circ\text{C}} K_2S_3O_{10}$ ;  $Zn + 2SO_2 \xrightarrow{H_2O} ZnS_2O_4$ ;



**5. Способы получения с указанием условий по 1 б., без указания 0,5 б. (точного указания температуры не требуется, достаточно  $t^\circ$ ) (1\*10 = 10 баллов).**

**Всего ..... 30 баллов.**

**Задание 3. «Редкий, но очень важный элемент» (30 баллов).**

Иод является одним из важнейших биогенных элементов. В организме человека содержится около 25 мг иода, причём примерно половина этой массы сосредоточена в щитовидной железе. Суточная потребность взрослого человека в иоде составляет всего 0,2 мг, однако недостаток иода в продуктах питания вызывает тяжёлые заболевания. Один из способов восполнения дефицита иода заключается в употреблении йодированной соли, т. е. поваренной соли с добавками иодида натрия, иодида калия или иодата калия. Содержание таких добавок в разных сортах соли колеблется от  $2 \cdot 10^{-3}$  до  $6 \cdot 10^{-3}$  масс. %.

**1. Приведите название и симптомы заболевания, возникновение которого в подавляющем большинстве случаев связано именно с хроническим дефицитом иода в организме человека.**

*1. Хронический недостаток иода в организме приводит к развитию заболевания «эндемический зоб» (или просто зоб), симптомы которого заключаются в существенном увеличении размеров щитовидной железы, в особо запущенных случаях изменяющем форму шеи.*

**1. Название болезни (зоб) 1 б., симптом (железа или шея) 1 б. (1\*2 = 2 балла).**

**2. Посчитайте, обеспечивает ли полную суточную потребность в иоде употребление йодированной соли, содержащей  $2 \cdot 10^{-3}$  масс. % иодида калия, если человек в среднем потребляет 11 г соли в сутки?**

*2. В 10 г поваренной соли содержится  $2 \cdot 10^{-3} \cdot 10^{-2} \cdot 11 = 2,2 \cdot 10^{-4}$  г или 0,22 мг иодида калия KI.*

*В  $39 + 127 = 166$  г KI содержится 127 г иода, значит, в 0,22 мг KI содержится  $0,22 \cdot 127 / 166 = 0,17$  мг иода. Эта величина немного меньше, чем 0,2 мг, следовательно употребление 11 г соли с содержанием иодида калия  $2 \cdot 10^{-3}$  масс. % не обеспечит полную суточную потребность организма в иоде.*

**2. Расчёт содержания иода в 12 г соли 3 б., вывод (не обеспечит) 1 б. (3+1 = 4 балла).**

В Вашем распоряжении оказался кусочек простого вещества иода массой 10,16 г.

**3. Вычислите, сколько в этом кусочке содержится (в штуках): а) молекул; б) атомов; в) протонов; г) нейтронов.**

*3. Молекула иода состоит из двух атомов. Молярная масса  $\text{I}_2$   $2 \cdot 127 = 254$  г/моль. Количество иода в кусочке  $\nu = 10,16 / 254 = 0,04$  моля. Ответы на вопросы:*

*а) количество молекул  $n = \nu \cdot N_A = 0,04 \cdot 6,02 \cdot 10^{23} = 2,4 \cdot 10^{22}$  штук;*

*б) количество атомов  $2 \cdot n = 2 \cdot 2,4 \cdot 10^{22} = 4,8 \cdot 10^{22}$  штук;*

*в) количество протонов в одном атоме иода – это его порядковый номер 53. Умножаем на количество атомов и получаем  $53 \cdot 4,8 \cdot 10^{22} = 2,54 \cdot 10^{24}$  штук;*

*г) количество нейтронов, приходящееся на один атом иода – это атомная масса без учета протонов:  $127 - 53 = 74$ . Умножаем на количество атомов и получаем  $74 \cdot 4,8 \cdot 10^{22} = 3,55 \cdot 10^{24}$  штук.*

**3. Верные расчеты а-г по 2 б. (2\*4 = 8 баллов).**

В быту мы можем встретить этот элемент в коричневой водно-спиртовой настойке, которой обрабатывают небольшие порезы и раны. Для приготовления правильной водно-спиртовой настойки к Вашему кусочку следует добавить 2 г иодида калия, 100 мл 96 % этилового спирта (плотность такого спирта 0,8 г/мл), 100 мл воды (ее плотность 1,0 г/мл) и тщательно все перемешать до полного растворения.

4. Для полученной Вами настойки рассчитайте: а) массовую долю простого вещества иода; б) массовую долю этилового спирта; в) общую массовую долю элемента иода.

4. Общая масса настойки составит  $10,16 + 2 + 100 * 0,8 + 100 * 1 = 192,16$  г. Ответы на вопросы:

а) массовая доля вещества иода  $10,16 / 192,16 = 0,053$  или 5,3 %;

б) массовая доля этилового спирта  $0,96 * 100 * 0,8 / 193,16 = 0,4$  или 40 %;

в) массовая доля элемента иода в соединении калия с иодом KI составляет  $127 / (127 + 39) = 0,765$ , т.е. в 2 г KI его содержится  $0,765 * 2 = 1,53$  г. Всего элемента иода в настойке  $1,53 + 10,16 = 11,69$  г, общая массовая доля иода в настойке  $11,69 / 192,16 = 0,0608$  или 6,08 %.

4. Верные расчеты а-в по 3 б. (3\*3 = 9 баллов).

Известно, что в одном кубометре некоторых морских вод содержится до 0,06 г иода в виде иодида натрия. Человек добывает иод из такой воды, обрабатывая ее газообразным хлором.

5. Напишите уравнение этой реакции. Посчитайте, сколько кубометров такой морской воды надо переработать, чтобы извлечь из неё Ваш кусочек иода. А сколько литров такой воды перерабатывается для получения одного пакета (1 кг) иодированной соли с максимальным содержанием иода ( $6 * 10^{-3}$  масс. % иодида калия)?

5. Уравнение реакции:  $2\text{NaI}_{(p-p)} + \text{Cl}_{2(\text{газ})} = 2\text{NaCl}_{(p-p)} + \text{I}_{2\downarrow}$ .

В 1 м<sup>3</sup> воды 0,06 г иода, следовательно, 10,16 г иода содержится в  $10,16 / 0,06 = 169,3$  м<sup>3</sup> воды.

В 1 кг такой иодированной соли содержится  $6 * 10^{-3} * 10^{-2} * 1000 = 0,06$  г KI, из которых на иод приходится  $0,06 * 127 / 166 = 0,046$  г. Морской воды потребуется  $0,046 / 0,06 = 0,767$  м<sup>3</sup> или 767 л.

5. Уравнение реакции 1 б., расчёт объёмов морской воды по 3 б. (Если 2-й ответ правильный в м<sup>3</sup>, но переход от м<sup>3</sup> к л неверный или отсутствует, то 2 б.). (1+2\*3 = 7 баллов).

Всего ..... 30 баллов.

Итого ..... 100 баллов.