

ВСЕРОССИЙСКАЯ ОЛИМПИАДА ШКОЛЬНИКОВ ПО ГЕОГРАФИИ МУНИЦИПАЛЬНЫЙ ЭТАП

2013/2014 учебного года

Рекомендуемое время для проведения каждого раунда Олимпиады: тестовый раунд – 45 минут; аналитический раунд – 90 минут; практический раунд – 30 минут. Общее время для выполнения заданий муниципального этапа Олимпиады (с учетом времени на инструктаж, перерыв между раундами, раздачу тестов и заданий) составит не более 3 часов. Сумма баллов за все правильные ответы на тесты – 30 баллов. Сумма баллов за все правильные ответы аналитического раунда – 50 баллов. Сумма баллов за все правильные ответы практического раунда – 20 баллов. Общая сумма баллов за три раунда (тестовый, аналитический, практический) – 100 баллов.

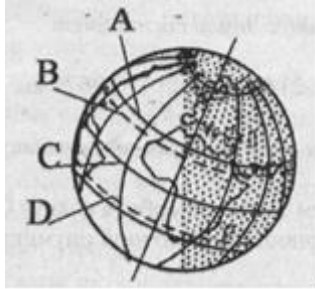
Использование любых справочных материалов и карт не допускается. Для ответов на вопросы по карте можно пользоваться линейкой и простым калькулятором. Ответы на вопросы тестового, аналитического и практического раунда запишите на специальных листах для ответа и сдайте дежурному по аудитории.

СВЕДЕНИЕ ОБ УЧАСТНИКЕ ОЛИМПИАДЫ

ФАМИЛИЯ	
ИМЯ	
ОТЧЕСТВО	
КЛАСС	9 класс
ШКОЛА	
КРАЙ, РАЙОН, ГОРОД / ПОСЕЛОК	Алтайский край,

ТЕСТОВЫЙ РАУНД	
АНАЛИТИЧЕСКИЙ РАУНД	
ПРАКТИЧЕСКИЙ РАУНД	
ОБЩЕЕ КОЛИЧЕСТВО БАЛЛОВ	
Ф.И.О. ЧЛЕНОВ ЖЮРИ:	

9 КЛАСС
ТЕСТОВЫЙ РАУНД

ТЕСТЫ	ОТВЕТЫ
<p>1. На карте расстояние между двумя пунктами составляет 5,2 см. Чему равно расстояние в действительности, если численный масштаб карты 1: 100 000?</p> <p>А. 5,2 км; Б. 52 км; В. 520 км; Г. 520 м.</p>	
<p>2. На какой параллели (А, В, С, D) продолжительность светового дня равна продолжительности ночи в день, когда Земля находится по отношению к Солнцу в положении, показанном на рисунке?</p> <div style="text-align: center;"></div> <p>А. на параллели А; Б. на параллели В; В. на параллели С; Г. на параллели D.</p>	
<p>3. Материк Антарктида был открыт русскими моряками под командованием:</p> <p>А. Дмитрия и Харитона Лаптевых; Б. Витуса Беринга и Семена Челюскина; В. Ивана Крузенштерна и Юрия Лисянского; Г. Фаддея Беллинсгаузена и Михаила Лазарева.</p>	
<p>4. Периодически пересыхающие реки Аравийского полуострова называют:</p> <p>А. Вади; Б. Крик; В. Бора; Г. Тальвег.</p>	
<p>5. Географическим центром России является:</p> <p>А. Поселок Цаца; Б. Река Папа; В. Озеро Виви; Г. Река Мама.</p>	
<p>6. Одним из крупнейших природных объектов, через который проходит государственная граница России, является:</p> <p>А. оз. Ханка; Б. Водораздельный хребет Большого Кавказа; В. Катунский хр.; Г. Керченский пролив.</p>	

<p>7. Самые древние горные породы на территории России выходят на поверхность: А. На Среднерусской возвышенности; Б. В Карелии; В. На Алтае; Г. На плато Путорана.</p>	
<p>8. Облака нижнего яруса со слабым вертикальным развитием, которые часто можно наблюдать в пасмурную погоду, относятся к типу: А. Серебристых; Б. Слоистых; В. Перистых; Г. Кучево-дождевых.</p>	
<p>9. Единственное озеро в России, где идет осаждение глауберовой соли (мирабилита): А. Баскунчак; Б. Эльтон; В. Кучук; Г. Чаны.</p>	
<p>10. По берегам какой реки местность носит название Пошехонье: А. Волга; Б. Шексна; В. Днепр; Г. Дон.</p>	
<p>11. Дрейфующие многолетние морские льды в Северном Ледовитом океане называются: А. Береговой припай; Б. Паковые льды; В. Айсберги; Г. Торосы.</p>	
<p>12. Правильная последовательность эпох складчатости в истории Земли указана в пункте: А. Байкальская, герцинская, каледонская, мезозойская, кайнозойская; Б. Герцинская, мезозойская, каледонская, кайнозойская, байкальская; В. Байкальская, каледонская, герцинская, мезозойская, кайнозойская; Г. Каледонская, герцинская, байкальская, мезозойская, кайнозойская.</p>	
<p>13. Влажный климат под влиянием пассатных ветров формируется на территории: А. п-ва Калифорния; Б. Мексиканского нагорья; В. п-ва Юкатан; Г. Великих равнин.</p>	
<p>14. Большая часть суховеев Нижнего Поволжья образуется при адвекции (переносе): А. Холодного сухого арктического воздуха при господстве антициклона; Б. Холодного сухого арктического воздуха при господстве циклона; В. Горячего сухого тропического воздуха при господстве антициклона; Г. Горячего сухого тропического воздуха при господстве циклона.</p>	
<p>15. Определите географический объект по описанию: <i>«Возвышенность на северо-западе Восточно-Европейской равнины, водораздел верховьев Волги, Западной Двины и рек бассейна оз. Ильмень»:</i></p>	

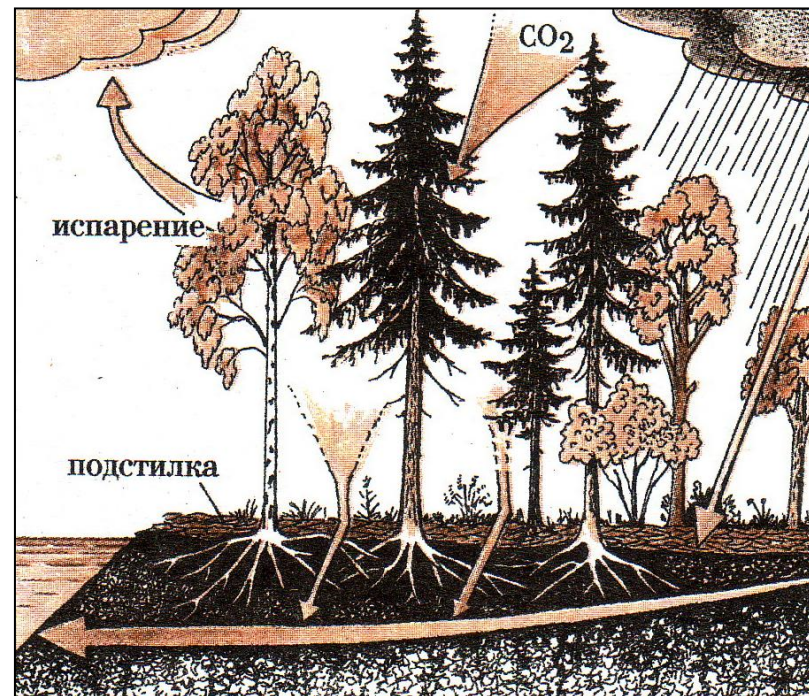
<p>А. Тиманский кряж; Б. Валдайская возвышенность; В. Среднерусская возвышенность; Д. Донецкий кряж.</p>	
<p>16. Кактусово-акациевые саванны – характерная черта природы: А. Плато Ахаггар; Б. Нубийской пустыни; В. Большого Артезианского бассейна; Г. Мексиканского нагорья.</p>	
<p>17. Из предложенного списка выберите реку, на которой располагается город-миллионер: А. Енисей; Б. Кубань; В. Исеть; Г. Урал.</p>	
<p>18. Какой из этих городов не входит в Золотое кольцо России? А. Переславль-Залесский; Б. Суздаль; В. Смоленск; Г. Иваново.</p>	
<p>19. Традиционное жилище, какого из перечисленных народов представляет собой юрту, крытую войлоком, валеным из овечьей или верблюжьей шерсти? А. Калмыки; Б. Коми; В. Карелы; Г. Чукчи.</p>	
<p>20. Какой из перечисленных регионов России находится в пределах главной полосы расселения? А. Ямало-Ненецкий АО; Б. Омская область; В. Магаданская область; Г. Чукотский АО.</p>	
<p>21. К традиционным занятиям, какого из перечисленных народов России относятся оленеводство и рыболовство? А. Башкиры; Б. Ненцы; В. Чуваши; Г. Кабардинцы.</p>	
<p>22. Какой из перечисленных городов имеет наибольшую численность населения? А. Калининград; Б. Нижний Новгород; В. Краснодар; Г. Хабаровск.</p>	
<p>23. Какой из перечисленных городов России является центром черной металлургии? А. Псков; Б. Магнитогорск; В. Тюмень; Г. Петрозаводск.</p>	

<p>24. Выберите субъект Российской Федерации, где развито автомобилестроение: А. Свердловская область; Б. Краснодарский край; В. Ленинградская область; Г. Новосибирская область.</p>	
<p>25. Какой вид транспорта России отличается наименьшим грузооборотом (в тонно-километрах)? А. Автомобильный; Б. Внутренний водный (морской и речной); В. Железнодорожный; Г. Трубопроводный.</p>	
<p>26. В каком из перечисленных регионов России лесная и деревообрабатывающая промышленность является одной из ведущих отраслей хозяйства? А. Республика Карелия; Б. Оренбургская область; В. Воронежская область; Г. Республика Дагестан.</p>	
<p>27. Определите, к традиционным занятиям, какого из перечисленных народов России относится овцеводство? А. Алеуты; Б. Калмыки; В. Ханты; Г. Коряки.</p>	
<p>28. Какого набора показателей достаточно, чтобы рассчитать коэффициент миграционного прироста (убыли) населения государства за определённый год? А. Абсолютный прирост численности населения за год, коэффициент естественного прироста, среднегодовая численность населения; Б. Среднегодовая численность населения, численность населения на конец года, число родившихся; В. Численность населения на начало года, численность населения на конец года, общий коэффициент рождаемости; Г. Число родившихся за год, число умерших за год, численность населения на конец года.</p>	
<p>29. Что определяет структуру занятости экономически активного населения в регионах? А. Спрос рабочей силы; Б. Уровень и направление экономической специализации; В. Текучесть кадров; Г. Профессиональная квалификация.</p>	
<p>30. Какое соответствие «негативное изменение в окружающей среде – его причина» является верным? А. Засоление почв – избыточное орошение в засушливых районах; Б. Обмеление рек – строительство ГЭС на равнинах; В. Парниковый эффект – вырубка лесов в тропическом поясе; Г. Кислотные дожди – добыча твердых полезных ископаемых.</p>	

АНАЛИТИЧЕСКИЙ РАУНД

Задача 1. Рассмотрите рисунок и запишите развернутый ответ на вопросы:

1. Какова роль леса в жизни биосферы?
2. Почему сокращение площади лесов способствует повышению содержания CO_2 в биосфере?
3. В чем проявляется благотворное влияние лесов на климат?



Ответ

Балл

Задача 2. Известно, что размещение природных компонентов на суше определяется законом географической зональности. Действует ли этот закон в Мировом океане? В чем это проявляется?

Ответ	Балл

Задача 3. Разделите города – Нижний Новгород, Уфа, Набережные Челны, Новокуйбышевск, Старый Оскол, Тула на пары по времени основания, численности населения; отрасли специализации:

по времени основания (век)	балл	по численности населения (показатель)	балл	по отрасли специализации (назвать отрасль)	балл

Задача 4. Рассмотрев взаимосвязь компонентов в природном территориальном комплексе (ПТК) и характер воздействия на условия жизни и хозяйственную деятельность людей, объясните, почему именно на Волге построено так много водохранилищ. В ответе факторы (или причины) укажите по мере значимости, поставив на первое место главный, на Ваш взгляд.

Ответ	Балл

Задача 5. На всероссийской конференции по неблагоприятным природным явлениям присутствовали представители Мурманска, Нальчика, Оренбурга, Улан-Удэ, Южно-Курильска. Каждый из них сделал по 1 из следующих докладов: «Наводнения сгонно-нагонного характера», «Цунами», «Землетрясения», «Пыльные бури», «Туманы как неблагоприятный фактор для навигации», «Снежные лавины».

Определите, какой именно доклад был сделан каждым из участников конференции и почему была выбрана эта тема?

Ответ:

Доклады	Города // Причины, выбранной темы	Балл
«Цунами»		
«Землетрясения»		





«Снежные лавины»		
«Пыльные бури»		
«Туманы как неблагоприятный фактор для навигации»		







ПРАКТИЧЕСКИЙ РАУНД
9-11 класс

Задание 1. Экономика Алтайского края.

Определите, чьи логотипы изображены, какую продукцию производит эта компания и к какой отрасли экономики она относится?

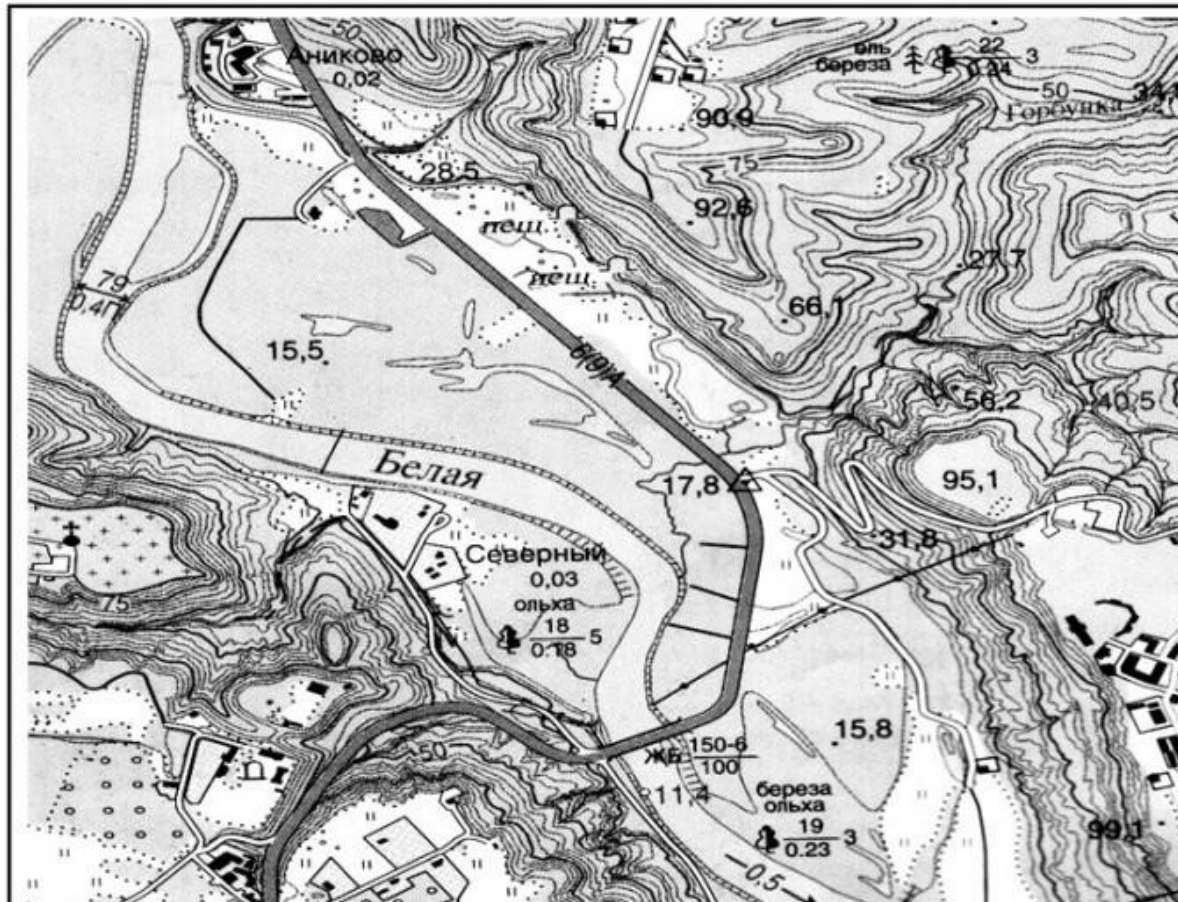
Ответ:

<i>Изображение логотипа</i>	<i>Какую продукцию производит</i>	<i>Отрасль экономики (например: пищевая промышленность, кондитерская)</i>	Балл
			
			
			
			

 <p>фармацевтическая компания АЛТАЙВИТАМИНЫ</p>			
 <p>АЛТАЙ-КОКС</p>			
			
			
 <p>БИОЛИТ</p>			
			

Задание 2. Внимательно изучите карту и ответьте на вопросы:

Масштаб 1:25000



№	Вопрос	Ответ	Балл
1	<i>Определите высшую абсолютную точку в пределах карты.</i>		
2	<i>Определите высоту пункта государственной геодезической сети.</i>		
3	<i>Дайте характеристику леса расположенного в северо-восточном районе карты.</i>		
4	<i>Дайте характеристику леса на левом берегу реки.</i>		
5	<i>Дайте характеристику леса на правом берегу реки.</i>		

6	<i>В каком направлении и с какой скоростью протекает река Белая.</i>		
7	<i>Каков урез воды у реки Белая.</i>		
8	<i>Дайте характеристику моста через реку Белая</i>		
9	<i>Какие сельскохозяйственные культуры выращивают на юго-западе от памятника</i>		
10	<i>Дайте характеристику шоссе</i>		