

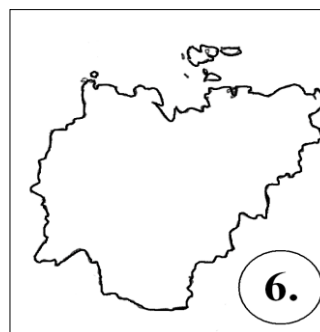
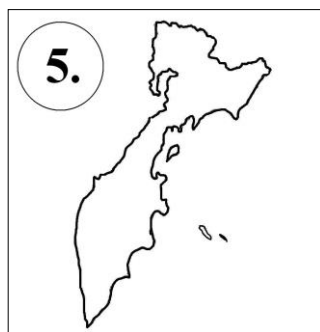
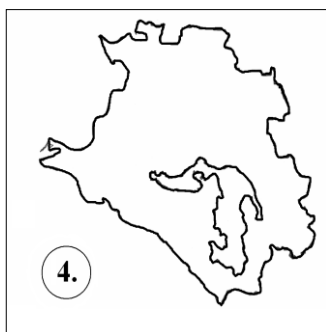
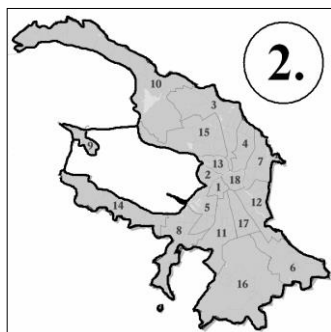
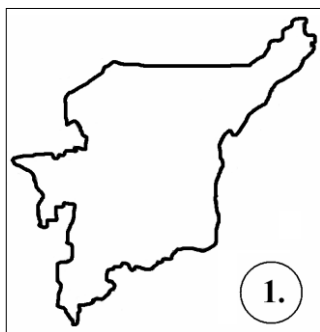


ЛИСТ ЗАДАНИЙ

Задание 1.

В таблице в листе ответов представлены некоторые данные о пяти субъектах РФ. Известно, что административные центры субъектов А и Г располагаются примерно на одной широте ($\pm 1^\circ$), однако в разных частях света. В регионе Б находятся самые северные субтропики в мире, занимающие полосу длиной более 150 км. Субъект В является лидером страны в геотермальной электроэнергетике, а в административном центре региона Д расположен самый длинный в мире метромост, протяженность которого 2145 м.

Сопоставьте очертания субъектов федерации на схемах с их характеристиками, представленными в таблице. Назовите субъекты и заполните таблицу в листе ответов.



Задание 2.

На протяжении XX и начала XXI вв. Крымский полуостров находился под юрисдикцией различных административно-территориальных единиц первого порядка (АТЕ), относящихся к разным суверенным государствам. На примере семьи Петровых из Симферополя – старожилов полуострова в пятом поколении – восстановите, ответив на вопросы №№ 1-12, в пределах каких АТЕ и государств был полуостров в XX – XXI вв.

Не забудьте перенести свои ответы в лист ответов.

В последнее воскресенье июля 2015 г. большая семья Петровых, все члены которой родились и проживают в Симферополе ??? (№ 1 – административным центром какого субъекта РФ является этот город?), по традиции поехала в город-герой ??? (№ 2 – назвать город), который по Конституции Российской Федерации (ст. 65) имеет статус ??? (№ 3 – назвать статус этого субъекта в составе РФ). Возвращаясь домой, самый младший из Петровых – Николай (2001 г.р.) – сказал, что в его свидетельстве о рождении, которое он относил в Отдел УФМС России для оформления паспорта гражданина РФ, в графе место рождения указано «г. Симферополь, ??? (№ 4 – назовите АТЕ), ???» (№ 5 – назовите страну), и спросил у отца (1973 г.р.), деда (1953 г.р.) и у прабабушки (1933 г.р.), а как же записано место рождения в их паспортах? Все они ответили, что они родом из СССР и из Симферополя, но далее их ответы отличались. Отец сказал, что АТЕ называлась ??? (№ 6 – дайте название АТЕ) в составе ??? (№ 7 – назовите союзную республику СССР), дед ответил, что ??? (№ 8 – дайте название АТЕ) в составе ??? (№ 9 – назовите союзную республику СССР), прабабушка название АТЕ указала ??? (№ 10 – дайте название АТЕ), но республику запомнила, но при этом вспомнила, что её отец поселился в Симферополе в 1910 году, когда он был центром ??? губернии (№ 11 – дайте название АТЕ) в составе ??? (№ 12 – дайте название страны).

Задание 3.

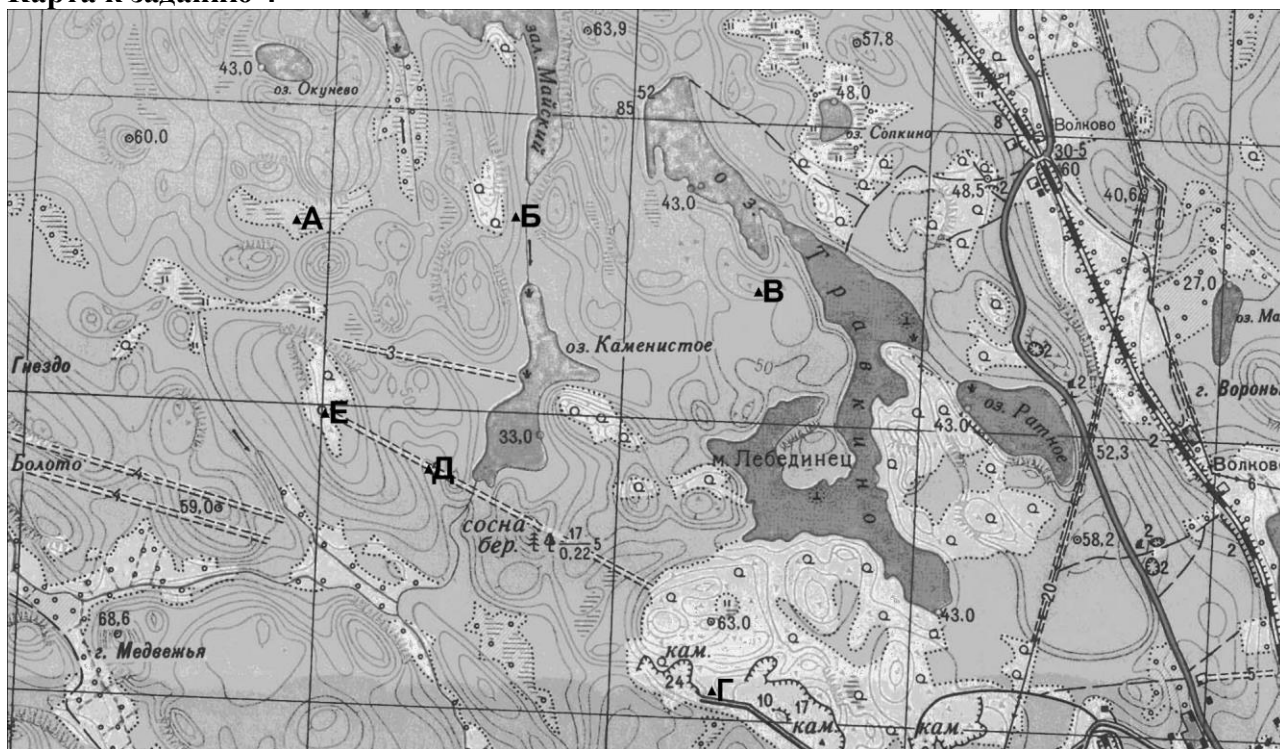
Российская Федерация является мировым лидером не только по площади, но и по числу территориальных единиц первого порядка (субъектов). Всё это объективно обуславливает существенную дифференциацию субъектов РФ не только по географическим, но и по социально-экономическим условиям. Однако среди такого разнообразия выделяются регионы, которые абсолютно лидируют по тем или иным экономическим, социальным или географическим показателям. И, зачастую, это становится своеобразной «визитной карточкой» данного региона, знание которой позволяет более успешно решать задание № 33 в ЕГЭ по географии. Заполните таблицу в листе ответов, где надо будет определить субъект-лидер РФ по предложенному показателю.

Задание 4.

Перед вами фрагмент топографической карты территории, составленной в масштабе 1: 25 000 (сплошные горизонтали проведены через 5 м; темный фон соответствует лесу). На карте нанесены точки (они отмечены буквами). Используя свое знание карты, ответьте на вопросы:

- 1) Смогут ли одновременно проехать по мосту возле деревни Волково три самосвала марки КамАЗ, если известно, что полная масса каждого из них – 14,3 т? Ответ поясните.
- 2) На каком берегу ручья находится точка Б?
- 3) Определите кратчайшее расстояние от точки Б до озера Травкино.
- 4) Можно ли, стоя в точке Б, увидеть озеро Травкино?
- 5) Определите азимут от точки Б на точку В.
- 6) Определите относительную высоту точки В над уровнем озера Травкино (с точностью до половины сечения рельефа).
- 7) Объясните, с какой целью была построена автомобильная дорога вблизи точки Г.
- 8) В каком направлении будет идти спуск, если между точками Д и Е проложить лыжную трассу? Какой перепад высот между этими двумя точками (с точностью до половины сечения рельефа)?
- 9) Какие причины могли привести к появлению белого контура вокруг точки Е?
- 10) Если идти от точки Е на север, то какой ближайший географический объект будет затруднять передвижение?

Карта к заданию 4



Задание 5.

Решите тест.

1. В каком субъекте РФ производится больше всего стали?
А) Вологодская область; Б) Липецкая область;
В) Челябинская область; Г) Оренбургская область.
2. Северный морской путь не проходит через:
А) Берингов пролив; Б) Пролив Санникова;
В) Пролив Вилькицкого; Г) Татарский пролив
3. Какая река относится к бассейну другого океана по отношению к четырем остальным?
А) Нева; Б) Западная Двина; В) Днепр; Г) Онега; Д) Дон.
4. В каком экономическом районе России производится больше всего электроэнергии?
А) Центральная Россия; Б) Урал; В) Восточная Сибирь; Г) Западная Сибирь
5. Назовите природную зону России, в которой находятся города Сыктывкар, Ханты-Мансийск и Якутск.
А) Тундра; Б) Тайга; В) Смешанные и широколиственные леса; Г) Лесотундра.
6. В каком субъекте РФ был зафиксирован абсолютный максимум температуры воздуха?
А) Астраханская область; Б) Волгоградская область;
В) Дагестан; Г) Калмыкия
7. Какой биосферный заповедник расположен на Урале?
А) Керженский; Б) Ильменский; В) Дарвинский; Г) «Черные земли»
8. В какую область следует отправиться за гжелью?
А) Рязанскую; Б) Белгородскую; В) Московскую; Г) Тверскую.
9. Укажите, в каком из перечисленных наборов городов все города располагаются на реке Обь:
А) Пермь, Томск, Красноярск, Салехард;
Б) Нижневартовск, Сургут, Ханты-Мансийск, Салехард;
В) Сангар, Казань, Сургут, Томск;
Г) Сыктывкар, Салехард, Нарьян-Мар, Мезень.
10. Как называется народ, входящий в перечень коренных малочисленных народов Севера, Сибири и Дальнего Востока РФ, проживающий на Командорских островах?
11. Если зимой в Санкт-Петербурге полдень, то сколько времени в Лондоне?
12. На какой вид транспорта приходится почти 50% грузооборота в России?

Внимательно проверьте свою работу!
<http://anichkov.ru>