

**Муниципальный этап
всероссийской олимпиады школьников по географии
2017/ 2018 учебный год**

Задания для 10-11 классов

Задача 1

В таблице приведены данные о доле основных секторов экономики в валовом внутреннем продукте (ВВП) России, США и Китая (КНР), Катара.

Определите, каким странам соответствуют строки, обозначенные в таблице буквами А-Д. Ответ поясните.

Таблица. Отраслевой состав ВВП некоторых стран (в %), 2015г.

Страна	Сельское хозяйство	Промышленность	Сфера услуг
А	65	10	25
Б	0	77	23
В	4	36	60
Г	1	19	80
Д	10	46	44

Задача 2



1. Какие страны находятся в бассейне реки Нил?

2. Почему Нил называют транзитной рекой?

3. Каковы особенности режима реки?

4. Какие природные зоны пересекает река?

5. С какой целью и с помощью какой страны возведён Высотный Асуанский гидроузел?

6. Укажите специализацию самой северной страны, расположенной в бассейне реки Нил.

Задача 3

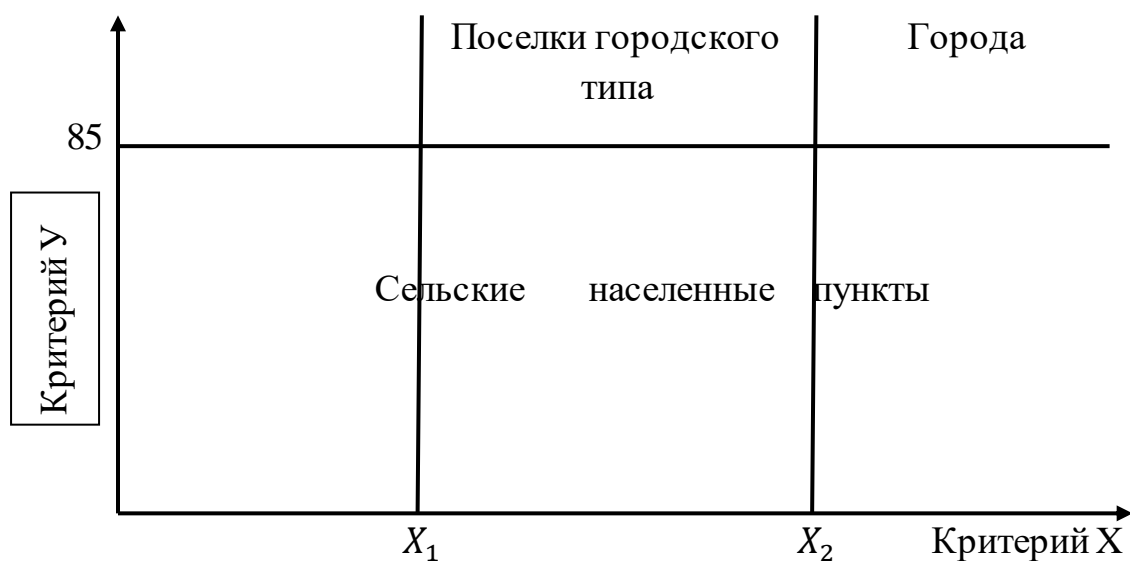
В настоящее время индустрия туризма является одним из крупнейших секторов мировой экономики. Развитие туризма связано с воздействием на различные сферы.



1. Перечислите страны мира (до 8) со значительным развитием международного туризма (по наибольшему числу туристов).
2. Приведите по 1-2 примера центров, территорий по главным типам рекреационных ресурсов:
 - 1) Рекреационно – лечебных;
 - 2) Рекреационно – оздоровительных;
 - 3) Рекреационно – спортивных;
 - 4) Рекреационно – познавательных.
3. Туризм оказывает как негативное, так и позитивное воздействие. Приведите не менее четырёх примеров негативного и четырёх примеров позитивного воздействия туризма

Задача 4

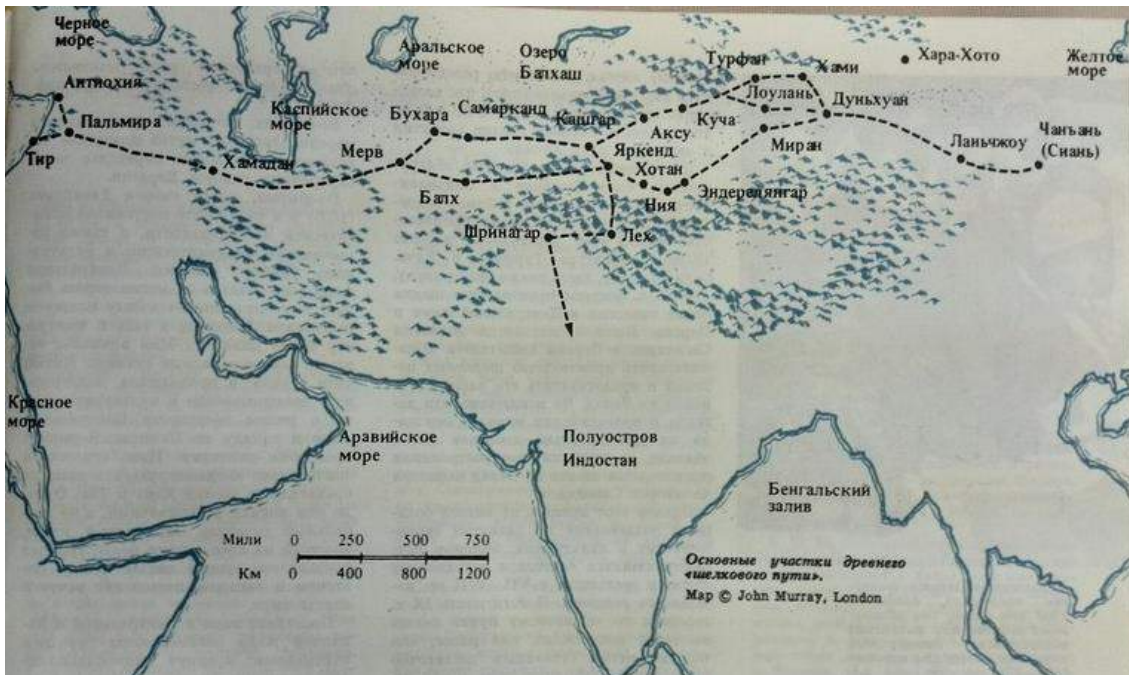
В общероссийском классификаторе административно-территориального образования выделяется три категории населенных пунктов по статусу: города, поселки городского типа, сельские населенные пункты. Но четких критериев для разделения населенных пунктов по этим критериям нет. Большинство населенных пунктов определяется критериями, обозначенными на рисунке буквами X и Y.



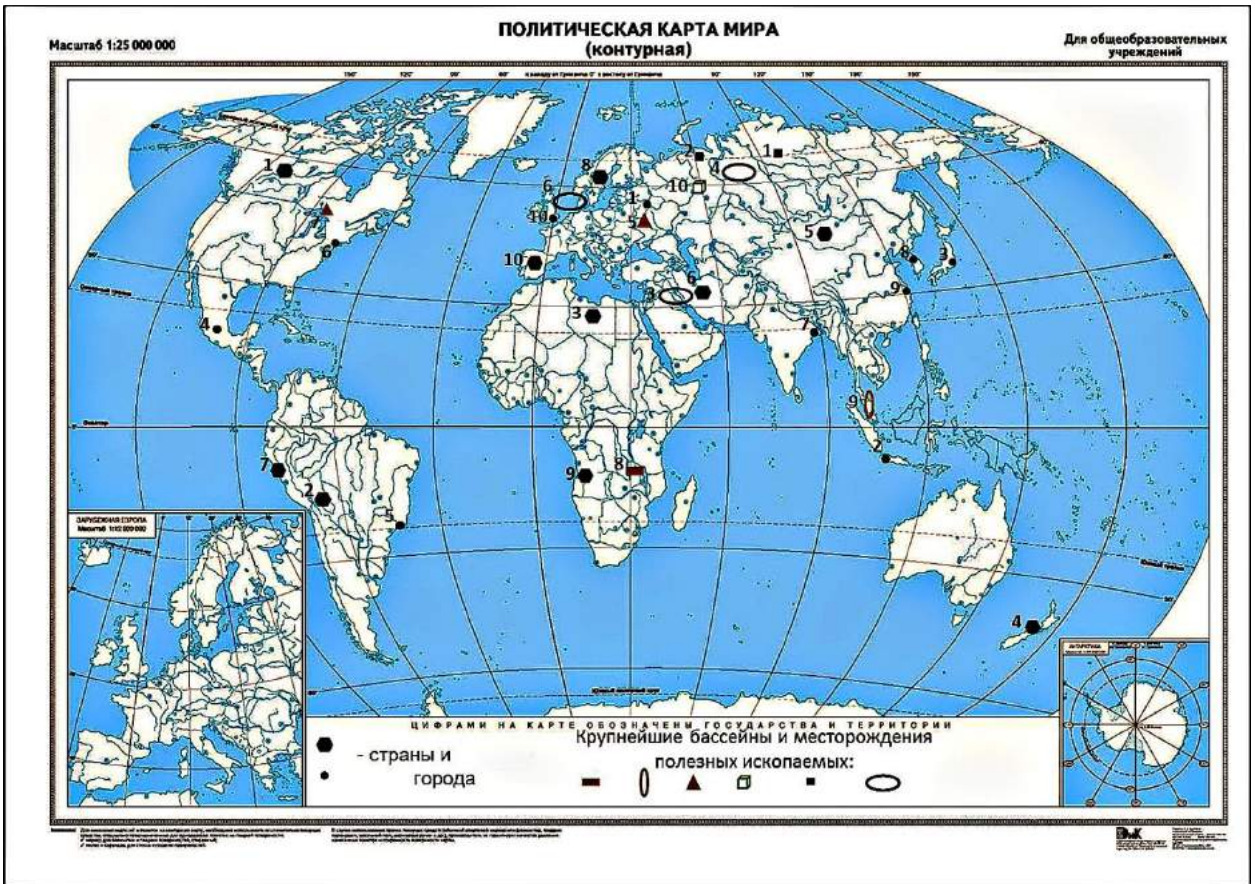
1. Как называются эти критерии (X и Y) и единицы измерения?
2. Определите значения пороговых величин X_1 и X_2 критерия X.
3. Какие города по критерию X преобладают в Республике Коми?
4. Перечислите города Республики Коми с указаниями их функции, сгруппировав их.
5. В каких районах Республики Коми отсутствует городское население (нет городов и поселков городского типа)?

Задача 5

На протяжении многих веков караваны, груженные дорогими товарами, выходили через западные ворота города Чанъань (Сиань)- столицы времён китайской династии Тан - и устремлялись в Европу. Торговля между Китаем и другими странами осуществлялась по Великому шелковому пути.



1. Почему данный путь величают Великим шелковым путём?
2. Через какие современные страны Азии пролегал данный путь?
3. Какие товары везли из Китая, а какие в Китай?
4. Какие трудности природного характера приходилось преодолевать купцам, торговцам продвигаясь по Великому шелковому пути?
5. Что является сырьем для получения шелка. Из каких основных стадий состоит процесс производства ткани? К какому комплексу, промышленности и отрасли относят производство натурального шелка?
6. Укажите важнейшие районы и центры производства натурального шелка современного Китая.



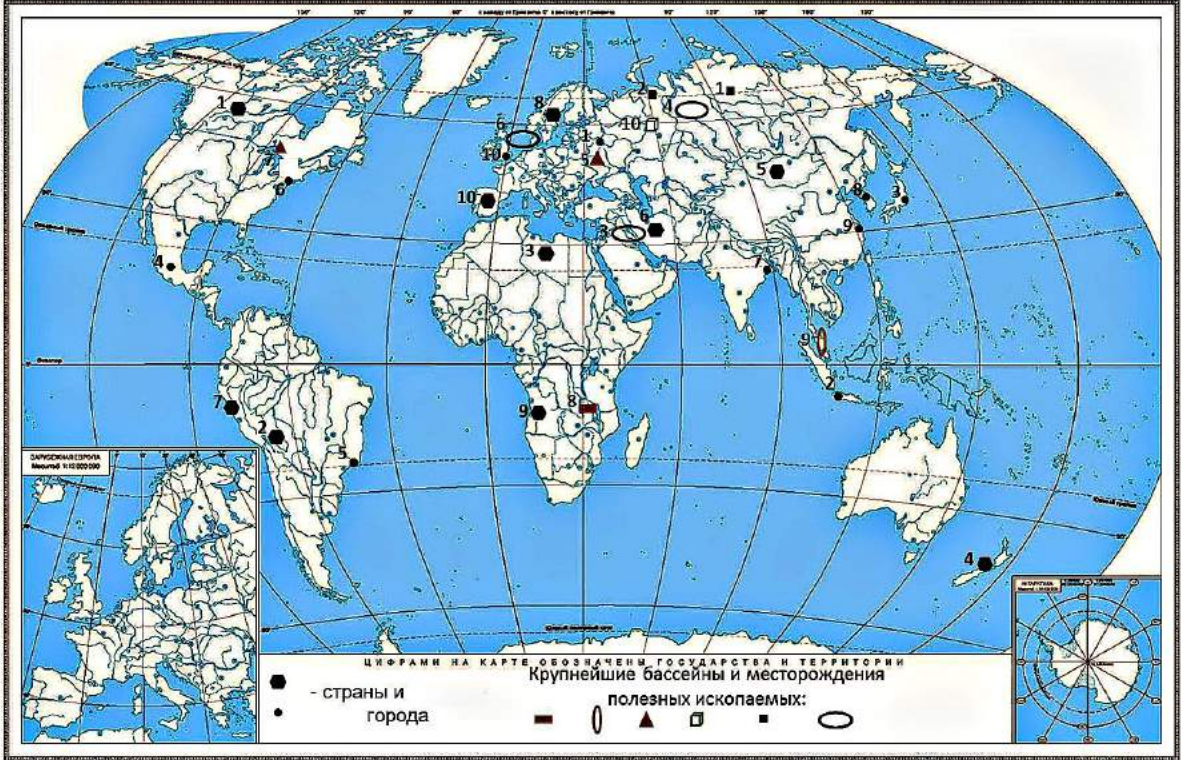
Расшифруйте объекты

№	Страны	Крупные города	Крупнейшие бассейны и месторождения полезных ископаемых:
1			
2			
3			
4			
5			
6			
7			
8			
9			
10			

Масштаб 1:25 000 000

ПОЛИТИЧЕСКАЯ КАРТА МИРА (контурная)

Для общеобразовательных учреждений



Издательство «Дрофа»

