

**Олимпиада школьников по географии  
Задания муниципального этапа для 11 класса  
в 2017/2018 учебном году**

Уважаемый участник олимпиады! Вашему вниманию предлагаются задания тестового и теоретического туров, на выполнение которых отводится 180 минут (на тестовый тур – 60 минут и теоретический – 120 минут).

Тестовый тур включает 20 вопросов, каждый из которых содержит один или несколько элементов ответов и оценивается определенным количеством баллов (от 0,5 до 2,5 баллов). Общая оценка ответов на вопросы тестового тура представляет собой сумму баллов за отдельный вопрос и максимально составляет 30 баллов.

Теоретический тур включает задания различной степени сложности. Каждый элемент заданий оценивается определенным количеством баллов (от 2,0 до 4,0 баллов). Общее количество заданий составляет 5, максимальное количество баллов за правильные ответы – 70 баллов.

При ответах на вопросы тестового тура и заданий теоретического тура запрещается пользоваться географическими картами, атласами, словарями и справочными материалами. При себе нужно иметь транспортир, линейку и карандаш.

**Тестовый тур**

1. Научные географические экспедиции стали проводиться, когда были изобретены новые приборы и инструменты. Это произошло

- а) в эпоху Великих географических открытий
- б) во второй половине XVIII века
- в) в Средние века
- г) в XX веке

2. Северный морской путь короче других морских путей из Европы на Дальний Восток

- а) чуть больше чем в 3 раза
- б) более чем в 5 раз
- в) почти в 2 раза
- г) примерно в 4 раза

3. Какая из горных пород относится к эффузивным?

- а) мрамор
- б) известняк
- в) гнейс
- г) обсидиан

4. Какой минерал составляет основу любой стекольной шихты

- а) сера
- б) тальк
- в) апатит
- г) слюда

5. Установите соответствие между экзогенными процессами, обозначенными буквами и формами рельефа (представленными цифрами), возникающими под их воздействием

а) Альтипланация	1. Речные террасы
б) Эрозия	2. Волноприбойные ниши
в) Абразия	3. Троговые долины
г) Экзарация	4. Нагорные террасы

6. На территории, каких из перечисленных стран разрушительные землетрясения наиболее вероятны?

- а) Канада

- б) Польша
- в) Италия
- г) Япония

7. Климат на полуострове Калифорния

- а) субтропический средиземноморский
- б) тропический муссонный
- в) тропический береговых пустынь
- г) тропический высокогорный

8. Макаки, гиббоны, орангутанги встречаются

- а) на островах Вест-Индии
- б) на юге Аравийского полуострова
- в) на Японских островах
- г) на Малайском архипелаге

9. Укажите самое большое по площади государство мира, не имеющее выхода к Мировому океану

- а) Монголия
- б) Боливия
- в) Казахстан
- г) Афганистан

10. Центром мирового хозяйства до середины 19 века была

- а) Европа
- б) Америка
- в) Австралия
- г) Япония

11. Выберите характеристику, относящуюся к развитым странам

- а) высокие темпы роста населения
- б) экспорт сырья, импорт продукции обрабатывающей промышленности и продовольствия
- в) преобладание в структуре ВВП сельского хозяйства
- г) низкие коэффициенты рождаемости и смертности

12. Выберите верное утверждение

- а) демографическая политика проводится только в развивающихся странах
- б) демографическая политика в развивающихся странах направлена на снижение рождаемости
- в) демографическая политика в развивающихся странах не проводится
- г) главная цель демографической политики – воздействие на смертность

13. Какое утверждение о населении Бельгии верно?

- а) Коренное население состоит из арабов и берберов
- б) Около 90% населения проживает в городах
- в) Большинство населения исповедует буддизм
- г) Для страны характерна большая доля детей в структуре населения

14. Группа Российских туристов хочет своими глазами увидеть пролив Босфор, который является границей между Европой и Азией. Какую страну им необходимо посетить?

- а) Болгарию
- б) Турцию
- в) Грузию
- г) Сирию

15. Выберите правильное соответствие между озером и материком.

- а) оз. Ильмень - Евразия

- б) оз. Мичиган - Южная Америка
- в) оз. Титикака - Австралия
- г) оз. Чад - Северная Америка

16. Установите соответствие между экономико-географическим типом и страной, которая к нему относится

а) Экономически высокоразвитая страна	1. Афганистан
б) Развивающаяся страна	2. Израиль
в) Страна с переходной экономикой	3. Польша

17. Выберите две страны, относящиеся по классификации ООН к категории наименее развитых

- а) Сингапур
- б) Испания
- в) Гаити
- г) Мальдивы

18. Назовите материк, с представленными ниже координатами крайних точек.

- Север - 12 с. ш. 72 з. д.
- Юг - 54 ю. ш. 71 з. д.
- Запад - 5 ю. ш. , 82 з. д.
- Восток - 7 ю. ш. 34 з. д.

19. По описанию определите эту природную достопримечательность и назовите ее?

Группа известняковых скал расположена в океане у побережья в Национальном парке «Порт Кэмпбелл» в австралийском штате Виктория. Сначала это место называлось «Свинья и поросята». Однако в 1950-х годах название было изменено для того, чтобы привлечь сюда больше туристов. Высота некоторых колонн достигает приблизительно 45 метров. Непрерывный процесс эрозии приводит к тому, что эти колонны постепенно разрушаются. Так, 2 июля 2005 года около 9:00 утра по местному времени, на глазах множества туристов, не выдержав эрозии, обрушилась одна из самых высоких (около 50 м). В настоящее время их осталось 8. Из-за внешнего вида и небольшого расстояния друг от друга, эти скалы сделали данное место популярной туристической достопримечательностью Австралии.

20. По описанию определите географический объект.

На территории полуострова находится крайняя южная точка той части света, в которой расположен этот полуостров. Омывается водами второго по величине океана. Береговая линия слабо изрезана. В рельефе преобладают плоскогорья и горы. Полуостров расположен в субтропическом поясе.

### Теоретический тур

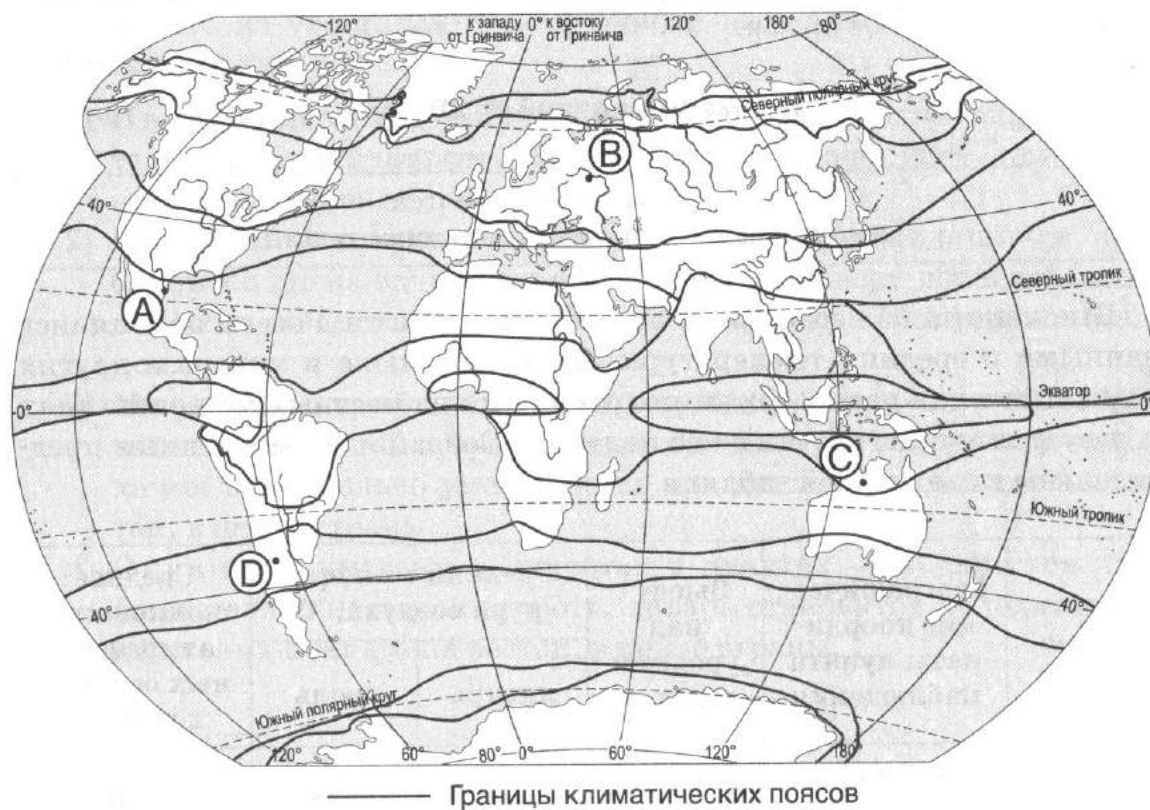
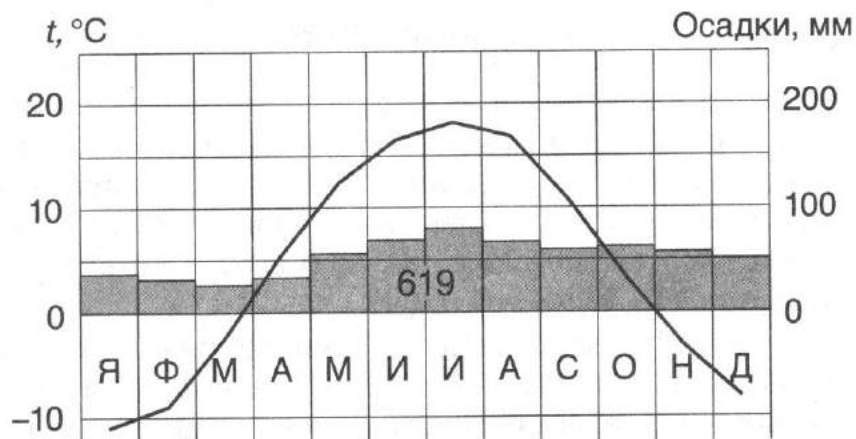
**Задание 11.1.** Прочтите заявку города на проведение Олимпийских игр 2022 года и ответьте на вопросы?

1. Название города?
2. Государство и его столица?
3. Горы, о которых говорится в тексте?
4. Область, столицей которой является искомый город?
5. Назовите русского военного исторического деятеля, в торжественной обстановке посетившего город в апреле 1799 года?

«Наш город – второй по численности населения в стране и один из глобальных городов, играющих важную роль в мировой экономике. Многие крупные корпорации готовы спонсировать олимпийские игры, в том числе, UniCredit, Versace, Alfa Romeo.

В лозунге Олимпиады мы хотим использовать латинское название города, в переводе означающего «в центре равнины», что не совсем правда, ведь высокие горы не так уж далеко от города, к северу от полуострова. Русский полководец в апреле 1779 г., в торжественной обстановке посетил этот город».

**Задание 11.2.** Проанализируйте климатограмму и определите, какой буквой на карте обозначен пункт, характеристики климата которого отражены в климатограмме. В каком климатическом поясе и климатической области расположен пункт наблюдения.



**Задание 11.3.** В данной таблице показана динамика изменений численности населения мира за последние 500 лет по регионам (млн. чел.). Вместо букв подставьте названия регионов (Австралия, Зарубежная Азия, Зарубежная Европа, Северная Америка, Латинская Америка).

Регион	1500 г.	1700 г.	1800 г.	1900 г.	2000 г.
Весь мир	440	679	940	1647	6091
А	260	435	630	925	3619
Б	Данные отсутствуют	3	2	6	31
В	60	107	90	130	800
Г	Данные отсутствуют	2	5	90	316
Д	Данные отсутствуют	10	19	75	523

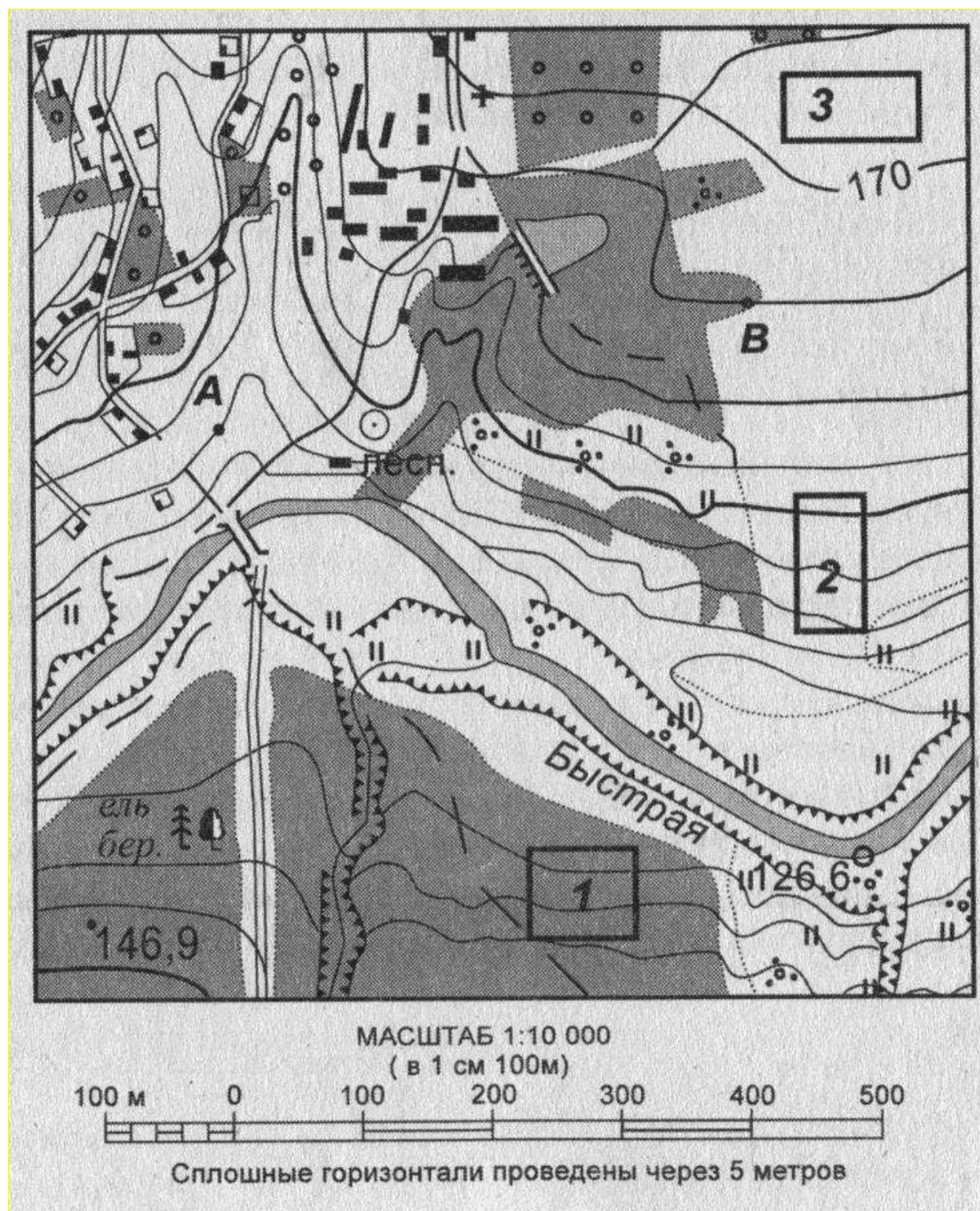


**Задание 11. 4.** Ознакомьтесь с картой, представленной на рисунке, и выполните следующие задания:

А. Определите по карте расстояние на местности по прямой от домика лесника до отметки высоты 146,9 м. Полученный результат округлите до десятков метров. Ответ запишите цифрами.

Б. Определите по карте азимут, по которому надо идти от точки А до домика лесника. Ответ запишите цифрами.

В. Оцените, в пределах, какого из участков, обозначенных на карте цифрами 1, 2 и 3, фермеру из поселка лучше всего разбить фруктовый сад. Для планирования сада необходимо учесть возможность доставки урожая, этот участок должен лучше всего прогреваться солнцем. Для обоснования своего ответа приведите не менее двух доводов.





**Задание 11.5.** На фотографиях представлены достопримечательности г. Красноярска. Назовите их и где они расположены?



1



2



3