













**Центр олимпиад Санкт-Петербурга ГБНОУ «СПБ ГДТЮ»  
 Районный этап Всероссийской олимпиады  
 школьников по географии 2017/2018  
 6 класс  
 ЛИСТ ЗАДАНИЙ**



**Задание 1.**

Во многих странах мира можно встретить специфические дорожные знаки, которые отражают особенности дорожного движения в этом государстве. Соедините такие знаки с названиями стран из списка. Заполните таблицу в листе ответов. Будьте внимательны: каждому знаку соответствует только одна страна.

**Список стран:** Австралия, Ботсвана, Великобритания, Индия, Индонезия, Канада, Китай, Норвегия, Саудовская Аравия, ЮАР.

		
А	Б	В
		
Г	Д	Е
		
Ж	З	И
		
		К

**Задание 2.**

В ребусах зашифрованы названия десяти крупных географических объектов нашей планеты. Определите и запишите в таблицу их названия, обозначьте цифрой положение каждого зашифрованного географического объекта на контурной карте полушарий в бланке для ответов.

<b>1</b>		<b>6</b>	
<b>2</b>		<b>7</b>	

3	, , Я А С	8	И Л З = И
4	А М Т	9	, И Л З = Л
5	Н ”	10	А

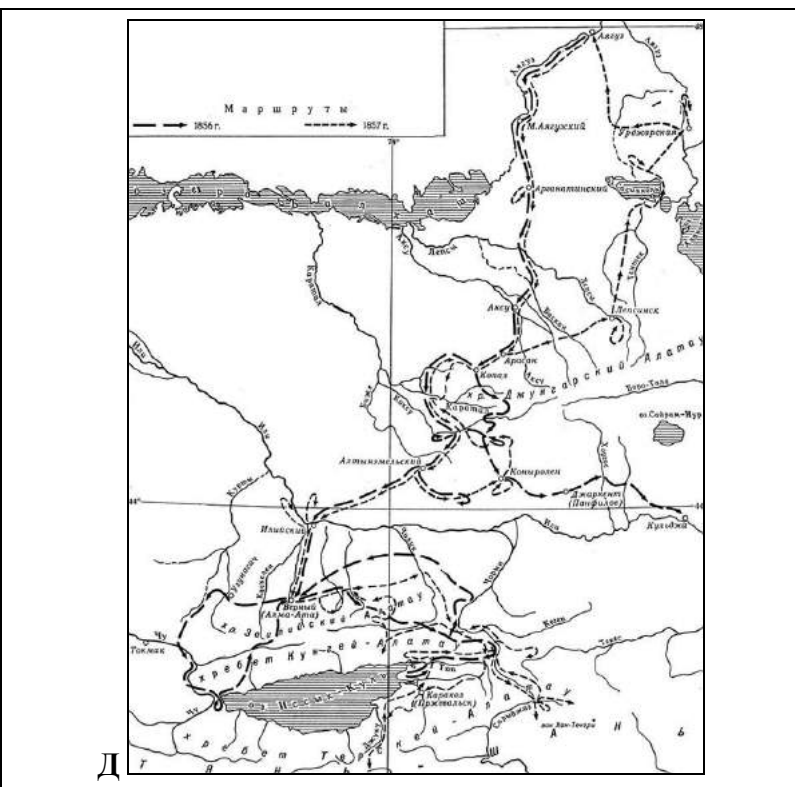
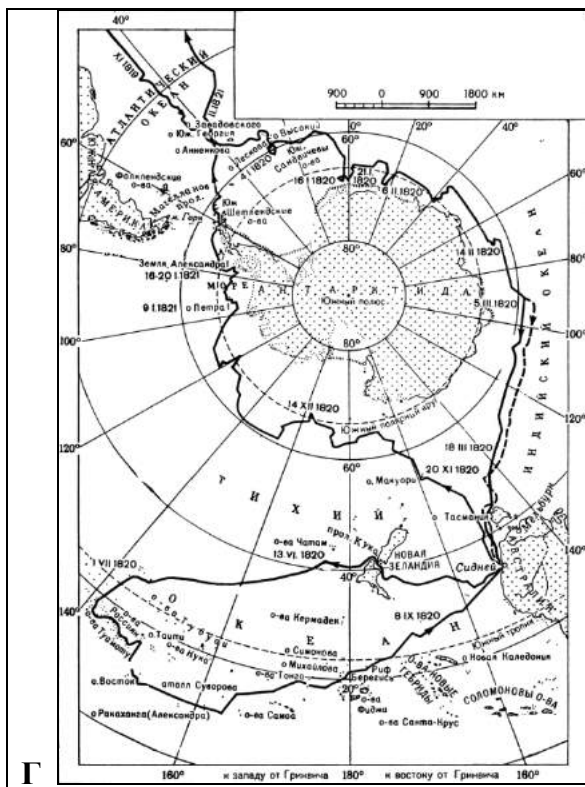
### Задание 3.

Санкт-Петербург – крупный центр географических исследований. Многие экспедиции отправлялись отсюда во все концы земного шара. Неслучайно поэтому на улицах и площадях нашего города установлены памятники географам, путешественникам и первооткрывателям. Вы должны назвать фамилии исследователей, которым установлены памятники, изображенные на фото 1-5. Помогут вам в этом карты с маршрутами экспедиций и описания достижений, которые вы должны будете сопоставить с соответствующим путешественником.

	Достижения
I	Возглавлял экспедицию, открывшую Антарктиду.
II	Начальник первой русской кругосветной экспедиции.
III	Флотоводец, океанограф, полярный исследователь. Совершил кругосветное плавание.
IV	Исследователь Центральной Азии, именем которого назван подвид дикой лошади.
V	Организатор многих экспедиций в Среднюю и Центральную Азию, получил официальную приставку к фамилии за исследование горной системы.







**Задание 4.** Перед вами два фрагмента топографической карты одной и той же территории (А и Б), но карта Б составлена примерно на 50 лет позже карты А. На фрагменте А длина стороны квадрата сетки равна 1 км. Внимательно рассмотрите обе карты и ответьте на вопросы.

**Задание 5 (тест).** Выберите единственный правильный вариант ответа:

**1. В какой стране есть места, где 22 декабря в полдень Солнце находится в зените, а предметы не отбрасывают тень?**

- А) Мексика      Б) Парагвай      В) Египет      Г) Индия

**2. На территории какого государства есть места с координатами 90° в.д.?**

- А) Афганистан      Б) Монголия      В) США      Г) Япония

**3. Какой остров находится в Тихом океане?**

- А) Мадейра      Б) Готланд      В) Родос      Г) Таити

**4. Острова, на которых расположена Новая Зеландия, находятся в Тихом океане, а где располагается остров Зеландия?**

- А) Северное море      Б) Норвежское море      В) Балтийское море      Г) Ирландское море

**5. Какое из перечисленных морей самое северное?**

- А) Белое      Б) Красное      В) Жёлтое      Г) Чёрное

**6. Территория какого государства целиком или большей частью относится к бассейну Атлантического океана?**

- А) Вьетнам      Б) Индонезия      В) Иран      Г) ДР Конго

**7. Какая из рек относится к бассейну Индийского океана?**

- А) Оранжевая      Б) Хуанхэ      В) Замбези      Г) Меконг

**8. Двенадцатибалльную шкалу оценки скорости ветра по его воздействию на наземные предметы или волнению в открытом море в 1805 году предложил ирландский гидрограф и адмирал Королевского флота Великобритании:**

- А) Карл Фридрих Кристиан Моос      Б) Джон Уиллингхем Франклин  
В) Френсис Даниэль Бофорт      Г) Вильям Эдвард Парри

**9. Английский мореплаватель, совершивший три кругосветных путешествия, ставший первым человеком, который побывал в Арктике и в Антарктике, пересёк Южный полярный круг:**

- А) Джордж Ванкувер      Б) Джеймс Кук  
В) Уильям Баффин      Г) Генри Гудзон

**10. Первым из русских землепроходцев достиг побережья Охотского моря:**

- А) Курбат Афанасьевич Иванов      Б) Иван Юрьевич Москвитин  
В) Василий Данилович Поярков      Г) Ерофей Павлович Хабаров

**Внимательно проверьте свою работу!**