

# **Всероссийская олимпиада школьников по географии**

## **Муниципальный этап**

**2017/2018 учебного года**

### **Задания 1 (аналитического) раунда**

**для 7-х классов**

#### **ВНИМАНИЕ!**

- На выполнение всех заданий 1 раунда отводится 1,5 часа (120 минут).
- Задание включает 4 задачи.
- Максимальная оценка за решение одной задачи (правильный и полный ответ) – 10 баллов.
- Максимальная общая сумма баллов за решение всех задач – 40.
- Использование любых справочных материалов и карт не допускается.
- Ответы запишите на специальных листах для ответа.
- Черновики не проверяются и не оцениваются.

**Задача 1.** Внимательно изучите фрагмент космоснимка (рисунок 1) на котором показан фрагмент линейной структуры хорошо выраженной в рельефе, центральная часть которой оконтурена прямоугольником. Найдите ее местоположение на рисунке 2, выбрав одну из точек (1, 2, 3). И ответьте на вопросы:

**Рисунок 1**

1. Как называются структуры, подписанные на английском языке и цифрами (1,2,3) на рисунке 2?

2. Соотнесите структуры, обозначенные на рисунке 2 цифрами (1, 2, 3) с тремя типам взаимодействия структур подписанных на английском языке (рисунок 2).

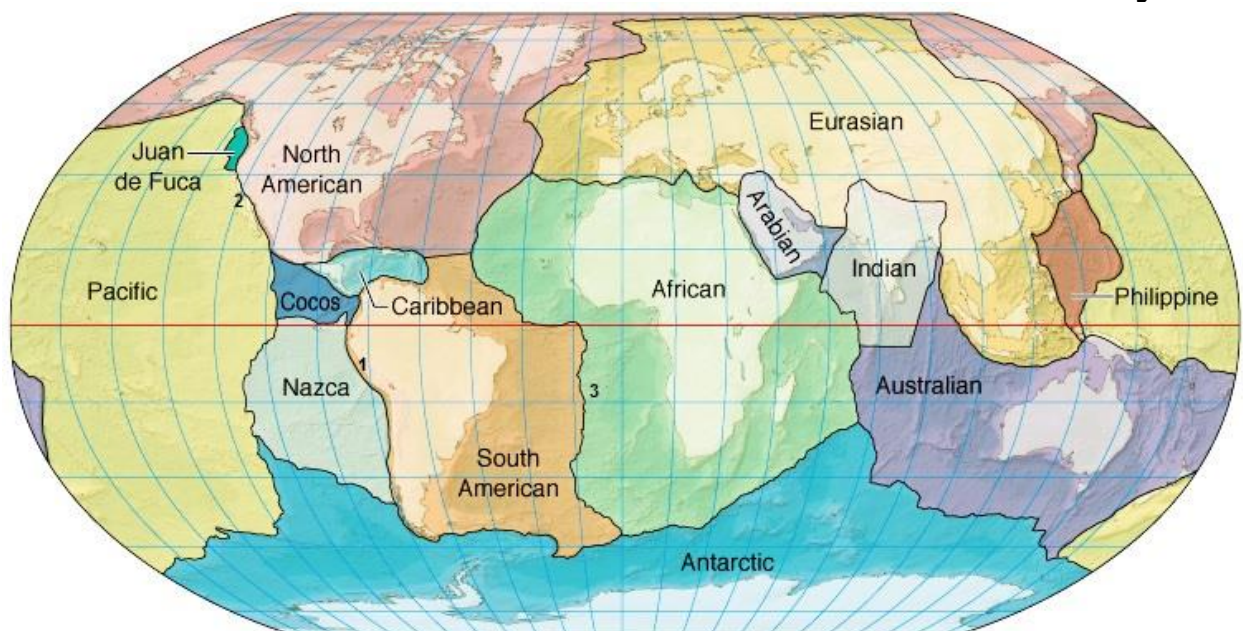
3. Какой цифре (1, 2, 3) на рисунке 2 соответствует местность, изображенная на космоснимке (рисунок 1)?

4. Как называется линейная структура (имя собственное) изображенная на космоснимке?

В пределах какой страны и ее штата она расположена? Какие природные объекты расположены в ней? Какие опасные природные процессы происходят в пределах этой структуры и почему?



**Рисунок 2**



**Задача 2.** Внимательно изучите космоснимки на вкладке (рисунки 3, 4, 5) и ответьте на вопросы:

1. Определите, какое природное явление на них изображено.
2. Объясните его причины и последствия.
3. Какие природные регионы и речные бассейны соответствуют этим рисункам (равнины, пустыни, реки)?

**Задача 3.**

Вспомните все страны Южной Америки, которые имеют выход к морю. Ответьте на следующие вопросы о некоторых из этих стран:

1. Название какой из этих стран связано с крупным туристским центром Италии?
2. Какая из этих стран названа в честь человека, который в ней никогда не был?
3. Название столицы какой из этих стран означает «вижу гору»?
4. Какая из этих стран занимает крайнюю южную точку материка?
5. На территории какой из этих стран находится высшая точка материка? Как она называется?
6. Какая из этих стран имеет наибольшую протяжённость береговой линии на материке?
7. Какая из этих стран имеет объект №1 в списке Всемирного природного наследия ЮНЕСКО? Что это за объект?
8. Какая из этих стран имеет наибольшую долю индейцев в составе населения?

**Задача 4.** Названия населенных пунктов (оронимы) часто даются по природным особенностям территории. Определите их соответствие населенным пунктам Ставропольского края

Оронимы		Значение	
1	Арзгир	А	Черный курган
2	Кендже-Кулак	Б	Светлое озеро
3	Янкуль	В	Вода Арса
4	Галюгаевская	Г	Маленькая балка
5	Кара-Тюбе	Д	Озеро и лес

## Рисунки к заданию 2

Рисунок 3




Рисунок 4

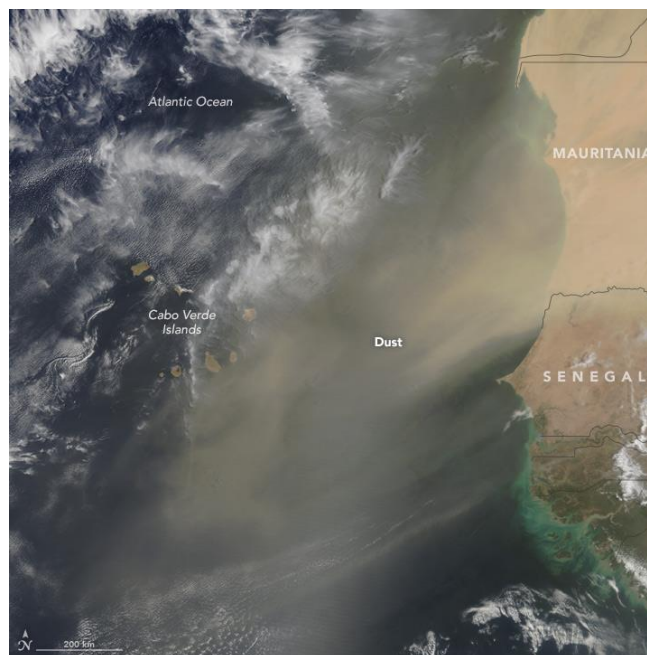


Рисунок 5

