



ВСЕРОССИЙСКАЯ ОЛИМПИАДА ШКОЛЬНИКОВ 2017/18 гг.
МУНИЦИПАЛЬНЫЙ ЭТАП
ГЕОГРАФИЯ
7 КЛАСС
Тестовый тур
Инструкция для обучающихся

Задания состоят из разделов 1 и 2. На их выполнение отводится 90 минут.

Раздел 1

Прочитайте задание и выберите из предложенных ответов *один* правильный

1. Какая из перечисленных рек НЕ относится к бассейну Индийского океана:

- 1) Муррей
- 2) Замбези
- 3) Меконг
- 4) Ганг

2. При слиянии рек Укаяли и Мараньон образуется река:

- 1) Миссисипи
- 2) Нил
- 3) Меконг
- 4) Амазонка

3. Крайняя западная точка Евразии:

- 1) м. Дежнева
- 2) м. Челюскина
- 3) м. Рока
- 4) м. Пиай

4. Материк, крайние точки которого расположены в четырех полушариях:

- 1) Северная Америка
- 2) Африка
- 3) Антарктида
- 4) Южная Америка
- 5) Евразия

5. Глубоководный желоб Романш расположен в пределах ложа океана

- 1) Тихого
- 2) Индийского
- 3) Атлантического
- 4) Северного Ледовитого



ВСЕРОССИЙСКАЯ ОЛИМПИАДА ШКОЛЬНИКОВ 2017/18 гг.
МУНИЦИПАЛЬНЫЙ ЭТАП
ГЕОГРАФИЯ
7 КЛАСС

6. Изменение природных комплексов от экватора к полюсам называется:

- 1) высотной поясностью.
- 2) природная зона
- 3) широтная зональность
- 4) климатический пояс

7. Какое море, омывает три части света?

- 1) Красное
- 2) Средиземное
- 3) Чукотское
- 4) Берингово.

8. Устойчивые участки земной коры называются:

- 1) платформами
- 2) складчатыми поясами
- 3) равнинами
- 4) низменностями

9. Нисходящее движение воздуха преобладает в течение всего года в широтах:

- 1) арктических и умеренных
- 2) умеренных и экваториальных
- 3) экваториальных и тропических
- 4) тропических и арктических

10. Какое из утверждений является неверным:

- 1) в зоне саванн хорошо выражены четыре времени года
- 2) для Сахары характерна большая суточная амплитуда температур
- 3) Сахель- район , подверженный катастрофическим засухам.
- 4) Ислам- одна из мировых религий.

11. Выберите группу, в которой правильно «собраны» реки Северной Америки:

- 1) Миссисипи, Йеллоустон, Эри, Гурон
- 2) Мичиган, Огайо, Колорадо, Миссури
- 3) Колумбия, Св. Лаврентия, Огайо, Маккензи
- 4) Маккензи, Онтарио, Гурон, Ниагара

12. Из приведенного списка слов, выберите те, которые относятся к материку Африка. Ответ записать в виде последовательности номеров.



**ВСЕРОССИЙСКАЯ ОЛИМПИАДА ШКОЛЬНИКОВ 2017/18 гг.
МУНИЦИПАЛЬНЫЙ ЭТАП
ГЕОГРАФИЯ
7 КЛАСС**

1) каньон; 2) баобаб; 3) вади; 4) карибу; 5) вельвичия; 6) тайга; 7) саванна; 8) бизон; 9) жираф

13. Проанализируйте перечень понятий и выберите одно лишнее (записать его номер): 1) казуарин, 2) коала, 3) крик, 4) платформа, 5) казуар, 6) скрэб, 7) пампа, 8) соленое озеро.

Ответ запишите в виде слова

14. Какая река дважды пересекает экватор?.....

15. Линии на картах, соединяющие точки с одинаковым количеством осадков, называются

Задания на установление правильных соответствий

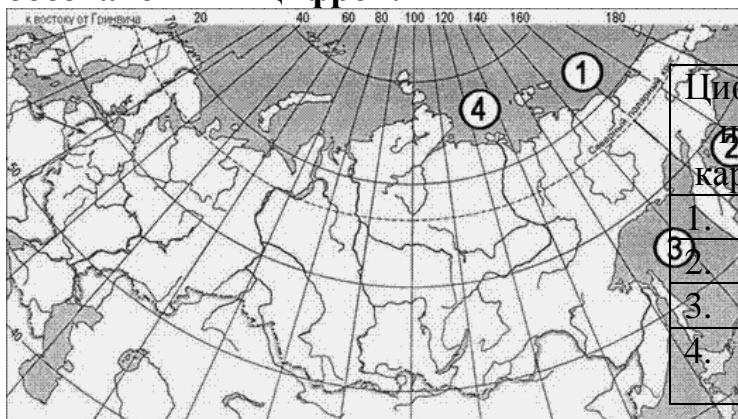
16. Установите правильные соответствия « природная зона — климатический пояс, в котором она формируется»

Природная зона	Климатический пояс
1) лесостепи и степи	А) экваториальный
2) саванны и редколесья	Б) субарктический
3) тайга	В) умеренный
4) тундра	Г) субэкваториальный

17. Установите правильные соответствия «эндемик - материк» :

Животные	Природная зона
1) коала	А) Австралия
2) жираф	Б) Южная Америка
3) колибри	В) Антарктида
4) пингвин	Г) Африка

18. Установите соответствие между морем и его расположением на карте, обозначенным цифрой.




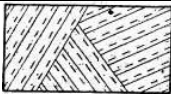



Цифра на карте	Название моря
1.	А) Охотское
2.	Б) Лаптевых
3.	В) Восточно-Сибирское
4.	Г) Берингово



ВСЕРОССИЙСКАЯ ОЛИМПИАДА ШКОЛЬНИКОВ 2017/18 гг.
МУНИЦИПАЛЬНЫЙ ЭТАП
ГЕОГРАФИЯ
7 КЛАСС

19. Установите правильные соответствия «рисунок-название условного знака»:

	Название условного знака
 1)	А) огород
2) 	Б) мост
3) 	В) кустарник
4) 	Г) овраг
5) 	Д) бурелом

20. Установите правильное соответствие «страна – материк»:

Страна	Материк
1) Уругвай	А) Евразия
2) Алжир	Б) Южная Америка
3) Кения	В) Африка
4) Иран	Г) Австралия