

**Муниципальный этап  
Всероссийской олимпиады школьников  
по географии**

**2018/19 учебный год**

**11 класс**

*Дорогой друг! Желаем успеха!*

**I. Прочитайте предложенные вопросы. На каждый вопрос выберите правильный(е) ответ(ы).**

1. Выберите из списка объект с наименьшей солёностью воды.

- 1) залив Сиваш
- 2) Белое море
- 3) Финский залив
- 4) Чёрное море

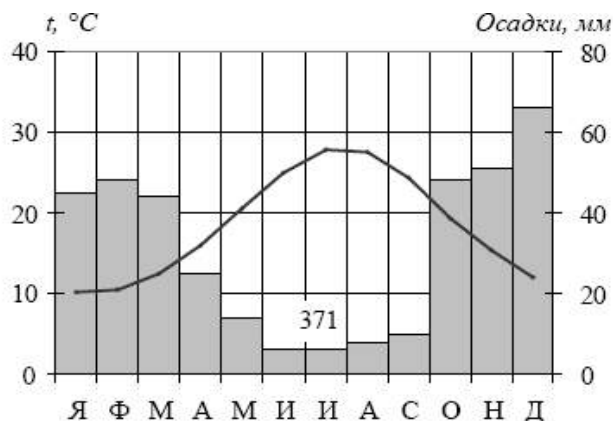
2. Выберите вариант, в котором указаны два штата США с наибольшим объемом добычи нефти.

- 1) Иллинойс, Мичиган
- 2) Миссисипи, Нью-Йорк
- 3) Техас, Аляска
- 4) Луизиана, Массачусетс
- 5) Огайо, Гавайи
- 6) Алабама, Флорида

3. Установите соответствие.

- |                             |              |
|-----------------------------|--------------|
| 1) однонациональные страны  | А) Бельгия   |
| 2) двунациональные страны   | Б) Япония    |
| 3) многонациональные страны | В) Индонезия |
|                             | Г) Канада    |
|                             | Д) Швейцария |

4. Проанализируйте климатограмму и определите, какой буквой на карте обозначен пункт, характеристики климата которого отражены в климатограмме.



- 1) А
- 2) В
- 3) С
- 4) D

5. Найдите единственную страну, в которой минимальны предпосылки для межрелигиозных или межэтнических конфликтов.

- 1) Великобритания
- 2) Индия
- 3) Япония
- 4) Турция
- 5) Канада
- 6) Югославия

6. Расположите горные системы по убыванию их максимальной абсолютной высоты (проставьте цифры).

- 1) Алтай
- 2) Кавказ
- 3) Сихотэ-Алинь
- 4) Хибины

7. Установите соответствие.

- |   |  |
|---|--|
| 1) Страны, имеющие самую высокую долю сельского хозяйства в экономике | А) ОАЭ   |
| 2) Страны, имеющие самую высокую долю промышленности в экономике      | Б) Мьянма<br>В) Алжир<br>Г) Лаос<br>Д) Бурунди |

8. Совершая морское путешествие из Владивостока в Мурманск, расставьте моря в том порядке, в котором будет совершено это путешествие.

- А) Чукотское
- Б) Берингово
- В) Карское
- Г) Охотское
- Д) Лаптевых
- Е) Баренцево

9. В честь этого русского исследователя, действительного члена Императорского Русского географического общества, назван открытый им в 1849 году пролив, отделяющий от материка крупный остров на Дальнем Востоке. Назовите фамилию исследователя.



- 1) Литке Фёдор Петрович
- 2) Сенявин Дмитрий Николаевич
- 3) Невельской Геннадий Иванович
- 4) Амундсен Руаль

10. На границе какого государства и региона России находится крайняя южная точка страны?

- 1) Грузия – Республика Карачаево-Черкесия
- 2) Азербайджан – Республика Дагестан
- 3) Монголия – Республика Тыва
- 4) Северная Корея – Приморский край

11. Какая страна производит дешёвую электроэнергию, экспортирует нефть и газ:

- 1) США
- 2) Германия
- 3) Норвегия

- 4) Украина
- 5) Нигерия
- 6) Бразилия

12. Мировое хозяйство – это

- 1) исторически сложившаяся совокупность национальных хозяйств всех стран мира, связанных между собой всемирными экономическими отношениями, основанными на международном разделении труда
- 2) совокупность отраслей, обслуживающих потребности населения
- 3) состав хозяйства стран, или территории по формам производственной деятельности, по видам производимой продукции, оказываемых услуг и т.д., соотношение между основными подразделениями хозяйства – отраслями

13. Установите соответствие: кому принадлежат фотографии выдающихся русских учёных - исследователей, внесших в клад в развитие географической науки.



А



Б



В



Г



Д

- 1) Эдуард Васильевич Толль
- 2) Семён Иванович Дежнёв
- 3) Юрий Фёдорович Лисянский
- 4) Иван Фёдорович Крузенштерн
- 5) Борис Андреевич Вилькицкий

14. Название этого народа России переводится как «настоящий человек», а устаревшее название – самоеды. Численность в России составляет около 45 тысяч человек, большая часть проживает вдоль побережья Северного Ледовитого океана от Кольского полуострова до Таймыра. Основные занятия – оленеводство, рыболовство, охота. Название народа присутствует в наименовании двух субъектов Российской Федерации. Назовите народ.

- 1)ненцы
- 2)энцы
- 3)нганасаны
- 4)селькупы

15. Найдите соответствие между рядами.

1) главный порт Мексики	А) Бельмопан
2) бухта у города Рио-де-Жанейро	Б) Веракрус

3) крупнейшее месторождение железной руды на Юго-Востоке Бразилии	В) Гуанабара
4) столица Белиза	Г) Итабира

16. Группа школьников из Оренбурга хочет своими глазами увидеть необычную для них природу тундры. Какой из перечисленных заповедников для этого им необходимо посетить?

- 1) Гыданский
- 2) Окский
- 3) Южно-Уральский
- 4) Мордовский

17. Какой город возник и быстро рос благодаря внешним миграциям?

- 1) Дублин
- 2) Веллингтон
- 3) Джакарта
- 4) Стамбул
- 5) Хабаровск
- 6) Дамаск

18. Определите, территория какого города России – участника Чемпионата мира по футболу 2018 года – изображена на космическом снимке.



- 1) Нижний Новгород
- 2) Москва
- 3) Казань
- 4) Саранск

19. Страна с самым многочисленным населением – Китай. А вот Эфиопия – крупнейшая по населению страна среди этих стран. Каких?

- 1) среди развивающихся стран
- 2) среди стран, не имеющих выхода к морю
- 3) среди стран с преобладающим чернокожим населением
- 4) среди стран-производителей кофе

20. Выберите группу стран, имеющих крупнейшие в мире запасы древесины.

- 1) Россия, Индия, Саудовская Аравия
- 2) Бразилия, США, Канада, Россия
- 3) США, Китай, Индия, Канада
- 4) Канада, США, Финляндия, Китай

- 5) Россия, Ливия, Франция, Германия  
6) Швеция, Финляндия, Канада, Австралия

**II. Дайте развернутые ответы на следующие задания.  
Географическая задача №1.**

Определите страну X и ее соседей, если о соседях известно вот что:

О первом:	Назывался Сиам	
О втором:	Известен под аббревиатурой СРВ	
О третьем:	Французы называют его Шин	
Страна X:		

Результаты впишите в третью колонку таблицы.

**Географическая задача № 2. (практическое задание)**

1. Определите численный и именованный масштаб, если известно, что наибольшая длина острова равна 260м (оз.Черное). **Обязательно привести расчет!**
2. Нанесите на карту точки предстоящего маршрута.

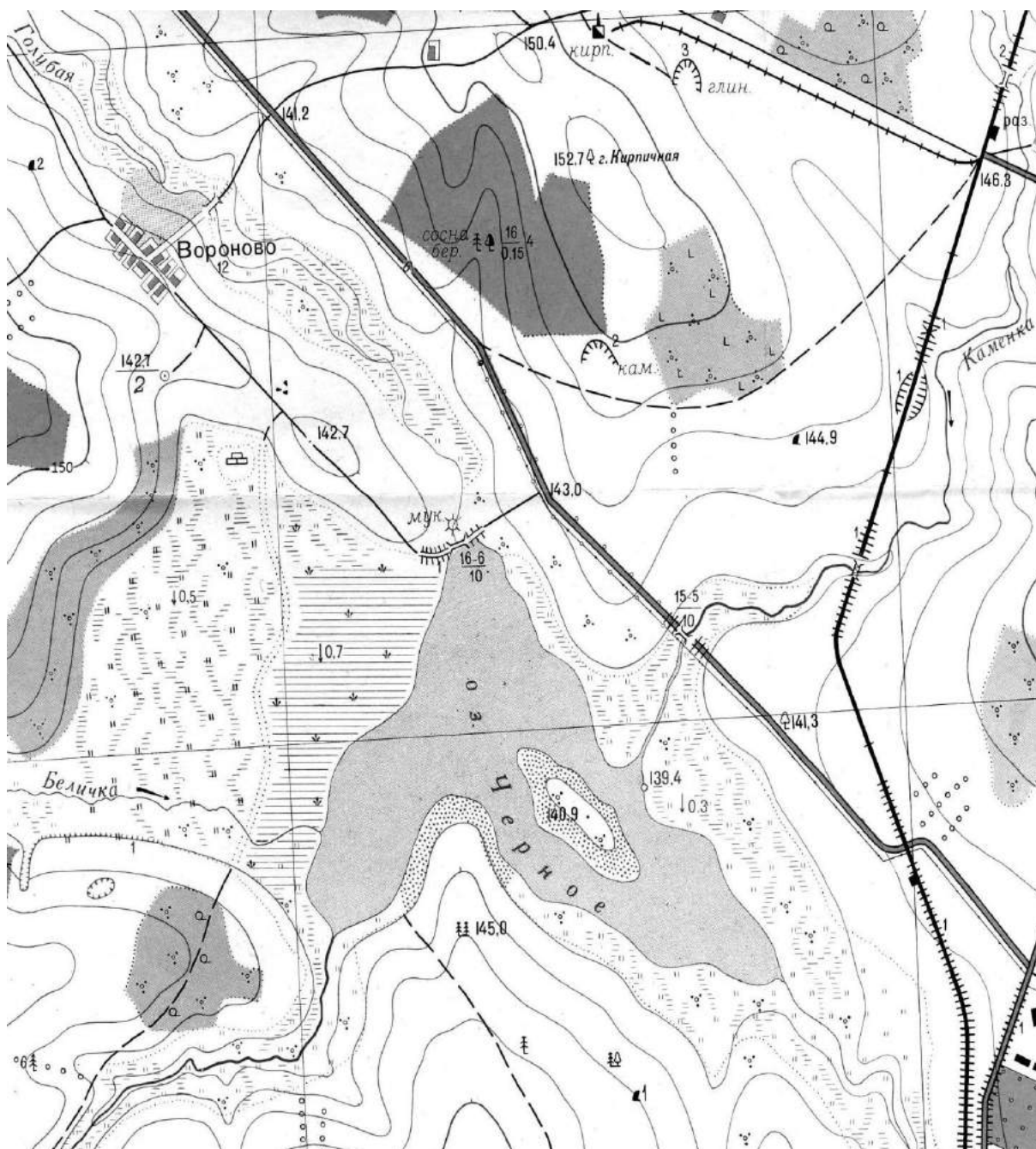
T1	Центр Вороново	T5	Устье ручья в юго-восточной части озера
T2	Вершина холма с высотой 142,7 м.	T6	Металлический железнодорожный мост через р. Каменка
T3	Северная окраина редколесья на лесной дороге	T7	Гора Кирпичная
T4	Отдельно лежащий камень метровой высоты	T8	Деревянный мост через р. Голубая у восточной окраины Вороново

3. Определите азимуты между точками маршрута и расстояния между ними по прямой. Определите общую протяженность маршрута. Работу оформите в виде таблицы:

№№Т	Азимуты (°)	Расстояние (м)
T1-T2		

Определите абсолютные высоты T1, T2, T3, T4, T5.

4. С какой точки будет самый лучший обзор территории (можно увидеть максимальное количество точек маршрута)?



Сплошные горизонтали проведены через 2,5 метра  
Балтийская система высот

### Географическая задача № 3.

В 1592 году царь Федор снарядил поход для окончательного покорения земель «великой Оби». В 1595 году один из казацких отрядов построил укрепление под название Обдорск (сегодня это столица Ямало-Ненецкого автономного округа - Салехард).

10 декабря 1930 года президиум Всероссийского Центрального Исполнительного Комитета принял постановление «Об организации национальных объединений в районах расселения малых народностей Севера». В числе новых восьми национальных округов РСФСР был образован в составе Уральской области Ямальский (Ненецкий) округ с центром

в селе Обдорск. 20 июня 1933 года село Обдорск переименовано в поселок Салехард, а его сельсовет был реорганизован в поселковый.

Создание геральдических символов (герба и флага) на Ямале началось в начале 1990-х годов с проработки гербов городов. Это по праву связано с началом подготовки празднования 400-летнего юбилея столицы Ямало-Ненецкого автономного округа г. Салехарда.

Развитию геральдики способствовало принятие в 1996 году Закона автономного округа «О местном самоуправлении в Ямало-Ненецком автономном округе», где в статье 9 указано, что муниципальные образования вправе иметь собственную символику (гербы, эмблемы, другую символику), отражающую их исторические, культурные, социально-экономические и иные особенности.

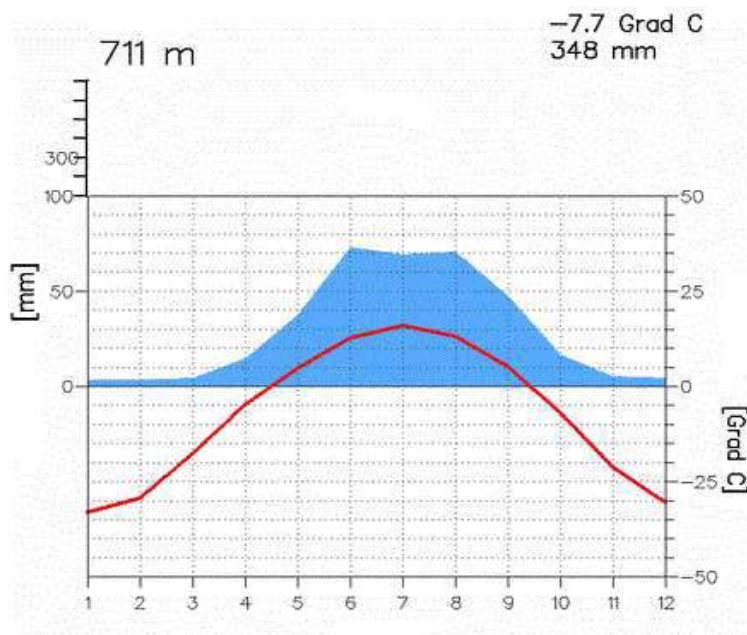
Определите, каким современным поселениям (городам, сёлам, посёлкам) Ямало-Ненецкого автономного округа принадлежат приведённые в таблице гербы, и объясните значение каждого из них.

№ п/п	Герб поселения	Название и современный статус поселения	Описание герба
1.			
2.			
3.			
4.			
5.			
6.			



#### Географическая задача №4.

По приведённой климатической диаграмме определите тип климата и кратко охарактеризуйте его специфику (с учетом местных особенностей территории). Чем можно объяснить существование лесов при таком небольшом количестве осадков? Какие древесные породы могут произрастать в данных природно-климатических условиях? Какой тип расселения сформировался в этих условиях? Чем он представлен?



#### Географическая задача № 5.

В каждом из предложенных рядов определите объекты, которые являются «белой вороной», т.е. лишние в следующих чередованиях. В основе лежит географический принцип. Свой выбор объясните. Что объединяет всех этих «белых ворон»?

1. Средиземное, Южно-Китайское, Берингово, Филиппинское, Японское.
2. Обь, Енисей, Северная Двина, Печора, Висла.
3. Обезьяна ревун, анаконда, страус нанду, коала, броненосец.
4. Тубу, бушмены, банту, пигмеи, ненцы.
5. Берлин, Ташкент, Рим, Мадрид, Париж.