

- 1) По признаку географического положения найдите исключение из логики:
  - a) Австрия
  - b) Белоруссия
  - c) Словакия
  - d) Словения
  - e) Молдавия
  - f) Люксембург
- 2) Если двигаться в одном направлении по азимуту равному  $300^\circ$ , то возвращаться необходимо по азимуту:
  - a)  $100^\circ$
  - b)  $120^\circ$
  - c)  $60^\circ$
  - d)  $180^\circ$
- 3) Выделите страну, в которой предпосылки для межэтнических конфликтов минимальны:
  - a) Индия
  - b) Канада
  - c) Турция
  - d) Испания
  - e) Япония
  - f) Великобритания
- 4) Какой из перечисленных народов НЕ проживает вдоль сухопутной границы России:
  - a) буряты
  - b) осетины
  - c) карелы
  - d) алтайцы
  - e) ханты
  - f) тувинцы
- 5) На плане местности по склону холма проведено 9 горизонталей с высотой сечения 5 метров. Какова высота холма?
  - a) 180 м
  - b) 50 м
  - c) 25 м
  - d) 43 м
  - e) 35 м
- 6) В каком субъекте РФ был зафиксирован абсолютный максимум температуры воздуха?
  - a) Астраханская область;
  - b) Волгоградская область;
  - c) Дагестан;
  - d) Калмыкия
- 7) В этой стране официальный язык - арабский. 60% населения исповедуют ислам, 40% христианство, при этом президент должен быть христианином-маронитом, премьер мусульманином-суннитом, а спикер - мусульманином-шиитом.
  - a) Бахрейн

- b) Ливан  
 c) Босния и Герцеговина  
 d) Кувейт  
 e) Государство Палестина  
 f) Йемен
- 8) В крупных городах России возникли так называемые «спальные районы». К какому типу миграций относят демографы ежедневное перемещение населения этих районов?  
 a) сезонные  
 b) маятниковые  
 c) нерегулярные  
 d) внешние
- 9) Из перечисленных стран наименьшая смертность характерна для:  
 a) Кувейта и Катара  
 b) Швеции и Германии  
 c) Латвии и Венгрии  
 d) Мали и Чада
- 10) Кратчайшее расстояние между Северным и Южным полюсами Земли составляет  
 a) 6356 км;  
 b) 12 712 км;  
 c) 22 450 км;  
 d) 44 230 км.
- 11) Установите соответствие между промышленным центром Поволжья и его городом-спутником:

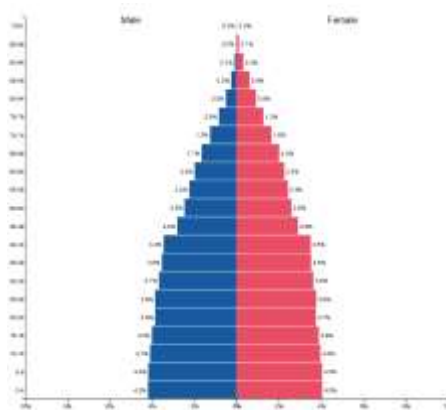
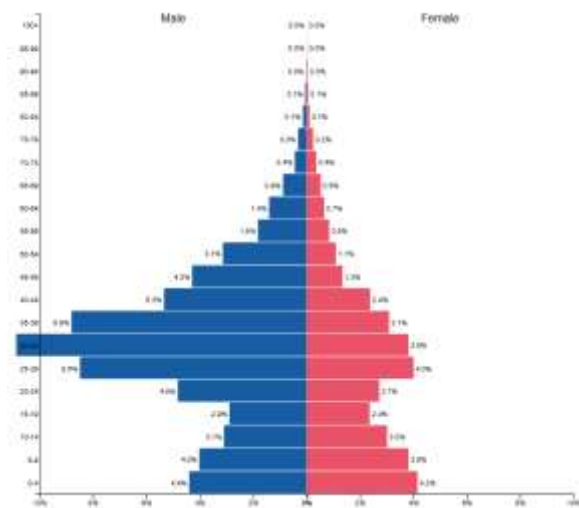
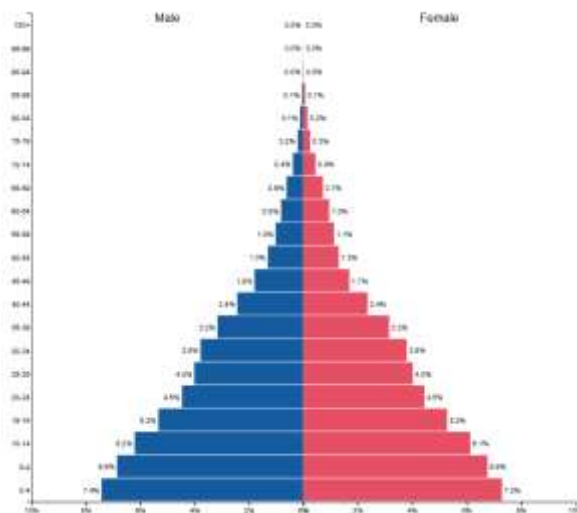
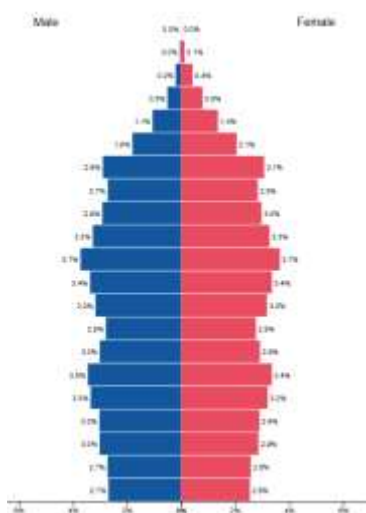
1. Волгоград –	а. Энгельс
2. Самара –	б. Зеленодольск
3. Саратов –	в. Волжский
4. Казань –	г. Новокуйбышевск

- 12) Какова будет температура воздуха на горе Монблан (4800 м), если у ее подножия температура воздуха составила + 20°C:  
 a) +48,8°C;  
 b) –48,8°C;  
 c) +24,8°C;  
 d) –8,8°C ?
- 13) Длина дуги меридиана между северным и южным тропиком составляет (в градусах):  
 a) 34°  
 b) 24°  
 c) 14°  
 d) 47°

14) Определи, какой стране из перечисленных ниже соответствует каждая половозрастная пирамида. Подпиши под пирамидой название страны.

Страны:

Аргентина, Дания, Оман, Кения.



15) На каком материке нет действующих вулканов и современного оледенения?

- a) Америка
- b) Австралия
- c) Африка
- d) Евразия
- e) Азия

