

**Задания к муниципальному этапу Всероссийской олимпиады
школьников по географии
7 КЛАСС**

Тестовый этап

1. Через какой город мира проходит нулевой меридиан?

- 1) Гринборо; 2) Гринвич; 3) Глазго; 4) Гронинген

2. Этот океан расположен преимущественно в Южном полушарии, с небольшим количеством островов и слабой изрезанностью берегов. О каком океане идет речь?

- 1) Атлантическом; 2) Индийском; 3) Северном Ледовитом;
4) Тихом

3. Подберите к каждому термину левой колонки определение из правой колонки

1. Беллинсгаузен	а) Материк, который открыли самым последним
2. Америка	б) Первооткрыватель Антарктиды
3. Антарктида	в) Океан, впервые пересеченный европейцами в XVI в.
4. Тихий	г) Часть света, открытая Колумбом.

1 _____; 2 _____; 3 _____; 4 _____.

4. Укажите материк, на котором проживает более половины населения Земли)

- 1) Африка; 2) Евразия; 3) Северная Америка;
4) Южная Америка

5. Наука, изучающая географические названия:

- 1) геодезия 2) картография 3) топонимика 4) топография

6. Установите соответствие гор и их вершин:

1. Альпы	а) Эверест
2. Гималаи	б) Монблан
3. Кавказ	в) Эльбрус

1 _____; 2 _____; 3 _____.

7. В каких полушариях находится Африка?

- 1) северном, южном, восточном; 2) южном, восточном, западном
3) северном, южном, восточном, западном;
4) северном, восточном, западном

8. Землетрясения и извержения вулканов наиболее часто происходят на:

- 1). Древних платформах;
- 2). Молодых платформах;
- 3). Границах литосферных плит;
- 4). Центральных частях литосферных плит

9. Наиболее высокое положение снеговой линии наблюдается в горах:

- 1) экваториальные Анды;
- 2) Кавказ;
- 3) Северный Урал;
- 4) Гималаи.

10. Флювиальный рельеф образовался в результате геологической деятельности:

- 1) ледника;
- 2) ветра;
- 3) моря;
- 4) текучих вод.

11. Какое время года в Антарктиде, когда земная ось обращена к солнцу северной стороной

- 1) зима,
- 2) весна,
- 3) осень,
- 4) лето

12. Какое кругосветное путешествие короче всего, а какое - длиннее всего.

- 1) по 60 параллели;
- 2) по экватору;
- 3) по 60 меридиану;
- 4) по 30 меридиану

13. Установите соответствие численного масштаба именованному

1. в 1 см 150 м	А. 1:15000000
2. в 1 см 150 км	Б. 1: 150

1 _____; 2 _____.

14. Линии, соединяющие точки с одинаковыми глубинами, называют:

- 1) изотермы;
- 2) изобары;

- 3) изобаты;
- 4) градусная сетка.

15. У западного побережья Южной Америки проходит Перуанское течение, а у западного побережья Африки:

- 1) Бразильское
- 2) Бенгельское
- 3) Северо-Атлантическое
- 4) Калифорнийское

Аналитический этап.

Задание 1.

На Земле есть замечательный материк. Следуя на корабле вдоль его берегов с запада на восток, путешественник пересечет три океана; север и юг на этом материке мгновенно «меняются» местами. И, наконец, в этих местах человек не всегда в состоянии отличить море от суши.

Какой это материк? Какие три океана можно пересечь? Почему север и юг мгновенно меняются местами? Почему в этих местах сложно отличить море от суши.

Задание 2.

В январе в Карпатах на высоте 2 км прошли соревнования по лыжному спорту. Чему равна температура воздуха в Предкарпатье, если на высоте, где проходили соревнования, она составила -18°C ?

Задание 3.

Проливом называется сравнительно узкое водное пространство отделяющее материки, острова от материков или острова друг от друга. Кроме того, проливы соединяют близлежащие водные бассейны.

1) Какие два водоема соединяют проливы Каттегат и Скагерак. Почему в проливе Каттегат волнение и ветер значительно слабее, чем в проливе Скагеррак.

2) Какие объекты суши разделяет пролив Лаперуза. Какой особый политический статус несет на себе этот пролив.

Задание 4.

В мире существует 14 горных вершин, имеющих высоту более 8 000 метров. Восхождения на подобные горы — занятие не для трусишек.

Ниже приведены пять информационных разделов, в которых даны характеристики 3-х горных вершин. Используя эту информацию, заполни таблицу, предварительно перечертив ее в лист ответа.

Название	Высота	Горная система	Страна расположения	Отличительные черты

Задание 5.

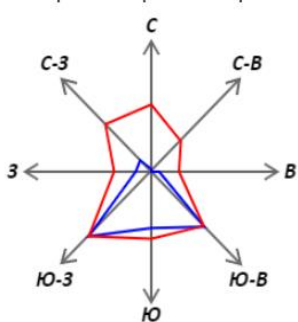
С древних времен человек стремился изучить свою планету, всю обошел, и нанес на карту с большой точностью. Этот подвиг продолжался тысячелетия. Его совершили многие поколения людей, отправлявшиеся в путешествия, полные трудностей и опасностей. Великие путешественники, первооткрыватели для многих поколений становились образцом мужества, самоотверженности, силы духа.

Имя этого путешественника прочно вошло на все мировые географические карты. В 2019 году исполняется 565 лет со времени его рождения в городе Флоренция. Его называли «НЕ ПЕРВЫЙ ПЕРВООТКРЫВАТЕЛЬ». В одном из своих путешествий он посетил залив Маракайбо, где, увидев поселок, выстроенный на сваях, назвал этот живописный берег Венесуэлой.

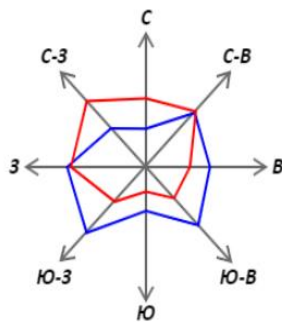
Назовите имя этого путешественника. Кем он является по национальности. Сфера каких занятий прославила его. Какие континенты и часть света названы в его честь. Что послужило основанием для этого. Какая связь существует между названием Венесуэлла и родиной этого путешественника. Какое название он дал бухте, на берегу которой сегодня раскинулся всемирно известный город, прославившийся карнавалами.

Задание 6.

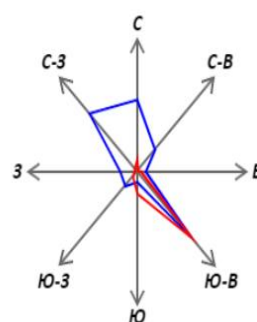
В результате наблюдения за погодой в г. Курске была построена одна из 3 диаграмм расположенных ниже. Как называются эти диаграммы? Какую информацию они содержат? Определите, какая из них соответствует г. Курску и почему. Установите, какие ветры преобладают в течении года, объясните их наличие. Предположите, как бы выглядела диаграмма, если бы Курск располагался в Приморском крае. Есть ли такой пример на рисунке?



А



Б



В