

**Всероссийская олимпиада школьников по географии
муниципальный этап, 2020—2021 учебный год
11 класс**

Время выполнения- 180 минут

Максимальное количество баллов – 90 баллов

Использовать атласы, справочные материалы, мобильные телефоны не разрешается.

Тестовый тур (26,5 баллов)

В вопросах 1-2; 4-16; 19-20 - выберите только один верный ответ (по 1 баллу за ответ);

3 вопрос-1,5 балла (По 0,5 балла за каждый правильный ответ);

17 вопрос-по 1 баллу за каждый верный ответ. Всего 6 баллов.

18 вопрос – 2 балла (по 0,5 бала за каждый верный ответ).

Внесите ответы в матрицу в конце теста.

1. Выберите вариант, где правильно указаны столицы монархий.

- А. Оттава, Нью-Дели, Абуджа, Эр-Рияд
- Б. Рабат, Стокгольм, Брюссель, Бангкок
- В. Нукуалофа, Масеру, Джакарта, Тегеран
- Г. Богота, Виндхук, Сеул, Тегусигальпа

2. Какая сельскохозяйственная культура не произрастает в зоне распространения коричневых почв?

- А. Гевея.
- Б. Томат.
- В. Виноград.
- Г. Олива.

3. Какие народы России не имеют своих административно-территориальных образований в России?

- А. Саами.
- Б. Эвенки.
- В. Марийцы.
- Г. Чуваши.
- Д. Манси.
- Е. Долганы

4. Прочитайте описание. Назовите остров.



В 1912-1914 гг. судно «Святая Анна» под руководством Г.Л. Брусилова дрейфовало в Карском море, в 1914 г. судно погибло, но его штурман погребло, но его штурман В.И. Альбанов сумел спасти вахтенный журнал. В 1930 г. к одному из островов в Карском море размером 288 км² подошел ледокольный пароход «Георгий Седов», на капитанском мостике стоял О.Ю. Шмидт. Первым же на берег сошел советский океанограф, метеоролог и полярный исследователь, который еще в 1924 г. изучал линию дрейфа судна, зажатого во льдах. По отклонению морского течения он предположил, что причина этого — в существовании острова и дал весьма точные географические координаты, т.е. теоретически предсказал существование острова.

- А. Шмидта
- Б. Георгия Седова
- В. Святой Анны
- Г. Брусилов
- Д. Визе
- Е. Карский

5. Назовите архипелаг, являющийся суверенным государством.

- А. Бермудские остров
- Б. Сейшельские острова
- В. Андаманские острова
- Г. Марианские острова.

6. Укажите главную отрасль промышленности Зарубежной Европы:

- А. топливная промышленность
- Б. машиностроение
- В. черная металлургия
- Г. пищевая промышленность

7. Укажите самые крупные городские агломерации Зарубежной Европы:

А. Лондонская и Парижская

В. Парижская и Рурская

Б. Рурская и Мадридская

Г. Мадридская и Лондонская.

8. Какие из перечисленных стран являются абсолютными монархиями, во главе которых находятся султаны?

А. Бруней и Оман.

Г. Иордания и Малайзия.

Б. Бутан и Бахрейн.

Д. Объединенные Арабские Эмираты и

В. Кувейт и Таиланд.

Катар.

9. В отрывке из «Слово о полку Игореве» речь идет о гостях в гряднице Святославовой:

Тут немцы и венецицы,
Тут грецы и моравы,
Поют славу Святославу,
Кают князя Игоря...

Жителей какого европейского города, известного на весь мир, славяне называли «венецицы»?

10. Выберите верную характеристику миграции населения из Сирии и Ирака в Европу.

А. Принудительная, организационная, религиозная

Б. Добровольная, стихийная, этническая

В. Вынужденная, стихийная, социально-экономическая

Г. Вынужденная, организационная, экологическая

11. В какой из стран столица не является крупнейшим городом страны??

А. Египет

Г. Швейцария

Б. Франция

Д. Аргентина

В. Чехия

12. «Залив еще был покрыт мартовским льдом, и дул ледяной ветер. Каждый перерыв в съемках мы использовали, чтобы спрятаться от ветра в дюнах и согреться, сбиваясь как барашки в тесную кучу», - рассказывал каскадер известного фильма «остров сокровищ» Николай Ващилин. Где снимали этот фильм?

А. На территории национального парка «Забайкальский»

Б. На Куршской косе.

В. На Командорских островах.

Г. В национальном парке «Русская Арктика»

13. Чукикамата – это:

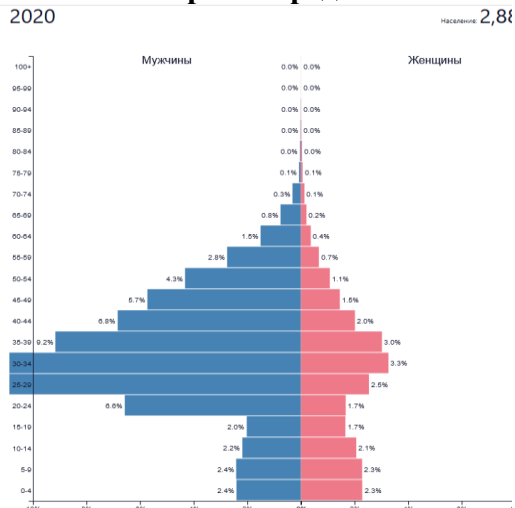
А. Высшая точка Перу.

Б. Древний город ацтеков.

В. Самый большой в мире открытый медный рудник (карьер) в Чили.

Г. Единственный постоянный водоток пустыни Атакама.

14. Половозрастная диаграмма какой страны представлена на рисунке?



А. Катар

В. Албания

Б. Саудовская Аравия

Г. Ботсвана

15. Выберите правильное утверждение:

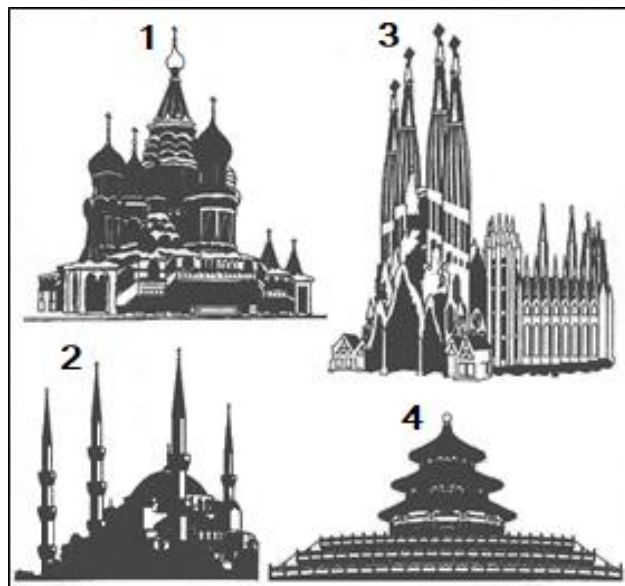
- А. Польша – государство в составе СНГ;
- Б. Индия – государство в составе БРИКС;
- В. Израиль – одно из самых развитых государств Европы;
- Г. Украина – государство – член НАТО

16. В Канаде и Бельгии по два, а в Швейцарии и Сингапуре по четыре.

17. Определите страну и крупнейшую реку на ее территории по краткому описанию.

Это европейское государство имеет 2 названия. Издавна славится сырами, которые научились изготавливать в первом веке до нашей эры, позаимствовав ноу-хау у сыроделов Древнего Рима. Впоследствии ученики намного превзошли своих учителей. А секреты рецептуры сыроделы хранили за семью замками. Через десятки лет сыр стал продуктом номер один, поставляемым страной в Европу и другие страны мира. В музеях страны собраны величайшие произведения искусства со всей Европы. Можно посетить модные кофейни с необычным дизайном. По всей стране сохранилось много средневековых замков, крепостей, соборов. Красоты этой стране добавляют дюны, маяки, скалистые утесы, огромные деревянные мельницы, маленькие мостики и каналы, которые пересекают улицы. Практически половина транспорта в городе — это именно велосипеды. Это велосипедная столица мира. Ежегодно с апреля по май в стране начинается туристический бум, благодаря знаменитым полям с цветами. Назовите оба имени страны, сыр, цветок, наиболее характерные для этой страны. Какой русский царь учился здесь мастерству и какому?

18. На рисунке показаны типичные культовые сооружения. К каким религиям они относятся?



- А. Ислам
- Б. Сикхизм
- В. Индуизм
- Г. Протестанство

- Д. Православие
- Е. Иудаизм
- Ж. Буддизм
- З. Католичество

19. Установите соответствие: страна – форма правления монархии.

- | | |
|----------------|-----------------------|
| 1) Бруней | а) империя |
| 2) Дания | б) эмират |
| 3) Катар | в) султанат |
| 4) Лихтенштейн | г) великое герцогство |
| 5) Япония | д) княжество |
| 6) Люксембург | е) королевство |
- А. 1а, 2б, 3г, 4д, 5е, 6в
Б. 1г, 2а, 3е, 4б, 5д, 6в
В. 1б, 2в, 3д, 4г, 5а, 6е
Г. 1в, 2е, 3б, 4д, 5а, 6

20. Назовите страну, о которой идёт речь.

На политической карте мира множество суверенных государств и непризнанных территорий. Есть государства, которые признаны только частью мирового сообщества. Эта приморская страна признана только четырьмя государствами: Россией, Венесуэлой, Никарагуа и Науру. Страна раскинулась в предгорьях, сверкающих вечным снегом гор, к которым, по античной легенде, был прикован титан Прометей, похитивший для людей огонь у богов. Роскошная субтропическая природа, чистые галечные пляжи и комфортный климат давно превратили страну в популярный курорт, и этот статус ей удается удерживать, несмотря на драматические события, происходившие здесь в последние десятилетия.

№	1	2	3	4	5	6	7	8	9
Ответ									

№	10	11	12	13	14	15	16	17	18	19	20
Ответ											

Теоретический тур (63,5 балла)

Задание 1. Среди многочисленных пород собак существуют такие, названия которых напоминают о географических объектах: сенбернар, ньюфаундленд, пекинес, лабрадор. Что это за географические объекты и где они находятся? Заполните таблицу и дополните своими примерами. (По 1 баллу за каждый верный ответ; всего 14 баллов)

(Внимание! Ответы типа «немецкая овчарка» или «китайская хохлатая» не принимаются!):

Порода собак	Географический объект	Где находится и что известно об этом объекте
сенбернар		
ньюфаундленд		
пекинес		
лабрадор		
...		
...		

Задание 2. Однажды небольшой метеорит, пробив земную атмосферу, развалился на 4 обломка, которые упали в различных точках планеты. Какой из обломков расположен ближе всего к центру Земли. А какой дальше всего от центра Земли?

- а) лежащий на дне Марианской впадины -ближе
- б) лежащий на дне океана в районе северного полюса
- в) лежащий на южном полюсе - дальше
- г) лежащий на Красной площади в Москве

.....

(За каждый верный ответ по 1 баллу. **Всего - 2 балла**)

Задание 3. Запишите в таблицу название достопримечательности, город и страну в которой она располагается:

	название достопримечательности	город	страна
1			
2			
3			
4			
5			
6			
7			
8			
9			



№1



№ 2



№ 3



№ 4



№ 5



№ 6



№ 7



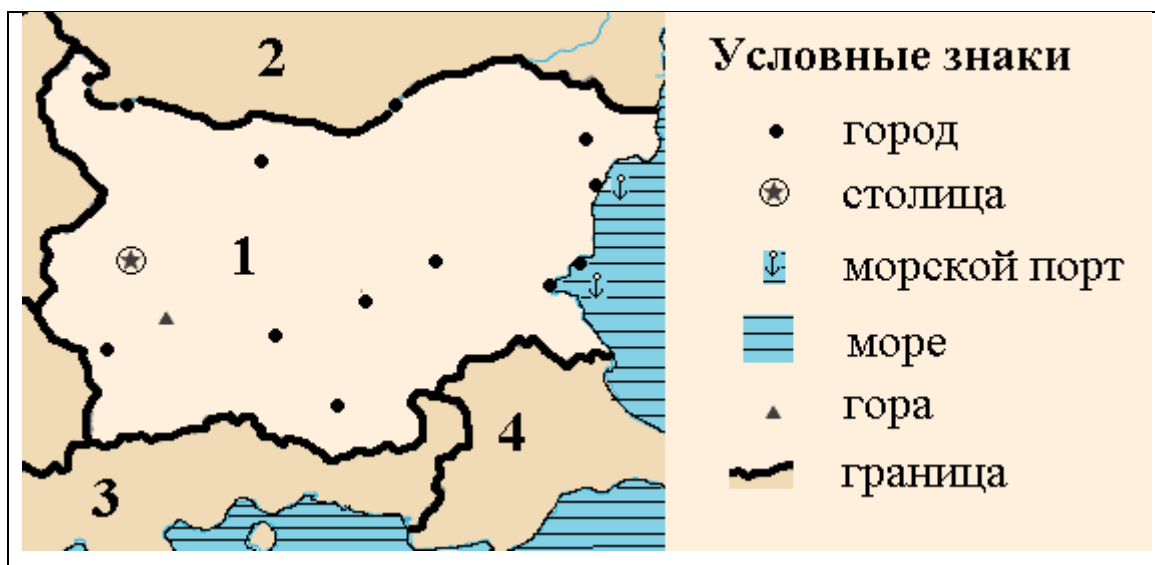
№ 8



№ 9

(За каждый верный ответ по 1 баллу. **Всего - 26 баллов**)

Задание 4. По фрагменту карты определите территорию и опознайте 4 страны, обозначенные цифрами.



1	2	3	4

(За каждый верный ответ по 2 балла. **Всего - 8 баллов**)

Задание 5. Одной из отличительных особенностей народа являются национальные танцы. На фестиваль национальных танцев приехали танцоры из разных стран мира. Определите и заполните таблицу: какой народ, какой танец представлял, что означает название их танца.

Используйте список:

Французы, чехи, постоянный двор, греки, испанцы, гопак, азербайджанцы, кубинцы, танго, касание, украинцы, странник, чардаш, путь, кадрили, боевой, венгры, полшага, аргентинцы, фламенко, танец под звук барабана, прыгать, сиртаки, джанги, группа из четырех, румба, полька.

народ	танец	Что означает название танца

(Всего 13,5 балла; по 0,5 балла за каждый правильный ответ)

