



**Задания муниципального этапа Всероссийской олимпиады школьников по географии 2021-2022  
учебный год 10-11 класс**

*Продолжительность олимпиады: 180 минут.  
Максимально возможное количество баллов: 90*

Код участника: \_\_\_\_\_

**Вам предстоит выполнить задания теоретического и тестового тура, в каждом из которых указаны вопросы и возможное количество баллов, которые Вы можете получить за их правильное выполнение. Внимательно прочтите задание и инструкцию к нему. После заданий размещены матрицы ответов, которые вам необходимо заполнить.**

**Задания теоретического тура**

- Теоретический тур включает 5 заданий
- На выполнение всех заданий теоретического тура отводится 120 минут
- Использование справочных материалов и карт не допускается
- **Максимальное количество баллов за выполнение теоретического тура – 60**

**Задание 1**

В 60-70-е гг. XX в. среди ученых, в том числе географов, большой популярностью пользовался проект переброски северных рек на юг. Это один из самых грандиозных инженерных проектов советского времени, над которым трудились более 160 организаций СССР, в том числе 48 проектно-изыскательских и 112 научно-исследовательских институтов (в их числе 32 института Академии Наук СССР). И сегодня есть сторонники этой идеи, предлагающие «продавать» чистую воду сибирских рек Казахстану, Туркмении, Узбекистану.

Представьте, что проект был реализован и воды из рек Оби и Иртыша были направлены на юг. Учитывая принцип взаимосвязи региональных и глобальных процессов в географической оболочке, сформулируйте 7 географических следствий, которые неизбежно произошли бы в такой ситуации в гидрологическом и термическом режиме Арктики и Северной Америки. Перечислите предполагаемые географические следствия в порядке «от ближнего к далекому».  
*Максимальное количество баллов 12 баллов*

**Задание 2**

Вам предложены описания некоторых типов населенных пунктов, характерных для территории России. Определите названия этих типов населенных пунктов. Укажите районы распространения этих типов населенных пунктов.

№	Описание населенного пункта
1	Это сельский населенный пункт. Административная казачья сельская



**Задания муниципального этапа Всероссийской олимпиады школьников по географии 2021-2022  
учебный год 10-11 класс**

*Продолжительность олимпиады: 180 минут.  
Максимально возможное количество баллов: 90*

Код участника: \_\_\_\_\_

№	Описание населенного пункта
	единица, состоит из одного или нескольких казачьих поселений. По численности населения часто превышают небольшие города. Численность может достигать до 100 тыс. чел.
2	Малый населённый пункт, состоящий из одного, иногда нескольких домохозяйств; отдельная крестьянская усадьба с обособленным хозяйством. По мере расширения превращается в деревню, село и т.д. Основным занятием жителей этих поселений было, как правило, сельское хозяйство.
3	Традиционное поселение сельского типа, стойбище, община у тюркских народов, а также у других народов Средней Азии и Юга России. Зачастую, это укреплённое поселение. Дома строятся обычно из камня на горном склоне или у отвесной стены для защиты поселения от неожиданного нападения. Дома, как правило, одно-двухэтажные, расположены уступами, чтобы противник не смог добраться до них по дороге. Обычно дома обращены фасадом на юг, чтобы в зимнее время извлекать пользу от солнечного света и иметь защиту от холодных северных ветров. Находились в большей мере около пастбищ и источников воды, но иногда бывало и обратное. В одном из регионов России славянское население традиционно называет все населённые пункты сельского типа с нехристианским населением. Часто представляет собой деревню или село с квартальной или хаотической застройкой домами из сырцового или обожжённого кирпича (реже из дерева), с загонами для скота, хлевами, амбарами, колодцами, иногда с огородами и садами.
4	Тип населённого пункта, выделенный во времена СССР. По численности населения занимает промежуточное положение между городом и сельскими населёнными пунктами. До административно-территориальной реформы 1923-1929 годов такие населённые пункты назывались посадами. В отличие от сельских населённых пунктов, в таких поселениях основная часть населения (не менее 85 %) не должна быть занята в сельском хозяйстве. Часто в таких населённых пунктах было только одно главное (градообразующее) предприятие.



**Задания муниципального этапа Всероссийской олимпиады школьников по географии 2021-2022 учебный год 10-11 класс**

*Продолжительность олимпиады: 180 минут.  
Максимально возможное количество баллов: 90*

Код участника: \_\_\_\_\_

На бланке ответов составьте таблицу и впишите свои ответы.







*Пример таблицы*

Описание населенного пункта	Название	Районы распространения

*Максимальное количество баллов 12 баллов*

**Задание 3**

На приведенных рисунках вы видите изображения стран и рисунки, характеризующие эти страны.

		
(А)	(Б)	(В)
		
1	2	3

Впишите в пустые поля под каждым контуром название страны; под каждым рисунком – поясняющую подпись, что (или кто) на изображении. Впишите во вторую колонку таблицы номера рисунков так, чтобы образовались осмысленные пары «страна – рисунок». Поясните, почему вы так сделали.

На бланке ответов составьте таблицу и впишите свои ответы.

*Пример таблицы*



**Задания муниципального этапа Всероссийской олимпиады школьников по географии 2021-2022  
учебный год 10-11 класс**

*Продолжительность олимпиады: 180 минут.  
Максимально возможное количество баллов: 90*

Код участника: \_\_\_\_\_

Объект	Рисунок	Пояснение
А		
Б		
В		

*Максимальное количество баллов 12 баллов*

#### **Задание 4**

Обозначьте страны о которых идет речь.

1. Родина Олимпийских игр и марафонского бега.
2. «Молочная ферма» Европы.
3. Страна банкир.
4. Страна цветов.
5. Лесной цех Европы.
6. Государство – теократическая монархия.
7. Родина лыжного спорта.
8. Страна, самая многочисленная в мире.
9. В стране работает фабрика «Danone», выпускающая молочную продукцию.
10. Главная обувная фабрика Европы.
11. Пфальц является частью этой страны.
12. Гуинет является частью этой страны.

*Максимальное количество баллов 12 баллов*

#### **Задание 5**

Изучая демографические показатели стран мира, можно определить, что смертность населения в высокоразвитых странах при расчете на 1000 жителей выше, чем в развивающихся странах. Это объясняется разными причинами. Приведите не менее четырёх причин, повлиявших на такие показатели.

*Максимальное количество баллов 12 баллов*

#### **Задания тестового тура**

- Тестовый тур включает 30 заданий
- На выполнение всех заданий тестового тура отводится 60 минут
- Использование справочных материалов и карт не допускается



**Задания муниципального этапа Всероссийской олимпиады школьников по географии 2021-2022  
учебный год 10-11 класс**

*Продолжительность олимпиады: 180 минут.  
Максимально возможное количество баллов: 90*

Код участника: \_\_\_\_\_

- Задания тестового тура предполагают выбор одного правильного ответа из предложенных вариантов и задания на соответствие
- Правильный ответ оценивается в один балл
- Максимальное количество баллов за выполнение тестового раунда – 30

**1. Отметьте религию, которой придерживаются народы финно-угорской группы:**

- А) буддизм;
- Б) иудаизм;
- В) ислам;
- Г) православие.

**2. Укажите страну, в которой наиболее остро стоит проблема курдов:**

- А) Турция;
- Б) Азербайджан;
- В) Иран;
- Г) Израиль.

**3. Этот город возник и быстро рос благодаря внешним миграциям:**

- А) Дублин;
- Б) Веллингтон;
- В) Джакарта;
- Г) Стамбул.

**4. Укажите самые крупные городские агломерации Зарубежной Европы:**

- А) Рурская и Мадридская;
- Б) Парижская и Рурская;
- В) Лондонская и Парижская;
- Г) Мадридская и Лондонская.

**5. Общий признак для морей Беллинсгаузена, Содружества, Дейвиса, Сомова:**

- А) принадлежат бассейну Атлантического океана;
- Б) не замерзают в течение года;
- В) характерно множество коралловых островов и рифов;



Задания муниципального этапа Всероссийской олимпиады школьников по географии 2021-2022  
учебный год 10-11 класс

Продолжительность олимпиады: 180 минут.  
Максимально возможное количество баллов: 90

Код участника: \_\_\_\_\_

омывают берега одного материка.

**6. Самыми полноводными реками Земли являются Амазонка и Конго, т.к.:**

- А) долина рек находится на территории крупнейших равнин мира и сток у рек медленный;
- Б) густая растительность препятствует испарению, что увеличивает сток;
- В) приходящие на эти территории муссоны каждые полгода приносят много осадков;
- Г) реки в течение года получают большое количество осадков.

**7. Какой японский остров называют «силиконовым» из-за повышенной концентрации предприятий микроэлектроники:**

- А) Хонсю
- Б) Хоккайдо
- В) Сикоку
- Г) Кюсю

**8. Какой из этих Российских городов не имеет в названии слова «великий»?**

- А) Новгород
- Б) Луки
- В) Устюг
- Г) Псков

**9. Выделите страну с самой высокой долей городского населения среди перечисленных:**

- А) Великобритания
- Б) Франция
- В) ФРГ
- Г) Финляндия

**10. Хамсин – это название:**

- А) народа;
- Б) ветра;
- В) реки;



Задания муниципального этапа Всероссийской олимпиады школьников по географии 2021-2022  
учебный год 10-11 класс

Продолжительность олимпиады: 180 минут.  
Максимально возможное количество баллов: 90

Код участника: \_\_\_\_\_

Г) горы.

**11. На берегах какой российской реки расположено самое большое количество городов-миллионеров?**

- А) Волга
- Б) Иртыш
- В) Нева
- Г) Москва

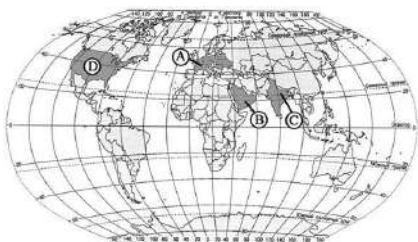
**12. Какие экономические районы соединяет магистраль Челябинск – Иркутск-Хабаровск - Владивосток:**

- А) Уральский – Восточно-Сибирский
- Б) Центральный и Сибирский
- В) Уральский – Дальневосточный
- Г) Уральский и Приморский

**13. Путешественник, совершив в Африке перелет по маршруту Каир – водопад Виктория, переместится:**

- А) из зоны саванн в зону пустынь;
- Б) из зоны саванн в зону влажных экваториальных лесов;
- В) из зоны пустынь в зону саванн;
- Г) из зоны пустынь в зону жестколистных лесов и кустарников.

**14. Имеет наименьшую плотность населения территория, обозначенная на карте:**



- А) А;
- Б) В;



**Задания муниципального этапа Всероссийской олимпиады школьников по географии 2021-2022  
учебный год 10-11 класс**

*Продолжительность олимпиады: 180 минут.  
Максимально возможное количество баллов: 90*

Код участника: \_\_\_\_\_

- В) С;
- Г) D.

**15. Выберите территорию, где ускорение Кориолиса будет наибольшим:**

- А) остров Баффинова Земля;
- Б) полуостров Лабрадор;
- В) Тибет;
- Г) остров Шри-Ланка.

**16. Единственный материк, на котором встречается растение виктория-регия - это:**

- А) Африка;
- Б) Австралия;
- В) Южная Америка;
- Г) Евразия

**17. Укажите народ, не относящийся к уральской языковой семье:**

- А) мордва;
- Б) марийцы;
- В) хакасы;
- Г) коми

**18. Выберите верное утверждение о рельефе Евразии:**

- А) самая низкая точка Евразии находится на Прикаспийской низменности;
- Б) самая большая и плоская равнина Евразии – Великая Китайская равнина;
- В) Ключевская Сопка – самый высокий действующий вулкан Евразии;
- Г) территория Европы имеет большие абсолютные высоты, чем территория Азии.

**19. Самая плотно населенная аграрная страна в мире – это:**

- А) Бельгия
- Б) Нидерланды
- В) Бангладеш
- Г) Япония





Задания муниципального этапа Всероссийской олимпиады школьников по географии 2021-2022  
учебный год 10-11 класс

Продолжительность олимпиады: 180 минут.  
Максимально возможное количество баллов: 90

Код участника: \_\_\_\_\_

**20. Какие народы не имеют своих национально-территориальных образований в России:**

- А) калмыки
- Б) чукчи
- В) удмурты
- Г) корейцы

**21. В каком регионе России наиболее остро стоит проблема водоснабжения:**

- А) Московская обл.
- Б) Средний и Южный Урал
- В) Красноярский край
- Г) Архангельская обл.

**22. В РФ мельчайшим называется сельское поселение, если в нём проживает:**

- А) до 20 жителей;
- Б) до 50 жителей;
- В) до 70 жителей;
- Г) до 100 жителей.

**23. Наибольшая доля энергии (76,9%) вырабатывается на АЭС в энергосистеме**

- А) Германии;
- Б) Польши;
- В) Франции;
- Г) Хорватии.

**24. Страна, которая в последние десятилетия притягивает большое количество трудовых мигрантов:**

- А) Турция;
- Б) Ирак;
- В) Парагвай;
- Г) Кувейт.



Задания муниципального этапа Всероссийской олимпиады школьников по географии 2021-2022  
учебный год **10-11 класс**

Продолжительность олимпиады: 180 минут.  
Максимально возможное количество баллов: 90

Код участника: \_\_\_\_\_

**25. Выберите верное соответствие: объект Всемирного культурного наследия ЮНЕСКО – страна, в которой он расположен:**

- А) доиспанский город Чичен-Ица – Гватемала;
- Б) монастыри Метеоры – Болгария;
- В) храмовый комплекс Боробудур – Индонезия;
- Г) город Куско – Боливия.

**26. Не родственен остальным трем языкам язык:**

- А) датский;
- Б) норвежский;
- В) финский;
- Г) шведский.

**27. Не имеет шлюзов канал:**

- А) Кильский;
- Б) Панамский;
- В) Речной путь Св. Лаврентия;
- Г) Суэцкий.

**28. Отметьте религию, которой придерживаются народы финно-угорской группы:**

- А) буддизм
- Б) иудаизм
- В) ислам
- Г) православие

**29. В каком регионе России имеется наибольшая потребность в осушительных мелиорациях:**

- А) Московская обл.
- Б) Север Западной Сибири
- В) Архангельская обл.
- Г) Красноярский край



**Задания муниципального этапа Всероссийской олимпиады школьников по географии 2021-2022  
учебный год 10-11 класс**

*Продолжительность олимпиады: 180 минут.  
Максимально возможное количество баллов: 90*

Код участника: \_\_\_\_\_

**30. Какой регион России в наибольшей степени пострадал от аварии на  
Чернобыльской АЭС:**

- А) Брянская область
- Б) Воронежская
- В) Смоленская область
- Г) Орловская область