

**Задания для обучающихся**

Общее время выполнения заданий тестового и теоретического туров - 180 минут

Максимальное количество баллов за выполнение заданий тестового и теоретического туров –  
100 баллов

**ТЕСТОВЫЙ ТУР**

**Время выполнения заданий - 60 минут**

**Максимальный балл за все задания – 28 баллов**

**1. Затопленное водами моря расширенное устье реки, превратившееся в залив, чаще отделенное от моря широкой косой, может сопровождаться образованием озер, обычно богатых целебными грязями**

- |           |           |
|-----------|-----------|
| А) фьорд  | В) лиман  |
| Б) гавань | Г) дельта |

**2. Выберите вариант, где перечислены острова, которые разделены между несколькими государствами.**

- |                               |                                        |
|-------------------------------|----------------------------------------|
| А) Ирландия, Шри-Ланка, Ява   | В) Тимор, Калимантан, Исландия         |
| Б) Сент-Мартен, Корсика, Кипр | Г) Гаити, Огненная Земля, Новая Гвинея |

**3. Расстояние от села Сухое до села Аксеновка по прямой 5500 м. Соответствующий отрезок на карте равен 110 мм. Определите масштаб карты.**

- |            |            |
|------------|------------|
| А) 1:55000 | В) 1:6050  |
| Б) 1:500   | Г) 1:50000 |

**4. Назовите аллювиальную равнину:**

- |            |                              |
|------------|------------------------------|
| А) Полесье | В) Прикаспийская низменность |
| Б) Мещёра  | Г) Великая Китайская равнина |

**5. Аравийская пустыня находится в :**

- |            |              |
|------------|--------------|
| А) Ливии   | В) Иране;    |
| Б) Египте; | Г) Пакистане |

**6. Выберите тройку государств — крупнейших мировых производителей электроэнергии.**

- А) Китай, США, Индия;
- В) Китай, США, Германия;
- Б) Китай, Россия, Канада;
- Г) Бразилия, Индия, Вьетнам.

**7. Аналогом Гольфстрима в Тихом океане является течение:**

- А) Северо-Пассатное;
- В) Куроисио;
- Б) Северо-Тихоокеанское;
- Г) Западных ветров.

**8. Укажите город России, расположенный в области муссонного климата**

- А) Калининград
- В) Владивосток
- Б) Омск
- Г) Севастополь

**9. Найдите соответствие между столбцами, сопоставив современные названия городов с названиями, которые они носили в эпоху Советского Союза:**

- |                    |               |
|--------------------|---------------|
| 1) Нижний Новгород | А) Горький    |
| 2) Тверь           | Б) Куйбышев   |
| 3) Самара          | В) Свердловск |
| 4) Екатеринбург    | Г) Калинин    |

**10. Выберите правильное утверждение.**

- А) По данным переписи 2010 г. доля людей пенсионного возраста составляет 18 % населения России.
- Б) Процесс депопуляции в России начался только в начале XXI в.
- В) В половой структуре населения России преобладают мужчины.
- Г) Средний возраст населения России составляет 25 лет.

**11. Выберите верное название прибора**



- А) курвиметр  
Б) глазомер
- В) нивелир  
Г) анемометр- дальномер

**12. Выберите страны бывшие колониальные владения Франции**

- А) Индия  
Б) Цейлон
- В) Бахрейн  
Г) Тунис

**13. Выберите из списка города, в которых расположены крупнейшие автомобильные заводы в России:**

- А) Рязань, Ульяновск, Нижний Новгород, Тольятти  
Б) Ульяновск, Набережные Челны, Тольятти, Казань  
В) Воронеж, Нижний Новгород, Хабаровск, Тольятти  
Г) Ульяновск, Набережные Челны, Нижний Новгород, Тольятти

**14. У какого из перечисленных народов традиционный тип жилища называется ярангой?**

- А) ненцы;  
Б) чукчи;
- В) марийцы;  
Г) удмурты.

**15. Выберите из списка месторождение, расположенные на арктическом шельфе России, где ведется добыча углеводородов**

- А) Сургутское;  
Б) Приразломное;
- В) Березовское;  
Г) Медвежье.

**16. Наука, изучающая закономерности воспроизводства населения, называется**

- А) антропологией  
Б) демографией
- В) этнографией  
Г) урбанистикой

**17. Выберите верное утверждение о химической промышленности России.**

- А) Крупнейшие центры нефтехимической промышленности и производства полимеров сформировались в Поволжье.  
Б) В состав горнохимической промышленности входит добыча солей, фосфорсодержащего сырья, нефти и природного газа, серы.

В) Комбинирование в химической промышленности основано на комплексной переработке сырья.

Г) Центральная химическая база функционирует на собственном сырье.

**18. Какие страны входят в первую десятку в мировом рейтинге по плотности населения?**

А) Бахрейн, Бангладеш, Монако, Барбадос

Б) Вьетнам, Пакистан, Непал, Люксембург

В) Индия, Япония, Бельгия, Израиль

Г) Сан-Марино, Южная Корея, Ливан, Нидерланды

**19. Укажите на ошибку в названии субъектов Российской Федерации, по территории которых проходят важнейшие речные судоходные каналы страны.**

А) Волго-Балтийский – Вологодская область

Б) Беломорско-Балтийский – Республика Карелия

В) Волго-Донской – Ростовская область

Г) канал имени Москвы – Московская и Тверская области.


**20. Определите климат каких районов Африки характеризует климатограмма:**

А) Бассейн реки Конго

Б) побережье Драконовых гор

В) Средиземноморское побережье

Г) пустыня Намиб



**21. Исторически сложившаяся на определенной территории устойчивая общность людей (племя, народность, нация), обладающая совокупностью следующих признаков: единством территории и языка; общими особенностями культуры, религии, быта; сознанием своего единства, которое выражается в самоназвании.**

А) цивилизация

В) этнос

Б) народ

Г) раса

**22. США, Китай, Россия, Австралия, Индия – это страны - лидеры по запасам полезного ископаемого:**

- А) железная руда  
Б) бокситы  
В) медные руды  
Г) уголь

**23. Определите принцип, по которому сгруппированы следующие страны: Азербайджан, Бахрейн, Иран, Ирак.**

- А) Большинство населения этих стран исповедуют одну религию;  
Б) Страны имеют схожие показатели плотности населения;  
В) Страны имеют равные показатели урбанизации;  
Г) Титульные народы относятся к одной языковой семье.

**24. Выберите пару животных, которые могут встречаться в одной естественной среде обитания**

- А) белый носорог и большая панда  
Б) шиншилла и лама  
В) окапи и гризли  
Г) вомбат и бизон

**25. Укажите район Омской области, не имеющий выхода к реке Иртыш**

- А) Горьковский  
Б) Шербакульский  
В) Таврический  
Г) Черлакский

### **ТЕОРЕТИЧЕСКИЙ ТУР**

**Время выполнения заданий практического тура - 120 минут**

**Максимальное количество баллов за практический тур – 72 баллов**

#### **Задача 1.**

Перед вами таблица, в которой представлены характеристики, отражающие развитие электроэнергетики в пяти странах мира: Китае, Канаде, Германии, Франции, Саудовской Аравии.

Таблица 1.

Структура производства электроэнергии по типам электростанций в лидирующих странах (2018 г),%

Страна	ТЭС на угле	Нефтяные ТЭС	Газовые ТЭС	АЭС	ГЭС	ВИЭ
А	67	0	3	4	18	8
Б	8	1	10	16	59	6
В	35	1	12	11	4	37
Г	2	1	5	71	12	9
Д	0	36	64	0	0	0

ВИЭ – возобновляемые источники энергии

Определите, какие страны зашифрованы в таблицы и заполните бланк ответа. Обоснуйте свой ответ, ответив на вопрос: Почему в данной стране складывается такая структура выработки электроэнергии?

Напишите четыре страны, для которых характерно преобладание такого же типа электростанций, что и у страны Г.

*Ответы занесите в бланк ответов.*

**Максимальное количество баллов за задание – 12.**

### Задача 2.

Кладовой самых разных богатств, которыми располагает человечество признают ученые Мировой океан. Среди **природных ресурсов Мирового океана выделяют:** бентос, волны, железомарганцевые конкреции, зоопланктон, йод, кислород, нектон, нефть, океанические течения, поваренная соль, пресная вода, приливы, природный газ, температурный градиент вод, фитопланктон, янтарь.

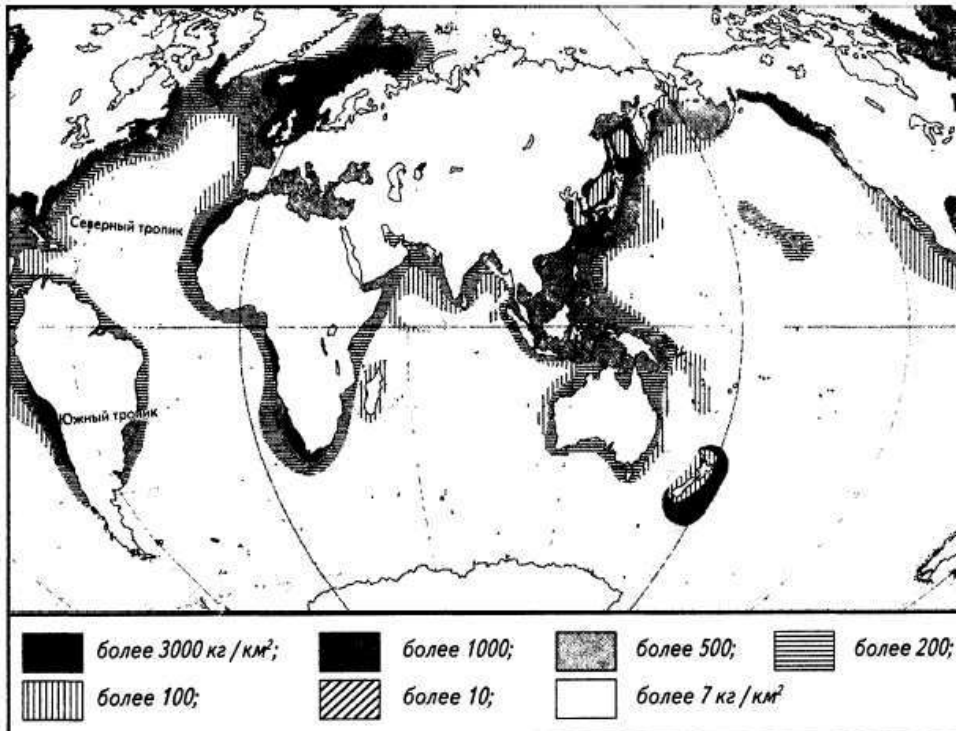
В представленном списке **распределите** природные ресурсы Мирового океана **на четыре группы (в каждой группе должно получиться по 4 наименования)**, определите, к какому типу по степени исчерпаемости относится каждая группа природных ресурсов.

Внимательно изучите картосхему и ответьте на дополнительные вопросы:

2.1) Размещение какого природного ресурса изображено на картосхеме?

2.2) Какой показатель использован для характеристики размещения данного природного ресурса?

2.3) Назовите пять примеров главных акваторий распространения природного ресурса



Ответы занесите в бланк ответов

**Максимальное количество баллов за задание – 15.**

### Задача 3.

Ниже перечислены объекты и явления, характерные для трех регионов России. Определите регион и укажите объекты и явления, относящиеся к каждому природному региону:

*Ненцы, Бырранга, баргузин, голомянка, муссон, сопки, озы, женьшень, Котлас, Балтийский щит, плато Путорана, Камчатка, селенга, Карелия, Сахалин, Печора, култук, Амур.*

**Дополнительные вопросы:**

**Перечислите проблемы самого западного и самого восточного регионов ( 5 проблем на каждый регион ).** Ответы занесите в бланк ответов

**Максимальное количество баллов за задание: 17.**

**Задача 4.**

В *бланке ответов* представлена таблица, содержащая сведения об административно-политическом устройстве стран мира, в которой есть пропуски. Заполните пропуски в таблице и ответьте на вопросы:

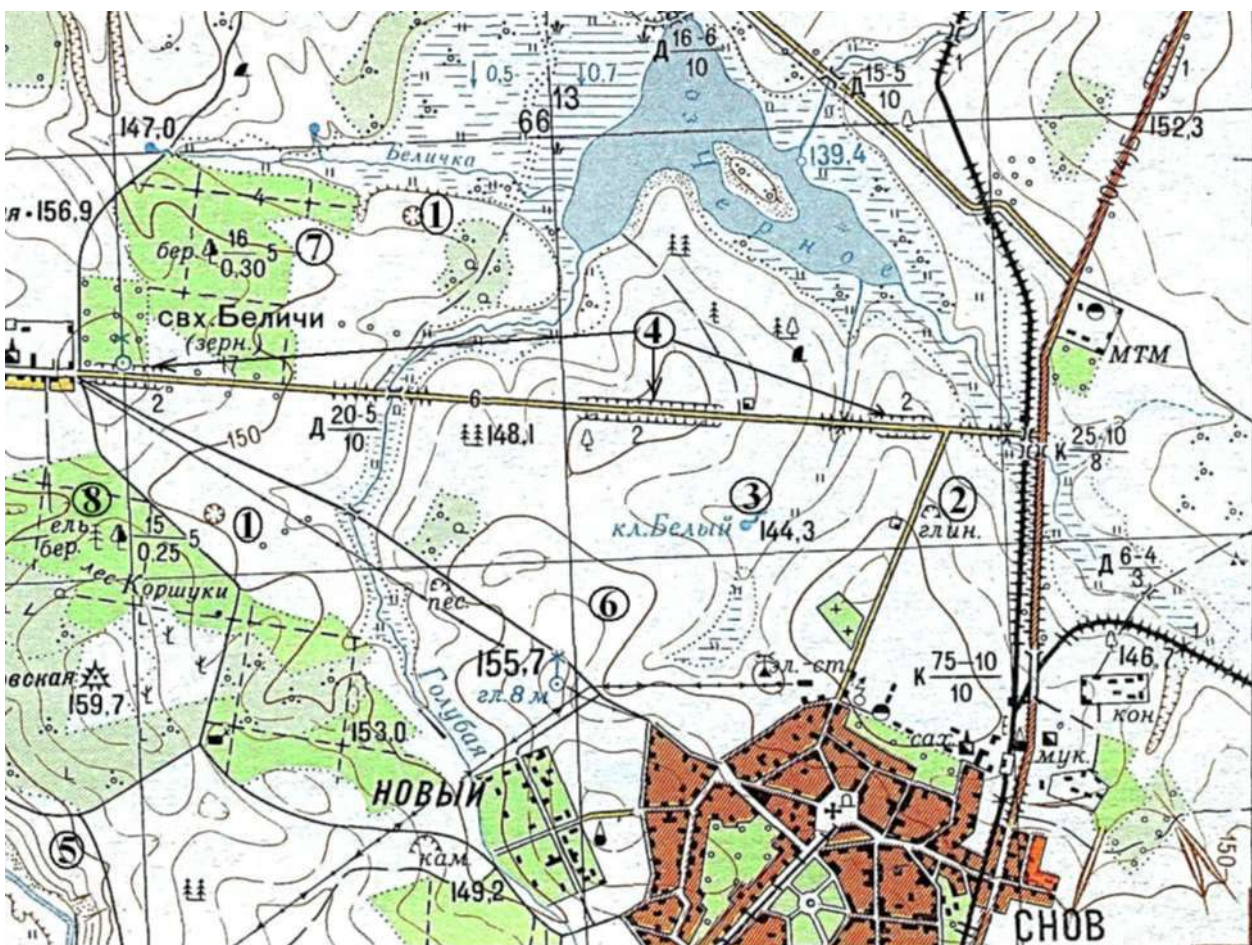
4.1. В какую организацию входят перечисленные страны?

4.2. Заполните таблицу «Этапы становления международной организации «\_\_\_\_\_»»

**Максимальное количество баллов за вопрос: 12**

**Задача 5.**

Вашему вниманию представляется фрагмент топографической карты участка местности. Необходимо его изучить и ответить на ряд вопросов. Результаты своего картографического исследования необходимо оформить в предложенной таблице в *бланке ответов*.



**Максимальное количество баллов за задание -16**