

ВСЕРОССИЙСКАЯ ОЛИМПИАДА ШКОЛЬНИКОВ ПО ГЕОГРАФИИ
Муниципальный этап, 2022-2023 учебный год
10 класс

Уважаемый участник олимпиады!

Вам предстоит выполнить теоретические (письменные) и тестовые задания, на выполнение которых отводится **180 минут** (тестовые задания - **60 минут**, теоретические задания - **120 минут**)

Выполнение **тестовых заданий** целесообразно организовать следующим образом:

- не спеша, внимательно прочитайте тестовое задание;
- определите, какой из предложенных вариантов ответа наиболее верный и полный;
- напишите букву, соответствующую выбранному Вами ответу в бланк ответов;
- продолжайте, таким образом, работу до завершения выполнения тестовых заданий;
- после выполнения всех предложенных заданий еще раз удостоверьтесь в правильности ваших ответов;
- если потребуется корректировка выбранного Вами ответа, то неправильный вариант ответа зачеркните крестиком, и рядом напишите новый.

Предупреждаем Вас, что:

- при оценке тестовых заданий, где необходимо определить один правильный ответ, 0 баллов выставляется за неверный ответ и в случае, если участником отмечены несколько ответов (в том числе правильный), или все ответы;
- при оценке тестовых заданий, где необходимо определить все правильные ответы, 0 баллов выставляется, если участником отмечены неверные ответы, большее количество ответов, чем предусмотрено в задании (в том числе правильные ответы) или все ответы.

Выполнение **теоретических (письменных) заданий** целесообразно организовать следующим образом:

- не спеша, внимательно прочитайте задание и определите, наиболее верный и полный ответ;
- отвечая на теоретические вопросы и выполняя практические задания, обдумайте и сформулируйте конкретный ответ только на поставленный вопрос;
- если Вы отвечаете на задание, связанное с заполнением таблицы или схемы, не старайтесь детализировать информацию, вписывайте только те сведения или данные, которые указаны в вопросе;
- особое внимание обратите на задания, в выполнении которых требуется выразить Ваше мнение с учетом анализа ситуации или поставленной проблемы. Внимательно и вдумчиво определите смысл вопроса и логику ответа (последовательность и точность изложения). Отвечая на вопрос, предлагайте свой вариант решения проблемы, при этом ответ должен быть кратким, но содержать необходимую информацию;
- после выполнения всех предложенных заданий еще раз удостоверьтесь в правильности выбранных Вами ответов и решений.

Задание теоретического тура считается выполненным, если Вы вовремя сдаете его членам жюри.

Максимальное количество баллов – 122

ВСЕРОССИЙСКАЯ ОЛИМПИАДА ШКОЛЬНИКОВ ПО ГЕОГРАФИИ
Муниципальный этап, 2022-2023 учебный год
10 класс

Время выполнения — 180 минут

Максимальное количество баллов – 122

Использовать атласы и справочные материалы не разрешается. Можно пользоваться линейками, транспортирами, непрограммируемыми калькуляторами.

ТЕСТОВЫЙ ТУР (29 баллов)

1. Подберите пару: понятие – определение

- | | |
|---|--------------------|
| 1) сокращение численности населения в стране | а) смертность |
| 2) въезд людей в страну | б) депопуляция |
| 3) количество умерших на 1000 жителей за год | в) воспроизводство |
| 4) постоянное возобновление и смена поколений людей | г) иммиграция |

2. Укажите страну, которая обладает запасами геотермальной энергии

- а) Франция б) Индия в) Исландия г) Австралия

3. Сколько субъектов насчитывается в России на сегодняшний день?

- а) 83 б) 67 в) 89 г) 91

4. Каким основным материалом покрывают изделия знаменитой ростовской финифти?

- а) эмалью б) акварелью в) лаком г) темперой

5. Что в России называется городом?

- а) населенный пункт с числом жителей 12 тыс. чел.
б) населенный пункт с числом жителей более 20 тыс. чел., из которых не более 50% заняты сельскохозяйственным трудом
в) населенный пункт с числом жителей более 1 тыс. чел., из которых 100% заняты несельскохозяйственным трудом
г) населенный пункт с числом жителей более 12 тыс. чел., из которых более 85% заняты несельскохозяйственным трудом

6. Какой вид природных ресурсов относится к исчерпаемым возобновляемым?

- а) минеральные б) энергия ветра в) лесные г) энергия морских течений

7. Какой из перечисленных народов относится к числу коренных народов Европейского Севера России?

- а) коми б) башкиры в) чуваша г) удмурты

8.Какая из этих европейских стран не имеет выхода к морю

- а) Франция б) Бельгия в) Люксембург г) Португалия

9. ¼ границ Швейцарии проходят именно по этим горам:

- а) Карпаты б) Скандинавские в) Альпы г) Пиренеи.

10. Укажите, между какими расами самбо являются промежуточной группой:

- а) между негроидной и монголоидной в) между европеоидной и австралоидной
б) между европеоидной и монголоидной г) между негроидной и европеоидной

11. Какой народ, живущий в европейской части России, исповедует буддизм?

- а) буряты б) калмыки в) тувинцы г) татары

12.Производство алюминия сосредоточено в основном в странах, где есть

- а) бокситы + дешевая электроэнергия
б) бокситы + дешевое топливо
в) сфалерит + дешевое топливо
г) магнетит + дешевая электроэнергия

13. Как называется культовое сооружение у иудеев?

- а) мечеть; в) церковь; б) синагога; г) пагода

14.В какой стране главой государства является князь:

- а) Иран б)Ватикан в)Израиль г) Лихтенштейн.

15.Единственный морской заповедник в России расположен:

- а) на Дальнем Востоке б) в Красноярском крае в) на Кавказе г) в Калининградской обл.

16.Через какое озеро проходит государственная граница России:

- а) Ладожское б) Ханка в) Онежское г) Ильмень.

17.Какой хребет находится не на материке, а на полуострове:

- а) Становой б) Верхоянский в) Яблоновый г) Срединный.

**18.Какова географическая долгота пункта, если его местное время опережает
Гринвичское на 1 час?**

- а) 15⁰ з.д. б) 15⁰ в.д. в) 35⁰ з.д. г) 35⁰ в.д.

19. Добыча нефти – отрасль международной специализации

- а) Венесуэлы, Нигерии в) Марокко, Эфиопии
б) Швеции, Австрии г) Польши, Болгарии

**20. Какое из перечисленных государств по форме правления является
абсолютной монархией?**

- а) Великобритания б) Япония в) Саудовская Аравия г) Нидерланды

21.Укажите в предложенном списке страну “переселенческого капитализма”:

а) США б) Бразилия в) Аргентина г) ЮАР

22. Первая пятерка стран по численности населения выглядит следующим образом:

а) Индия, Китай, США, Индонезия, Бразилия

б) Китай, Индия, США, Индонезия, Пакистан

в) Китай, Индия, США, Пакистан, Бангладеш

г) Китай, Индия, США, Индонезия, Бразилия

23. Какая страна из перечисленных никогда не имела колониального статуса?

а) Бруней б) Вьетнам в) Индия г) Таиланд

24. Установите соответствия: «пара географических объектов – пролив между ними».

- | | |
|-----------------------------|-------------|
| 1) Гренландия – Исландия | А) Датский |
| 2) Чукотка – Аляска | Б) Берингов |
| 3) Южная Америка-Антарктида | В) Кука |
| 4) Северный – Южный | Г) Лаперуза |
| 5) Суматра – Ява | Д) Дрейка |
| б) Сахалин- Хоккайдо | Е) Зондский |

25. Вставьте пропущенные сведения:
















Франция, как и ФРГ, имеет _____ форму правления, но отличается от нее _____ государственным устройством.

№	ответ	№	ответ
1		14	
2		15	
3		16	
4		17	
5		18	
6		19	
7		20	
8		21	
9		22	
10		23	
11		24	
12		25	
13			

Аналитический тур (93 балла)

Задание № 1 (15 баллов)

Подпишите названия полезных ископаемых в соответствии с условными знаками.:

Задание №2 (14 баллов)

Представьте, что Вы путешествуете по Транссибирской железнодорожной магистрали (Транссиб) с запада на восток. Расставьте города, которые Вы посетите по ходу движения. К каким субъектам Российской Федерации и экономическим районам они относятся? Ответы на вопросы запишите в таблицу.

Города, в которых Вы побываете: *Абакан, Ярославль, Чита Екатеринбург, Биробиджан, Новосибирск.*

№	Город	Субъект РФ	Экономический район
1.			
2.			
3.			
4.			
5.			
6.			

Задание № 3 (30 баллов)

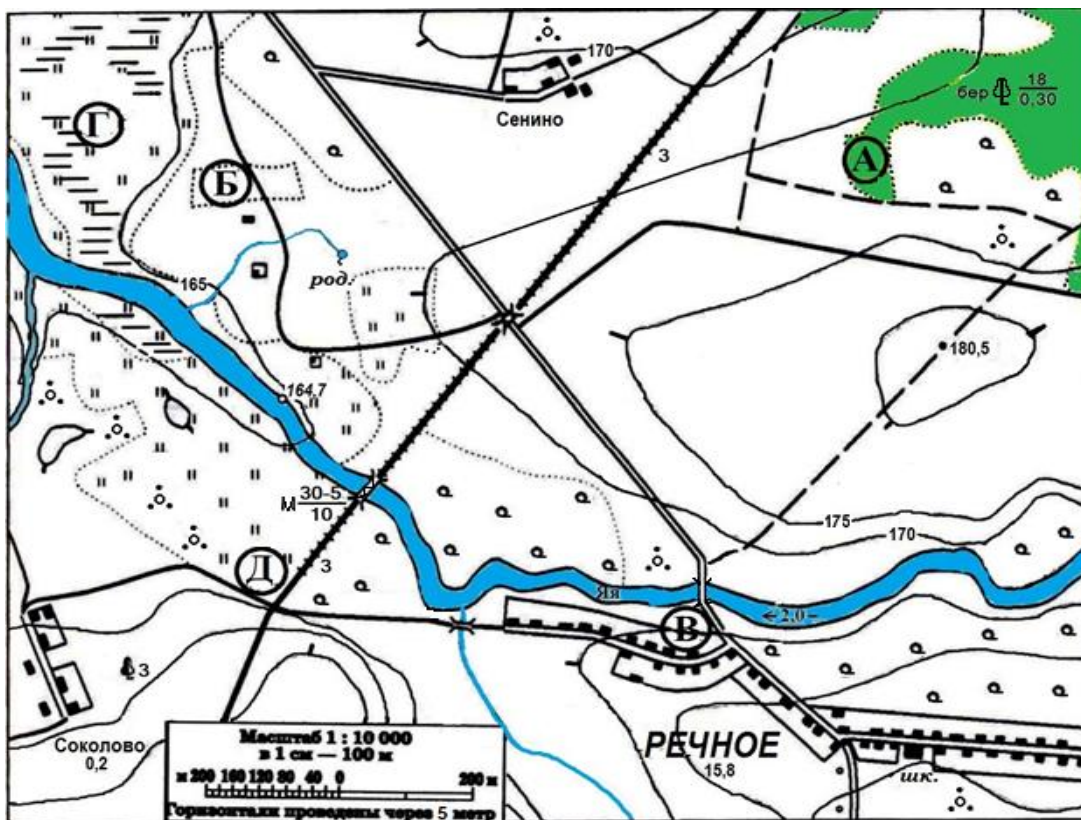
Определите название стран по словесным ассоциациям, характеризующим их. Назовите столицы этих государств.

Например: Версаль, Лувр, «Три мушкетера» - Франция- Париж

<i>№</i>	<i>Ассоциативные характеристики</i>	<i>Страна</i>	<i>Столица</i>
1.	Кино, муссон, раджа, баньян		
2.	Самум, Осирис, дельта, сфинкс		
3.	Атакама, селитра, о.Пасхи, песо		
4.	Династия Габсбургов, Союз трех императоров, турецкая осада, собор Святого Стефана		
5.	Алмазы, пустыня туманов, гигантские дюны, вельвичия		
6.	Кофе, Абиссинское нагорье, Голубой Нил, марафонец Абебе Бикила		
7.	Штаты, доллар, оз.Эйр, Большая пустыня Виктория		
8.	Гевея, Патрис Лумумба, племя пигмеев, экватор		
9.	Голубая мечеть, Измир, ангорская шерсть, османы		
10.	Древнейшее государство Европы, гора Монте-Титано, капитан-регент, туризм		
11.	Хрусталь, Карлов мост, фирма «Батя», Орлой		
12.	Санта-Клаус, «озерный край», северные олени, Лапландия		
13.	Оливки, Спарта, лира, Акрополь		
14.	Тюльпаны, буржуазная революция, дамбы, Ван Гог		
15.	Тайга, блины, танец «Барыня», природный газ		

Задание № 4 (13 баллов)

Для выполнения задания используйте топографическую карту.



На предложенном фрагменте топографической карты буквами в кружках отмечены места, где нужно разместить:

- 1) Вертолетную площадку площадью 1 гектар при разнице высот не более 1 м.
- 2) Домик лесника.
- 3) Колодец.
- 4) Железнодорожную станцию.

5.1 Укажите в таблице точку, объект и объясните, почему в каждом случае вы выбрали именно это место.

5.2 Какой процесс происходит в точке Г? Запишите в таблицу.

Точка	Объект	Объяснение

Г	Процесс -	

Задание № 5 (21 балл)

6.1 Определите по иллюстрациям типы электростанций и подпишите названия.

Ответьте на вопросы.



1 _____



2 _____



3 _____



4 _____



5 _____



6 _____

6.2 Электростанции какого типа вырабатывают большую часть электроэнергии в России?

6.3 Какие типы электростанций наиболее экологичные?

6.4 Какие типы электростанций есть в Камчатском крае? Назовите их.

