

Уважаемый участник олимпиады!

Шифр _____

Вам предстоит выполнить теоретические задания.
Время выполнения заданий теоретического тура 120 минут.

Теоретический тур – 55 баллов.

Тестовый тур – 20 баллов.

Максимальное количество –75 баллов.

Выполнение теоретических заданий целесообразно организовать следующим образом:

- не спеша, внимательно прочитайте задание и определите, наиболее верный и полный ответ;

- отвечая на теоретические вопросы и выполняя практические задания, обдумайте и сформулируйте конкретный ответ только на поставленный вопрос;

- если вы отвечаете на задание, связанное с заполнением таблицы или схемы, не старайтесь детализировать информацию, вписывайте только те сведения или данные, которые указаны в вопросе;

- особое внимание обратите на задания, в выполнении которых требуется выразить ваше мнение с учетом анализа ситуации или поставленной проблемы. Внимательно и вдумчиво определите смысл вопроса и логику ответа (последовательность и точность изложения).

Отвечая на вопрос, предлагайте свой вариант решения проблемы, при этом

ответ должен быть кратким, но содержать необходимую информацию;

- после выполнения всех предложенных заданий еще раз удостоверьтесь в правильности выбранных вами ответов и решений.

Выполнение тестовых заданий целесообразно организовать следующим образом:

- не спеша, внимательно прочитайте тестовое задание;

- определите, какой из предложенных вариантов ответа наиболее верный и полный;

- напишите букву, соответствующую выбранному вами ответу;

- продолжайте таким образом работу до завершения выполнения тестовых заданий;

- после выполнения всех предложенных заданий еще раз удостоверьтесь в правильности ваших ответов;

- если потребуется корректировка выбранного вами варианта ответа, то неправильный вариант ответа зачеркните крестиком и рядом напишите новый.

Предупреждаем вас, что:






- при оценке тестовых заданий, где необходимо определить один правильный ответ, 0 баллов выставляется за неверный ответ и в случаях, если участником отмечены несколько ответов (в том числе правильный), или все ответы;

- при оценке тестовых заданий, где необходимо определить все правильные ответы, 0 баллов выставляется, если участником отмечены неверные ответы, или большее количество ответов, чем предусмотрено в задании (в том числе правильные ответы), или все ответы.

№ задания	Максимальный балл	Набранный балл	Подпись проверяющего
1	15		
2	10		
3.1	5		
3.2	5		
4	5		
5	15		
Сумма	55		

ТЕОРЕТИЧЕСКИЙ ТУР

Задание 1. На купюрах некоторых стран изображены животные. Назовите эти страны, их денежные единицы. Ответьте на дополнительные вопросы.

Изображение	Страна	Денежная единица	Дополнительный вопрос
			<p>Какое озеро является крупнейшим для данной страны? Ответ:</p>
			<p>Какой язык является официальным в данной стране? Ответ:</p>
			<p>Высшая точка этой страны. Ответ:</p>
			<p>Что такое «тряснка»? Ответ:</p>
			<p>Как называется традиционная женская одежда? Ответ:</p>

Каждая правильно заполненная ячейка – 1 балл.
Максимально: 15 баллов.

Задание 2. Определите названия стран А, Б, В, которым соответствует следующие характеристики:

- страна А не имеет выхода к морю. Столица не самый крупный город страны.

Половина электроэнергии вырабатывается на ГЭС. Поддерживает постоянный политический нейтралитет;

- столица страны Б — крупнейший порт страны. Имеет монархическую форму правления. Развита добыча нефти, угля, хорошо развито машиностроение.

- страна В — в прошлом центр одной из крупнейших колониальных империй мира. На языке этой страны говорит население двух десятков государств. Центральный район страны, где расположена столица, относится к числу отстающих в экономическом развитии районов страны. Конституционная монархия;

- страны А, Б, В находятся в одной части света.

Прочитайте дополнительные характеристики стран и определите, какие из них будут относиться к определённым вами странам.

1) Французский язык был официальным в этой стране в течение 300 лет.

2) Официальная столица государства — географический центр страны. В столице находится площадь Пуэрта-дель-Соль, которая является также центром государства и радиальной дорожной системой.

3) Страна — одна из двух государств, имеющих квадратный флаг

4) В стране насчитывается более 1 500 озер, и в пределах страны человек никогда не находится более чем в 10 милях (16 км) от озера.

5) Столица этой страны — первый город, в котором появился метрополитен.

6) В стране 45 объектов, которые попали в список всемирного наследия ЮНЕСКО.

Буквенное обозначение страны	Название страны	Номера дополнительных характеристик
А		
Б		
В		
Баллы	Итого:	Итого:

Какая из этих стран является родиной пехотного танка Matilda Mk II?

Ответ: _____ (1 балл)

Максимально: 10 баллов.

Задание 3.1. Ученица 9 класса получила задание подготовить сообщение по теме «Урбанизация в России». Выбери 3 правильные предложения, которые могут быть использованы в сообщении. Поясните, в чем ошибочность ложных высказываний.

1. В таких городах, как Екатеринбург, Нижний Тагил, Новосибирск расположены крупные заводы тяжелого машиностроения.

2. С 2010 по 2018 г. в общей численности населения России доли городского и сельского населения составляли 74% и 26% соответственно.
3. В России число агломераций-миллионеров к 2010 г. достигло 19.
4. В скандинавских сагах Древнюю Русь называли Гардарикой.
5. В 2018 г. среди всех въехавших в Россию в целях смены места жительства около 90% составляли жители других стран СНГ.

Ответ

Правильные предложения:

Ошибочные суждения и пояснения их ошибочности:

Каждое правильное предложение – 1 балл.

Каждое верное пояснение ложного высказывания – 2 балла.

Максимально: 5 баллов.

Задание 3.2. Выберите 3 предложения, в которых приводится верная информация о Европейском Союзе. Поясните, в чем ошибочность ложных высказываний.

1. Совет Европы — это законодательный орган ЕС.
2. Евразийское экономическое сообщество было преобразовано в ЕС в 2015 году.
3. Благодаря интеграции, страны ЕС сформировали единое экономическое пространство со свободным перемещением товаров, капиталов, услуг, технологий, рабочей силы.
4. Первым шагом к созданию ЕС было подписание Договора об учреждении Европейского объединения угля и стали.
5. Европейский парламент располагается в городе Страсбурге.

Ответ

Правильные предложения:

Ошибочные суждения и пояснения их ошибочности:

Каждое правильное предложение – 1 балл.

Каждое верное пояснение ложного высказывания – 2 балла.

Максимально: 5 баллов.

Задание 4. Выбери из списка слова, которые могут быть использованы в рассказе о Японии.

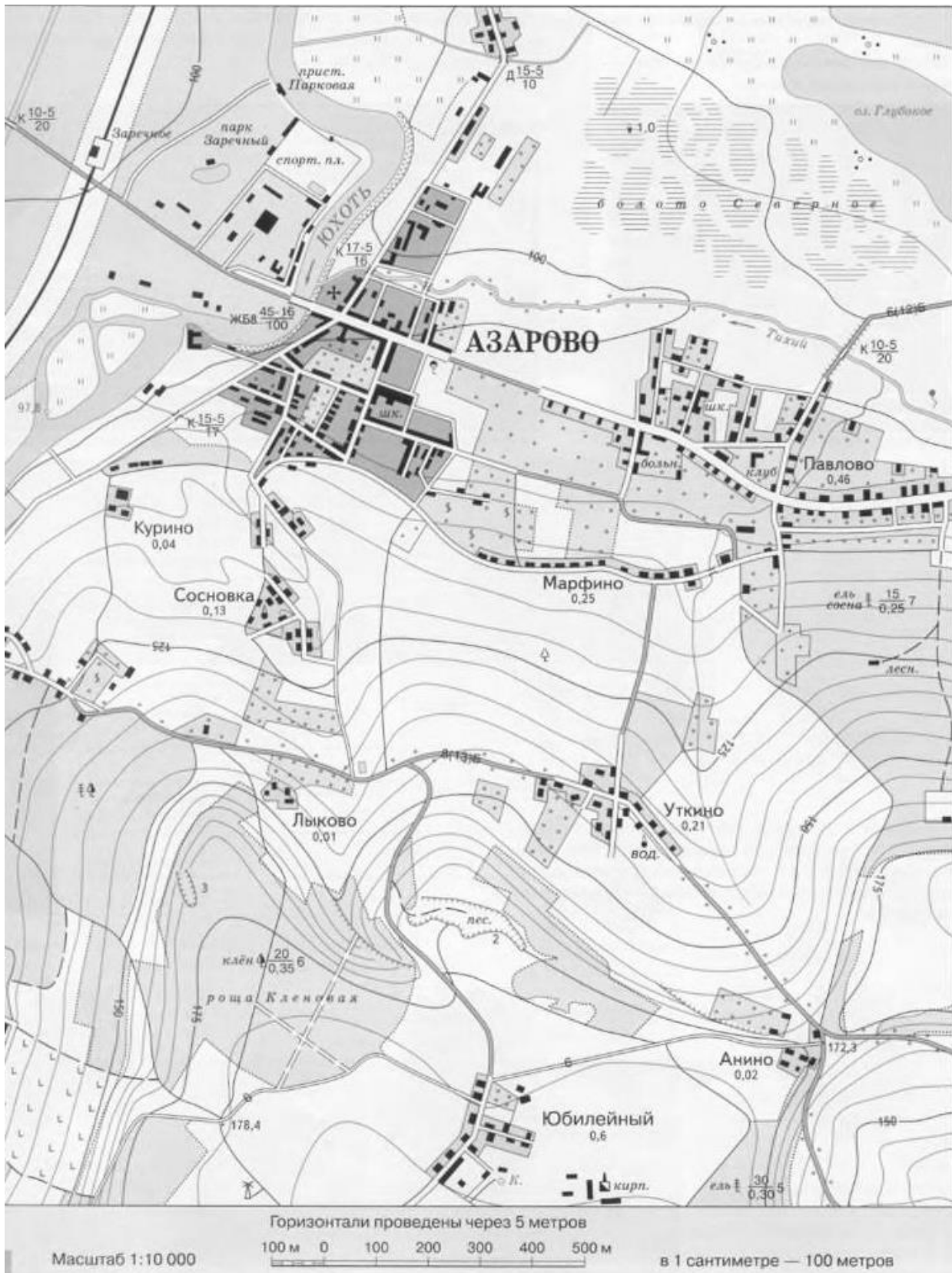
Сянган, конфуцианство, Айны, Сикоку, Чхота-Напур, Калькутта, Кашмир, Канберра, Кокодо, Калгурли, Астана, Байконур, Актобе, Мангышлак, Алаколь, Мугоджарам, Карпентария, вомбат, кукабара, Уйгуры, дунгане, штаты, Мумбаи, Ченнаи, синтоизм, Мицубиси, император, Кавасаки, Хэйлунцзян, Чунцин.

Ответ	Количество баллов

Каждое верно слово – 1 балл, каждое неверное слово – минус 1 балл.

Максимально: 5 баллов.

Задание 5.



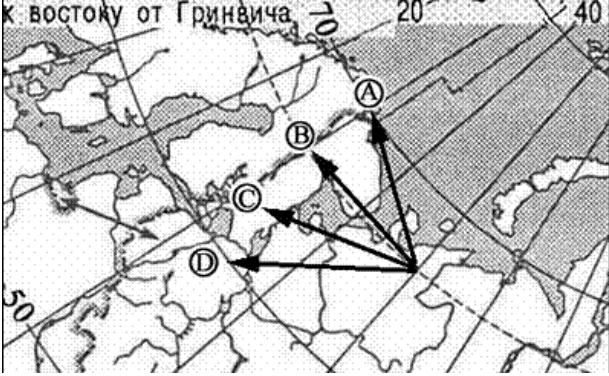
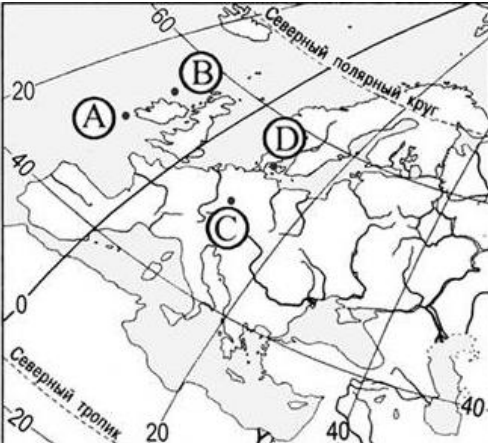
№	Вопрос	Ответ	Баллы
1	Исходя из классификации форм рельефа по высоте над уровнем моря, определите форму рельефа территории, изображенной на карте.		1

2	Как называется масштаб, указанный под картой? В какой вид нужно перевести данный масштаб, чтобы было удобно рассчитать расстояние? Переведите масштаб в нужные единицы.		1 1 1	
5	Какая природная зона изображена на карте?		1	
6	На карте изображено несколько мостов. Найдите самый большой и мощный. Где он сооружен, какие характеристики он имеет?		2	
7	Дайте характеристику дороге, соединяющей населенные пункты Анино – Уткино – Лыково.		2	
8	Опишите лесной массив, расположенный на самом юго-востоке карты.		2	
9	На карте изображен завод. Укажите его специализацию. Какое сырье для производства его продукции есть поблизости от завода?		1 1	
10	Какими способами возможны перемещения людей и грузов в пределах данной местности?		2	
	Итого:		15	

Максимально: 15 баллов.

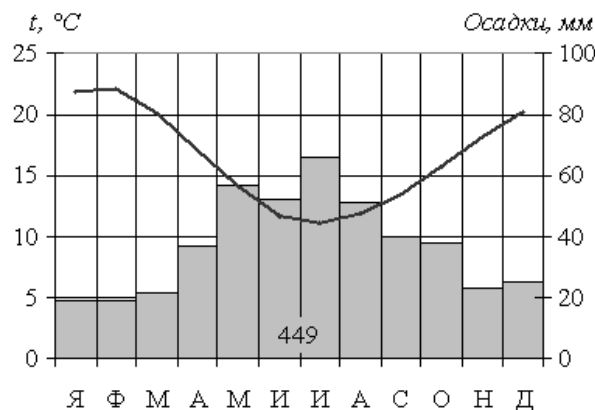
Тестовый тур.

Время выполнения 60 минут

<p>1</p>	<p>Какая стрелка на фрагменте карты России указывает направление на запад?</p>  <p>К востоку от Гринвича 0 20 40</p> <p>50</p> <p>Ответ: <input type="checkbox"/></p>
<p>2</p>	<p>Какая из точек имеет координаты 55° с.ш. и 10° в.д.?</p>  <p>20 40 0 20 40</p> <p>59 Северный полярный круг</p> <p>Северный тропик</p> <p>20 40</p> <p>Ответ: <input type="checkbox"/></p>
<p>3</p>	<p>Большинство верующих какого из перечисленных народов исповедуют христианство?</p> <p>1) тувинцы 2) таджики 3) бразильцы 4) японцы</p> <p>Ответ: <input type="checkbox"/></p>
<p>4</p>	<p>Что из перечисленного является примером нерационального природопользования?</p> <p>1) создание пологозащитных лесополос 2) захоронение бытовых отходов в поймах рек 3) закрепление оврагов 4) капельный полив растений на полях</p> <p>Ответ: <input type="checkbox"/></p>
<p>5</p>	<p>Для какого из перечисленных заливов в наибольшей степени характерно нефтяное загрязнение?</p> <p>1) Бенгальский 2) Мексиканский 3) Анадырский 4) Большой Австралийский</p> <p>Ответ: <input type="checkbox"/></p>

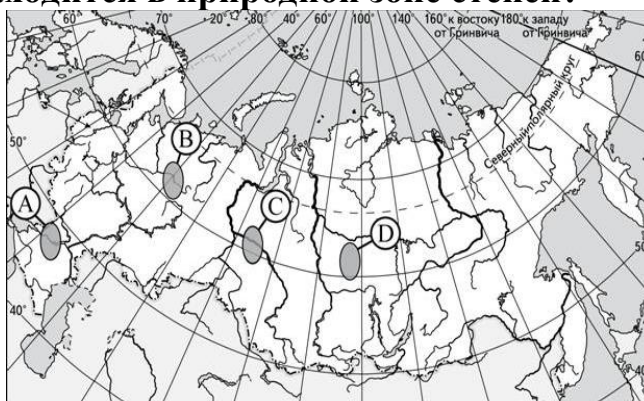
6 Определите годовую амплитуду температуры.

Ответ:



7 Какой из регионов находится в природной зоне степей?

Ответ:



8 Какое утверждение о положении Солнца над горизонтом на разных широтах является верным?

- 1) Над экватором Солнце в полдень всегда находится на высоте 90° .
- 2) Над Северным тропиком Солнце бывает в зените дважды в год.
- 3) Над экватором Солнце бывает в зените в дни равноденствий.
- 4) Над Южным тропиком Солнце бывает в зените в дни равноденствий.

Ответ:

9 Какое утверждение о географическом положении России является верным?

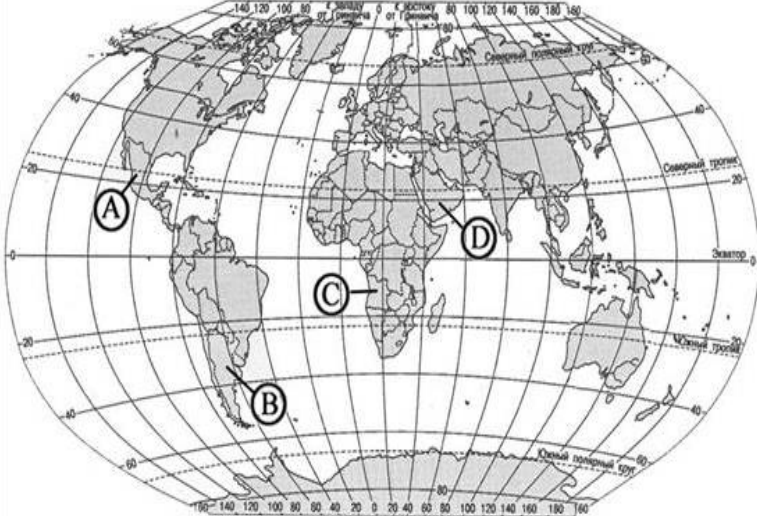
- 1) Крайняя восточная материковая точка находится на полуострове Камчатка.
- 2) Территория омывается водами морей четырёх океанов.
- 3) На северо-западе граничит с Финляндией.
- 4) Крайняя южная точка находится на границе с Казахстаном.

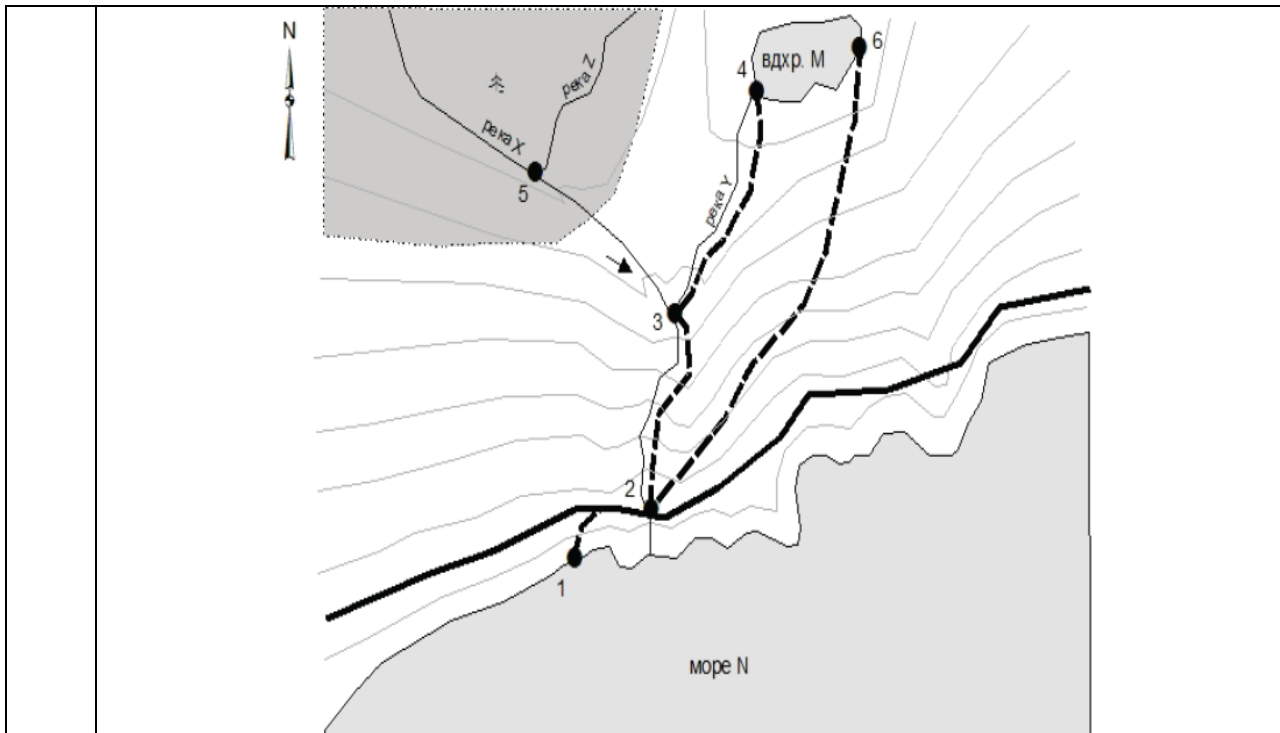
Ответ:

10 Какое утверждение о населении Бразилии является верным?

- 1) Наибольшая часть населения размещена во внутренних районах страны.
- 2) Испанский язык – государственный язык в стране.
- 3) По числу жителей входит в первую пятерку стран мира.
- 4) Большинство населения составляют сельские жители.

Ответ:

<p>11</p>	<p>Какая буква обозначает государство, название которого в переводе на русский язык означает «красная роза»? (Это название дал первый президент страны Агостиньо Нето, который хотел подчеркнуть социалистическую её ориентацию).</p>  <p>Ответ: <input type="text"/></p>				
<p>12</p>	<p>Расположите страны мира в той последовательности, в которой их жители встречают Новый год.</p> <p>1) Индия 2) США 3) Великобритания</p> <p>Ответ: <input type="text"/><input type="text"/><input type="text"/></p>				
<p>13</p>	<p>Самый крупный район влажных экваториальных лесов занимает:</p> <p>1) юго-восточную часть Евразии; 2) бассейн реки Конго в Африке; 3) северную часть Австралии; 4) бассейн реки Амазонки в Южной Америке.</p> <p>Ответ: <input type="text"/></p>				
<p>14</p>	<p>Сопоставьте цифры (от 1 до 6), которыми обозначены города на карте, с их характеристиками, данными ниже. Названия городов в описании обозначены латинскими буквами. Определите названия городов 1 и 2.</p> <p>Город А находится южнее города D. Из города В можно добраться в город D, двигаясь по дороге с севера на юг. Города С и D расположены в местах слияния двух рек. Город Е связан дорогой с городом А. Город Е расположен южнее города F.</p> <p>Ответ: <table border="1" data-bbox="363 1868 480 1964"><tr><td>1</td><td>2</td></tr><tr><td></td><td></td></tr></table></p>	1	2		
1	2				



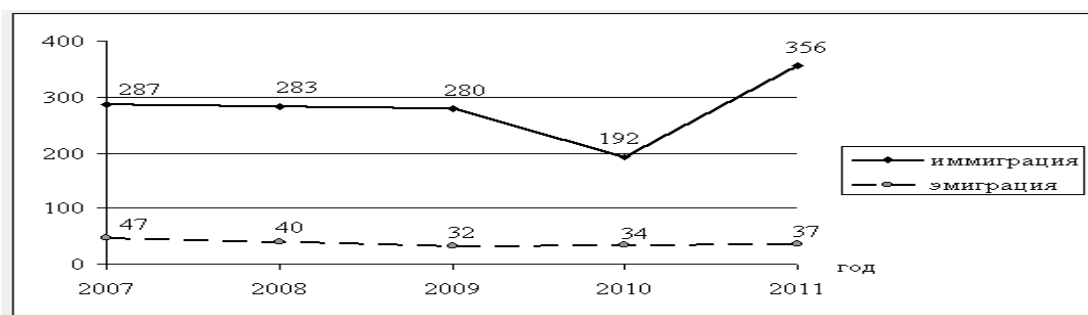
15 Выберите из списка страны, в которых могли бы происходить события, описанные в следующих книгах: А. В. Уикли. «Среди бескрайних прерий»; Б. А. Мортимер. «Рай для лемурув».

- 1) Канада
- 2) США
- 3) Малагасийская республика
- 4) Зимбабве
- 5) Танзания

Ответ:

А	Б
<input type="checkbox"/>	<input type="checkbox"/>

16 Рассчитайте сальдо миграций в России в 2008 году.



Ответ:

17 Какое слово пропущено в тексте?

Явление трансформации естественных природных ландшафтов в искусственные под влиянием застройки обозначают понятием «..... природы». тесно связана со многими политическими процессами в государстве (а часто и собственно с появлением этого института). Например, Р. Адамс считает наличие городов неизменным признаком государства. Гринин и Коротаев указывают на тесную взаимосвязь между и эволюцией государственности. Так, первая фаза наблюдались в IV — нач. III тыс. до н. э. и была связана со становлением ранних государств. Появление первого развитого государства (в середине II тыс. до н. э. в Египте) оказало заметное влияние на динамику: в XIII в. до н. э. численность городского населения мира впервые превысила 1 млн чел.

Приток сельского населения в города опережает потребность в рабочей силе, что часто приводит к росту безработицы, обострению социально-экономических проблем.

Ответ: _____

18 Какое слово пропущено в тексте?

..... (из тур. или персидск. языка) — природная маслянистая горючая жидкость со специфическим запахом, состоящая в основном из сложной смеси углеводов различной молекулярной массы и некоторых других химических соединений. Относится к каустобиолитам (ископаемое топливо). Подавляющая часть месторождений приурочена к осадочным породам. Цвет варьирует в буро-коричневых тонах (от грязно-жёлтого до тёмно-коричневого, почти чёрного), иногда она бывает чисто чёрного цвета, изредка встречается, окрашенная в светлый жёлто-зелёный цвет, и даже бесцветная, а также насыщенно-зелёная, имеет специфический запах, также варьирующий от легкого приятного до тяжелого и очень неприятного. Цвет и запах в значительной степени обусловлены присутствием азот-, серо- и кислородсодержащих компонентов, которые концентрируются в смазочном масле и нефтяном остатке. Большинство углеводов в чистом виде лишено запаха и цвета.

Ответ: _____

19	Узнайте страну по описанию. <p>Одна из главных морских держав мира занимает западную и северную часть крупного полуострова. По форме правления – конституционная монархия. Немногочисленное, однородное по национальному составу население исповедует протестантство. Большую часть территории занимают горы, разрезанные узкими долинами; много озер. По таким показателям, как выработка электроэнергии на душу населения, добыча и экспорт нефти и газа, алюминия и ферросплавов, страна занимает одно из ведущих мест в мире.</p> <p>Ответ: _____</p>
20	Какое слово пропущено в тексте? <p>Природные — это естественные, необходимые для существования человеческого общества и используемые в хозяйстве. Одна из центральных проблем науки — обеспечение населения необходимыми сейчас и в будущем, анализ и оценку которых производят география и экономика. По видам хозяйственного использования различают энергетические (горючие полезные ископаемые, гидроэнергоресурсы, биотопливо, ядерное сырье); неэнергетические (минеральные, водные, земельные, лесные, рыбные); сельскохозяйственного производства (агроклиматические, земельно-почвенные, растительные — кормовая база, воды орошения, водопоя и содержания).</p> <p>Ответ: _____</p>

Правильно выполнение задания – 1 балл.

Максимально – 20 баллов.