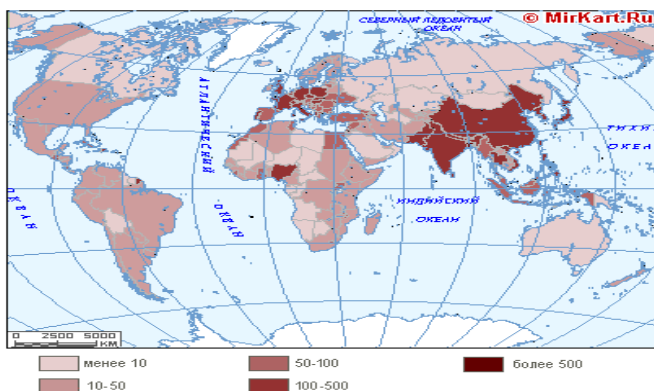


ТЕСТОВЫЙ ТУР

10-11 КЛАСС

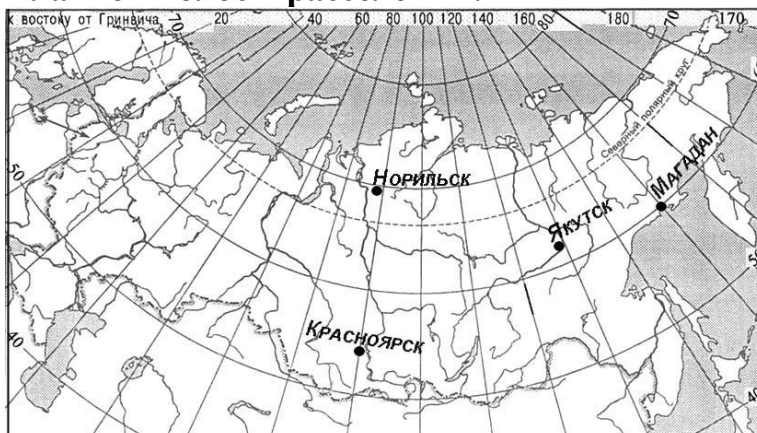
1. **Какое из этих названий не является названием высшей точки планеты:**
А) Демавенд В) Сагарматха
Б) Эверест Г) Джомолунгма
2. **Объектом изучения какой из этих географических наук является рельеф:**
А) геоморфология В) биогеография
Б) гидрология Г) геоэкология
3. **Не относятся к ледниковым формам рельефа:**
А) камы В) моренная гряда
Б) троговая долина Г) глетчер
4. **Типичные черноземы наиболее распространены в:**
А) Московской области В) Астраханской области
Б) Тамбовской области Г) Республике Калмыкия
5. **Кто из нижеперечисленных ученых написал труд «Русский чернозем» и предложил современную генетическую классификацию почв:**
А) А.И. Воейков В) П.А. Кропоткин
Б) В.В. Докучаев Г) И.Д. Черский
6. **Уголь какого из перечисленных бассейнов может использоваться в производственном цикле черной металлургии:**
А) Подмосковского В) Иркутского
Б) Канско-Ачинского Г) всех вышеперечисленных
7. **В какой горной системе количество высотных природных поясов будет больше:**
А) Уральские горы В) Саяны
Б) Гималаи Г) Скандинавские горы
8. **Какое явление изображено на карте:**



- А) природные зоны В) плотность населения мира
- Б) почвы мира Г) годовое количество осадков

**ЗАДАНИЯ МУНИЦИПАЛЬНОГО ЭТАПА ВСЕРОССИЙСКОЙ ОЛИМПИАДЫ
ШКОЛЬНИКОВ ПО ГЕОГРАФИИ**

9. Явление, когда в каждый момент суток одинаковое время бывает лишь в точках, расположенных на одном меридиане, называется:
- А) местным временем В) поясным временем
Б) декретным временем Г) летним временем
10. О каком полезном ископаемом мы говорим, когда упоминаем о названиях таких его бассейнов залегания как: Минусинский, Южно-Якутский, Ленский, Тунгусский:
- А) газ В) уголь
Б) нефть Г) железная руда
11. О каком явлении циркуляции атмосферы идет речь: «Имеет высокое давление в центре вихря, воздух движется от центра к окраинам, отклоняясь по часовой стрелке, погода малооблачная и засушливая летом, ясная и морозная зимой, наибольшую активность проявляют на юге Русской равнины и в Восточной Сибири»:
- А) антициклон В) холодный фронт
Б) теплый фронт Г) циклон
12. Сколько субъектов Российской Федерации насчитывается в настоящее время:
- А) 88 В) 79
Б) 89 Г) 85
13. Самый большой по площади территории субъект Российской Федерации – это:
- А) Красноярский край В) Новосибирская область
Б) город Москва Г) Республика Саха (Якутия)
14. Производство какого вида продукции транспортного машиностроения представлено в таких центрах как Брянск, Людиново, Коломна, Муром, Калуга:
- А) пассажирских вагонов В) электровозов
Б) вагонов метро Г) тепловозов
15. Какой из обозначенных на карте России городов расположен в пределах главной полосы расселения?



- А) Красноярск В) Якутск
Б) Норильск Г) Магадан

**ЗАДАНИЯ МУНИЦИПАЛЬНОГО ЭТАПА ВСЕРОССИЙСКОЙ ОЛИМПИАДЫ
ШКОЛЬНИКОВ ПО ГЕОГРАФИИ**

- 16. Размещение сахарного завода будет в основном тяготеть к:**
А) потребителю В) транспортным путям
Б) сырью Г) трудовым ресурсам
- 17. Выберите регион, в котором представлено наибольшее количество республик:**
А) Европейский Север В) Поволжье
Б) Волго-Вятский район Г) Северный Кавказ
- 18. В последнее время обострились проблемы одного из видов городов, название которых уже устоялось в отечественной экономической географии. К их особенностям можно отнести наличие так называемых градообразующих предприятий (т.е. предприятия, на которых занято более 30% трудоспособного населения данного города и инфраструктурные объекты этого предприятия обслуживают более 30% населения данного города). Как называются эти города в экономической географии:**
А) агломерации В) моногорода
Б) города-спутники Г) наукограды
- 19. Перед Вами стоит задача, где разместить новое предприятие по выплавке алюминия. Известно, что в данном месте сырьевым фактором можно пренебречь. В каком из предложенных регионов России Вы бы это сделали:**
А) Рязанская область В) Калининградская область
Б) Ставропольский край Г) Иркутская область
- 20. Плесецк, Капустин Яр, Свободный, Восточный. Выберите к какой категории объектов по назначению они относятся:**
А) это центры автомобилестроения
Б) это космодромы и центры испытания ракет и боевой техники
В) крупные транспортные узлы
Г) места падения метеоритов
- 21. Укажите среди перечисленных регион России с максимальной долей городского населения:**
А) Белгородская область В) Мурманская область
Б) Краснодарский край Г) Республика Дагестан
- 22. Определите, к традиционным занятиям какого из перечисленных народов России относятся оленеводство и рыболовство:**
А) башкиры В) ненцы
Б) калмыки Г) кабардинцы
- 23. Какая река в Калужской области протекает по наибольшему количеству районов (муниципальных образований):**
А) Ока В) Нара
Б) Угра Г) Жиздра
- 24. К какому бассейну стока рек относится административный центр Калужской области?:**
А) Атлантического океана В) Северного Ледовитого океана
Б) Тихого океана Г) Внутреннего стока

- 25. В Калужской области есть административные центры районов, названия которых не совпадают с названиями районов. Выберите строку, в которой указаны такие райцентры:**
- А) Кондрово и Киров В) Бетлица и Кондрово
Б) Киров и Бетлица Г) Обнинск и Кремёнки
- 26. Какой уникальный природный комплекс на Оке находится между Калугой и Тарусой:**
- А) Кольцовские пещеры В) Андреевский карьер
Б) Калужско-Алексинский каньон Г) Залидовские луга
- 27. Выберите из списка территорию, лишённую экономической и политической самостоятельностью:**
- А) Сейшельские острова В) Острова Зелёного мыса
Б) Бермудские острова Г) Багамские острова
- 28. Доля современной структуры занятости в высокоразвитых странах характеризуется наибольшей долей занятых в ...:**
- А) сельском хозяйстве В) транспортном комплексе
Б) промышленном производстве Г) сфере услуг
- 29. ООО «НЛМК-Калуга» – электрометаллургический завод нового поколения, крупнейший в Центральном регионе России производитель стального проката строительного назначения – расположен в ...:**
- А) Жуковском районе В) Боровском районе
Б) Малоярославецком районе Г) городском округе Калуга
- 30. Это древнейшее государство относится к региону Восточной Африки. Находится на нагорье, в полосе разломов. Здесь часты землетрясения, кратеры потухших вулканов полуразрушены и заняты озёрами. Страна сельскохозяйственная, особое место среди цитрусовых, гранатов, зерновых и других культур занимает выращивание и сбор кофе. Выберите из списка столицу этой страны:**
- А) Каир В) Киншаса
Б) Аддис-Абеба Г) Триполи

**ЗАДАНИЯ МУНИЦИПАЛЬНОГО ЭТАПА ВСЕРОССИЙСКОЙ ОЛИМПИАДЫ
ШКОЛЬНИКОВ ПО ГЕОГРАФИИ**

**ТЕОРЕТИЧЕСКИЙ ТУР
10-11 КЛАСС**

1. САМЫЕ-САМЫЕ

На каждом материке есть свои уникальные географические объекты. Ответьте на поставленные вопросы и запишите названия географических объектов в соответствующие ячейки таблицы.

Номер вопроса	Австралия	Африка	Евразия	Северная Америка	Южная Америка
1.					
2.					
3.					
4.					

1. Запишите названия самых полноводных рек приведённых в таблице материков. Подчеркните самую полноводную из них.
2. Запишите названия самых длинных рек приведённых в таблице материков. Подчеркните самую протяжённую из них.
3. Запишите названия самых больших по площади озёр приведённых в таблице материков. Подчеркните самое большое из них.
4. Запишите названия самых высоких вершин приведённых в таблице материков. Подчеркните самую высокую из них.

2. РАЗМЕЩАЕМ ПРЕДПРИЯТИЯ

Представьте, что Вы готовите аналитическую записку руководству транснациональной корпорации по возможностям развития бизнеса. Перед Вами стоит задача обоснования размещения новых предприятий с точки зрения экономической эффективности производства (главным образом, за счёт сравнительно низкой себестоимости, специфичной для соответствующей отрасли).

Для оптимального размещения предприятий, различных отраслей, производящих следующие виды продукции:

- 1) первичный алюминий;
- 2) лекарственные препараты;
- 3) нефтехимическая продукция;
- 4) металлическая медь;
- 5) швейные изделия.

Приведите по одной стране из приведённого ниже списка для каждого из видов продукции с обоснованием ключевой причины Вашего выбора.

Список стран: *Бангладеш, Замбия, Израиль, Исландия, Катар.*

Страна	Производство	Обоснование

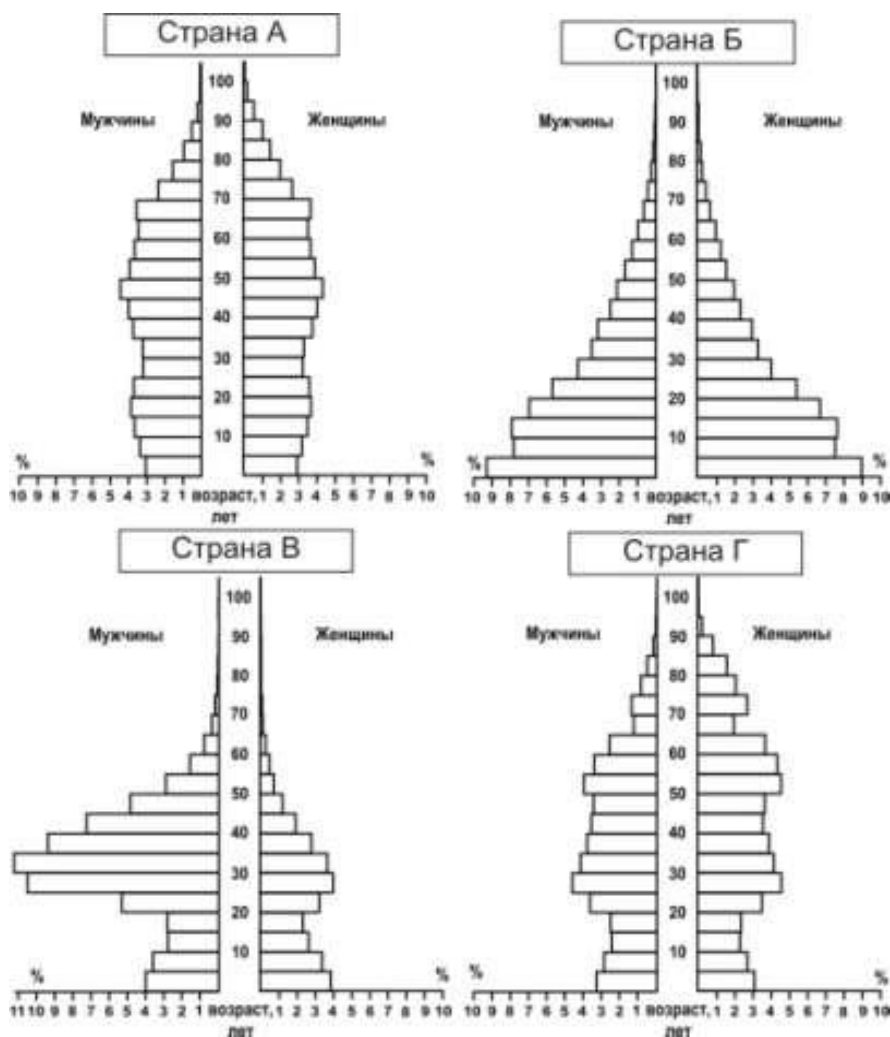
ЗАДАНИЯ МУНИЦИПАЛЬНОГО ЭТАПА ВСЕРОССИЙСКОЙ ОЛИМПИАДЫ ШКОЛЬНИКОВ ПО ГЕОГРАФИИ

3. ЧЬЯ ПИРАМИДКА

На рисунке показаны возрастно-половые пирамиды, составленные для населения четырёх стран:

- ~ Объединённых Арабских Эмиратов,
- ~ Афганистана,
- ~ Дании,
- ~ России.

Для каждой из перечисленных стран определите соответствующую ей пирамиду. В каждом случае поясните, какие особенности возрастной структуры населения, и какие особенности воспроизводства населения в этих странах позволили Вам сделать выбор. Ответ оформите в виде таблицы.



**ЗАДАНИЯ МУНИЦИПАЛЬНОГО ЭТАПА ВСЕРОССИЙСКОЙ ОЛИМПИАДЫ
ШКОЛЬНИКОВ ПО ГЕОГРАФИИ**

Таблица для ответа

Страна	Обозначение пирамиды на рисунке	Особенности воспроизводства населения
ОАЭ		
Афганистан		
Дания		
Россия		

4. БИО-ФЛАГИ

Найдите соответствие между изображёнными на флагах государств мира растениями и животными, и следующими государствами:

Канада, Папуа-Новая Гвинея, Ливан, Египет.

Как называются эти растения и животные?

Ответ запишите в виде таблицы.

А.



В.



Б.



Г.



Таблица для ответа

Страна	Обозначение флага на рисунке	Растение / Животное
Канада		

**ЗАДАНИЯ МУНИЦИПАЛЬНОГО ЭТАПА ВСЕРОССИЙСКОЙ ОЛИМПИАДЫ
ШКОЛЬНИКОВ ПО ГЕОГРАФИИ**

Папуа-Новая Гвинея		
Ливан		
Египет		

5. СТОЛИЦЫ: ДАЛЁКИЕ И БЛИЗКИЕ

Определите столицы и государства. Запишите названия столиц и соответствующих им государств в порядке удаления (от самого близкого к самому дальнему) от аудитории, в которой Вы находитесь в настоящее время.

1. Столица самого большого федеративного государства в мире.
2. Столица, в которой находится штаб-квартира ОПЕК.
3. Столица самого большого государства, лежащего полностью в южном полушарии.
4. Столица государства с самым большим в мире населением, исповедующим ислам.
5. Столица самого большого государства в Зарубежной Европе.

ОТВЕТ ОФОРМИТЕ В ВИДЕ ЗАПОЛНЕННОЙ ТАБЛИЦЫ

(государства и их столицы расположите в порядке удаления от Вашей аудитории)

Название столицы	Название государства